

2. SINIF 2. DÖNEM 1. HAFTA

Suat sabah gözlerini açtığı-
nda odasının perdesini açmış
ve gözlerini inanmamıştı
Bembeyaz bir örtü kaplamıştı her
bir yanı. Heyecanla annesinin ya-
nına koşmuş ve dışarıyı göstermişti.
Annesi ile dışarı çıkıp kartopu oyna-
mak istiyordu. Annesi gülümseyerek:
"Elbette yavrum, ama önce kahvaltı
yapmamız lazım." dedi. Kahvaltıdan
sonra kartopu oynayan Suat ve an-
nesi çok mutlu görünüyorlardı.



1 ve 2. soruları metne göre cevap-
layalım.

1. Suat sabah uyandığında niçin
gözlerine inanmamış?

- A. Annesi güzel bir kahvaltı hazır-
ladığı için
- B.** Her bir yanı bembeyaz bir örtü
kapladığı için
- C. Annesi ile kardan adam yapa-
cağı için

2. Suat'ın annesinin kartopu oyna-
mak için şartı neymiş?

- A. Önce ödevlerin yapılması
- B. Öğretmenin verdiği kitabın
okunması
- C.** Kahvaltı yapılması

3.

Sarı 

Kalın 

Zayıf 

Yukarıdaki görselleri karşılayan
sözcükler hangi seçenekte veril-
miştir?

- A. ince, yeşil, zayıf
- B. kalın ,sarı, şişman
- C.** sarı, kalın, zayıf

4.



Film bittikten sonra park-
ta oldukça eğlendik. **3**



Film seçiminde oldukça
zorlandık. **2**



Babam hafta sonu sine-
maya götürdü. **1**

Yukarıdaki olayları sıraladığımızda
hangi çocuğun cümlesi ikinci sırada
olur?



5. Aşağıdaki görsellerden hangisinin
adı her zaman büyük harfle baş-
lar?



C.  → özel isim

2. SINIF 2. DÖNEM 1. HAFTA

6.

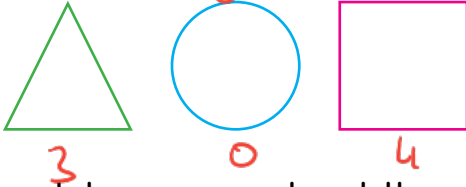


Yukarıda verilen sözcüklerden kaç tanesi ek aldığında kesme işareti kullanılır?

A. 3 B. 2 C. 4

Özel isme gelen ekler kesme işaretiyle ayrılır.

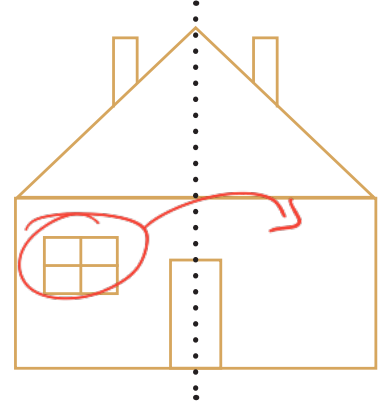
7.



Yukarıdaki geometrik şekiller kenar sayılarına göre azdan çoğa doğru sıralandığında hangisi ikinci sırada olur?

A.  B.  C. 

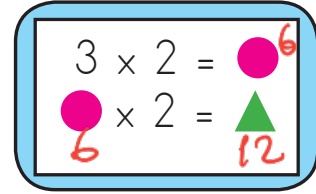
8.



Yukarıdaki simetriyi bozan şekil hangisidir?

A. baca B. kapı C. pencere

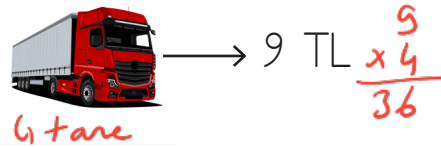

9.



Yukarıdaki çarpma işlemlerine göre $\bullet + \blacktriangle$ işleminin sonucu kaçtır? $6 + 12 = 18$

A. 16 B. 18 C. 14

10.



Yukarıda bir otoparkın araç türlerine göre kullanım ücretleri verilmiştir. Otoparkta 8 motosiklet, 5 araba ve 4 kamyon vardır. Buna göre motosikletler ve arabalar için ödenen ücret ile kamyonlar için ödenen ücretin farkı kaçtır?

A. 31

B. 32 $\begin{array}{r} 32 \\ + 35 \\ \hline 67 \end{array}$

C. 33 $\begin{array}{r} 67 \\ - 36 \\ \hline 31 \end{array}$

2. SINIF 2. DÖNEM 1. HAFTA

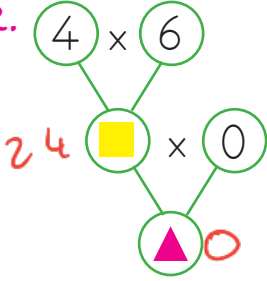
11.

Keçi	9	Koyun
Horoz	36	6
Inek	42	Ayak $6 \times 4 = 24$ $24 + 18 = 42$

Çiftliğimizde 6 koyun, koyunların toplam ayak sayısından 18 fazla başka bir hayvan vardır. Bu hayvan hangisidir?

- A. Keçi B. Horoz C. İnek

12.



Yanda verilen işleme göre $24 + 0$ işleminin sonucu kaçtır?

$$24 + 0 = 24$$

- A. 21 B. 18 C. 24

13.

1. Yaz	A			
2. Kış	B			
3. Sonbahar	C			

Yukarıdaki verilen sebzeler ile mevsimlerin doğru şekilde eşleştirilmesi hangi seçenekte verilmiştir?

- A. 1. A 2. B 3. C B. 1. B 2. A 3. C C. 1. B 2. C 3. A

14. Aşağıdakilerden hangisi beslenme çantamıza koyabileceğimiz ürünlerden biri değildir?

- A. Çorba B. Tost C. Sandviç

15.

..... mevsiminde yenen mandalınanın besin değeri oldukça yüksektir. İfadesinde noktalı yere hangi ifade yazılmalıdır?

- A. yaz B. kış C. ilkbahar

ADI:

SOYADI:

SINIFI:

1	A	B	C
2	A	B	C
3	A	B	C
4	A	B	C
5	A	B	C
6	A	B	C
7	A	B	C
8	A	B	C
9	A	B	C
10	A	B	C
11	A	B	C
12	A	B	C
13	A	B	C
14	A	B	C
15	A	B	C