

Merve, geziye gitmek için hazırlanıyordu. Birden şimşek çaktı. Sonrasında şiddetli bir yağmur başladı. Ardından annesinin telefonu çaldı. Arayan öğretmeni idi. Gezinin ertelendiğini söyledi. Merve, bu duruma çok üzüldü.

1 ve 2. soruyu metne göre cevaplayalım.

1. Merve, nereye gitmek için hazırlanıyordu?

A. Okula

B. Geziye

C. Pikniğe

2. Merve'nin üzülmesinin sebebi aşağıdakilerden hangisidir?

A. En sevdiği arkadaşının geziye gelmemesi

B. Yağmur yağdığı için gezinin ertelenmesi

C. Annesinin geziye gitmesine izin vermemesi

3. Aşağıdaki sözcük çiftlerinin hangisinin tek harften oluşan bir hecesi vardır ?

A. tren

B. stad

C. okul

4.

Kim nereye
Hakan, okula servisle gidiyor.

Yukarıdaki cümlede altı çizili sözcüklerden hangisi aşağıdaki sorulardan birinin cevabı değildir?

A. ne zaman B. nereye C. kim

5.

1. kitap

2. para

3. ağaç

Yukarıdaki sözcüklerin alfabetik sıralaması aşağıdakilerden hangisidir?

A. 1 - 2 - 3

B. 2 - 3 - 1

C. 3 - 1 - 2

6.

3 ünlü harfi bulunmaktadır

Sessiz harfle başlar.

?

Yukarıdaki "?" ile belirtilen yere aşağıdaki varlıklardan hangisinin ismi gelebilir?

A. *Piyano*

B. *uçak*

C. *kaplumbağa*



kaplumbağa

7. İleriye doğru ritmik sayarken 8'den sonra söylediğimiz sayı ile geriye doğru ritmik sayarken 5'ten sonra söylediğimiz sayı arasındaki fark kaçtır?

- A. 3 B. 4 C. 5

$$9 - 4 = 5$$

8. 12'nin altı eksiği kaçtır?

- A. 6 B. 5 C. 4

$$12 - 6 = 6$$

9.



Ali

7'nin 4 fazlası $7 + 4 = 11$



Cenk

15'in 2 eksiği

$$15 - 2 = 13$$

Ali ve Cenk okudukları kitap sayılarını yukarıdaki gibi ifade etmişlerdir. İki çocuğun okudukları kitap sayıları arasındaki fark kaçtır?

- A. 2 B. 3 C. 4

$$13 - 11 = 2$$

12.



3 lira



6 lira



9 lira

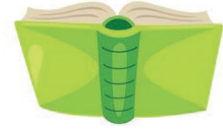


4 lira

Ahmet, bir kırtasiyeye gidip yukarıdaki ürünlerden iki tanesini almıştır. Ahmet'in ödediği ücret aşağıdakilerden hangisi olamaz?

- A. 15 lira (6+9) B. 7 lira (3+4) C. 14 lira

10.



19 sayfa

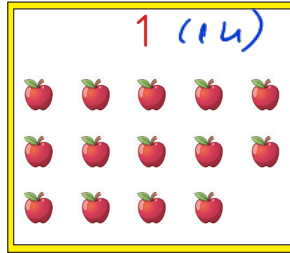
Mehmet, öğretmeninin ödev olarak verdiği kitaptan birinci gün 8, ikinci gün 3 sayfa okumuştur. Mehmet'in bu kitabı bitirmesi için kaç sayfa daha okuması gerekir?

- A. 7 B. 8 C. 9


$$8 + 3 = 11 \text{ (okudu)}$$

$$19 - 11 = 8 \text{ (okuyacak)}$$

11.



1 (14)



2 (9)

Yukarıda bulunan 1 numaralı ve 2 numaralı kutularda varlıklar gösterilmiştir. 1 numaralı ve 2 numaralı varlıklar arasındaki fark kaçtır?

- A. 3 B. 4 C. 5

$$14 - 9 = 5$$

13. Aşağıdaki ifadelerden hangisi yanlıştır?

- A. Bazı elektronik aletleri büyüklerimizin gözetiminde kullanmalıyız.
- B. Elektrikli aletlerle işimiz bittiğinde fişlerini çekmeliyiz.
- C. Çocuk parkları tehlikeli oyun alanlarından birisidir.

14. Aşağıdaki trafik işaret ve levhalarından hangisi "okul geçidi" anlamını taşır?

A.



B.



C.



15. Aşağıdaki ifadelerden hangisi yanlıştır?

- A. Sınıfımızdaki elektronik aletlere öğretmenimize sormadan dokunmamalıyız.
- B. Cadde ve sokaklarda oyun oynamak tehlikelidir.
- C. Bozulan elektronik aletlerimizi kendimiz tamir edebiliriz.

ADI :

SOYADI :

SINIFI :

PUANI :

1	A	B	C	D
2	A	B	C	D
3	A	B	C	D
4	A	B	C	D
5	A	B	C	D
6	A	B	C	D
7	A	B	C	D
8	A	B	C	D
9	A	B	C	D
10	A	B	C	D
11	A	B	C	D
12	A	B	C	D
13	A	B	C	D
14	A	B	C	D
15	A	B	C	D