

Alper yeşil bisikletine biniyordu. Alper'in karşısına aniden yavru bir köpek çıktı. Alper bisikletini dikkatli sürdüğü için hemen durdu. Yavru köpeği yolda biraz sevdi. Minik dostu ile oynadıktan sonra onu parkın kenarına koydu.



1. ve 2. soruları metne göre cevaplayalım.

1. Alper bisikletini sürerken niçin aniden durmuş?

- A. Karşısına aniden araba çıktığı için
- B. Karşısına aniden yavru bir köpek çıktığı için
- C. Dinlenmek için

2. Alper minik dostu ile oynadıktan sonra onu nereye bırakmıştır?

- A. Parkın kenarına
- B. Yolun kenarına
- C. Sokağın köşesine

3.



Defterlerimize 7 harf, 3 heceden oluşan bir sözcük yazalım.

Hangi öğrencinin defterine yazdığı sözcük doğrudur?

- A. palyaço
- B. araba
- C. zürafa

4.



- O-to-mo-bil
- kü-tüp-ha-ne
- ark-a-daş

Emre, sembollerle belirtilen sözcüklerden hangisini hecelerine yanlış ayırmıştır?

- A.
- B.
- C.

5.



Aşağıdakilerden hangisi yukarıdaki sözcüklerin zıt anlamlılarından biri değildir?


- A. uslu
- B. tembel
- C. alçak



Aşağıdakilerden hangisi verilen kelimelerle oluşturulmuş anlamlı ve kurallı bir cümledir?

- A. Eve geldi ablam erken.
B. Ablam eve erken geldi.
C. Erken geldi eve ablam.

7.



Yukarıdaki toplama işlemlerinden kaç tanesinin sonucu aynıdır?

- A. 2 B. 3 C. 4

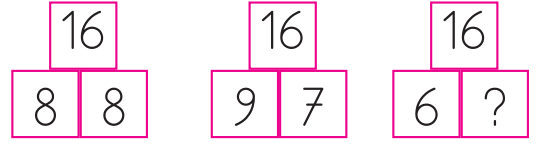
10.



Ayça Hanım misafirleri için hazırladığı meyve tabağına yukarıda verilen meyveleri koymuştur. Tabaktaki tüm meyvelerin aynı sayıda olması için hangisi yapmalıdır?

- A. 2 elma çıkarıp 2 muz koymalı
B. 1 elma çıkarıp 1 muz koymalı
C. 1 kayısı ekleyip 1 elma çıkarmalı

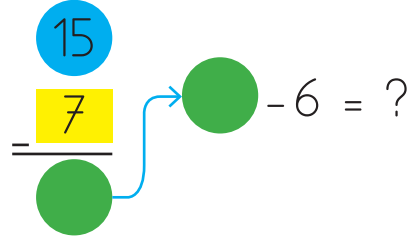
8.



Yukarıdaki kutulara göre "?" yazan yere hangi sayı gelmelidir?

- A. 7 B. 8 C. 10

9.



Verilenlere göre "?" yazan yere hangi sayı gelmelidir?

- A. 2
B. 3
C. 4

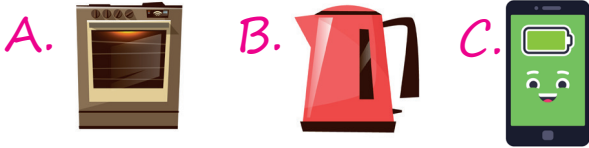
11. 5'ten başlayarak ileriye doğru birer ritmik sayarken 3. ve 4. sayıların toplamı kaçtır?

- A. 16
B. 17
C. 15

12. Kalemlüğimde 12 kırmızı kalem var. Kırmızı kalemlerimden 4 eksik yeşil kalemim daha var. Kalemlüğimde kaç kalemim var?

- A. 20 B. 17 C. 18

13. Aşağıdaki teknolojik araçlardan hangisini tek başımıza kullanabiliriz?



14. Bozulan elektrikli aletleri kendimiz etmemeliyiz.

Yukarıdaki ifadede boş bırakılan yere hangisi yazılmalıdır?

- A. ıslak B. fişe C. tamir

15. Aşağıdakilerden hangisi dikkat etmemiz gereken güvenlik kurallarından biri değildir?

- A. Çakmak gibi yanıcı aletlerle oynamamak
B. Elektrik prizleri ile oynamamak
C. Sofra kurulurken annemize yardım etmek

ADI SOYADI :

SINIFI :

PUANI :

| | | | |
|----|---|---|---|
| 1 | A | B | C |
| 2 | A | B | C |
| 3 | A | B | C |
| 4 | A | B | C |
| 5 | A | B | C |
| 6 | A | B | C |
| 7 | A | B | C |
| 8 | A | B | C |
| 9 | A | B | C |
| 10 | A | B | C |
| 11 | A | B | C |
| 12 | A | B | C |
| 13 | A | B | C |
| 14 | A | B | C |
| 15 | A | B | C |