

İlkbahar mevsiminin sıcak bir günüydü. Mert bahçeye çıktı. Çiçeklerin güzel kokusu çok hoşuna gitti. Daha sonra arkadaşı Efe'yi çağırdı. İki kişi birlikte çok güzel oyunlar oynadılar. Efe ve Mert o gün çok güzel vakit geçirip akşam olunca eve döndüler.

1 ve 2. soruyu metne göre cevaplayalım.

1. Yukarıdaki metinde olay ne zaman geçmektedir?

- A. Soğuk bir kış günü
- B. Sıcak bir yaz günü
- C. Sıcak bir ilkbahar günü

2. Mert bahçeye çıktıktan sonra kimi çağırdı?

- A. Annesini
- B. Babasını
- C. Arkadaşını


3. ★ test

● kara

▲ siyah

Yukarıdaki kelimelerden hangisinin hece sayısı en azdır?


- A. ★
- B. ●
- C. ▲



Yukarıda verilen meslek gruplarının isimlerinin harfleri ile ilgili söylenenlerden hangisi yanlıştır?

- A. 1. meslek grubunun isminde 4 ünsüz harf vardır.
- B. 2. meslek grubunun ismi alfabemizin 14. harfi ile başlar.
- C. 3. meslek grubunun ismi alfabemizin ilk harfi ile başlar.

5. Aşağıdaki hayvanlardan hangisi ismi alfabemizin son harfi ile başlar?



6. la ta sa lık

Yukarıdaki hecelerin tamamı ile aşağıdaki sözcüklerden hangisi oluşturulabilir?

- A. lahana
- B. salatalık
- C. salamura



Aşağıdakilerden hangisi yukarıdaki ritmik sayma verilmeyen semboller için yanlıştır?


A.  $\blacktriangle + 5 = 16$

B.  $\bullet + 3 = 11$

C.  $\blacktriangle + \bullet = 18$

8. Toplamı verilen verilmeyenli bir toplama işleminde verilmeyen eleman hangisidir?

A. eksilen B. toplanan C. toplam

9. 

Yukarıdaki toplama işleminde verilmeyen toplanan kaçtır?

A. 7 B. 8 C. 9




Yukarıdaki toplara kaç top daha eklenirse top sayısı 20 olur?

A. 10 B. 11 C. 12

soruyagesel.com

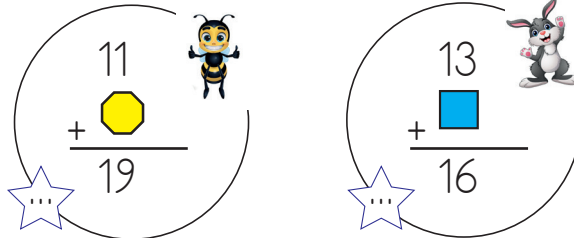
11.



Yukarıdaki sayıların toplamı ile aşağıdaki sayılardan hangisini toplarsak sonuç "18" yapar?

A. 2 B. 3 C. 4

12.



$$\begin{array}{r} 11 \\ + \text{oktagon} \\ \hline 19 \end{array}$$

$$\begin{array}{r} 13 \\ + \text{kare} \\ \hline 16 \end{array}$$


Yukarıdaki toplama işleminde verilmeyen toplananları arı ve tavşan yıldızlara yazmışlardır. Arı ve tavşanın yıldızlara yazdığı sayıların toplamı kaçtır?

A. 11 B. 13 C. 15

13. Aşağıdaki ifadelerden hangisi yanlıştır?

- A. Beslenmemizde her öğün büyük bir öneme sahiptir.
- B. Sebze ve meyveleri yıkamadan yemek sağlığınıza zarar verir.
- C. Her öğünde en çok sevdiğimiz yiyecekleri tüketmeliyiz.

14. Aşağıdaki besinlerden hangisini kahvaltıda tüketilmez?



15. Aşağıdaki ifadelerden hangisi yanlıştır?

- A. Fırın, ocak gibi eşyaları tek başımıza kullanmak tehlikelidir.
- B. Kahvaltıda sadece yumurta yemek yeterlidir.
- C. Yemek yerken görgü kurallarına uymalıyız.

ADI : .....

SOYADI : .....

SINIFI : .....

PUANI : .....

1	A	B	C	D
2	A	B	C	D
3	A	B	C	D
4	A	B	C	D
5	A	B	C	D
6	A	B	C	D
7	A	B	C	D
8	A	B	C	D
9	A	B	C	D
10	A	B	C	D
11	A	B	C	D
12	A	B	C	D
13	A	B	C	D
14	A	B	C	D
15	A	B	C	D