

Ayça okuldan dönünce dedesinin ve ninesinin akşam yemeğine geleceğini öğrenmişti. Heyecanı ve sevinci gözlerinden okunuyordu. Annesi yemeği hazırlamak için bir liste hazırladı. Ayça ve annesi marketin yolunu tuttular. Ayça 7 patates ve 8 havucu bir poşete sığdırmakta zorlanmıştı. Annesi gülümseyerek: "Kızım eğer patates ve havuçları biraz daha küçük seçersen ikisi bir poşete sığabilir." dedi. Ayça markette yaşadıklarını yemekte anlatmış ve hepsi çok gülmüştü.

1 ve 2. soruları metne göre cevaplayalım.

1. Ayça eve geldiğinde niçin heyecanlanmış?

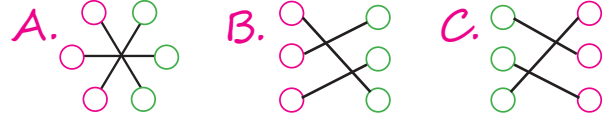
- A. Annesi ile birlikte yemek hazırlayacakları için.
 B. Dedesi ve ninesi akşam yemeğine geleceği için.
 C. Annesi ile markete gidecekleri için.

2. Alışveriş yaparken, annesi Ayça'ya neden gülümsemiş?

- A. Misafirlere hediye aldığı için.
 B. Patates ve havuçları bir poşete sığdıramadığı için.
 C. Markette kaybolduğu için.

3. Ödevler Özel Ad
 Serap Tekil Ad
 Genç Çoğul Ad

Yukarıdaki adlar ile türlerinin eşleştirilmesi nasıl olmalıdır?



4. İlaçlarımı içtim
 Bahçede arkadaşlarla
 Akşam bize gel

Yukarıdaki sözcük gruplarından hangileri cümledir?

- A. B. C.

5. Ay, zavallı kedi!
 Aa, bugün de yağmur yağıyor!
 Yaşasın, sonunda başardım.

- sevinme
 şaşırma
 acıma

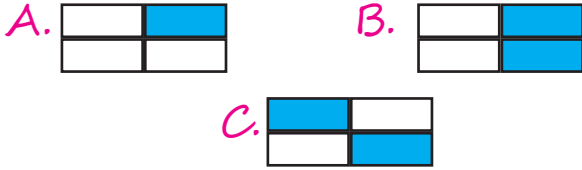
Cümlelerin kutularına, yansıttıkları duyguların sembolleri konulursa nasıl bir görüntü oluşur?

- A.

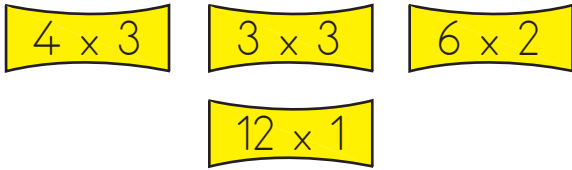
6.

Ecem'ler	Adana'dan
İstanbul'a	18'den

Kesme işaretinin doğru olduğu kutular boyanır mı hangi görüntü oluşur?




7.



Yukarıdaki çarpma işlemlerinden kaç tanesinin sonucu aynıdır?

A. 2 B. 3 C. 4

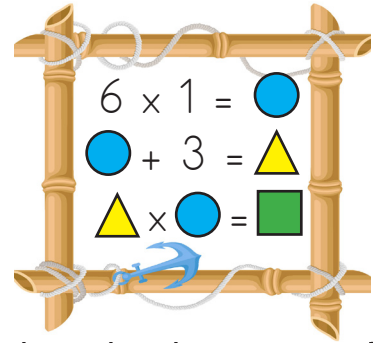
8.




Aşağıdaki işlemlerden hangisinin sonucu yularındaki papatyada bulunmamaktadır?

A. 5×4 B. 6×4 C. 3×4

9.



Yukarıdaki işlemlere göre  yerine gelmesi gereken sayı kaçtır?

A. 64 B. 52 C. 54

10.



Yukarıda verilen kuş yuvalarında 1 rakamı ile belirtilen yuvaya günde 4, 2 rakamı ile belirtilen yuvaya günde 5, 3 rakamı ile belirtilen yuvaya günde 4 kuş konmaktadır. Buna göre 1 haftada 1 ve 2 rakamı ile belirtilen yuvaya konan kuş sayısı ile 3 rakamı ile belirtilen yuvaya konan kuş sayısının farkı kaçtır?

A. 35 B. 32 C. 33

11



Mine

Ben 9 yaşındayım, babamın yaşı benim yaşımın 3 katından 5 fazladır.




Yukarıdaki bilgilere göre Mine ve babasının yaşları farkı kaçtır?

A. 22 B. 23 C. 24

12. 2-A sınıfı bahçede üçer kişilik 7 sıra oluşturmuştur. Buna göre 2-A sınıfının öğrenci sayısı kaçtır?

A. 21 B. 16 C. 12

13.

1. Hava yolu taşıtı **A** 
 2. Deniz yolu taşıtı **B** 
 3. Kara yolu taşıtı **C** 

Yukarıdaki verilen ulaşım türleri ile taşıtların doğru şekilde eşleştirilmesi hangi seçenekte verilmiştir?

A. 1. A 2. B 3. C
 B. 1. C 2. A 3. B
 C. 1. B 2. C 3. A

14. Aşağıdaki ulaşım araçlarından hangisi farklı yolda ilerler?

A. otobüs B. tren C. araba

15.



Yolda kaza yapmış bir araba ile karşılaşan Ali ilk olarak çağırmalıdır.

Yukarıdaki cümle hangisi ile tamamlanabilir?

A. itfaiye B. polis C. ambulans

ADI:

SOYADI:

SINIFI:

1	A	B	C
2	A	B	C
3	A	B	C
4	A	B	C
5	A	B	C
6	A	B	C
7	A	B	C
8	A	B	C
9	A	B	C
10	A	B	C
11	A	B	C
12	A	B	C
13	A	B	C
14	A	B	C
15	A	B	C