

Berk ve ailesi yaz tatili için denize gidecekmiş. Yol çok uzun olduğu için uçağa bineceklermiş. Berk, ilk defa uçağa bineceği için çok heyecanlıymış. Cam kenarına oturan Berk, aşağıya baktığında normalde kocaman görünen otobüs, gemi ve kamyonları küçük görmüş. Bu durum Berk'e çok komik gelmiş. Sonunda yolculuk bitmiş ve denize gelmişler. Ancak o da ne! Uçakta küçük görünen gemiler burada kocamanmış. Ailesi ile yeni deneyimler yaşayan Berk'in unutamayaacağı bir tatil olmuş.

1 ve 2. soruları metne göre cevaplayalım.

1. Berk niçin çok heyecanlıymış?

- A. İlk defa tatile gideceği için.
- B. İlk defa gemiye bineceği için.
- C. İlk defa uçağa bineceği için.

2. Berk'e çok komik gelen durum nedir?

- A. İlk defa gemi görmesi.
- B. Otobüs ve kamyonların küçük görünmesi.
- C. İlk defa tatile gitmesi.

3.



Yukarıdaki sözcükler sözlük sırasına göre sıralandığında hangi sözcük "kitap" sözcüğünden sonra gelir?

- A. 2
- B. 3
- C. 4

4.



Aşağıdaki sözcüklerden hangisi yukarıdaki sözcüklerden herhangi birinin eş anlamlısı değildir?

- A. anı
- B. yürek
- C. cevap

5.



Yukarıdaki sözcüklerden anlamlı ve kurallı cümle oluşturmak için sıralama nasıl olmalıdır?

- A. 4 3 2 1
- B. 3 2 4 1
- C. 3 4 2 1

6. ■ Parkta oynamayı özledim()  
▲ Yemekte çorba() salata ve tavuk vardı.  
● Yarın bize gelir misin()  
Yukarıdaki cümlelerin hangisinde yay ayraçla () belirtilen yere virgül getirilmelidir?

A. ▲      B. ●      C. ■

7.

x	0	1	2	3
5	0	<span style="color: yellow;">▲</span>	10	15
4	<span style="color: blue;">■</span>	4	8	<span style="color: magenta;">●</span>

Yukarıdaki çarpma işleminde sembollerle belirtilen yerlere gelmesi gereken sayıların toplamı kaçtır?

A. 15      B. 16      C. 17


8.

3	x	4	=	<span style="color: yellow;">1</span>
x				
3				
=				

2 □ x 5 = □ 3

Yukarıda verilenlere göre numaralandırılmış kutucuklara sırasıyla hangi sayılar yazılmalıdır?


A. 15, 9, 45      B. 12, 9, 45  
C. 12, 9, 36



Manava giden Ayça 2 kilo havuç, 3 kilo elma, 4 kilo kiraz alırsa kaç lira öder?

A. 72      B. 74      C. 76


10.




6



9



8

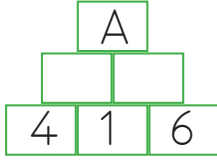


7

Yukarıda bir çiftlikte bulunan hayvanların görselleri ve sayıları verilmiştir. Buna göre horoz ve keçilerin ayak sayıları toplamı ile inek ve koyunların ayak sayıları toplamı arasındaki fark kaçtır?

A. 14      B. 12      C. 10

11.



Üstteki kutularda yan yana olan sayılar çarpılıp bir üst kutuya yazılıyor. Buna göre "A" yerine hangi sayı yazılmalıdır?

- A. 22      B. 23      C. 24

12.



Her gün altı sayfa kitap okuyorum.

Gül'ün 1 hafta sonra okuyacağı 5 sayfası kaldığına göre okuduğu kitap kaç sayfadır?

- A. 42      B. 36      C. 47

13. Aşağıdakilerden hangisini bisiklet kullanırken takmak güvenliğimiz açısından önemlidir?

- A.       B.       C. 

14. Aşağıdakilerden hangisi ambulansı aramak için kullandığımız telefon numarasıdır?

- A. 156      B. 110      C. 112

15.

Toplu taşıma araçlarında ..... yer vermeliyiz.

Yukarıda boş bırakılan yere hangisi yazılamaz?

- A. gençlere      B. hamilelere  
C. yaşlılara

ADI: .....

SOYADI: .....

SINIFI: .....

1	A	B	C
2	A	B	C
3	A	B	C
4	A	B	C
5	A	B	C
6	A	B	C
7	A	B	C
8	A	B	C
9	A	B	C
10	A	B	C
11	A	B	C
12	A	B	C
13	A	B	C
14	A	B	C
15	A	B	C