

Ayça'nın öğretmeni çevre bilincini geliştirmek için bir resim yarışması olacağını duyurmuştu. Ayça bu duruma çok sevinmişti. Yarışmaya ülkedeki tüm öğrenciler katılabilecekti. Geri Dönüşüm ve Doğayı Koruma adlı resim çalışmalarından en çok beğenilene yarışmayı kazanacaktı. Resim yeteneği olan Ayça öncelikle okulda gözlem yaptı. Okuldaki geri dönüşüm kutularının yetersiz olduğunu fark etti. Özellikle kağıt atıklarının geri dönüşümle kullanılmasını amaçlayan bir resim yaptı. Resmi bitiren Ayça çok mutluydu.

1 ve 2. soruları metne göre cevaplayalım.

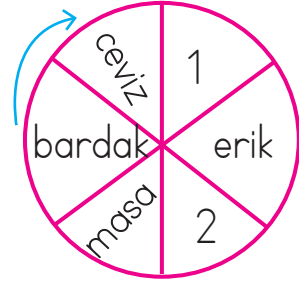
1. Ayça hangi duruma sevinmiştir?

- A. Doğa ve çevre konulu resimleri olduğu için
- B. Öğretmeni resim yarışmasını duyurduğu için
- C. Resim yarışmasını kazandığı için

2. Ayça resim çalışmasında neyi göstermeyi amaçlamıştır?

- A. Kağıt atıklarının geri dönüşümde kullanılmasını
- B. Yarışmada 1. olmayı
- C. Öğretmenini mutlu etmeyi

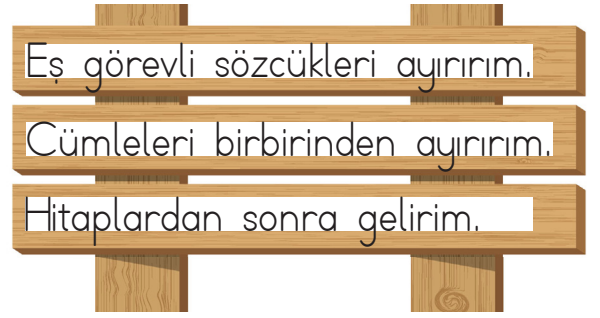
3.



Yukarıdaki sözcükler sözlük sırasına göre ok yönüne doğru dizilmiştir. Buna göre 1 ve 2 numaralı alana sırasıyla hangi sözcükler yazılmalıdır?

- A. dergi nane
- B. defter lale
- C. deste ödev


4.



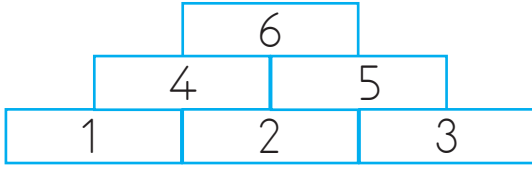
Yukarıdaki anlatılan noktalama işareti hangisidir?

- A. nokta
- B. ünlem
- C. virgöl

5. Aşağıdaki sözcüklerin hangisinin yazımında hata yapılmamıştır?




6.



aldı un yağ şeker marketten annem  
Yukarıdaki sözcüklerden anlamlı ve kurallı olacak şekilde yukarıdaki piramide sırasıyla yazıldığında 2 ve 6 numaralı yere hangi sözcükler gelir?

- A. şeker aldı B. marketten aldı C. yağ aldı

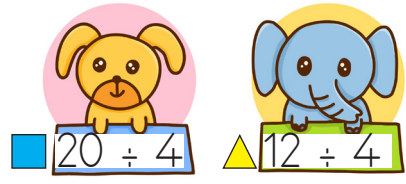
7.



Yukarıda modellenen bölme işlemine göre bölünen kaçtır?

- A. 4 B. 8 C. 2

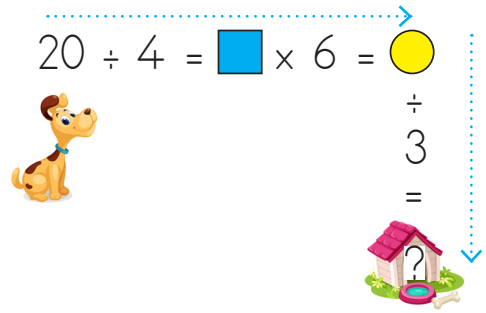
8.



Yukarıda verilen işlemlere göre  $\square \times \triangle$  işleminin sonucu kaçtır?

- A. 18 B. 20 C. 15

9.



Köpek ok yönünde verilen işlemleri yaparak kulübesine vardığı zaman "?" ile belirtilen yere hangi sayı yazılmalıdır?

- A. 5 B. 12 C. 10

10.

papatya



24

lavanta



36

gül



40

Yukarıda isimleri ve adet sayıları yazılı olan çiçekler verilmiştir. Bu çiçeklerden papatyalar üçerli, lavantalar dörderli, güller beşerli gruplara ayrılıp vazolara konulacaktır. Buna göre tüm çiçekler için kaç vazoya ihtiyaç vardır?

- A. 24 B. 25 C. 26

11.

$$\begin{array}{r} 48 \overline{)6} \\ \underline{48} \\ 0 \end{array} \quad \begin{array}{r} \bullet \overline{)4} \\ \underline{0} \\ 4 \end{array}$$

Yukarıda verilen işlemlere göre  yerine hangi sayı yazılmalıdır?

- A. 4      B. 2      C. 6

12.



Yukarıdaki yumurtaların 12 tanesi kırıldı. Kalanların yarısı tüketildi. Geriye kaç yumurta kaldı ?

- A. 7      B. 8      C. 9

13.

Yaşlı bir amcaya otobüste ..... verilmelidir.

Yukarıdaki boşluğa hangisi yazılmalıdır?

- A. ayakta      B. yer      C. inilmelidir

14.

Trafikte bir sorun yaşadığımızda ..... yardım isteriz.

Yukarıdaki boşluğa hangisi yazılmalıdır?

- A. arkadaşımızdan      B. turistlerden  
C. trafik polisinden

15. Aşağıdaki ifadelerden hangisi yanlıştır?

- A. Otomobil kullananlar aşırı hız yapmamalıdır.  
B. 8 yaşından küçükler otomobilin ön koltuğunda oturmalıdır.  
C. Araçtaki tüm yolcular emniyet kemeri takmalıdır.

ADI: .....

SOYADI: .....

SINIFI: .....

1	A	B	C
2	A	B	C
3	A	B	C
4	A	B	C
5	A	B	C
6	A	B	C
7	A	B	C
8	A	B	C
9	A	B	C
10	A	B	C
11	A	B	C
12	A	B	C
13	A	B	C
14	A	B	C
15	A	B	C