

## KALECİ SAMET

O gün futbol maçımız vardı. Samet kaleye geçmek istediğini söyledi. "İlk kalecilik deneyimim olacak," dedi. Bu maçı kazanmak istiyorduk ama Samet pek güven vermiyordu. Maç başladı ve maçı kaybettik. Herkes üzgündü. Kimse Samet'i suçlamadı. Çünkü ilk defa kalecilik yapmıştı. Onu başarılı olmadığı bu konuda suçlamamız yanlış olacaktı. Aksine bu yönünü geliştirmesi için ona destek olduk. Samet bu desteğimiz için bize teşekkür etti.



1, 2 ve 3. soruları metne göre cevaplayalım.

1. Samet, kaleye geçerken ne söylemiş?

- A. Çok tedirginim.
- B. Bana pek güvenmeyin.
- C. İlk kalecilik deneyimim.

2. Takım, maçı kaybedince ne yaptı?

- A. Herkes Samet'i suçladı.
- B. Kimse Samet'i suçlamadı.
- C. Oturup takımca ağladılar.

3. Yukarıdaki metnin ana fikri aşağıdakilerden hangisi olabilir?

- A. İnsanları zayıf olduğu bir konuda suçlamak yerine, zayıf yönünü geliştirmesi için desteklemeliyiz.
- B. İyi olmadığı bir işte çalışmak yerine o işi bırakmalıyız.
- C. Futbolda iyi olmayan biri kalecilik yapmamalıdır.


4. Emir ile Elif "Hadi Zıttını Bul" oyunu oynamaktadır. Emir, Elif'in söylediği kelimenin zıt anlamlısını bulmaktadır.



Buna göre Emir hangi sözcüğün zıt anlamlısında hata yapmıştır?

- A. kibar
- B. hüzün
- C. cömert

5.



Buse Öğretmen, her sembole karşılık bir harf gelecek şekilde şifreli kelime oluşturmuştur.

Buse Öğretmen'in şifrelediği kelime aşağıdakilerden hangisi olabilir?

- A. KAPAK
- B. KALEM
- C. KAŞIK

6. 

1	beyaz		adam
2	güçlü		portakal
3	yarım		elbise





Verilen ön adları, numaralarını kullanarak uygun sözcüklerle eşleştirdiğimizde sıralamanın son görünüşü aşağıdakilerden hangisi gibi olur?

- A. 







3
2
1
- B. 

1
3
2
- C. 

2
3
1

7.  Onu neden almadın?  
 Burnu kanıyordu.  
 O kalem Ahmet'in mi?  
 Bu, sana gelir.

Sembollerle belirtilen cümlelerin hangilerinde adın yerine kullanılan sözcük bulunmaktadır?

- A.  
- B.  
- C.  

8.  Hangi takımı tutuyorsun  
 Ne demek istediğimi anlamadı  
 Niçin gelmediğimi bilmiyordu  
 Kaç kişi geldi

Yukarıdaki cümlelerden sonuna aynı noktalama işareti gelmesi gerekenler eşleştirilecektir. Eşleştirme aşağıdakilerden hangisi gibi olmalıdır?

- A. 

○
○
○
○
- B. 

○
○
○
○
- C. 

○
○
○
○

9. Aşağıdaki cümlelerin hangisinde yazım yanlışı yapılmıştır?
- A. İstanbullu arkadaşım yarın yanıma gelecek.  
B. Ankaranın en güzel yerinde oturuyorum.  
C. Aslılar parka gitti.

10. 

<span style="border: 1px solid black; padding: 2px;">kirbit</span>	<span style="border: 1px solid black; padding: 2px;">tiren</span>	<span style="border: 1px solid black; padding: 2px;">büsküvi</span>
--	---	---

Yukarıdaki sözcüklerin doğru yazılışları hangi seçenekte verilmiştir?

- A. Kirbit - Tiren - Büsküvi  
B. Kibrit - Tren - Bisküvü  
C. Kibrit - Tren - Bisküvi

## 11. SORUYA GEL



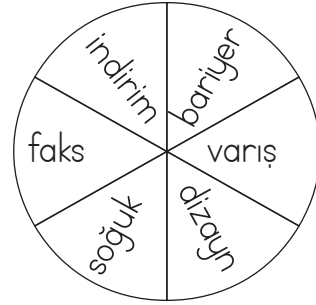
Soner Öğretmen her gün bir gruba araştırma ödevi vermektedir. Sare, Ebrar ve Çiğdem'in bulunduğu gruba atasözleri ve deyimlerle ilgili ödev vermiştir. Araştırma ödevi için yukarıdaki kartları, arka yüzü çevrili şekilde masaya koymuştur. Arka yüzlerinde 1'den 6'ya kadar numaralar yazılı kartlardan üçünün de ikişer tane seçmesini istemiştir. Kartlar hakkında şu bilgiler verilmiştir:

- Tek sayıların ön yüzünde deyim, çift sayıların ön yüzünde atasözü yazmaktadır.

Sare sadece tek sayılı kartları, Ebrar sadece çift sayılı kartları seçmiştir. Çiğdem'in seçtiği iki kartın ön yüzünde aşağıdakilerden hangileri yazıyor olabilir?

- A. Üzüm üzüme baka baka kararır.  
Elini eteğini çekmek.
- B. Sakla samanı gelir zamanı.  
Ağaç yaş iken eğilir.
- C. Ağzı kulaklarına varmak.  
Etekleri tutuşmak.

12. Çarktaki, yabancı dilden dilimize giren sözcüklerin olduğu bölüm kırmızıya boyanacaktır.



Buna göre çarkın son görünümü nasıl olur?

- A. B. C.

13. Aşağıdaki sorulardan hangisini hikayenin unsurlarını bulmak için kullanmayız?

- A. Kim? B. Nerede?  
C. Niçin?

14. Merve, Antalya'ya köpeği Kumsal'ı görmeye gitti.

Yukarıdaki tümcede kaç tane özel ad vardır?

- A. 1 B. 2 C. 3

15. Gözünde tütme" sözcüğünün anlamı aşağıdakilerden hangisidir?

- A. Acele etmek B. Çok özlemek  
C. Sinirlenmek


1.

$$\begin{array}{r} 22 \\ \times 14 \\ \hline \end{array}$$

Bu çarpma işleminde 2. çarpan 3 arttırılıp 1. çarpan 2 azaltılırsa çarpım nasıl değişir?

- A. 40 artar.                      B. 32 artar.  
C. 48 azalır.

2.



Yukarıdaki her bir kitap 75 gramdır. Çantanın, içindeki kitaplarla toplam ağırlığı 210 gramdır. Görseldeki kitaplar da çantanın içine koyulursa çanta toplam kaç gram olur?

- A. 580                              B. 620  
C. 660

3.

$$\begin{array}{c} \boxed{A} \times \boxed{10} \\ \diagdown \quad \diagup \\ \boxed{60} \end{array}$$

$$\begin{array}{c} \boxed{B} \times \boxed{5} \\ \diagdown \quad \diagup \\ \boxed{30} \end{array}$$




Bu çarpma zincirinde  $A \times B$  kaçtır?

- A. 36                              B. 42  
C. 48

4.

- $26 \times 12$       •  $19 \times 19$
- $23 \times 14$       •  $21 \times 18$


Yukarıdaki çarpma işlemlerinden çarpımı 350'den küçük olanlar eşleştirildiğinde doğru eşleştirme nasıl olur?

- A.       B.   
C. 

5. 120 sayısının yarısı 3'e, yarısı 2'ye bölünüyor. Yapılan iki işlemdeki bölümlerin toplamı kaçtır?

- A. 60                              B. 50                              C. 40

6.

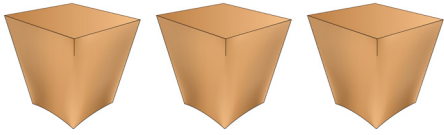


Yukarıda kalanlı bölme işlemi verilmiştir.

Bu işlemde bölünen sayı en çok kaç olur?

- A. 120      B. 127      C. 135

7.



63 kitap, her kutuya 7 kitap gelecek şekilde dizilecektir. Kaç koliye daha ihtiyaç vardır?

- A. 4      B. 5      C. 6

8.



Alış fiyatı: 33 TL


Satış fiyatı: 50 TL

Bir mağazada yukarıdaki kazaktan 15 tane satıldı.

Mağazanın kârı ne kadar olur?

- A. 185      B. 225      C. 255

9.



Yukarıdaki bölme işleminin kalansız olması için aşağıdakilerden hangisi yapılabilir?

- A. Bölünen 1 arttırılmalıdır.  
B. Bölen 1 azaltılmalıdır.  
C. Bölüm 3 azaltılmalıdır.

10.

$$\text{Spatula} + \text{Spatula} + \text{Spatula} + \text{Spatula} = 48 \text{ TL}$$

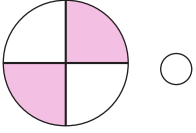
$$\text{Spatula} + \text{Spatula} + \text{Sivri} = 40 \text{ TL}$$

$$\text{Spatula} + \text{Sivri} = ?$$

Yukarıda verilenlere göre "?" yerine hangi sayı gelmelidir?

- A. 24      B. 28      C. 32

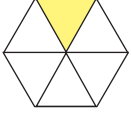
11.



$\frac{1}{6}$

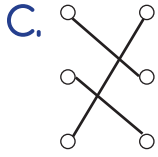
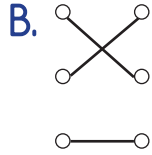
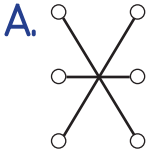


$\frac{4}{4}$



$\frac{2}{4}$

Yukarıdaki kesirlerle kesir değerleri eşleştirilecektir. Eşleştirmenin son görünümü aşağıdakilerden hangisi gibi olur?



12. Bir bütün pizza 8 eş parçaya bölündü. Pizzanın üç parçası yendi.

Pizzanın yenilmeyen parçasını kesir değeri kaçtır?



A.  $\frac{3}{8}$

B.  $\frac{5}{8}$

C.  $\frac{3}{5}$

13. Aşağıdakilerden hangisi yarımı ifade etmektedir?

A.  $\frac{5}{10}$

B.  $\frac{2}{8}$

C.  $\frac{3}{9}$

14. Payı 8 olan bir kesrin çeyreğe eşit olabilmesi için paydasının kaç olması gerekir?

A. 2

B. 16

C. 32

15. **SORUYA GEL**

0	1	2	3
4	5	6	7
8	9		

Yukarıdaki tarla eşit karesel bölgelere ayrılmıştır ve her bölgeye numara verilmiştir. Tüm numaralı bölgelere, aşağıdaki kurala göre ekim yapılmaktadır. Turuncu alana bir şey ekilmemektedir. KURAL:

- Rakamları farklı üç basamaklı en küçük tek sayının rakamlarının bulunduğu bölgeye patates ekilecektir.
- Rakamları farklı üç basamaklı en büyük çift sayının rakamlarının bulunduğu bölgeye salatalık ekilecektir.
- Rakamları toplamı 6 olan bölgelere domates ekilmektedir.

Birden fazla ürün ekilen bölgelerin kesir değeri kaçtır?

A.  $\frac{4}{12}$

B.  $\frac{3}{12}$

C.  $\frac{5}{12}$

1.

Annem temizlik yaptıktan sonra ellerinde kızarıklık oluştu. Nefes almakta da zorluk yaşadı.



Eren'in bahsettiği olayın nedeni ne olabilir?

- A. Maske ve eldiven takmaması
- B. Uzun süre çalışması
- C. İş yapmayı sevmemesi

2.



- I. 1 ve 2. madde akışkandır.
- II. 2. madde bulunduğu kabın şeklini alır.
- III. 3. madde gaz maddedir.

Yukarıdaki bilgilerden hangileri doğrudur?

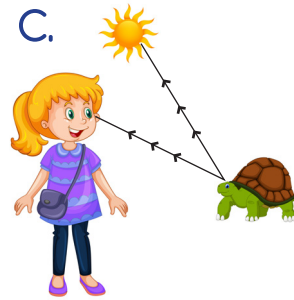
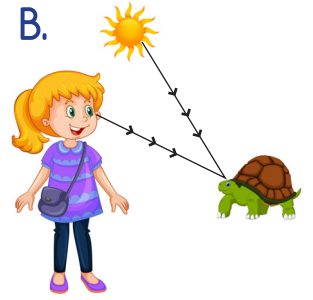
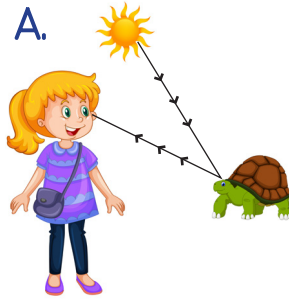
- A. I ve II
- B. II ve III
- C. I ve III

- 3. - Yüzeyinde girinti çıkıntı vardır.
- Bir cisme çarptığında kırılmaz.

Yukarıdaki açıklamaya uygun olan maddeler sırasıyla aşağıdakilerden hangisinde verilmiştir?



- 4. Evrim'in kaplumbağayı görme olayının nasıl gerçekleştiği hangisinde doğru gösterilmiştir?



- 5. Aşağıdaki seslerden hangisini işitebiliriz?

- A. Kelebeğin kanat sesini
- B. Karıncanın ayak sesini
- C. Yere düşen bardağın sesini

6. Aşağıdaki eşyalardan hangisi ses üretmez?

A.



B.



C.



7. » Ses tek yöne yayılır.  
 » Sesleri kulağımız yardımıyla duyarız.  
 » Rüzgar sesi doğal sese örnektir.

Yukarıdaki bilgilerden kaç tanesi doğrudur?

A. 1

B. 2

C. 3

8. Aşağıdaki varlıklardan hangisinin ses şiddeti diğerlerinden daha yüksektir?

A. Arabanın korna sesi

B. Atın koşma sesi

C. Kuş sesi

9.

Çevremizdeki Ses Kaynakları	
1. Araba	5. Korna
2. İnsan	6. Şelale
3. Dalga	7. Yağmur
4. Akarsu	8. Radyo

Yukarıdaki ses kaynaklarından hangilerinin doğal ses kaynağı olduğunu söyleyemeyiz?

A. 2,6,7

B. 1,5,8

C. 3,4,7

10.

Efe, ev arkadaşının uzun süre çaldığı baterinin sesinin şiddetli olmasından etkilenip hastaneye gitmiştir. Hastanedeki doktor, Efe'ye probleminin ne olduğunu kısaca anlatmıştır.

Doktor, Efe'ye aşağıdakilerden hangisini söylemiş olabilir?

A. Düşük şiddetteki ses, işitme kaybına neden olmuş.

B. Çalınan müzik aletinin bateri olması seni üzmüştür.

C. Yüksek şiddetteki ses işitme duyuna zarar vermiş.



1.



Eylül ayında okula başlar-  
ken en sevdiğim meyveyi  
yedim. Bu meyve .....

İlhan'ın en sevdiği meyve birinci sınıfa  
başladığı ayda yetiştiğine göre İlhan  
noktalı yerde hangisini söylemiş ola-  
maz?

- A. üzüm B. incir C. çilek

2.



- Güzelce dişlerini fırça-  
ladı.  
 Elini yüzünü silip diş  
fırçasını yerine koydu.  
 Selin diş fırçasına ma-  
cun sürdü.

Yukarıdaki davranışları gerçekleşme  
sirasına göre numaralandırırsak sırala-  
ma aşağıdakilerden hangisi gibi olur?

- A. ③ ② ①  
B. ② ③ ①  
C. ① ② ③

3. Dengeli ve düzenli beslenen bir çocuk-  
ta aşağıdakilerden hangisi gözlenemez?

- A. Boy uzaması  
B. Parmak izinin değişmesi  
C. Kilo değişimi

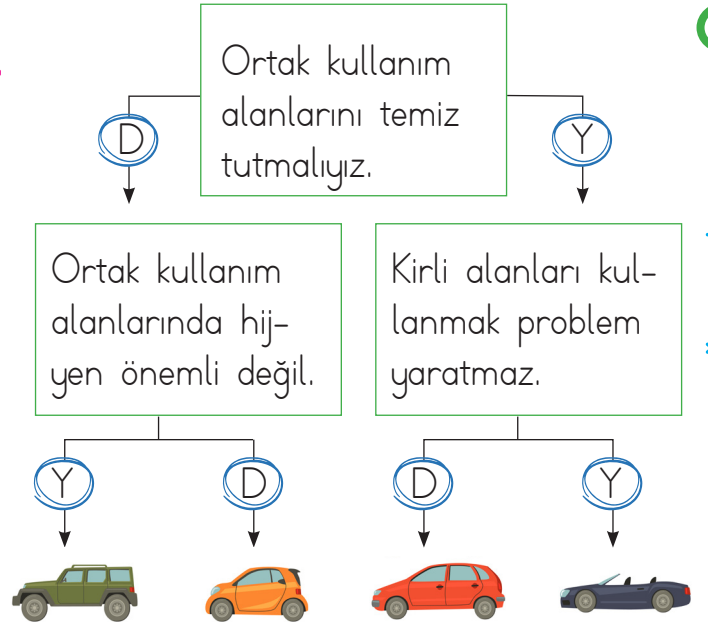
4.



Bu görsele göre asıl anlatılmak iste-  
nen nedir?

- A. Dişlerimizi fırçalarken suyu boşa  
akıtmamalıyız.  
B. Dişlerimizi günde en az iki kez  
fırçalamalıyız.  
C. Dişlerimizi fırçalamadığımızda  
sağlığımız olumsuz etkilenir.

5.



Eran en üstten başlayarak bilgileri okur-  
ken doğru (D) veya yanlış (Y) oluşuna  
göre okları izlerse hangi arabaya ulaşır?

- A. B. C.

6. Hasan görseldeki pastadan hergün 5 tane yemektir.



Yukarıda bahsedilen duruma göre Hasan'ın ilerleyen zamanlarda hangi hastalığa yakalanma olasılığı vardır?

- A. grip  
B. obezite  
C. astım
7. Aşağıdakilerden hangisi kazaya neden olan bir davranış değildir?

- A. Araçların arasından koşarak geçmek  
B. Trafik işaretlerine uymamak  
C. Yaya yolunu kullanmak

8. Yandaki trafik levhasının anlamı aşağıdakilerden hangisidir?



- A. Dönüslü yol  
B. Kaygan zemin  
C. Dikkat

9.

	Trafik kurallarına uymalıyız.
	Trafik polisini dinlememeliyiz.
	Aracı süratli kullanmalıyız.

Yukarıdaki ifadelerden doğru olanlara "D", yanlış olanlara "Y" yazıldığında tablonun son görünüşü hangisindeki gibi olur?

- A. 

D
Y
D

      B. 

D
D
Y

      C. 

D
Y
Y

10.



Üst geçit



Dikkat



Durak

Yukarıdaki trafik levhalarının altlarına anlamları yazılmıştır. Hangi trafik levhasının anlamı yanlış yazılmıştır?

- A. 

Üst geçit
Dikkat
Durak

      B. 

Durak
-------
- C. 

Dikkat
--------


1. Görseldeki kız evin hangi bölümündedir?

- A) Bedroom
- B) Kitchen
- C) Garden



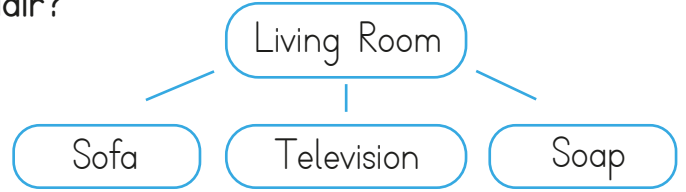
2. The man is in the .....  
Cümlenin devamı için hangi kelime gelmelidir?

- A) garden
- B) kitchen
- C) garage



3. Yandaki eşleştirmede hangi kelime hatalıdır?

- A) Television
- B) Soap
- C) Sofa



4. He is in the .....  
Cümleyi tamamlayan ifade hangisidir?

- A) bedroom
- B) bathroom
- C) garden



5. Resime göre boş bırakılan yere hangi seçenek gelmelidir?

My father is in the .....

- A) bedroom
- B) living room
- C) kitchen

