

1. Medüz adı ile de bilinen denizaneları, saydam görünüşleri ile dikkat çekmektedir. 650 yaşına kadar yaşayabildiği ve bu bilgiye göre de dünyadaki en eski canlılardan biri olduğu bilgisine rastlanmaktadır.

Yukarıdaki metne göre denizanelarıyla ilgili hangisi söylenebilir?

- A. En az 650 yaşına kadar yaşarlar.  
B. Görünüşleri saydamdır.  
C. Dünyadaki en eski canlıdır.

2. ★ atladı - yüksekten - Asya  
● köpekler - yarın - güzel - içmek  
■ merdivenlerinden - evin - zorla

Hangi sözcük grubuyla cümle oluşturulabilir?

- A. ★ B. ● C. ■

3. Aşağıdaki sorulardan hangisi hikayenin herhangi bir unsurunu bulmaya yönelik bir soru değildir?

- A. Kim B. Nerede C. Niçin

4.



Yat kelimesinin sestesi vardır.

Kaygı kelimesinin eş anlamlısı tasadır.

Yanıt kelimesinin zıt anlamlısı sorudur.



Birsen, yukarıdaki şemaya göre hangi oyuncağa ulaşır?

- A. B. C.

5. Semra Hanım, kızı Sinem'e sırasıyla bir tekil, iki çoğul ve bir topluluk adı yazmasını istemiştir. Sinem'in her doğru cevabına bir yıldız vermiştir. Sinem toplamda 2 yıldız aldığına göre hangisi Sinem'in cevabı olabilir?

- A. Kapı Sıralar Çilekler Düzine  
B. Kuşlar Soğanlar Zil Ordu  
C. Papatya Saksılar Bilgisayar Millet

6. Aşağıdaki sözcüklerden hangisinin yazımında hata yapılmıştır?

- A. naylon B. kilim C. traş

7. (1)Limonu sık, bardağa dök. (2)Bardağın içindeki limonatayı iç. (3)Üzerine su ve şeker ilave et.

Yukarıda limonata yapım aşaması verilirken hata yapılmıştır. Kaç numaralı cümleler yer değiştirirse hata giderilir?

A. 1-2 B. 1-3 C. 2-3

8.

Başlama



Bitiş Saati



İrem



Canan



Kemal

Üç arkadaş aynı saatte spor yapmaya başlıyor.

Bitirdikleri saate göre daha uzun süre spor yapan kimdir?

A. İrem B. Canan C. Kemal

9.

16:45

İ On buçuk

22:30

L 2'yi çeyrek geçiyor.

14:15

K 5'e çeyrek var.

Verilen dijital saatlerin karşısına doğru okunuşları gösteren harf yazıldığında oluşan harf sırası nasıl olur?


A. İ  
L  
K

B. L  
İ  
K

C. K  
İ  
L

10. soruyagel.com

10. Çeyrek saat önce



Yarım saat sonra



Yukarıda verilen analog saatin gösterdiği zaman ile ilgili kutucuklarda belirtilen sembollerin saat gösterimi hangi seçenekte doğru verilmiştir?

A. 10.05  
10.50

B. 10.10  
10.50

C. 10.15  
10.55

11.



1



2



3



4

.....

Öğretmeni, Dilek'ten yukarıdaki örüntüyü devam ettirerek 7. adımı bulmasını istiyor. Dilek örüntüyü devam ettirdiğinde 7. adımda bulunduğu saat aşağıdakilerden hangisidir?

A. 04.45

B. 04.50

C. 04.55

12.

18.30

Yukarıda verilen dijital saat gösterisindeki saatin 55 dk sonraki görünümünü aşağıdaki saatlerin hangisinde doğru gösterilmiştir ?



13.

Saat 10'a çeyrek var.

Öğleden sonraki bir zamanda saati söyleyen Emir'in saatinde aşağıdakilerden hangisi yazılıdır?



14. Hangi saatin kaçı gösterdiği yanlış yazılmıştır?



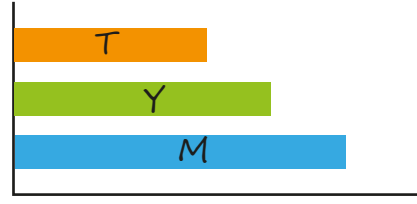
1'i çeyrek geçiyor.

6'ya çeyrek var.



6'ya 10 var.

15.



Yukarıdaki grafikte Bilal, Deniz ve Sefa'nın ses kaynağından çıkan sesi duydukları ses şiddetleri verilmiştir. Bilal'in ses kaynağına uzaklığı Deniz'den az, Sefa'dan daha fazladır. Buna göre ses şiddetlerinin kime ait olduğu ile ilgili hangi bilgi doğrudur?


	T	M	Y
A.	Bilal	Deniz	Sefa
B.	Deniz	Sefa	Bilal
C.	Sefa	Bilal	Deniz

soruayagel.com

16.



Yukarıdaki ses kaynaklarından hangileri doğal ses kaynağıdır?



17. Sokakta elma satan kişinin sesini çevresindeki herkesin duymasının sebebi nedir?

- A. Sesin her yöne yayılması  
B. Sesin uzaklaştıkça az işitilmesi  
C. Sesin şiddetinin az olması

18. Yandaki görselde zarar gören çocuğun yapması gereken en doğru davranış hangisidir?



- A. Yardım istemek
- B. Orada kalmaya devam etmek
- C. Şiddet gösteren çocuğun her söylediğini yapmak

19. Biri bizi tehdit ederse ..... Yukarıda verilen cümle hangisiyle tamamlanabilir?

- A. boyun eğmeliyiz.
- B. hemen ailemize haber vermeliyiz.
- C. her dediğini yapmalıyız.

20. Kurt kostümü giyen çocuk, kırmızı başlıklı kızı bükükannesine götürceğini söylemiştir. Kırmızı başlıklı kız, çocuğu tanımamaktadır. Bu durumda kırmızı başlıklı kız ne yapmalıdır?

- A. Çocuğa inanmalıdır.
- B. Oradan uzaklaşmalıdır.
- C. Çocukla gitmelidir.

ADI: .....

SOYADI: .....

SINIFI: .....

PUANI: .....

sozuyagel.com

1	A	B	C
2	A	B	C
3	A	B	C
4	A	B	C
5	A	B	C
6	A	B	C
7	A	B	C
8	A	B	C
9	A	B	C
10	A	B	C
11	A	B	C
12	A	B	C
13	A	B	C
14	A	B	C
15	A	B	C
16	A	B	C
17	A	B	C
18	A	B	C
19	A	B	C
20	A	B	C