

7.




Yukarıdaki saat 2040 saniye sonra saat kaçı gösterir?

- A. 19.55 B. 20.00
C. 20.04 D. 20.08

8. 5 saat 20 dakika kaç dakika eder?

- A. 300 B. 320
C. 340 D. 360

9.



Yukarıdaki klimanın pervanesi 15 saniyede 10 kez dönmektedir. Bu klimanın pervanesi 20 dakikada kaç kez döner?

- A. 650 B. 720 C. 760 D. 800

10.

10 dk. : 600 sn.

4 sa. : 240 dk.

3 yıl : 34 ay

4 ay : 120 gün

2400 sn: 40 dk.

Yukarıdaki dönüşümlerden kaç tanesinde hata yapılmıştır?

- A. 1 B. 2
C. 3 D. 4

11.



Yukarıdaki araç her yıl 3 ayda bir sefere çıkmaktadır. Bu araç 5 yılda kaç kere sefere çıkar?

- A. 12 B. 15
C. 18 D. 20

12.

1995

1996

2008

2011

2016

2018





2020

2022

29 Şubat'ta yurt dışına giden Engin, her 29 Şubat'ta ülkesini ziyaret etmektedir. Engin, yukarıdaki yıllardan kaçında ülkesini ziyaret etmiştir?

- A. 3 B. 4 C. 5 D. 6

13. Aşağıdaki maddelerden hangisi karışımdır?

- A.  demir
- B.  bulut
- C.  tuz
- D.  şeker

14.



I - Karışımlar iki veya daha fazla maddenin bir araya gelmesi ile oluşur. II - Karışımları oluşturan maddeler kendi özelliklerini kaybetmezler. III - Karışımları oluşturan maddeler çeşitli yöntemlerle birbirinden ayrılabilir. IV - Gümüş karışımlara örnek olarak verilebilir.

Yukarıdaki çocuğun verdiği bilgilerden hangisi yanlıştır?

- A. I B. II
- C. III D. IV

15. Aşağıdaki ifadelerden hangisi yanlıştır?

- A. Karışımları oluşturan maddelerin tamamı kendi özelliğini kaybeder.
- B. Karbondioksit saf maddeye örnek olarak verilebilir.
- C. Ekmek ve bal karışımlara örnek olarak verilebilir.
- D. Karışımlar iki veya daha fazla maddenin bir araya gelmesiyle oluşur.

16.

makarna - su	saman - buğday
demir tozu - kum	süt tozu - su
pirinç - nohut	tuz - çakıl

Yukarıda verilen karışımlardan kaç tanesi mıknatısla ayırma yöntemi ile birbirinden ayrılabilir?

- A. 1 B. 2
- C. 3 D. 4

17.

iletişim	sağlık	temizlik
----------	--------	----------

Aşağıdaki teknolojik ürünlerden hangisi yukarıda verilen alanlardan biriyle ilgili değildir?

- A.  B. 
- C.  D. 

18. Aşağıdaki ifadelerden hangisi yanlıştır?
- A. Steteskop sağlık alanında kullanılan bir teknolojik alettir.
- B. Carl Benz otomobili icat etmiştir.
- C. El Cezeri teleskopu icat etmiştir.
- D. Teknolojik aletler zaman içinde gelişim gösterir.

19.



Tatilde memlekete gitmek için biletimi elektronik ortamda aldım. Halamları arayıp geleceğimi haber ettim. Biletimin günü geldiğinde havaalanına gidip memlekete kısa sürede vardım.

Hasan yukarıda anlattığı metinde aşağıdaki teknolojik aletlerden hangisini kullanmamıştır?

A.



B.



C.



D.



20. Aşağıdaki ifadelerden hangisi yanlıştır?

- A. Her teknolojik ürünün mucidi bellidir.
- B. Teknolojik ürünler zaman için değişmiş ve gelişmiştir.
- C. Bazı teknolojik ürünler birden fazla alanda da kullanılabilir.
- D. Teknolojik ürünlerin kullanımındaki amaç hayatımızı kolaylaştırmaktır.

ADI :

SOYADI :

SINIFI :

PUANI :

1	A	B	C	D
2	A	B	C	D
3	A	B	C	D
4	A	B	C	D
5	A	B	C	D
6	A	B	C	D
7	A	B	C	D
8	A	B	C	D
9	A	B	C	D
10	A	B	C	D
11	A	B	C	D
12	A	B	C	D
13	A	B	C	D
14	A	B	C	D
15	A	B	C	D
16	A	B	C	D
17	A	B	C	D
18	A	B	C	D
19	A	B	C	D
20	A	B	C	D