

1. Uzmanlar uzun yıllardır insanların; havayı kirletme, ormanları yok etme, geri dönüşüme yeteri kadar önem vermeme gibi davranışları yüzünden iklim değişiklikleri olacağı konusunda uyarılarda bulunuyordu. Son birkaç yıldır iklim değişikliğini gözle görülür bir şekilde görmeye başladık. İklim değişiklikleri birçok yönden tüm canlıları olumsuz etkilemeye başladı. Bu değişikliklerin artmaya devam etmesi çok büyük sorunlara neden olacak. Bu sorunlardan en önemlisi canlı sağlığıdır. Bu yüzden her insan doğayı her yönden koruma konusuna çok büyük önem göstermelidir.

(1 ve 2. soruyu yukarıdaki metne göre cevaplayalım.)

1. Metne göre insanların aşağıdaki davranışlarından hangisi iklim değişikliklerine sebep olur?

- A. Geri dönüşüme önem vermeleri
- B. Ormanları yok etmeleri
- C. Güneş enerjisinden faydalanmamaları
- D. Havayı kirletmemeleri

2. Metne göre iklim değişiklikleri hangi canlıları olumsuz etkileyecektir?

- A. İnsanları
- B. Bitkileri
- C. Hayvanları
- D. Tüm canlıları

3. Aşağıdaki tabelalarda yazan yer adlarının hangisinin yazımında hata yapılmıştır?

- A. Can Caddesi
- B. Sarı ilkokulu
- C. Kar Pastanesi
- D. Üç Sokak

4. çalıştı	gidiyor	oturacak
yaptı	kalk	çözüyor
geliyor	düştü	yapmış

Yukarıdaki tabloda "şimdiki zaman" bildiren eylemler boyandığında tablonun son görünümü nasıl olur?

- A.
- B.
- C.
- D.

- 5.
-
-
-

Yukarıdaki kelimelerden kaç tanesi topluluk adıdır?


- A. 1
- B. 2
- C. 3
- D. 4

- 6.
-
-

Yukarıdaki çocukların cümlelerinde kullandıkları eylemler için aşağıdakilerden hangisi söylenemez?

- A. Ali'nin kullandığı eylem geçmiş zamanlıdır.
- B. Esra, durum fiili kullanmıştır.
- C. Mert ve Esra'nın eylemlerinin zamanı aynıdır.
- D. Mert, oluş fiili kullanmıştır.

Grafik : Bir çiftlikte bulunan hayvan sayıları

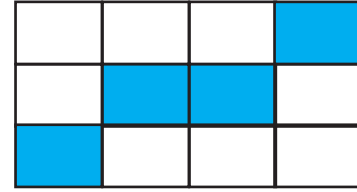


(7, 8 ve 9 ve 10. grafiğe göre cevaplayalım)

7. Bu çiftlikle en fazla ve en az bulunan hayvanların ayak sayıları toplamı kaçtır?
 A. 240 B. 300
 C. 330 D. 400
8. Bu çiftlikte bulunan inek sayısı,tavşan sayısından kaç fazladır?
 A. 15 B. 16
 C. 17 D. 18

9. Bu çiftlikte bulunan her bir tavuk günde 7 tane yumurta vermektedir. Bu tavuklar 3 haftada kaç yumurta verir?
 A. 8000 B. 8580
 C. 8820 D. 8930

10.



Bu çiftlikte bulunan at sayısı yukarıdaki şekille ifade ediliyor. Daha sonra çiftlikten at yarışına gitmek için çıkan atlar boyanıyor. Yarışmaya kaç at katılmıştır?

- A. 12 B. 16
 C. 20 D. 24

11. Garanti süresi 4 yıl 6 ay olan kamerayı Merve, 15 Ocak 2021 tarihinde almıştır. Bu kameranın garanti süresi ne zaman dolacaktır?



- A. 1 Temmuz 2025 B. 15 Temmuz 2025
 C. 1 Ağustos 2025 D. 15 Ağustos 2025

12.





Türkçe	60
Matematik	45
Sosyal Bil.	30
Fen Bil.	35



Üniversite sınavına hazırlanan Yusuf, sınava son 3 ay kala her gün derslere çalıştığı süre dakika cinsinden yukarıda verilmiştir. Buna göre Yusuf'un matematik ve fen bilimlerine harcadığı süre, Türkçe ve sosyal bilimlere harcadığı süreden ne kadar eksiktir?

- A. 1 gün B. 22 sa. 15 dk. C. 17 sa. D. 15 sa.

13. Aşağıdaki ışık kaynaklarını bir yönüyle gruplarsak hangi ışık kaynağı dışarıda kalır?

- A.  B. 
- C.  D. 

14.

meşale





kandil

akkor lamba

Aşağıdakilerden hangisinde yukarıdaki aydınlatma araçlarından herhangi birinin tanımı yapılmamıştır?

- A. Filaman adı verilen ince uzun tel üzerinden elektrik geçirilmesi ile geliştirilen araçtır.
- B. Oyulmuş taş içine, ölmüş hayvan yağları konulması ile yapılan aydınlatma aracıdır.
- C. Odunun uç kısmına çam ağaçlarından elde ettikleri reçineleri sürerek yaptıkları araçtır.
- D. Beyaz ışık verir, daha çok enerji harcar ve daha çok ışık veren aydınlatma aracıdır.
15. Aşağıdaki ifadelerden hangisi yanlıştır?
- A. Ampülü Thomas Edison icat etmiştir.
- B. Aydınlatma araçları insanlık tarihi açısından önemli bir yere sahiptir.
- C. Teknolojinin gelişmesiyle beraber aydınlatma araçları da gelişmiştir.
- D. Işık ne kadar fazla olursa çalışırken verim artar.

16. Aşağıda bulunan aydınlatma teknolojisi ile ilgili ürünleri kronolojik sıraya koyarsak baştan 2. sıraya hangisi gelir?

- A.  B. 
- C.  D. 

17.

Ece ve Musa, katıldıkları bir bilgi yarışmasında "Ateşin bulunmasından sonra kullanılan ilk aydınlatma nedir?" ve "İlk insanların kullandığı ilk ve tek aydınlatma aracı nedir?" sorularıyla karşılaşmışlardır.

İki çocuk da sorulara doğru cevap verdiği göre çocukların cevapları aşağıdakilerden hangisidir?

- A. ateş - floresan B. meşale - ateş
- C. meşale - kandil D. mum - kandil
18. Aşağıdaki ifadelerden hangisi yanlıştır?
- A. Çevremizdeki kaynakların sınırsız olduğunu bilmem aile bütçesine katkı sağlar.
- B. Çevremizdeki kaynakları israf etmeden kullanırsak aile bütçesine katkı sağlamış oluruz.
- C. İnsanların, ailelerinin geçimlerini sağlamak için çalışmasına ekonomik faaliyet denir.
- D. Harcamaları gelirlere göre ayarlamak çok önemlidir.


19.

Mehmet Bey, bir teknoloji firmasında çalışmaya başlamıştır. Sabit bir geliri olan Mehmet Bey her ay kendisine ve ailesine çok pahalı mağazalardan kıyafet almakta, ailesini haftanın dört günü pahalı restoranlarda yemeğe götürmektedir. Bu arada diğer faaliyetlerdeki harcamalardan dolayı faturalarını ödemeyi her ay ertelemektedir. Birkaç ay bu şekilde devam eden Mehmet Bey faturaların çok fazla biriktiğini görmüştür. Bunları ödeyemediğini anlayan Mehmet Bey çevresinden borç arayışına girmiştir. Ne yapsa da fatura tutarı kadar borcu çevresinden bulamamıştır.

Mehmet Bey, aşağıda tasarrufla ilgili atasözlerinden hangisine tam olarak zıt davranmıştır?

- A. Damlaya damlaya göl olur.
- B. Ayağını yorganına göre uzat.
- C. Sakla samanı, gelir zamanı.
- D. Ak akçe kara gün içindir.

20. Aşağıdaki ekonomik faaliyetlerden hangisi üretimin farklı bir aşamasını anımsatmaktadır?



ADI :

SOYADI :

SINIFI :

PUANI :

1	A	B	C	D
2	A	B	C	D
3	A	B	C	D
4	A	B	C	D
5	A	B	C	D
6	A	B	C	D
7	A	B	C	D
8	A	B	C	D
9	A	B	C	D
10	A	B	C	D
11	A	B	C	D
12	A	B	C	D
13	A	B	C	D
14	A	B	C	D
15	A	B	C	D
16	A	B	C	D
17	A	B	C	D
18	A	B	C	D
19	A	B	C	D
20	A	B	C	D