

Beyaz tüylü, mavi gözlü şirin köpek Zeytin, kulübesinin etrafında üzüntü ile dolaşıyormuş. Sahibi o gün, kendisine yemesi için bir şey vermediği unuttuğundan karnı çok acıkmış. Bir kemik bulma umuduyla toprağa eşelemeye başlamış. En sonunda parlak sert bir şey bulmuş. Dikkatli bakınca altın bir bilezik olduğunu anlamış. Boynunu üzüntü ile eğerek : "Ne talihsizim! Bir altın bilezik bulacağıma, bir kemik bulsaydım ne iyi olurdu." demiş

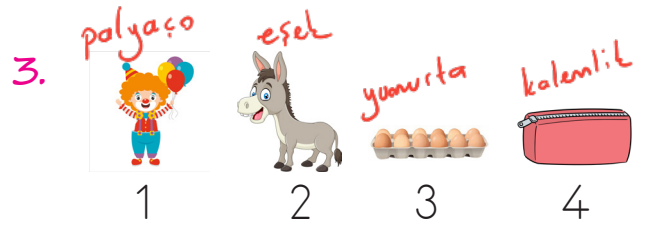
1 ve 2. soruları metne göre cevaplayalım.

1. Zeytin'in karnının çok acıkmasının sebebi nedir?

- A. Çok oyun oynaması
- B.** Sahibinin yemesi için bir şeyler vermeyi unutmuş olması
- C. Sahibinin eve geç gelmesi

2. Zeytin neden toprağı eşelemeye başlamış?

- A.** Yiyecek bir kemik bulmak için
- B. Dikkat çekmek için
- C. Değerli bir şey bulmak için

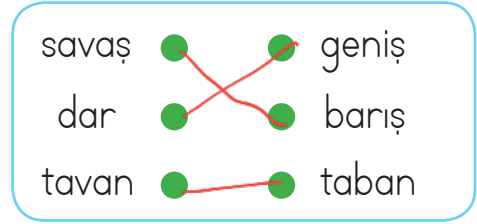


Yukarıda verilen görsellerin isimlerinin sözlük sırasına göre sıralaması hangi seçenekte verilmiştir?

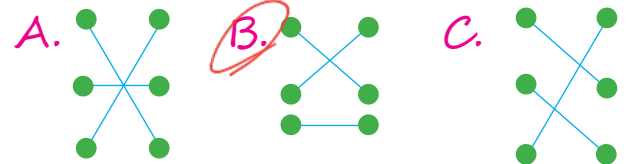
- A. 2, 3, 1, 4
- B. 3, 4, 1, 2
- C.** 2, 4, 1, 3

sonerhoca.net

4.



Yukarıdaki sözcükler zıt anlamları ile eşleştirildiğinde nasıl bir görünüm oluşur?



5.



Kırtasiyeden kalem, silgi ve defter aldım.

Ece'nin cümlesinde altı çizili kelimelerden hangisi ad değildir?

- A.** aldım
- B. kalem
- C. silgi

6. Trafik kurallarına uymadığı için kaza yaptı.



Yukarıdaki cümlenin sonuç kısmı hangisidir?

- A. Bisikleti hızlı sürmesi
 B. Kaza yapması
 C. Trafik kurallarına uymaması

7. $\text{🍊} \times 3 = 9$ $\text{🐭} \times 9 = 0$
 $\text{🐸} \times 1 = 7$

Yukarıda sembollerle belirtilen yere hangisi gelemez?

- A. 0 B. 9 C. 7

8.

$$\begin{array}{r} 4 \\ \times 9 \\ \hline 36 \end{array}$$

$$\begin{array}{r} 9 \\ \times 5 \\ \hline 45 \end{array}$$

$$\begin{array}{r} 8 \\ \times 5 \\ \hline 40 \end{array}$$

Yukarıdaki işlemlerden sonucu en büyük ve en küçük olanın toplamı kaçtır?

- A. 81 B. 76 C. 84

$$45 + 36 = 81$$

9.

$$\begin{array}{r} 5 \\ 20 \div 4 \\ \hline 1 \end{array}$$

$$\begin{array}{r} 4 \\ 16 \div 4 \\ \hline 2 \end{array}$$

$$\begin{array}{r} 5 \\ 15 \div 3 \\ \hline 3 \end{array}$$

Yukarıdaki bölme işlemlerinden kaç numaralı işlemin sonucu farklıdır?

- A. 1 B. 2 C. 3

10.



Yukarıdaki sayı kapma makinesinde 2 sayı seçilip bölme işlemi yapılmakta ve işlem sonucunun yazılı olduğu hediye kazanılmaktadır. Ayça ilk oyunda sarı ve pembe, ikincisinde mavi ve turuncu renkli dairelerdeki sayıları seçtiğine göre hangi hediyeleri almaya kazanmıştır?




$$\begin{array}{r} 32 \\ -12 \\ \hline 0 \end{array}$$

$$\begin{array}{r} 25 \\ -25 \\ \hline 0 \end{array}$$

B.



11.



Yukarıdaki bölme işleminde bölen ile bölümün toplamı kaçtır?

- A. 10 B. 8 C. 6

$$6+4=10$$

12. Cüzdanında 9 lirası olan Arda'ya annesi 15 lira daha verdiğinde tanesi 4 lira olan kalemlerden kaç tane alabilir?

- A. 7 B. 8 C. 6

$$15+9=24$$

$$\begin{array}{r} 24 \div 4 \\ - 24 \\ \hline 0 \end{array}$$

13. Bulduğumuz yerde kaza görürsek ararız.

Yukarıdaki boşluğa hangisi yazılmalıdır?

- A. 155'i
B. 112'yi
C. 110'u

14. Aşağıda verilen hangi durumlarda acil durum numaraları aranmaz?

- A. Acil hastalıklarda
B. Kaza durumlarında
C. Adresimiz sorulduğunda

15. Aşağıdakilerden hangisi sel, çığ gibi doğal afetlerde arama kurtarma çalışmaları yapar?

- A. AMBULANS
B. AFAD
C. VALİLİK

ADI:

SOYADI:

SINIFI:

1	A	B	C
2	A	B	C
3	A	B	C
4	A	B	C
5	A	B	C
6	A	B	C
7	A	B	C
8	A	B	C
9	A	B	C
10	A	B	C
11	A	B	C
12	A	B	C
13	A	B	C
14	A	B	C
15	A	B	C