

1.



Rüzgarın hızı anemometre ile ölçülür. Yükseklerdeki rüzgarlar ise balonlar yardımı ile ölçülür. Belli bir yüksekliğe gelen balonlar rüzgarın hızı ile yol almaktadır. Daha hassas ölçümler için balonlar radarla takip edilir.

Yukarıdaki metne göre rüzgar ile ilgili hangisi söylenemez?

A. Hızı anemometre ile ölçülür. ✓

B. Daha hassas ölçümler için radar kullanılır. ✓

C. Rüzgar olmadan da balonlar belli bir yüksekliğe gelince yol alırlar. ✗

2.

Spor yapma alışkanlığı küçük yaşlarda edinilebilir. Spor yapmak sağlık açısından oldukça önemlidir. Yaşam kalitemizin artmasına neden olur. Sıkıntı ve stresimizin azalmasını sağlar. Hayattan keyif almamıza yardımcı olur.

Bu metnin konusu aşağıdakilerden hangisidir?

A. Spor yapmanın faydaları

B. Küçük yaşta yaptıklarımız

C. Hayattan keyif almanın yolları

sozuyages.com

3.

- Babam yarın İzmirde olacak.
- Tirene binmek için çok uğraştı.
- Kardeşimle ata bin'dim.

Yukarıdaki cümlelerdeki yazımı yanlış olan sözcüklerin doğru yazılışları ile anlamlı ve kurallı cümle oluşturulacaktır. Hangi seçenek doğru olur?

A. İzmirde tirene bin'dim.

B. İzmir'de trene bindim.

C. Babam kardeşimle uğraştı.

4.

◆ zaman ★ kahraman ● olay ■ yer

- Olay Ali ve Mert arasında geçmiştir.
- Olay sabah gerçekleşmiştir.
- Olay denizde gerçekleşmiştir.
- Ali ve Mert'in denizde yaşadıkları korku dolu anlar anlatılmıştır.

Yukarıdaki hikaye unsurları, uygun olan ifadelerle eşleştirilirse sıralama nasıl olur?

- A.
- B.
- C.

5. İnsanlar tek başına her şeyin üstesinden gelemeyebilir. Bu nedenle birlikte yaşamaya ihtiyaç duyarlar.

Yukarıda açıklaması yapılan atasözümüz aşağıdakilerden hangisidir?

- A. Sakla samanı gelir zamanı.  
B. Yalancının mumu yatıya kadar yanar.  
C. Yalnız taş duvar olmaz.

6. 1. Uçağa binmek için can atıyordum.  
2. Hayatımda ilk defa binecektim.  
3. Heycanım gözlerimden anlaşıyordu.

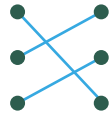
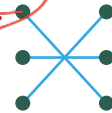
Heycanım

Yukarıdaki paragrafta kaç numaralı cümlede yazımı yanlış bir sözcük vardır?

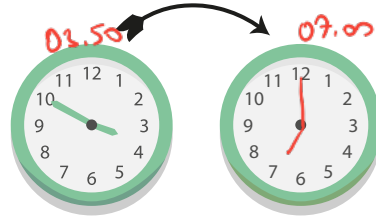
- A. 1 B. 2 C. 3

7. 17.15 On bire on var  
19.45 Sekize çeyrek var.  
22.50 Beşi çeyrek geçiyor.

Yukarıda verilen dijital saatlerle okunuşları hangi seçenekte doğru eşleştirilmiştir?

- A.  B.  C. 

8. 3 saat 10 dakika sonra






Yukarıda verilenlere göre "?" ile gösterilen yere hangi saat gelmelidir?

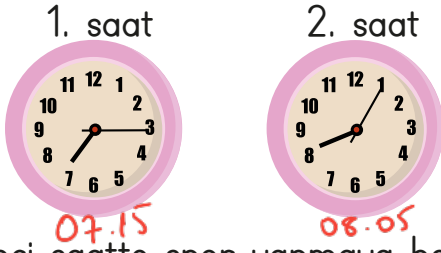
- A.  B.  C. 

9. Kurbağa Bobi sıçradığı her yaprak üzerinde bir önceki yaprakta kaldığı süreden 300 saniye daha fazla kalmaktadır. 09.30'da sıçradığı ilk yaprakta 10 dakika kaldığına göre üçüncü yaprakta dördüncü yaprağa sıçradığı zaman saat kaç olur?



- A.  
$$\begin{array}{r} 300 \overline{) 60} \\ - 30 \overline{) 30} \\ \hline 30 \end{array}$$
  
B.  
$$\begin{array}{r} 1 \\ 10 \overline{) 15} \\ - 10 \overline{) 5} \\ \hline 5 \end{array}$$
  
C.  
$$\begin{array}{r} 10 + 15 + 20 = 45 \\ 09.30 \\ + 45 \\ \hline 09.75 \\ - 10.15 \end{array}$$

10.



Birinci saatte spor yapmaya başlayan İpek Hanım, ikinci saatte sporu bitirdiğine göre kaç dakika spor yapmıştır?

A. 40 dk.    B. 50 dk.    C. 60 dk.

$$\begin{array}{r} 08.05 \\ - 07.15 \\ \hline 00.50 \end{array}$$

11. Ankara'dan 22.00'da hareket eden bir otobüs Adana'ya 04.30'da varıyor. Buna göre otobüs ne kadar süre sonra Adana'ya varmıştır?

A. 6 saat 30 dakika  
B. 7 saat 30 dakika  
C. 5 saat 30 dakika

$$\begin{array}{r} 24.00 \\ - 22.00 \\ \hline 02.00 \end{array}$$

$$\begin{array}{r} 04.30 \\ + 02.00 \\ \hline 06.30 \end{array}$$

12. Banu günde 48 sayfa kitap okumaktadır. Banu 2 haftada kaç sayfa kitap okur?

A. 96    B. 348    C. 672

$$2 \text{ hafta} = 16 \text{ gün} \quad 48 \times 14 = 672$$

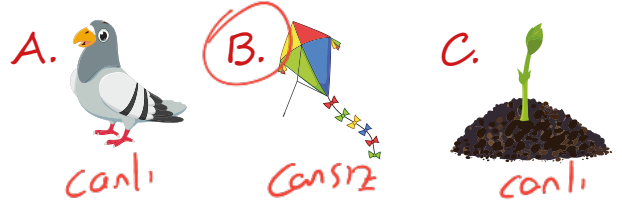
13.

Eren: Saat 12'ye 20 varken evden çıkıyorum. (11.40)

Buna göre hangi saat Eren'in evden çıktığı saati göstermektedir?



14. Aşağıdaki varlıkları özelliklerine göre sınıflandırırsak hangisi dışarıda kalır?



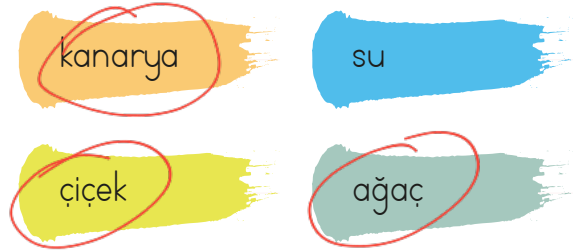
15. Aşağıdakilerden hangisi hayvanlar ve bitkilerin ortak özelliği değildir?

A. Solunum yaparlar. ✓

B. Kendi besinlerini kendileri yapar. *Sadece bitkiler*

C. Büyür ve gelişirler. ✓

16.



Yukarıdaki varlıklardan kaç tanesi canlıdır?

A. 2    B. 3    C. 4

17. - Kendi besinini kendisi üretir.  
- Yönelme hareketi yapar.

Yukarıdaki özelliği verilen canlı hangisidir?

A. Bitki  
B. Hayvan  
C. İnsan

18. I. Yola kaçan topun peşinden koşmak  
 II. Çarpışan arabaya binerken ayağa kalkmak  
 III. Kaykayın üzerine çıkıp yere atlamak  
 IV. Yolculuk sırasında emniyet kemeri takmak ✓

Yukarıdaki davranışlardan hangileri yanlıştır?

- A. I-II-III B. I-III-IV C. II-III-IV

19. Y Araç hareket halindeyken gezebiliriz.  
 D Bozuk elektrik kablolarına dokunmamalıyız.  
 D Kesici ve delici aletlerle oynamamalıyız.

Yukarıdaki ifadelerden doğru olanların başındaki kutucuğa "D", yanlış olanların başındaki kutucuğa "Y" koyarsak son görünüm nasıl olur?

- A. D Y D  
 Y D D  
 D Y D

20. Aşağıdakilerden hangisi güvenli oyun alanıdır?

- A. Kaldırımlar  
 B. Okul bahçeleri  
 C. İnşaat alanları

ADI: .....

SOYADI: .....

SINIFI: .....

PUANI: .....

|    |   |   |   |
|----|---|---|---|
| 1  | A | B | C |
| 2  | A | B | C |
| 3  | A | B | C |
| 4  | A | B | C |
| 5  | A | B | C |
| 6  | A | B | C |
| 7  | A | B | C |
| 8  | A | B | C |
| 9  | A | B | C |
| 10 | A | B | C |
| 11 | A | B | C |
| 12 | A | B | C |
| 13 | A | B | C |
| 14 | A | B | C |
| 15 | A | B | C |
| 16 | A | B | C |
| 17 | A | B | C |
| 18 | A | B | C |
| 19 | A | B | C |
| 20 | A | B | C |