

1.

Yusuf, sabah kalktığına çok heyecanlıydı. Çünkü en sevdiği arkadaşı gelecekti. Hemen kıyafetlerini giydi. Arkadaşının geleceği saati bekledi. Zil çaldığında hemen kapıya koştu. Kapıyı açtı. Arkadaşı ile o gün çok güzel oyunlar oynadılar. Akşam olduğunda mutlu bir şekilde ayrıldılar.

Yukarıda hikayede hikaye unsurlarından hangisine yer verilmemiştir?

- A. olay
B. zaman
C. kişiler
D. mekan

2.



Yukarıdaki kelimelerden kaç tanesinin yazımı hatalıdır?

- A. 2
B. 3
C. 4
D. 5

3. Aşağıdaki cümlelerden hangisinde sayıların yazımı ile ilgili hata yapılmıştır?

- A. Elmaları, 5'er 5'er topluyordu.
B. Üç yüz altmış iki tane bilge toplamış.
C. Yarışmada 5. olduğunu söyledi.
D. I. Dünya Savaşı tüm dünyayı olumsuz etkiledi.

4.

Söyleneni belli değildir. ✓

Öğüt verme amacı güderler. ✗

Genellikle mecaz anlam taşırlar. ✓

Az sözcükle çok şey anlatırlar. ✓

Yukarıdaki kutularda yazılan bilgilerden kaç tanesi deyim ve atasözlerinin ortak özelliklerindedir?

- A. 1
B. 2
C. 3
D. 4

5. Aşağıdaki cümlelerden hangisinde adıl kullanılmamıştır?

- A. Herkes, sıcağdan şikayetçi olduğunu söyledi.
B. Ondan başka birşey beklemezdim.
C. O, tüm eşyalarını evde unutmuştu.
D. Kaan, bu oyunu hiç sevmez.

6.

Serdar'ın evine gittiğimde bahçelerindeki çiçeklerin solduğunu gördüm. Hemen Serdar'ı uyardım. Beraber çiçekleri suladık. Çiçekleri suladıktan sonra adeta canlanırverdiler. Bunu görünce çok mutlu oldum.

Bu metnin anlatım biçimi aşağıdakilerden hangisidir?

- A. açıklayıcı
B. tartışmacı
C. öyküleyici
D. betimleyici

7.



$$\begin{array}{r} 2040 \overline{) 60} \\ -180 \\ \hline 240 \\ -240 \\ \hline 0 \end{array}$$

Yukarıdaki saat 2040 saniye sonra saat kaç gösterir?

A. 19.55 B. 20.00

C. 20.04 D. 20.08

$$\begin{array}{r} 19.30 \\ + 34 \\ \hline 19.64 \\ = 20.04 \end{array}$$

8. 5 saat 20 dakika kaç dakika eder?


A. 300 B. 320

C. 340 D. 360

$$5 \text{ saat} = 5 \times 60 = 300$$

$$300 + 20 = 320 \text{ dk}$$

9.



$$\begin{array}{r} 20 \overline{) 1200} \\ \times 60 \\ -120 \\ \hline 000 \\ \hline 1200 \end{array}$$

$$80 \times 10 = 800$$

Yukarıdaki klimanın pervanesi 15 saniyede 10 kez dönmektedir. Bu klimanın pervanesi 20 dakikada kaç kez döner?

A. 650 B. 720 C. 760 D. 800

10.

10 dk. : 600 sn.

4 sa. : 240 dk.

3 yıl : 34 ay

4 ay : 120 gün

2400 sn: 40 dk.

Yukarıdaki dönüşümlerden kaç tanesinde hata yapılmıştır?

A. 1 B. 2

C. 3 D. 4

11.



Yukarıdaki araç her yıl 3 ayda bir sefere çıkmaktadır. Bu araç 5 yılda kaç kere sefere çıkar?

A. 12 B. 15

C. 18 D. 20

$$12 \div 3 = 4$$

$$4 \times 5 = 20$$

12.

1995

1996

2008

2011

2016

2018

2020

2022

29 Şubat'ta yurt dışına giden Engin, her 29 Şubat'ta ülkesini ziyaret etmektedir. Engin, yukarıdaki yıllardan kaçında ülkesini ziyaret etmiştir?

A. 3





B. 4

C. 5

D. 6

Artık yıl
4 ile kalansa bölünmez

13. Aşağıdaki maddelerden hangisi karışımdır?

- A.  demir
- B.  içme suyu
- C.  tuz
- D.  şeker

14.



I - Karışımlar iki veya daha fazla maddenin bir araya gelmesi ile oluşur. II - Karışımları oluşturan maddeler kendi özelliklerini kaybetmezler. III - Karışımları oluşturan maddeler çeşitli yöntemlerle birbirinden ayrılabilir. IV - Gümüş karışımlara örnek olarak verilebilir.

Yukarıdaki çocuğun verdiği bilgilerden hangisi yanlıştır?

- A. I
- B. II
- C. III
- D. IV

15. Aşağıdaki ifadelerden hangisi yanlıştır?

- A. Karışımları oluşturan maddelerin tamamı kendi özelliğini kaybeder.
- B. Karbondiyoksit saf maddeye örnek olarak verilebilir.
- C. Ekmek ve bal karışımlara örnek olarak verilebilir.
- D. Karışımlar iki veya daha fazla maddenin biraraya gelmesiyle oluşur.

16.

makarna - su	saman - buğday
demir tozu - kum	süt tozu - su
pirinç - nohut	tuz - çakıl

Yukarıda verilen karışımlardan kaç tanesi miktarla ayırma yöntemi ile birbirinden ayrılabilir?

- A. 1
- B. 2
- C. 3
- D. 4

17.

iletişim	sağlık	temizlik
----------	--------	----------

Aşağıdaki teknolojik ürünlerden hangisi yukarıda verilen alanlardan biriyle ilgili değildir?

- A. 
- B. 
- C. 
- D. 

18. Aşağıdaki ifadelerden hangisi yanlıştır?

- A. Steteskop sağlık alanında kullanılan bir teknolojik alettir. ✓
- B. Carl Benz otomobili icat etmiştir. ✓
- C. El Cezeri teleskopu icat etmiştir. ✓
- D. Teknolojik aletler zaman içinde gelişim gösterir. ✓

19.



Tatilde memlekete gitmek için biletimi elektronik ortamda aldım. Halamları arayıp geleceğimi haber ettim. Biletimin günü geldiğinde havaalanına gidip memlekete kısa sürede vardım.

Hasan yukarıda anlattığı metinde aşağıdaki teknolojik aletlerden hangisini kullanmamıştır?

A.



B.



C.



D.



20. Aşağıdaki ifadelerden hangisi yanlıştır?

- A. Her teknolojik ürünün mucidi bellidir. ✗
- B. Teknolojik ürünler zaman için değişmiş ve gelişmiştir. ✓
- C. Bazı teknolojik ürünler birden fazla alanda da kullanılabilir. ✓
- D. Teknolojik ürünlerin kullanımındaki amaç hayatımızı kolaylaştırmaktır. ✓

ADI :

SOYADI :

SINIFI :

PUANI :

1	A	B	C	D
2	A	B	C	D
3	A	B	C	D
4	A	B	C	D
5	A	B	C	D
6	A	B	C	D
7	A	B	C	D
8	A	B	C	D
9	A	B	C	D
10	A	B	C	D
11	A	B	C	D
12	A	B	C	D
13	A	B	C	D
14	A	B	C	D
15	A	B	C	D
16	A	B	C	D
17	A	B	C	D
18	A	B	C	D
19	A	B	C	D
20	A	B	C	D