

1.



Busé'nin bir deste boya kalemi vardır. Ablası 22 kalem daha verdiği için Busé'nin toplam kaç kalemi olur?



Çözüm:

2. Bir bahçıvan bahçesine 28 lavanta, lavantalardan 45 fazla lale dikmiştir. Bahçedeki çiçeklerin toplam sayısı kaçtır?



Çözüm:

3. Suat 9 yaşındadır. Suat doğduğunda annesi 23 yaşında olduğuna göre annesi ve Suat'ın şimdiki yaşları toplamı kaçtır?



Çözüm:

4.



Öykü kitabımın 1. gün 23 sayfasını, 2. gün 1. günden 39 sayfa fazlasını okudum. 2 günde kaç sayfa kitap okudum?



Çözüm:

5. Rakamları farklı iki basamaklı en küçük doğal sayı ile onlar basamağı 5 olan en büyük iki basamaklı doğal sayının toplamı kaçtır?




Çözüm:

6.




Bir çiftlikteki tavuklardan birinci gün 24, ikinci gün 36 yumurta alınıyor. Bu yumurtaların 9 tanesi satıldığına göre kalan yumurta sayısı kaçtır?




7.




Bir okul gezisine katılan kız öğrencilerin sayısı 62'dir. Erkek öğrencilerin sayısı kız öğrencilerin sayısından 37 eksik olduğuna göre geziye toplam kaç öğrenci katılmıştır?



8.



İlker 59 metre daha yürürse okula varmış olacaktır. Buna göre İlker yolun kaç metresini yürümüştür?



sonerhoca.net 9.




36 TL




?

Ayakkabının fiyatı kazığın fiyatından 9 lira fazladır. Buna göre 1 adet ayakkabı ve 1 adet kazak alan biri 90 lira öderse kaç lira para üstü alır?




10. 3 doğal sayının toplamı 96'dır. Sayılardan ilki 43, ikincisi ilk sayıdan 15 eksik ise 3. sayı kaçtır?




11.




Bir otoparkta 10 tane araba vardır. Arabaların tekerlek sayıları toplamı kaçtır?

 Cözüm:

13.




8 TL




7 TL

Berk 1 kalemlik ve 3 defter almıştır. Buna göre Berk kalemlik ve defterler için kaç TL ödemiştir?


 Cözüm:

sonerhoca.net


14. Bir satıcı 21 yumurtanın bir düzine kadarını kırmıştır. Geriye kalan yumurtaların da tanesini 2 liraya satmıştır. Buna göre satıcı kaç lira kazanmıştır?

 Cözüm:

12. 4 katlı bir apartmanın her katında 5 daire vardır. Dairelerin 11 tanesi satıldığına göre satılmayan kaç daire kalmıştır?

 Cözüm:

15. Tanesi 2 lira olan çikolatadan 4 tane, tanesi 3 lira olan sakızdan 5 tane alan biri kaç lira öder?

 Cözüm: