




Zeynep, iki kız arkadaşıyla birlikte lunaparka gitti. Çarpışan arabaya, dönme dolaba, atlı karıncaya ve daha birçok şeye binmek istiyordu. Tabii önce jeton almalıydı. Lunaparktaki tüm oyuncaklar jetonla çalışıyordu. Fakat tüm oyuncaklara binecek kadar jeton alamazdı. Çünkü o kadar parası yoktu. Sadece dönme dolap ile çarpışan arabaya bindi.

1. ve 2. soruları yukarıdaki metne göre cevaplayalım.

1. Zeynep aşağıdakilerden hangisine binmemiştir?

- A. Dönme dolap ✓  
 B. Çarpışan araba ✓  
 C. Atlı karınca

2. Aşağıdakilerden hangisi metinde bahsedilen çocuklar olabilir?

- A. 
- B. 
- C. 

3. Sibel Öğretmen, Zehra'dan alfabemizin 7. harfiyle başlayan hayvan adı söylemesini istedi.

Yukarıdaki ifadeye göre Zehra aşağıdaki sözcüklerden hangisini söylemelidir?

- A. Eşek (B) Fare C. Goril  
 a - b - c - ç - d - e - (f)  
 7. harf

4. Yandaki görselin hecelerine doğru ayrılışı hangi seçenekte verilmiştir?



- (A) Ka-rın-ca  
 B. Kar-ın-ca  
 C. Ka-rı-n-ca

karınca  
 ↓  
 ka-rın-ca

5. 

<del>Gazel</del>	Eski	<del>Çirkin</del>	Sağlam
------------------	------	-------------------	--------

Birbiriyle zıt anlamlı olan sözcükler boyanırsa şeklin son görüntüsü nasıl olur?

- (A) 

--	--	--	--
- B. 

--	--	--	--
- C. 

--	--	--	--



6. 1 oyuncuğı 3 annem  
2 sakladı 4 dolaba

Yukarıdaki cümlelerle anlamlı ve kurallı bir cümle oluşturmak istersek sıralama nasıl olmalıdır?

- A. 1234 **B. 3142**

- C. 1324

Annem oyuncuğı, dolaba sakladı.  
 3 - 1 - 4 - 2

7. 2 lira 8 lira  
 

Sedat 2 tane silgi, 1 tane makas alırsa ne kadar para öder?

- A. 12** B. 10 C. 14

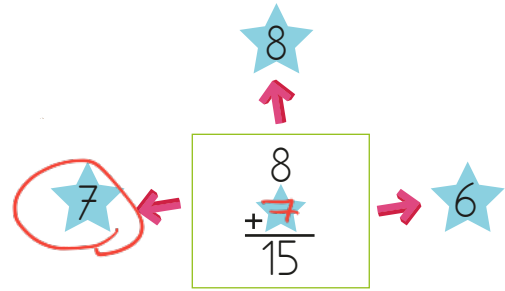
2 silgi  $\Rightarrow 2 + 2 = 4$   $8 + 4 = 12$  lira  
 1 makas  $\Rightarrow 8$

8. Bir çiftlikte 4 at, 5 koyun ve 3 horoz vardır. Bu çiftlikte toplam kaç hayvan vardır?

- A. 10 B. 11 **C. 12**

$$4 + 5 + 3 = 12 //$$

9.



Toplama işleminde verilmeyen toplananın yazdığı yöne gitmek istersek hangi yönü seçeriz?

- A.  $\leftarrow$**  B.  $\uparrow$  C.  $\rightarrow$

$$15 - 8 = 7 //$$

10.



Yukarıda bir resim sergisinde Toli, Aya, Kuka ve Kapi'nin yaptıkları resim sayıları verilmiştir. Toli ve Aya çiçek resmi, Kuka ve Kapi ağaç resmi yapmıştır. Toli ve Aya'nın yaptığı çiçek resimleri toplam 8 tane dir.

$$5 + 4 + 3 + 2 = 14 \quad 14 - 8 = 6 //$$

Buna göre Kuka ve Kapi toplam kaç tane ağaç resmi yapmıştır?

- A. 6**

- A. 7

- A. 8

11. 1-A sınıfındaki 19 öğrencinin 8 tanesi kızdır.  
Buna göre sınıfta kaç erkek öğrenci vardır?

A. 13      B. 9      C. 11  
 $19 - 8 = 11$  erkek

12. Bir bahçeye 4 lale ve biraz da papatya ekilmiştir. Ekilen çiçeklerin toplam sayısı 12 olduğuna göre kaç papatya ekilmiştir?

A. 16      B. 12      C. 8

$12 - 4 = 8$  papatya

13.



Yukarıdaki acil durumda hangisinden yardım istenir?



14. Acil durum numaraları acil çağrı numarası olarak tek numara altında toplanmıştır. Bu numara aşağıdakilerden hangisidir?

A. 110      B. 112      C. 155

15. Okul çıkışında bizi eve götürmek isteyen yabancıya hangisini söylemeliyiz?

A. Hayır, sizinle gelmeyeceğim.  
B. Bana çikolata alırsan gelirim.  
C. Sizi annem mi yolladı?

ADI: .....

SOYADI: .....

SINIFI: .....

PUANI: .....

1	A	B	C
2	A	B	C
3	A	B	C
4	A	B	C
5	A	B	C
6	A	B	C
7	A	B	C
8	A	B	C
9	A	B	C
10	A	B	C
11	A	B	C
12	A	B	C
13	A	B	C
14	A	B	C
15	A	B	C