

Yavru ayı, arkadaşı olmadığı için hem çok sıkılıyor hem de çok üzülüyormuş. Bir gün, üzüntü ile gezerken bir çığlık sesi duymuş. Sesin geldiği yöne gidince yardıma ihtiyacı olan bir sincap görmüş. Sincabı, sıkıştığı kayalığın içinden kolayca kurtarmış. Yardım ettiği için sincapla arkadaş olan yavru ayı, çok mutlu olmuş.



1. ve 2. soruları metne göre cevaplayalım.


1. Yavru ayı neden çok sıkılmış?

- A. Acıktığı için
- B. Arkadaşı olmadığı için
- C. Arkadaşları onunla aynamadığı için

2. Yavru ayı sincapla niçin arkadaş olmuş?

- A. Sincaba yardım ettiği için
- B. Güçlü olduğu için
- C. Üzgün olduğu için

3.



Yukarıdaki görselin adı ile ilgili hangisi söylenemez?


- A. Sözcük 7 harflidir
- B. Sözcüğün ilk harfi alfabenin 24. harfidir
- C. Sözcüğün son harfi alfabenin ilk harfidir

4. Hangi varlığın adı, resmi verilen varlığın adıyla aynı hece sayısına sahip değildir?



- A. 
- B. 
- C. 

5.



Verilen sözcüklerden birbiri ile zıt anlamlı olanların bulunduğu yaprakları koparırsak hangi sözcük kalır?

- A. hediye
- B. güzel
- C. çirkin

6.



oldu

Çakır

hasta

köpeğim

Yukarıdaki sözcüklerle anlamlı ve kurallı bir cümle oluşturduğumuzda üçüncü sözcük hangisi olur?

- A. köpeğim
B. hasta
C. oldu

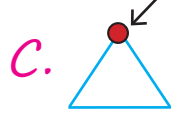
7.



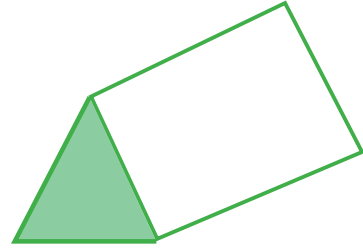
Yukarıdaki saat kaç göstermektedir?

- A. iki buçuk B. üç buçuk
C. dört buçuk

8. Aşağıdakilerden hangisinde üçgenin köşesi doğru olarak gösterilmiştir?



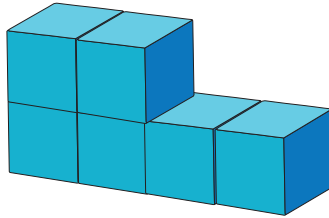
9.



Yukarıdaki geometrik cismin yüzeylerini kullanarak hangisini çizemeyiz?

- A. dikdörtgen
B. üçgen
C. çember

10.



Mert elindeki kutularla yukarıdaki şekli oluşturmuştur. Buna göre Mert'in oluşturduğu şekil ile ilgili hangisi söylenemez?

- A. 6 tane kutu kullanmıştır.
B. Yukarıdan bakıldığında 5 kutu görünür.
C. Kutular küpe benzemektedir.



Yukarıda verilen örüntüde eksik olan şekil hangisidir?

- A.  B.  C. 



Yukarıdaki sayılar bir örüntü oluşturmaktadır. Buna göre soru işareti ile belirtilen yerlere gelmesi gereken sayıların toplamı kaçtır?

- A. 9 B. 8 C. 6

13. Farklı ülkelerden ülkemize gelen, göç etmiş insanlara karşı davranışlardan hangisi yanlıştır?

- A. saygılı B. asabi C. sevecen

14. Ülkemizin başkenti

.....

Yukarıdaki ifadede boş bırakılan yere hangisi yazılmalıdır?

- A. İstanbul'dur B. İzmir'dir
C. Ankara'dır

15. Aşağıdakilerden hangisi bayrağımızın özelliklerinden biri değildir?

- A. Kırmızı ve beyaz renklerden oluşur.
B. Beyaz zemin üzerinde kırmızı renkli ay ve yıldız vardır.
C. Bağımsızlığımızın sembolüdür.

ADI SOYADI :

SINIFI :

PUANI :

1	A	B	C
2	A	B	C
3	A	B	C
4	A	B	C
5	A	B	C
6	A	B	C
7	A	B	C
8	A	B	C
9	A	B	C
10	A	B	C
11	A	B	C
12	A	B	C
13	A	B	C
14	A	B	C
15	A	B	C