

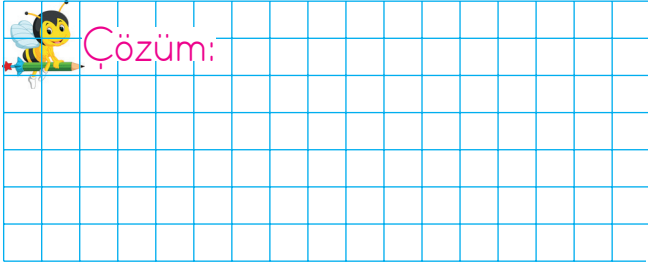




11.




Ali Bey, bahçesine önce 8 elma fidanı dikti. Sonra 9 tane daha elma fidanı dikti. Ali Bey bahçesine kaç elma fidanı dikmiştir?




12.




Bulaşık makinesinde yıkanması için 8 tabak, 6 çatal, 4 kaşık vardır. Çatal ve kaşıkların toplamı, tabaklardan kaç fazladır?



13. Annemden 7 lira, babamdan 8 lira aldım. Kumbaramda da 5 lira vardı. Toplam kaç liram oldu?



14. Bir otobüste 5 yolcu vardır. 1. durakta 5 yolcu binmiştir. 2. durakta 6 yolcu inmiştir. Son durumda otobüste kaç yolcu vardır?



15. Bir buket çiçekte bir miktar gül vardır. Buketteki çiçeklere 5 gül daha eklenince 14 gül oluyor. Bukette ilk başta kaç tane gül vardır?

