

RESİMLİ HİKAYE

Ece Öğretmen, çocuklarla birlikte okulun bahçesine çıktı. Çocuklar çimlere oturdu. Ece Öğretmen de sınıftan getirdiği sandalyeye oturdu. Elindeki kitabın resimlerini çocuklara göstermeye başladı. Her resimde farklı bir hikaye vardı. Çocuklar resimlere bakarken öğretmenlerini can kulağıyla dinliyorlardı. Dinlerken de hayal ediyorlardı.



1, 2 ve 3. soruları metne göre cevaplayalım.

1. Ece Öğretmen ve çocuklar nereye çıktılar?

- A. Okulun bahçesine
- B. Ağacın üstüne
- C. Sandalyeye

2. Çocuklar, öğretmenlerini dinlerken ne yapıyorlardı?

- A. Oyun oynuyorlardı.
- B. Hayal ediyorlardı.
- C. Şarkı söylüyorlardı.

3. Aşağıdakilerden hangisi metinde geçen deyimlerden biridir?

- A. Can kulağıyla dinlemek
- B. Çimlere oturmak
- C. Resimleri göstermek

4. Uzağı göremediği için tiyatroyu yakından izledi.

Zengin insanların, yoksullara yardım etmesi gerekir.

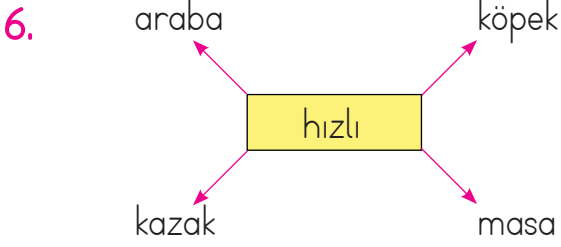
Babam pazardan ucuz meyveler aldı.

Yukarıdaki tabloda zıt anlamlı sözcüklerin birlikte bulunduğu cümleler işaretlenecektir. Tablonun işaretlenmiş hali hangisidir?

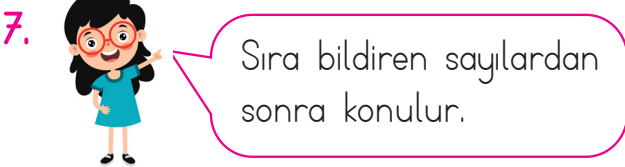
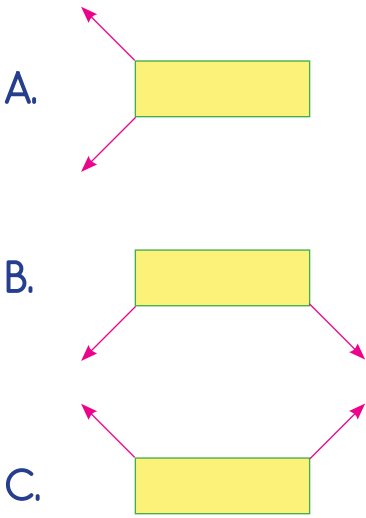
A.	B.	C.
<input checked="" type="checkbox"/>	<input checked="" type="checkbox"/>	<input type="checkbox"/>
<input checked="" type="checkbox"/>	<input type="checkbox"/>	<input checked="" type="checkbox"/>
<input type="checkbox"/>	<input checked="" type="checkbox"/>	<input checked="" type="checkbox"/>

5. Aşağıdaki cümlelerin hangisinde daha fazla noktalama işareti kullanılmalıdır?

- A. Bahçeden portakal topladı
- B. Ahmet Filiz Sibel oyun oynuyor
- C. Arabanın altında kırmızı top var

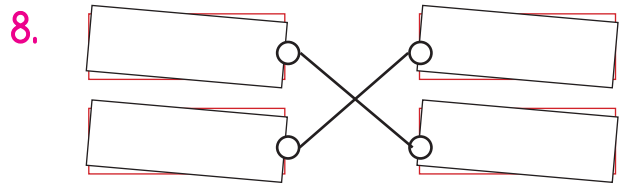


Dikdörtgenin içindeki sözcük oklarla gösterilen bazı varlıkları nitelemektedir. Nitelediği varlıkları gösteren oklar silinirse son görünüşü nasıl olur?



Canan, cümlesinde öğretmenin ifadesine uygun noktalama işareti kullanmıştır. Buna göre aşağıdakilerden hangisi Canan'ın cümlesi olabilir?

- A. 01.01.2010 tarihinde doğdu.
B. Sila yarışmada 8. oldu.
C. Pazardan elma, armut aldı.



Yukarıda iki tekil ad ve iki çoğul ad birbiri ile eşleştirilmiştir. Bu eşleşmeye göre kutuların yazılı hali nasıl olmalıdır?

- A.
- | | |
|--------|--------|
| orman | ayılar |
| arılar | elma |
- B.
- | | |
|-------|----------|
| kazak | çiçekler |
| atlar | masa |
- C.
- | | |
|----------|-----------|
| kitap | ayna |
| perdeler | terlikler |

9. Aşağıdakilerden hangisinin yazımı yanlıştır?

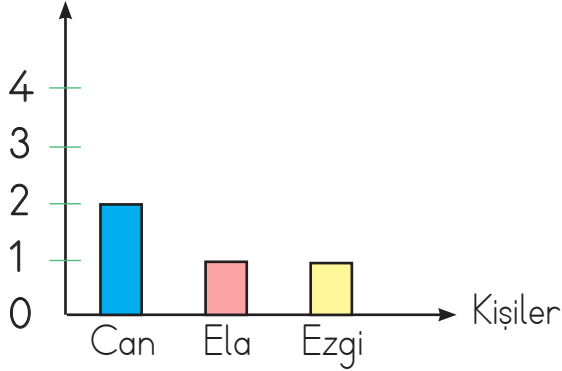
- A.
-
- B.
-
- C.
-

10. Aşağıdaki eş sesli sözcüklerin hangisinin diğerlerinden fazla sayıda anlamı vardır?

- A. kaz
B. bin
C. yüz

11. SORUYA GEL

Yazım Yanlış Sayısı



Yukarıdaki grafikte öğrencilerin yanlış yazdığı kelime sayıları verilmektedir.

- Ela ile Can aynı kelimeyi yanlış yazmıştır.

- Ezgi ile Can farklı kelimeleri yanlış yazmıştır.

Bu grafiğe göre çocukların yazdıkları kelimelerle ilgili aşağıdakilerden hangisi doğrudur?

A.	Can	Ela	Ezgi
	kirbit	kirbit	kibrit
	pırasa	pırasa	prasa
	öylen	öğlen	öğlen

B.	Can	Ela	Ezgi
	kibrit	kirbit	kibrit
	prasa	pırasa	pırasa
	öylen	öğlen	öylen

C.	Can	Ela	Ezgi
	kirbit	kirbit	kibrit
	prasa	pırasa	prasa
	öğlen	öğlen	öğlen

12. Aşağıdaki cümlelerden hangisi hayal ürünü değildir?

- A. Güneşin gülümsemesi içimi ısıttı.
- B. Sürahi, bardağa seslendi.
- C. Bizim tavuk yumurtlamadı.

13. ● Gözleri iyi görmüyor
● Bahçeyi kim temizledi

Yukarıdaki cümlelerin anlamına göre özellikleri hangi seçenekte verilmiştir?

- A. Olumlu - Olumsuz
- B. Olumlu - Soru
- C. Olumsuz - Soru

14.



Yukarıdaki ikililerden kaç tanesi eş anlamlıdır?

- A. 1
- B. 2
- C. 3

15. Aşağıdaki cümlelerden hangisi devrik bir cümledir?

- A. Yağmurdan sonra gökkuşağı çıktı.
- B. Parkta onu kimse görmedi.
- C. Vazoya koydu çiçekleri.

1. Yandaki bölme işleminde bölüm ile kalanın toplamı kaçtır?

$$\begin{array}{r} 73 \overline{) 5} \\ \hline \end{array}$$

- A. 14 B. 17 C. 21

2. 

Bölünen:

Bölen: 5

Bölüm: 8

Kalan: 4

Yukarıdaki bölme işleminde bölünen yerine aşağıdaki sayılardan hangisi yazılmalıdır?

- A. 44 B. 40 C. 36




3.

$$\begin{array}{l} 27 \div 3 = \bullet \\ \bullet \times 6 = \blacksquare \\ \blacksquare \div 2 = ? \end{array}$$




Yukarıdaki işlemde "?" yerine hangisi gelmelidir?

- A. 27 B. 18 C. 12




4.

		Bölen
	÷	5
Bölünen	40	
	30	
	5	

Yukarıdaki tabloya göre sembollerle ilgili verilen bilgilerden hangisi yanlıştır?

- A.  en büyük çift rakamdır.
 B.  en küçük rakamdır.
 C.  "VI" rakamına eşittir.

5. SORUYA GEL

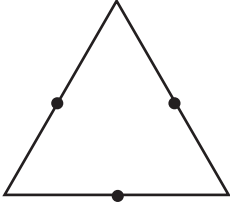
-  Kral Tomi'nin Maceraları
(7 yaş ve üzeri için uygundur.)
 Mucitler İş Başında
(13 yaş ve üzeri için uygundur.)
 Gökyüzü Neden Mavi?
(15 yaş ve üzeri için uygundur.)

Yukarıda izleyici kitleleri için yaş sınırlamaları verilmiştir.

Ebrar'ın yaşı babasının yaşının çeyreğinin 4 fazlasıdır. Babası 32 yaşındadır. Buna göre Ebrar yukarıdaki filmlerden hangisini izleyebilir?

- A. Kral Tomi'nin Maceraları
 B. Mucitler İş Başında
 C. Gökyüzü Neden Mavi?

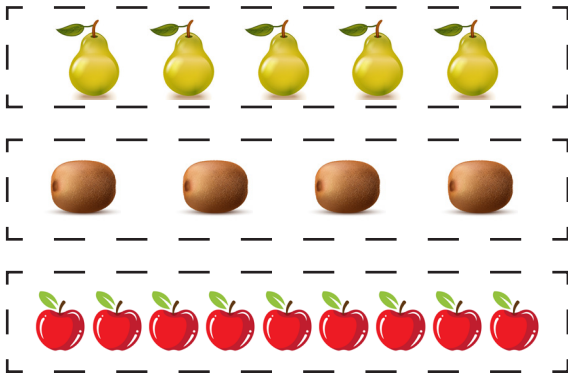
6.



Kemal, yukarıdaki şekilde verilen noktaları birleştirdikten sonra oluşan yeni şekilde sadece bir parçayı boyuyor. Kemal'in boyadığı parçanın kesir değeri kaçtır?

- A. $\frac{1}{3}$ B. $\frac{1}{4}$ C. $\frac{1}{5}$

7. ESER'İN EVE GÖTÜRÜMÜŞ OLABİLECEĞİ MEYVELER



Elindeki 12 meyvenin $\frac{1}{4}$ 'ini komşusuna veren Eser, geriye kalan meyveleri eve götürmüştür. Eser hangi meyveleri evine götürmüştür?

- A. B. C.

8. Paydası, payının iki katı olan kesir hangisini ifade eder?

- A. Bütün
B. Yarım
C. Çeyrek

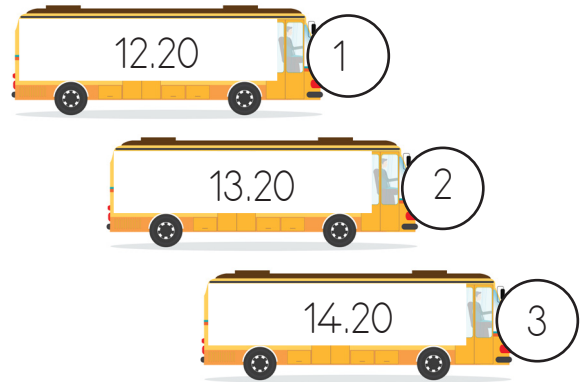
9.

3 dakika 27 saniye

Yukarıdaki süre hangi seçenekteki süreye eşittir?

- A. 207 saniye
B. 197 saniye
C. 187 saniye

10. SORUYA GEL



Otobüslerin üzerinde, duraklardan kalkış saatleri yazmaktadır.

Saat 11.10'da kahvaltı masasına oturan Selda'nın kahvaltısı 30 dakika sürmüştür. Kahvaltıdan kalkar kalkmaz hazırlanan Selda 45 dakika sonra evden çıkmıştır ve 20 dakika boyunca durağa yürümüştür.

Selda kaç numaralı otobüse binerse durakta daha az beklemiş olur?

- A. 3 B. 2 C. 1

11. SORUYA GEL

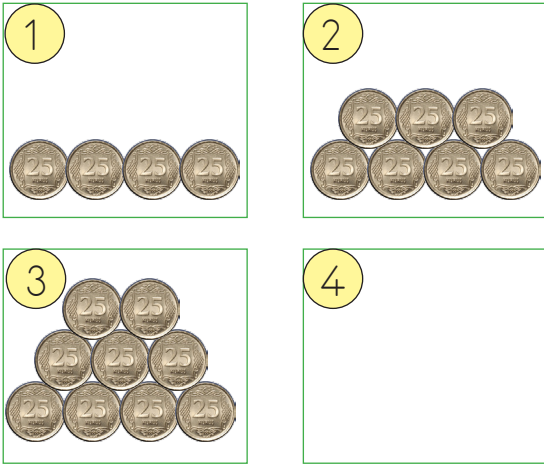
Yandaki iki mum kesintisiz yakıldıklarında 15 saatte erimektedir. 1. mum yakıldıktan 7 saat sonra 2. mum yakılmıştır.



Yukarıdaki bilgilere göre ilk mum yakıldıktan kaç saat sonra iki mum da tamamen erimiş olur?

- A. 8 B. 15 C. 22


12.



Yukarıda 25 kuruşlarla oluşturulan örüntüde 4 numaralı kutuya toplam ne kadar para konulmalıdır?

- A. 4 lira 50 kuruş
B. 3 lira 25 kuruş
C. 2 lira 50 kuruş


13.



Yukarıdaki kuklayı alan Melisa, satıcıya 3 tane 5 lira, 2 tane 10 lira vermiştir. Ne kadar para üstü alır?

- A. 3 TL B. 5 TL C. 8 TL

14.



Dilek, 3 dondurma, 2 çikolata ve 4 dilim pasta almıştır. Tüm aldıklarına toplam ne kadar öder?

- A. 15 lira 25 kuruş
B. 17 lira 50 kuruş
C. 19 lira 75 kuruş

15. 5 tanesi 20 lira olan bisküvilerden 8 tane alan Arda kaç lira öder?


- A. 16 TL B. 25 TL C. 32 TL

1. Cisim yeterli ışık alıyorsa net olarak görülür.

Aşağıdaki durumlardan hangisi yukarıdaki ifadeye örnektir?

- A. Gündüz ağacın dibindeki köpeğin görünmesi
 B. Ay ışığında gökyüzünde uçan kuşların türünün görünmesi
 C. Mum ışığında okunan kitaptaki yazıların görünmesi

2.



Esmâ, kaç numaralı uçağın sesini daha az duyar?


- A. 1 B. 2 C. 3

3. Arkadaşım ile kamp yapıyorduk. Yanımıza aydınlatacak herhangi bir alet almamıştık. Etraf çok karanlıktı. Birden bize doğru yaklaşan bir ışık fark ettik. Bunlar ateş böcekleriydi. Bize yardım gelmişlerdi. Gece boyu yanımızda durdular. Neyse ki sabah olmuştu. Güneş her yeri aydınlatmıştı.

Yukarıdaki metinde geçen ışık kaynaklarının ortak özellikleri nelerdir?

- A. Işık kaynağı olmaması
 B. Yapay olması
 C. Doğal olması

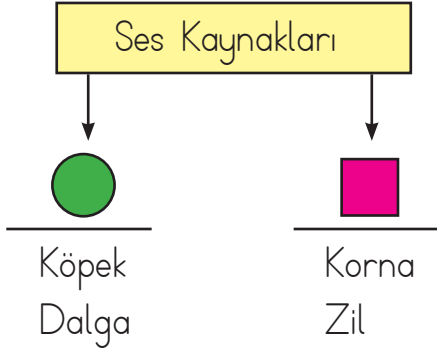
4. Aşağıdaki görsellerden hangisinin ses şiddeti diğerlerinden daha düşüktür?





5. Aşağıdakilerden hangisi, işitme kaybı olanların daha iyi duyabilmesini sağlar?

- A. Kulaklık
 B. İşitme cihazı
 C. Radyo

6.



Yukarıdaki sembollerin yerine hangi sözcükler yazılmalıdır?

- | | |
|---|---|
|  |  |
| A. Doğal | Yapay |
| B. Doğal | Doğal |
| C. Yapay | Doğal |

7. Aynı ses kaynağına farklı mesafelerde duran Sibel, Ela, Filiz'den sesin şiddeti hakkında derecelendirme yapmaları isteniyor.

- | | | |
|-------|---|----------------|
| ★ ☆ ☆ | → | Şiddeti az |
| ★ ★ ☆ | → | Şiddeti normal |
| ★ ★ ★ | → | Şiddeti çok |

Sibel 	Ela 	Filiz 
--	--	--

Yukarıda kişilerin ses şiddeti hakkındaki derecelendirmeleri verilmiştir. Buna göre kim ses kaynağına daha yakındır?

- A. Sibel B. Ela C. Filiz

8. → Beslenmeleri
→ Hareket etmeleri
→ Oyun oynamaları
→ Konuşmaları

Yukarıdakilerden kaç tanesi canlıların ortak özelliğidir?

- A. 2 B. 3 C. 4




9.



Aşağıdakilerden hangisi yukarıdaki varlıklar için söylenebilir?

- A. Cansız varlıklardır.
B. Canlı varlıklardır.
C. Biri canlı biri cansız varlıktır.

10. Aşağıdaki varlıklardan hangisi etki olmadan kendi başına hareket edebilir?

- A. 
- B. 
- C. 

1.



Görselle ilgili aşağıdaki ifadelerden hangisi doğrudur?

- A. Akrobatik hareketler yapması güvenlidir.
- B. Güvenli bir şekilde kullanmaktadır.
- C. Kask ve dizlik takmaması yaralanmasına yol açabilir.

2.



Parkta oynarken tanımadığım bir adam, babamın arkadaşı olduğunu söyledi ve onunla gitmemi istedi.

Buna göre Selin'in aşağıdakilerden hangisini yapması gerekir?

- A. Adam nereye isterse onunla gitmelidir.
- B. Adamla iyi anlaşarak isteklerini kabul etmelidir.
- C. Adamın yanından uzaklaşmalı, gerekirse bağırarak yardım istemelidir.

3. Aşağıdakilerden hangisi doğal afetlerden biri değildir?

- A. Trafik kazası
- B. Heyelan
- C. Deprem

4.



Yukarıdaki levhayı gören bir sürücü ne yapmalıdır?

- A. Hızlanmalıdır.
- B. Yavaşlamalıdır.
- C. Dikkate almamalıdır.

5. Yolda araçla ilerlerken Erhan, babasına "Baba, bu kaygan zemin levhası değil mi?" diye sormuş. Babası da Erhan'ı onaylamış.


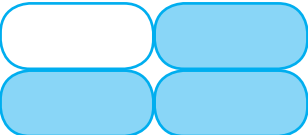

Erhan hangi levhayı görmüştür?



6. Acil Yardım - 112	Orman Yangını - 177
AFAD - 122	Polis İmdat - 156

Ecem, yukarıdaki tabloda acil telefon numaralarının doğru verildiği kutuları boyayacaktır.

Buna göre tablonun son görünümü hangisi gibi olmalıdır?

- A. 
- B. 
- C. 

7. Aşağıdaki davranışlardan hangisi trafik kazalarına neden olabilir?

- A. Araçların arasından hızlıca yolun karşısına geçmeye çalışmak.
- B. Trafik polisinin olduğu yerde onun işaretlerine uymak.
- C. Yolun karşısına geçerken üst geçidi kullanmak.

8. Gizem, deprem olduğu sırada merdivenlerden koşarak aşağı inmeye çalışmış. Merdivenler yıkılmış ve Gizem yaralanmış.

Gizem'in yaptığı hataya neden olan duygu aşağıdakilerden hangisidir?

- A. Mutluluk
- B. Panik
- C. Üzüntü

9. 1. Bisiklete binerken kask takmamız gerekli midir?
2. Parkta salıncak için sıra beklememize gerek var mı?
3. Tanımadığımız kişilerin tekliflerini kabul etmeli miyiz?

Yukarıdaki sorulardan hangisine "HAYIR" diye cevap vermeliyiz?

- A. 1 B. 2 C. 3

10. Oyun sırasında arkadaşlarımız yaralanırsa ne yapmalıyız?

- A. Oyuna devam etmeliyiz.
- B. Büyüklerimize haber vermeliyiz.
- C. Oradan hızlıca uzaklaşmalıyız.

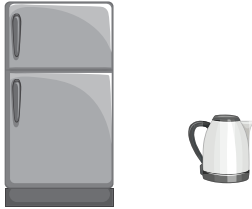
1.



Cümlenin devamı için hangi kelime uygundur?

- A. Playroom
- B. Bathroom
- C. Living room

2.

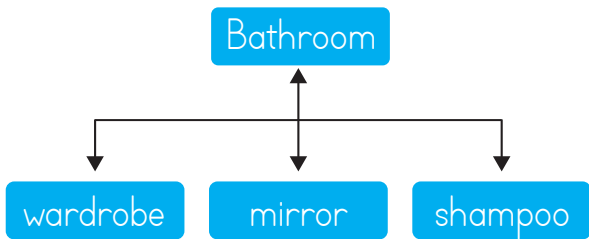


This fridge is ,
but the kettle is

Cümledeki boşluklara hangi seçenek uygundur?

- A. big / small
- B. small / big
- C. small / small

3.



Aşağıdaki eşleştirmede hangi kelime hatalıdır?

- A. shampoo
- B. mirror
- C. wardrobe

4.



I have got a
and a

Bırakılan boşluklara hangi kelimeler gelmelidir?

- A. ball / button
- B. button / ball
- C. teddy bear / ball

5.



Resme göre boş bırakılan yere hangi kelime gelmelidir?

- A. teddy bear
- B. car
- C. kite