

1. Çöller kurak bölgelerdir. Burada neredeyse hiç yağmur yağmaz. Buralarda şiddetli rüzgarların oluşturduğu kum tepeleri bulunmaktadır. Bu kum tepeleri 100-200 metreyi ancak bulur. Çöller bazen çok sıcak bazen de tam aksine çok soğuk olabilir.

Yukarıdaki metne göre aşağıdakilerden hangisini söyleyemeyiz?

- A. Çöllerde kum tepeleri bulunmaktadır.  
 B. Çöller bazen çok sıcak bazen de tam aksine çok soğuk olabilir.  
 C. Çöllerde bulunan kum tepeleri 100-200 metre yüksekliğinden fazladır.

2. - Sıralı cümleleri birbirinden ayırmak için kullanılır.  
 - Kendisinden sonra örnek verilecek veya açıklama yapılacak cümlelerin sonuna konur.

Yukarıdaki sırasıyla bahsedilen noktalama işaretleri hangi seçenekte verilmiştir?

- A. virgül, nokta  
 B. virgül, iki nokta üst üste  
 C. nokta, ünlem işareti

3.  Azra'lar mersine bizimle birlikte gelecek.  
 Sinan'ın arkadaşları futbol maçına gelecek mi?  
 İzmir'i gezeceğim için çok heyecanlıyım.

Cümlelerde yapılan yazım yanlışlarının sayıları dairelere yazılacaktır.

Son görünüm nasıl olur?

- A.  1  
 0  
 2
- B.  1  
 1  
 1
- C.  2  
 0  
 1

www.soruyogel.com

4. (1)Bilge, yola çıkmak için eşyalarını hazırladı. (2)Gideceği yer çok uzaktı. (3)Arabasını çalıştırdı ve eşyalarını arabasına attı. (4)Yolda acıkacağından yanına da sandviç ve atıştırmalık bir şeyler aldı.

Metinde numaralandırılmış cümlelerin hangisinde "Neden?" sorusunun cevabı vardır?

- A. 1 - 3    B. 1 - 4    C. 2 - 3

5. Çağlar, evinde güzelce dinleniyordu. Odaya aniden küçük kardeşi girdi. Onunla oyun oynamak istiyordu. Çağlar ise çok isteksizdi. Çünkü yorgunluktan başını kaldıramıyordu.

Bu metinde yukarıdaki hangi unsurdan bahsedilmemiştir?

- A. Zaman    B. Yer    C. Olay

6. Aşağıdaki sözcüklerden hangisinin eş anlamlısının sestesi yoktur?

- A. rüya  
B. siyah  
C. konut

7. ● = 270 g



Yukarıda verilen bilgilere göre "▲" ile gösterilen şeklin ağırlığı kaç gramdır?

- A. 110 B. 150 C. 210

8.



Yukarıdaki tartma araçlarının eşiti hangi seçenekte doğru verilmiştir?


- A. 2 kg 450 g  
B. 2 kg 350 g  
C. 2 kg 550 g

9. İrem Hanım, malzeme listesine uygun şekilde malzemeleri bir kaba koyarak tartıyor. Tartım sonucu 945 gram geliyor. 1 adet muz 150 g olduğuna göre kap kaç gramdır?

Atom Malzeme Listesi	
2	muz
100 g	badem
75 g	kaju
50 g	fıstık
115 g	bal
185 g	süt
65 g	findık

- A. 55 B. 60 C. 65

10.



Yukarıda verilen terazideki armutların bir tanesi 300 gramdır.

Buna göre terazinin dengede olması için diğer kefesine hangi ağırlıklar gelmelidir?

- A. 500g B. 1kg 500g C. 500g 250g

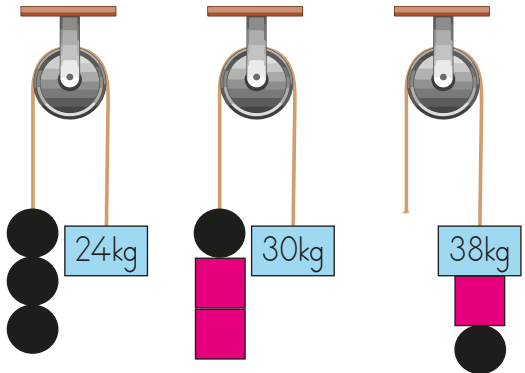
11. Yandaki makaralar dengededir. Deniz 3 numaralı makaranın boşta kalan ipine aşağıdakilerden hangilerini takarsa taktığı ağırlık aşağıya doğru iner?

- I. ● ■■■■  
II. ●●● ■■■■  
III. ■■■■ ●●

A. I ve II

B. I ve III


C. II ve III



12. 4 kilosu 16 lira olan domateslerden 7 kilo alan Semih kaç lira para öder?

- A. 28 TL B. 24 TL C. 20 TL

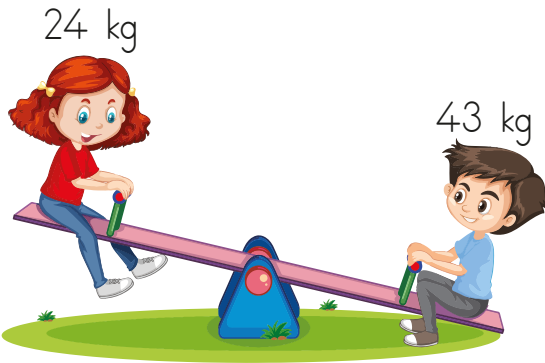
13.





Terazinin dengede olabilmesi için aşağıdakilerden hangisinin yapılması gerekir?

- A. 2 tane elma çıkarılmalıdır.  
B. 1 tane elma eklenmelidir.  
C. 1 tane elma çıkarılmalıdır.

14.



Deniz ile tahterevalliye binen Ece'nin dengeyi sağlayabilmesi için hangi arkadaşını yanına oturtması gerekir?

- A.  36 kg  
B.  19 kg  
C.  67 kg

15.

Hayvanat bahçesine gideceğimiz için çok heyecanlıydım. Arabamıza atladık ve yola koyulduk. Giderken ormanlar, göller hatta akarsular bile gördük. Gördüğümüz her yerin fotoğrafını çektik. Hayvanat bahçesinde birçok hayvan türü gördük.

Yukarıdaki metinde kaç tane doğal çevreden bahsedilmiştir?

- A. 2 B. 3 C. 4

16. Aşağıdakilerde hangisi doğal çevrenin özelliklerinden biri değildir?

- A. Oluşumları için uzun zaman gerekir.  
B. Canlı ve cansız varlıklar bir arada bulunurlar.  
C. Oluşumunda insan etkisi vardır.

17.



Yukarıdaki görsellerden kaç tanesi doğal çevreye örnektir?

- A. 2 B. 3 C. 4

18. - Ülkemizin yönetim şekli cumhuriyettir.  
- İlk cumhurbaşkanımız Atatürk'tür.  
- Halk yönetimde söz sahibidir.  
- Yöneticiler seçimle göreve gelir.

Yukarıdakilerden kaç tanesi doğrudur?

- A.2 B.3 C.4

19. Seçimle iş başına gelen yerel yöneticilerdir. İl ve ilçede halkın ihtiyaçları onun tarafından giderilmeye çalışılır. Genel olarak temizlik, yol, su gibi halkın ihtiyacı olan durumlara çözüm bulur.

Yukarıda bahsedilen yönetici kimdir?

- A. Kaymakam  
B. Vali  
C. Belediye Başkanı

20. Sahra Malatya'da yaşamaktadır. Sahra'nın yaşadığı ilde yöneticilerden hangisinin sayısı daha fazladır?

- A. Vali  
B. Muhtar  
C. Kaymakam

ADI: .....

SOYADI: .....

SINIFI: .....

PUANI: .....

1	A	B	C
2	A	B	C
3	A	B	C
4	A	B	C
5	A	B	C
6	A	B	C
7	A	B	C
8	A	B	C
9	A	B	C
10	A	B	C
11	A	B	C
12	A	B	C
13	A	B	C
14	A	B	C
15	A	B	C
16	A	B	C
17	A	B	C
18	A	B	C
19	A	B	C
20	A	B	C