

1. Doğa, biz doğaya nasıl davranırsak doğa bize o şekilde davranır. Doğayı koruduğumuz, onu kirletmediğimiz zaman doğanın topluma sağladığı yarar artar. Hem ekonomik yönden hem sağlık yönünden hem de sosyal imkanlarla toplumumuzu daha yaşanabilir hale getirir. Örneğin; doğanın korunduğu alanlarda tarıma elverişli alanlar fazladır, insanların hava kirliliğinden ve çevre kirliliğinden yaşadıkları sağlık problemleri en aza iner, doğası temiz alanlara gelen turist sayısı belirgin bir şekilde artar. Bu yüzden toplumlar doğayı koruma konusunda daha dikkatli davranmalıdır.

1. Metne göre aşağıdaki yorumlardan hangisi yapılamaz?

- A. Doğanın korunduğu alanlarda tarıma elverişli alanlar daha fazla olur.
- B. Doğayı koruma konusunda dikkatli davranmak gerekir.
- C. Doğayı korumak canlı çeşitliliğini artırır.
- D. Doğayı koruyan toplumlarda sağlık problemleri daha az görülür.

2.

.....
Dünya üzerinde yaşayan canlı çeşidi çok fazladır. Bazı bölgelerde hala yeni canlı türlerine rastlanmakta, bu canlıların özellikleri bilim insanları tarafından araştırılmaktadır. Her canlı türünün ekosistemine sağladığı faydalar vardır. Bu yüzden canlı türlerinin neslinin devam etmesi çok büyük önem arz etmektedir.

Yukarıdaki paragrafa gelebilecek en uygun başlık aşağıdakilerden hangisidir?

- A. Canlı Türleri
- B. Canlıların Hayatı
- C. Yeryüzünün Sulak Alanları
- D. Canlıların Beslenmesi

3. Aşağıdakilerden hangisi bir metnin "giriş" cümlesi olabilir?

- A. Çünkü onun yaptıkları beni çok üzmeğe başlamıştı.
- B. Nihayet bu işi çözmeğe başlamıştı.
- C. Bunun devamında bir daha buraya gelmeyeceğini söyledi.
- D. Sıcaklık ve ısı farklı kavramlar olmakla beraber birbirleriyle ilişkilidir.

4.

Yusuf, mavi gözlü, sarı saçlı, uzun boylu bir çocuktur. Bazı olaylara kısa sürede öfkelenen Yusuf, öfkesini bakışlarıyla belli etmektedir. Arkadaşları Yusuf'un bakışlarından yaşadığı durum karşısında ne kadar öfkelendiğini anlayabildiklerini söylemektedirler. Ancak öfkesi çok kısa sürer ve kin tutmaz. Yusuf, hatalı hareketi olduğu zaman özür dilemekten kaçınmaz.

Aşağıdakilerden hangisi yukarıda bahsedilen kahramanın özelliklerinden bir tanesi değildir?

- A. Kısa sürede öfkelenmesi
- B. Kısa boylu olması
- C. Hatalı olduğu takdirde özür dilemekten kaçınmaması
- D. Öfkelendiği durumlarda bakışlarından öfkelendiğinin anlaşılması

5. Aşağıdaki cümlelerin hangisinde yazım yanlışı yapılmıştır?

- A. Dün gece de eve geç gelmiş.
- B. Kitaptaki etkinlikleri bitireceğini söyledi.
- C. Hasan da birçok çıkartma var.
- D. Ödevini yapmamış ki bizimle gelsin.

6. Hava kararmaya, yağmur yağmaya başlamıştı. Aylin, evine çok uzaktı. Annesinin sözünü dinlemeyip arkadaşlarıyla oyuna daldığı için çok üzgündü. Koşar adımlarla evin yolunu tuttu. Yolda çok korktu ama sağ salim eve varabilmişti. Bundan sonra annesinin sözünü dinleyeceğine söz verdi.

Yukarıdaki paragrafta geçen ana kahramanda hakim olan duygu aşağıdakilerden hangisidir?

- A. pişmanlık
B. sabır
C. özlem
D. istek

7. Şekildeki karınca yemek aramak için gittiği yerin geometrik bir şekil olduğunu görmüştür. Bu geometrik şeklin 4 kenarı vardır ve karşılıklı kenarları birbirine eşittir.



Bu karıncanın yemek aramaya gittiği yer aşağıdaki geometrik şekillerden hangisi olabilir?


- A. kare
B. üçgen
C. dikdörtgen
D. küp

8. Yanda verilen şekil bir dik- E F
dörtgen olduğuna göre
aşağıdakilerden hangisi
yanlıştır? H G

- A. "GHEF" olarak isimlendirilebilir.
B. EF kenarının uzunluğu, HG kenarının uzunluğuna eşittir.
C. "EHFG" olarak isimlendirilebilir.
D. EH kenarının uzunluğu, FG kenarının uzunluğuna eşittir.

9.


senerhoca.net



Yukarıdaki arı geometrik cismin sırasıyla köşelerine konmaktadır. Her konduğu dört köşe geometrik cismin isimlerinden bir tanesidir. Bu arı sırasıyla hangi köşelere konmuş olamaz?

- A. KLMN
B. NKLM
C. LMNK
D. MNLK

10.




Bir koşu yarışması için dikdörtgen şeklinde bir sahanın çevresinde koşarak antrenman yapan Ümit her 50 metreyi 20 saniyede koşarak sahanın çevresini 3000 saniyede tamamlamıştır. Bu sahanın kısa kenarının ölçüsü ile uzun kenarının ölçüsü toplamı kaç metredir?

- A. 350
B. 375
C. 400
D. 425

11. Aşağıdakilerden hangisi kare ile dikdörtgenin ortak özelliklerinden değildir?

- A. Karşılıklı kenarları paraleldir.
- B. Tüm açıları 90 derecedir.
- C. Dört köşesi vardır.
- D. Kenarlarının uzunlukları birbirine eşittir.

12.



Yukarıdaki geometrik şekilde AB kenarının sembolle gösterimi hangi seçenekte doğru olarak verilmiştir?

- A. \overline{AB}
- B. $\overline{\overline{AB}}$
- C. $|ABI|$
- D. $AB \gt$

13. Aşağıdaki ifadelerden hangisi yanlıştır?


- A. Işık olmadan görme olayı gerçekleşemez.
- B. Işık kirliliği bazı canlıların neslinin tükenmesine sebep olabilir.
- C. Işığın az kullanılması da ışık kirliliğine sebep olur.
- D. Sokak aydınlatmalarında ışığın yönü gökyüzüne doğru olmalıdır.

14. Aşağıdakilerden hangisi oyulmuş taş içine, ölmüş hayvan yağları konulması ile yapılan aydınlatma aracıdır?



15.

Evimizdeki odaları aydınlatmak için genellikle 1 numaralı ürünü tercih ediyoruz.



Samet, ev aydınlatmasında kullandıkları aydınlatma teknolojisi ürününü yukarıdaki gibi ifade etmiştir. Samet'in bunu söyleme sebebi aşağıdakilerden hangisi olamaz?

- A. Daha az enerji harcaması
- B. Aydınlatma performansının daha yüksek olması
- C. Daha uzun süreli kullanıma uygun olması
- D. Daha ucuz olması


16.



Selin'in ders çalışırken ortamı aydınlatma şekli ve aydınlatma aracı yukarıda verilmiştir. Buna göre aşağıdakilerden hangisi doğrudur?

- A. Selin, çalışma ortamını doğru aydınlatmıştır.
- B. Aydınlatma aracı, daha kaliteli olmalıdır.
- C. Aydınlatma aracının üstten ışık verecek şekilde ayarlanması gerekmektedir.
- D. Aydınlatma aracının aşağıdan ışık verecek şekilde ayarlanması gerekmektedir.

17. Aşağıdaki mesleklerden hangisi "hizmet" sektörüne yöneliktir?



18.

terzi

aşçı

öğretmen

Aşağıdakilerden hangisi yukarıdaki mesleklerden herhangi biriyle ilişkili değildir?

- A. Güvenliğimizi sağlamak
- B. Restaurantlarda yemekleri yapmak
- C. Hizmet sektöründe yer almak
- D. Kumaşlardan çeşitli giysiler dikişmek

19. Aşağıdaki ifadelerden hangisi yanlıştır?

- A. Sadece para kazanma amaçlı seçilen meslek bireyi mutlu eder.
- B. Meslekler toplumların ihtiyaçlarını karşılamak amacıyla ortaya çıkmıştır.
- C. Bazı meslekler teknolojinin gelişmesiyle daha seyrek yapılmaya başlanmıştır.
- D. Her mesleğin toplumlar için çok büyük önemi vardır.

20. Aşağıdaki ifadelerden hangisi yanlıştır?

- A. İnsanlar doğadan elde ettikleri ham maddeleri bazen direkt kullanırlar.
- B. Dağıtım, meydana getirilen ürün veya hizmetin tüketiciye ulaştırılmasıdır.
- C. Doktorluk üretim sektörüne ait bir meslektir.
- D. Ekonomik faaliyetlerin temeli tüketime dayanır.

ADI :

SOYADI :

SINIFI :

PUANI :

1	A	B	C	D
2	A	B	C	D
3	A	B	C	D
4	A	B	C	D
5	A	B	C	D
6	A	B	C	D
7	A	B	C	D
8	A	B	C	D
9	A	B	C	D
10	A	B	C	D
11	A	B	C	D
12	A	B	C	D
13	A	B	C	D
14	A	B	C	D
15	A	B	C	D
16	A	B	C	D
17	A	B	C	D
18	A	B	C	D
19	A	B	C	D
20	A	B	C	D