

1.

Havai fişekler çevreye zarar vermektedir. Bu durumdan en çok etkilenen hayvanlardan biri de kuşlardır. Çıkan ses kalp krizi geçirmelerine neden olabilmektedir.

Yukarıdaki metne göre aşağıdakilerden hangisi söylenemez?

- A. Havai fişek çevreye zarar vermektedir. ✓
 B. Havai fişekten çıkan ses kuşların kalp krizi geçirmelerine neden olabilmektedir. ✓
 C. Havai fişekten en çok etkilenen kuşlardır. ✓

2.

Bir çiçek ektiğinde toprağa
 Güzel baktığında canlılara
 Anlatmasan da sözcüklerinle
 Bunu her daim anlar doğa

Yukarıdaki şiirin ana duygusu nedir?

- A. Doğa sevgisi ✓
 B. Hayvan sevgisi
 C. Çiçek sevgisi

3.

Ak akçe kara... gün içindir.
 Eski dost düşman... olmaz.

Yukarıda verilen atasözlerinde boş bırakılan yerlere sırasıyla hangi sözcükler getirilmelidir?

- A. beyaz - arkadaş
 B. kara - düşman ✓
 C. güzel - insan

4.


KELİME	EŞ	ZİT
lisan - dil	A	S
dert - tasa	A	A
doğu - batı	L	A
ham - olgun	S	A
kanun - yasa	A	H

Yukarıdaki tabloda verilen sözcüklerin aralarındaki anlam ilişkisine bakılarak karşısındaki harfler işaretlenecektir. İşaretleme sonrası bir şifre çıkacaktır.

Şifre aşağıdakilerden hangisidir?

- A. DENİZ ✓
 B. YELİZ
 C. SALİH

5. Karıncaların yuvalarının ağız kısımlarını güneyi gösterir. Toprakdan tepe yaptıkları kısım ise kuzeyi gösterir. Tabii bu durum kuzey yarım kürede geçerlidir. Bu durumun nedenlerinden biri soğuktan korunmaya çalışmalarıdır.



Yukarıdaki metne göre aşağıdakilerden hangisi söylenebilir?

- A. Karıncaların tamamı kuzeyde yaşar.
 B. Kuzey yarım kürede karıncaların yuvalarının ağız kısımları güneyi gösterir. ✓
 C. Soğuktan korunmak isteyen karıncalar yuvalarının ağızını kapatırlar.

6.

Cumhuriyet caddesi
Kurtuluş Mahallesi
No:11 Daire:3
Bahçelievler/İSTANBUL

Yukarıdaki adreste bir yazım yanlışı yapılmıştır. Bu yazım yanlısını düzeltmek için hangisi yapılmalıdır?

- A. "No" ve "daire" sözcüklerinin ilk harfleri küçük yazılmalıdır.
B. "caddesi" sözcüğünün ilk harfi büyük olmalıdır.
C. "Bahçelievler" sözcüğünün tüm harfleri büyük yazılmalıdır.

7. Sinan 1 mevsimde kaç gün olduğunu bulduktan sonra 2 aydaki toplam gün sayısı ile toplayacaktır. Toplam sonucu kaç gün eder? (1 ay = 30 gün)

- A. 90 B. 120 C. 150
 $90 + 60 = 150$

8. Haziran ayının 8. gününde yola çıkan bir ailenin gideceği yer 1 gün sürmektedir. Aile 14 gün tatil yaptıktan sonra eve dönmüştür. Eve vardıkları tarih hangisidir

- A. 23 Haziran
B. 24 Haziran
C. 25 Haziran
- | | |
|-------------------------------|--------|
| Gidis | Tatil |
| 1 gün | 14 gün |
| Dönüş | |
| 1 gün | |
| Toplam | |
| $14 + 1 + 1 = 16 \text{ gün}$ | |
| 8 Haziran | + 16 |
| 24 Haziran | |

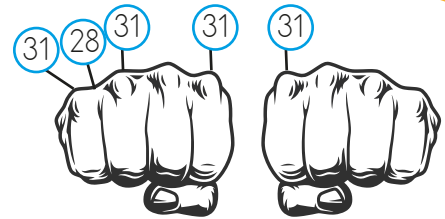
senerhoca.net

9. İbrahim doğa fotoğrafçısıdır. Sabah saat dokuz çeyrek kala fotoğraf çekmeye başlamıştır. Bitkilerin fotoğrafını 145 dakika, hayvanların fotoğrafını 115 dakika çekmiştir. İbrahim'in fotoğraf çekimi saat kaçta bitmiştir?



- A. 13.05
B. 12.50
C. 12.45
- | | |
|-----------------------|--|
| 145 | |
| + 115 | |
| 260 dk → 4 saat 20 dk | |
| 08.45 | |
| + 4.20 | |
| 12.65 → 13.05 | |
| (60 + 5) | |

10. Görseldeki gibi elimizi yumruk yaptığımızda çıkıntılı kısımlar bir ayın 31 gün olduğunu çukurdaki kısımlar ise 30 gün olduğunu göstermektedir. (Şubat ayı 28 gün olarak verilmiştir.) En küçük parmağın çıkıntısından başlayarak aylar sayılmaktadır. Semih ağustos ayının 25'inde kampa gitmiş ve kampta 10 gün kaldıktan sonra eve dönmüştür. Semih eve hangi tarihte dönmüştür?



- A. 3 Eylül
B. 4 Eylül
C. 5 Eylül
- Ağustos 31 gün. O yüzden 25 Eylül'de bitir.*

11. Yemek kursuna giden Yeliz Hanım kursu 4 gün 15 saatte tamamlamıştır. Buna göre Yeliz Hanım kursu kaç saatte tamamlamıştır?

$$\begin{array}{r} 24 \\ \times 4 \\ \hline 96 \end{array}$$

A. 111 saat B. 105 saat C. 60 saat

$$96 + 15 = 111 \text{ saat}$$

12. Yandaki buzlar güneşli ortamda 15 dakikada, kapalı bir odada ise 25 dakikada erimektedir. Dolapta buz dolu 3 kap saklayan Sare bu kaplardan birini güneşli ortamda, diğer ikisini odada bekletmiştir. Kapların içindeki buzlar tamamen erimeden diğer kabı çıkarmamıştır. İlk kabı saat 11.35'te çıkardığına göre son kaptaki buzlar eridiğinde saat kaç olur?



A. 12.40 B. 12.30 C. 12.20

$$\begin{array}{r} 11.35 \\ + 15 \\ \hline 11.50 \end{array}$$

$$\begin{array}{r} 11.50 \\ + 25 \\ \hline 11.35 \end{array}$$

$$\begin{array}{r} 12.15 \\ + 25 \\ \hline 12.40 \end{array}$$

13. Bir musluk bir kovayı 20 saniyede doldurmaktadır. Musluk 3 dakika açık kaldığına göre kaç kova dolmuştur?



$$3 \text{ dakika} \Rightarrow \frac{60}{20} = 3 \text{ kova}$$

A. 9 B. 12 C. 15

$$180 \div 20 = 9 //$$

14. Sibel bir kitabın birinci sayfasındaki her cümleyi 5 saniyede okumaktadır. Sayfadaki toplam cümle sayısı 25 olduğuna göre sayfayı kaç dakika kaç saniyede bitirmiştir?

A. 1 dakika 55 saniye


B. 2 dakika 5 saniye

C. 2 dakika 15 saniye

$$\begin{array}{r} 25 \\ \times 5 \\ \hline 125 \text{ saniye} \end{array}$$

$$\downarrow \\ 2 \text{ dakika } 5 \text{ saniye}$$

15.



Yukarıda fasulyenin yaşam döngüsü verilmiştir. Hangi aşaması ile ilgili hatalı bilgi verilmiştir?

- A. 1 numaralı aşama bitkinin tohum halidir. ✓
- B. 2 numaralı aşama çimlenme aşamasıdır. ✓
- C. 3 numaralı aşamada bitki yeni tohumlar üretir ve ölür. ✗

sonerhoca.net

16. Ayçiçekleri bütün gün Güneşi takip ediyor.

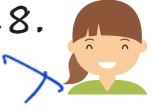
Yukarıdaki ifade hangi canlılık özelliği ile ilgilidir?

- A. Tepki verme
- B. Boşaltım yapma
- C. Beslenme

17. Aşağıdaki ifadelerden hangisi yanlıştır?

- A. Tüm canlılar boşaltım yapar.
- B. Tüm canlılar solunum yapar.
- C. Tüm canlılar yer değiştirme hareketi yapar.

18.



Tanımadığım biri şeker uzattığında alırım.

Tanımadığım biri beni babama götürmek isterse oradan uzaklaşıyorum.



Arkadaşım bana zorbalık uygularsa ben de ona karşılık veririm.

Hangi çocukların davranışları yanlıştır?

A.




B.



C.



19.



Hakan bisiklet sürerken düşüp yaralanmıştır. Yaralanmasının sebebi hangisi olabilir?

- A. Kask ve dizlik takmaması
 B. Bisikletin kırmızı olması
 C. Gözlük takmaması

20. Deprem sırasında hangisini yaparak hayat üçgeni oluşturmalıyız?

- A. kapan, zıpla, eğil
 B. eğil, tutun, kalk
 C. çök, kapan, tutun

ADI:

SOYADI:

SINIFI:

PUANI:

1	A	B	C
2	A	B	C
3	A	B	C
4	A	B	C
5	A	B	C
6	A	B	C
7	A	B	C
8	A	B	C
9	A	B	C
10	A	B	C
11	A	B	C
12	A	B	C
13	A	B	C
14	A	B	C
15	A	B	C
16	A	B	C
17	A	B	C
18	A	B	C
19	A	B	C
20	A	B	C