

1. Depremler, toplumlar için büyük yıkımlara sebebiyet verir. Bu yıkımların önüne geçmek için özellikle deprem riski yüksek olan bölgelerde önlemlerin alınması gerekir. Binaların sağlam zemine ve dayanıklı olarak yapılması önlemlerin başında gelir. Daha sonra deprem konusunda insanları bilinçlendirmek, deprem anında yapılması gerekenleri öğretmek oldukça önemlidir. Bunların yapılması depremlerin yıkıcı etkilerini azaltır.

Metne göre aşağıdaki yorumlardan hangisi yapılamaz?

- A. Depremler toplumlar için sorun oluşturur. ✓  
 B. Depremlerin yıkıcı etkisini azaltmanın herhangi bir yolu yoktur. ✗  
 C. İnsanların bilinçlendirilmesi depremlerin yıkıcı etkisini azaltabilir. ✓  
 D. Deprem riski yüksek olan bölgelerde alınacak önlemler büyük önem taşır. ✓

2. Japon balıkları, dünyada "çinli altın balık" olarak bilinir. Böyle bilinmesinin sebebi ise renklerinin sarı ile turuncu karışımı olmasıdır. Japon balıkları ısı değişimine çok dayanıklıdır. Soğuk suda yaşayabilirler. Ömürleri yaklaşık 5 yıldır. Çoğu zaman akvaryumlarda beslenen japon balıkları kısa sürede kendisini besleyenlerle iyi ilişkiler kurabilmektedir. Bu yönüyle uysal balık türü olarak bilinir. Japon balıklarının saldırgan bir yapısı yoktur.

Yukarıdaki metnin türü aşağıdakilerden hangisidir?

- A. Hikaye edici metin  
 B. Tartışmacı metin  
 C. Bilgilendirici metin  
 D. Şiir

3. Ayşe ve Ahmet bahçede top oynuyorlardı. Öğle saatleriydi fakat hava birden karariverdi. Ardından bardaktan boşalircasına bir yağmur başladı. Çocuklar hemen oyunu bırakarak eve koşular. Çok hızlı koşmalarına rağmen sınısıklam olmuşlardı.

Yukarıdaki metinde, metnin hangi unsurunun altı çizilmemiştir?

- A. Zaman ✓  
 B. Karakterler ✓  
 C. Mekan  
 D. Olay ✓

4. Aşağıdaki sözcük gruplarından hangisinde bulunan "ön ad" varlığı durum yönünden nitelemiştir?

- A. siyah top  
 B. üzgün çocuk  
 C. üç adam  
 D. o araba

5. Bir ülkede bulunan köylerde gerçekleştirilen mesleklerin, o ülkenin insanları için büyük önemi vardır. (I) Köyde yaşayan insanlar genellikle tarım ve hayvancılık ile uğraşırlar. (II) Bu uğraşı sayesinde o ülkede yaşayan insanların gıda ihtiyacı daha kolay karşılanır. (III) Bu karşılanan ihtiyaçlar doğal ve sağlıklı olması yönünden de oldukça önemlidir. (IV) Köy hayatı bazı zamanlar insanlara sıkıcı gelmiştir. (V) Doğal olması sayesinde yetiştirilen ürünlerin besin değerleri yüksektir.

Yukarıdaki paragrafta numaralandırılan cümlelerin hangisi düşüncenin akışını bozmaktadır?

- A. I  
 B. II  
 C. III  
 D. IV

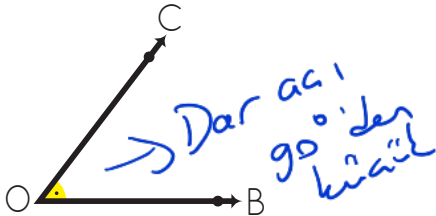
6.

1. Ada, dört tarafı denizle kaplı bir toprak parçasıdır. Adalarda yaşayan insanlar denizle iç içedirler. Bu insanlar genellikle balıkçılıkla uğraşırlar. Temel besin kaynakları ise yine tuttıkları balıklardır.
2. Adalara, ulaşmanın yolu deniz yolu ve hava yoludur. Bazı adalara çeşitli zamanlarda hava şartlarından dolayı ulaşım zorlaşır. Adalarda yaşayan insanlar bu zamanlar için her türlü önlemleri alırlar.

Yukarıdaki metinle ilgili aşağıda söylenenlerden hangisi yanlıştır?

- A. 2 paragraftan oluşmuştur. ✓
- B. Birinci paragraf 3 cümleden oluşmuştur. X
- C. İkinci paragrafta, birinci paragraftan daha az sayıda cümle bulunmaktadır. ✓
- D. Birinci paragrafın ilk cümlesinde tanım yapılmıştır. ✓

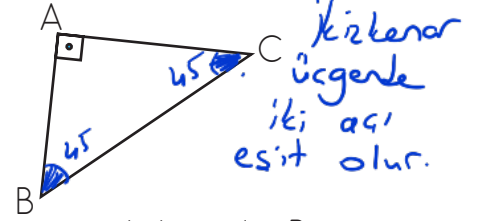
7.



Yukarıdaki şekilde bulunan açının ölçüsü aşağıdakilerden hangisi olabilir?

- A.  $65^\circ$  B.  $90^\circ$  C.  $120^\circ$  D.  $180^\circ$

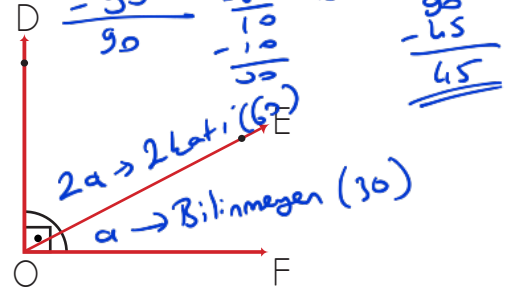
8.



Yukarıdaki üçgen ikizkenardır. Buna göre BCA açısı ile BAC açısının farkı aşağıdakilerden hangisidir?

- A. 15 B. 30 C. 45 D. 60

9.



Yukarıda bulunan DOF açısı dik açıdır. DOE açısı, EOF açısının 2 katıdır. Buna göre EOF açısı kaç derecedir?

- A. 30 B. 60 C. 90 D. 120

$$a + 2a = 90$$

$$3a = 90$$

$$a = \frac{90}{3} = 30$$

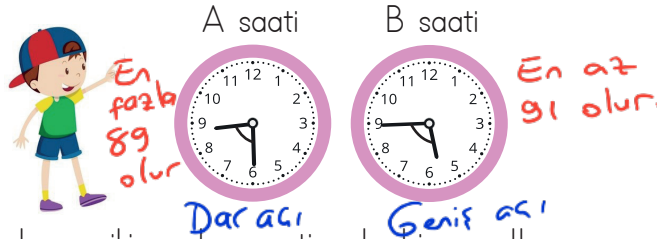
3 tane a  
90 olduğu için  
3'e böldük.

10.

İki açının toplamı 165 derecedir. Bu açılardan büyük olanı dik açı olduğuna göre küçük açı kaç derecedir?

- A. 50 B. 60 C. 65 D. 75

11.

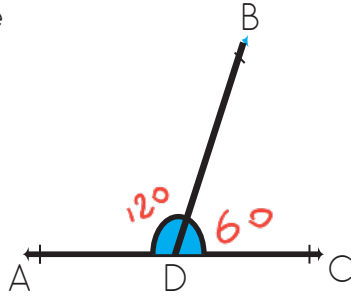


Ali, yukarıda bulunan iki analog saatin akrebi ve yelkovanı arasındaki açıları topluyor. A saatindeki açının en büyük değeri ile B saatindeki açının en küçük değerinin toplamı kaç derecedir?

- A. 90 B. 130 C. 150 D. 180

$$89 + 91 = 180$$

12. Yanda verilen şekilde BDC açısı 60 derecedir. Buna göre ADB açısı dik bir açıdan kaç derece fazladır?



- A. 30 B. 45 C. 55 D. 60





$$\begin{array}{r} 180 \\ - 60 \\ \hline 120 \end{array}$$

$$\begin{array}{r} 120 \\ - 90 \\ \hline 30 \end{array}$$

13. Aşağıdaki ifadelerden hangisi yanlıştır?

- A. Ses bir enerji türüdür. ✓  
 B. Sesleri kaydedebilmek için geçmişten günümüze birçok teknolojik alet geliştirilmiştir. ✓  
 C. Seslerin kaydedilmesini sağlayan ilk araç kasettir. ✗  
 D. Ses kaynağına yaklaştıkça duyduğumuz sesin şiddeti artar. ✓

14. Aşağıdaki teknolojik aletlerden hangisi diğerlerinden daha sonra kullanılmaya başlanmıştır?




- A.  B.   
 C.  D. 

15.  Y Yüksek ses üreten teknolojik aletlerin sadece zararı vardır.  
 Y Ses teknolojisi için geliştirilen aletlerin hiçbiri görüntü kaydedemez.  
 D Sınıfta sunum yaparken sesleri kaydedici aletleri kullanabiliriz.

Yukarıdaki ifadelerden doğru olanlara (D), yanlış olanlara (Y) yazılacaktır. Buna göre şekillerin son görüntüsü aşağıdakilerden hangisidir?

- A.  Y  B.  Y  C.  D  D  
 D  Y  D  Y  
 Y  D  Y  Y

16. Hasan, "Hafta sonu, evimizin önünden geçen sebzeçiji kapılarımız kapalıyken duydum." demiştir. Hasan'ın, bahsettiği sebzeçi aşağıdaki teknolojik aletlerden hangisini kullanmış olabilir?

- A.  B.   
 C.  D.  

17. Ses ilk defa aşağıdaki teknolojik aletlerden hangisine kaydedilmiştir?

- A. Kaset B. Gramafon  
 C. Fonograf D. Radyo

18. Bilinçli bir tüketici aldığı ürünlere ait belgelere dikkat etmelidir.

Hüseyin'in aldığı telefon kısa sürede arızalanmış ve Hüseyin aldığı telefonu çok pahalı bir ücretle tamir ettirmiştir. Arkadaşı, bu durum için Hüseyin'e yukarıdaki cümleyi söylemiştir. Arkadaşının bahsettiği belge aşağıdakilerden hangisi olabilir?

- A. Garanti belgesi       B. TSE damgası  
 C. Üretim belgesi       D. Son kullanma tarihi

19. Aşağıdaki ifadelerden hangisi yanlıştır?

- A. Kaynaklarımızı bilinçli kullanırsak ülke ekonomisine katkı sağlamış oluruz. ✓  
 B. Alışveriş listemize öncelikli olarak ihtiyaçlarımızı yazmalıyız. ✓  
 C. Evlerimizin duvarlarına yalıtım yaptırmak elektrik faturamızı artırır. ✗  
 D. Kağıtları geri dönüşüm kutusuna atmak kesilen ağaç sayısını azaltır. ✓

20. Aşağıdaki ifadelerden hangisi yanlıştır?

- A. Televizyon, bilgisayar gibi teknolojik aletler aynı anda kullanılabilir. ✗  
 B. Yemek yerken tabağımıza yiyebileceğimiz kadar yemek koymalıyız. ✓  
 C. Dişlerimizi fırçalarken veya ellerimizi sabunlarken musluğu açık bırakmamalıyız. ✓  
 D. Kalorifer açıkken kapı veya pencere açılmamalıdır. ✓

ADI : .....

SOYADI : .....

SINIFI : .....

PUANI : .....

1	A	B	C	D
2	A	B	C	D
3	A	B	C	D
4	A	B	C	D
5	A	B	C	D
6	A	B	C	D
7	A	B	C	D
8	A	B	C	D
9	A	B	C	D
10	A	B	C	D
11	A	B	C	D
12	A	B	C	D
13	A	B	C	D
14	A	B	C	D
15	A	B	C	D
16	A	B	C	D
17	A	B	C	D
18	A	B	C	D
19	A	B	C	D
20	A	B	C	D