

Mehmet ve Ali kütüphaneye gitmek için yola çıktılar. Yolda susuzluktan dalları kurumuş bir ağaç gördüler. Çocuklar bu durum karşısında çok üzüldüler. Ali hemen bir kova almaya gitti. Kovayı getirince Mehmet'le birlikte su almaya gittiler. Su alıp geldiler. Ama bir kova yetmemişti ikinci kova, üçüncü kova... Ağacın yanından her geçerken su vermeye devam ettiler. Bir süre sonra ağaç yemyeşil bir hal almıştı. Mehmet ve Ali ağacı her görünce çok mutlu olmuşlardı.

1 ve 2. soruyu metne göre cevaplayalım.

1. Mehmet ve Ali yolda ne gördüler?

- A. Acıkmış bir köpek
- B. Susuz bir ağaç
- C. Düşmüş bir çocuk

2. Mehmet ve Ali ağacın yemyeşil olduğunu görünce kendilerini nasıl hissettiler?

- A. Çok karamsar
- B. Çok mutlu
- C. Çok üzgün

3. Aşağıdaki sözcüklerden hangisinin zıt anlamlısı yoktur?

- A. ver
- B. gel
- C. maç

4.

2 heceli

test
okul

3 heceli

istasyon
kitaplık

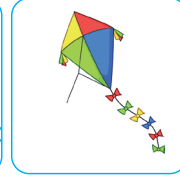
4 heceli

merdiven
brokoli

Yukarıdaki kelimeler hece sayılarına göre gruplara ayrılmıştır. Kaç tane kelimedede hata yapılmıştır?

- A. 1
- B. 2
- C. 3

5.



Yukarıdaki görsellerin isimleri hecelerine ayrılmıştır. Tüm görsellerin isimlerinin toplam kaç hecesi vardır?

- A. 7
- B. 8
- C. 9

6.



Kitap



Bursa



Köpek



Cenk



İzmir



Taş

Mert, yukarıdaki özel adların önündeki dondurmaları boyuyor. Buna göre Mert kaç tane dondurmayı boyar?

- A. 2
- B. 3
- C. 4



Yukarıdaki örüntüde eksik kalan yerlere sırasıyla aşağıdaki görsellerden hangisi gelmelidir?

- A. B.
C.

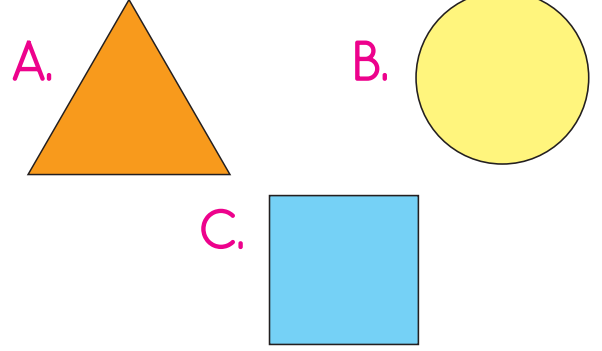
8. Kaan 20 lirasının 8 lirasını okulda, 5 lirasını lunaparkta harcamıştır. Kaan'ın kaç lirası kalmıştır?

- A. 7 B. 8 C. 9

9. Bir kümeste 10 horoz, 4 tavuk, 5 civciv vardır. Bu çiftlikte bulunan horoz sayısı, tavuk ve civciv sayılarının toplamından kaç fazladır?

- A. 1 B. 2 C. 3

10. Aşağıdaki şekillerden hangisinin 4 köşesi, 4 kenarı vardır?



11. Salataya 4 çeyrek, 6 bütün, 8 yarım limon sıkılar.

Sezen, evlerine misafir geldiği bir akşam yemeğinde yapılan salataya sıkılan limonlarla ilgili bilgi vermiştir. Buna göre salataya kaç bütün limon sıkılmıştır?

- A. 9 B. 10 C. 11

12.



Orhan



Mehmet



Ahmet

Yukarıdaki çocuklardan Orhan haftada 12 sayfa, Mehmet Orhan'dan 3 sayfa fazla okumaktadır. Ahmet'te, Mehmet'ten 2 sayfa az kitap okuduğuna göre üç çocuğun bir haftada okuduğu toplam sayfa sayısı kaçtır?

- A. 30 B. 35 C. 40

13.



Atatürk şehrinde dünyaya gelmiştir. Annesinin adı 'dır.




Yukarıdaki çocuğun cümlesindeki boşluklara sırasıyla aşağıdaki kelimelerden hangisi gelebilir?

- A. Ankara - Zübeyde Hanım
- B. Selanik - Zübeyde Hanım
- C. Selanik - Makbule Hanım

14.



Yukarıda aşağıdaki sorulardan hangisinin cevabı doğru sembolle gösterilmiştir?

- A. Atatürk nerede doğmuştur? 
- B. Anıtkabir hangi şehirdedir? 
- C. Dolmabahçe Sarayı hangi şehirdedir? 

15. Aşağıdaki ifadelerden hangisi yanlıştır?

- A. Atatürk, Dolmabahçe Sarayı'nda hayata gözlerini yummuştur.
- B. Anıtkabir, İstanbul'da yer almaktadır.
- C. Atatürk'ün babasının adı Ali Rıza Bey'dir.

ADI :

SOYADI :

SINIFI :

PUANI :

1	A	B	C	D
2	A	B	C	D
3	A	B	C	D
4	A	B	C	D
5	A	B	C	D
6	A	B	C	D
7	A	B	C	D
8	A	B	C	D
9	A	B	C	D
10	A	B	C	D
11	A	B	C	D
12	A	B	C	D
13	A	B	C	D
14	A	B	C	D
15	A	B	C	D