

Veteriner, yeryüzünde yaşayan tüm hayvan türlerinin sağlığı ile ilgilenir. Ayrıca hayvanlardan insanlara geçebilecek hastalıkları da önlemeye çalışırlar. Eskiden veterinerlere baytar denirdi. İnsanlar hasta olan hayvanlarını baytarlara götürürdü. Onlar da hayvanları tedavi ederdi.

1. ve 2. soruyu yukarıdaki metne göre cevaplayalım.

1. Eskiden veterinerlere ne denirdi?

- A. Baytar
- B. Hekim
- C. Doktor



2. Aşağıdakilerden hangisi veterinerin görevlerinden değildir?

- A. Yeryüzünde yaşayan tüm hayvan türlerinin sağlığı ile ilgilenir.
- B. Hayvanlardan insanlara geçebilecek hastalıkları da önlemeye çalışırlar.
- C. Hastalanan insanların tedavisi için çalışırlar.

3.



Bobi, Sobi ve Yobi elindeki kartlarda yazılan sözcüklerle anlamlı ve kurallı bir cümle oluşturmak istemektedir. Hangisinin elindeki kart olmazsa cümle oluşturamazlar?



4. Aşağıdaki cümlelerin hangisinde hatalı noktalama işareti kullanılmıştır?

- A. Selin, Sinan, ve Deniz gelmedi.
- B. Kaç tane balon aldığını görmedim.
- C. Oh, sonunda buldum!

5. Selma, evinin yanındaki marketten çikolata aldı.

Yandaki ağaçta bazı 5N1K soruları yer almaktadır. Bu sorulardan hangisinin cevabı yukarıdaki cümlede yoktur?



- A. Ne?
- B. Kim?
- C. Niçin?



Yandaki simitleri yarım parçalara ayırıp 5 yarımı yersek kaç yarım simit kalır?

- A. 2 B. 3 C. 4

7. Yandaki saat, kaçı gösterir?



- A. 04.00 B. 04.30 C. 05.30

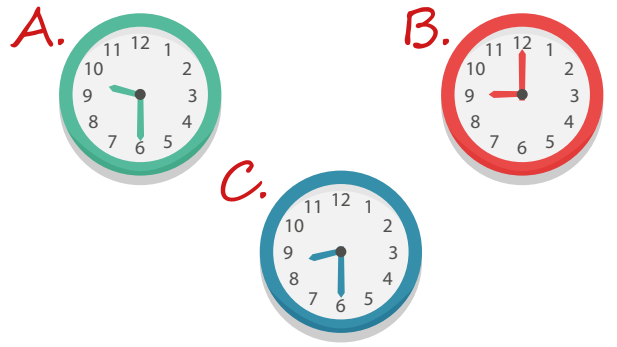
8. Saat 08.30'da analog saatte yelkovan hangi sayının üzerine gelir?

- A. 30 B. 12 C. 6

9. Aşağıdaki saatlerin hangisinde akrep ile yelkovan üst üste gelir?

- A. 12.00 B. 08.00 C. 06.00

10. Aşağıdaki saatlerden hangisini "saat 9 buçuk" diye okuruz?




11. Dün "perşembe" olduğuna göre yarın hangi gündür?

- A. cuma
B. cumartesi
C. pazar

12. Selin ve Demir'in ortak yaptığı saate yanlışlıkla boya bulaşmıştır. Boyanın bulaştığı sayıları kullanmadan saatlerini oluşturmak zorunda kalmışlardır. Fakat öğretmenlerinin istediği zamanı ayarlamak için o iki sayıya da ihtiyaçları vardır. Buna göre öğretmenleri hangi zamanı ayarlamalarını istemiş olabilir?

- A. 08.00 B. 09.00 C. 12.30



13.



Yukarıdaki görselin adı aşağıdakilerden hangisidir?

- A. Topkapı Sarayı
- B. Kapadokya
- C. Kız Kulesi

14. Aşağıdakilerden hangisi ülkemizin başkentidir?

- A. Adana
- B. İstanbul
- C. Ankara

15. Saygılı Köyü'nde yaşamaktayım. Yaşadığım bu yeri yönetmektedir.

Yukarıdaki boşluğa hangisi gelir?

- A. Vali
- B. Kaymakam
- C. Muhtar

ADI:

SOYADI:

SINIFI:

PUANI:

1	A	B	C
2	A	B	C
3	A	B	C
4	A	B	C
5	A	B	C
6	A	B	C
7	A	B	C
8	A	B	C
9	A	B	C
10	A	B	C
11	A	B	C
12	A	B	C
13	A	B	C
14	A	B	C
15	A	B	C