


Annem önce ekmeği ortadan iki eş parçaya ayırdı. Ayırdığı parçalardan birine zeytin, peynir ve domates koydu. Hazırladığı bu sandviçi abime verdi. Diğer ekmeğin parçasına ise zeytin, salatalık ve maydanoz koydu. Onu da bana verdi. Annem ikimizin de ne sevdiğini çok iyi biliyordu.

1. ve 2. soruları metne göre cevaplayalım.

1. Abimin sandviçinin içinde hangisi yoktur?



2. Annemin bana hazırladığı ekmeğin arasında hangileri vardır?

- A. peynir, zeytin, salatalık  
B. peynir, zeytin, domates  
C. zeytin, salatalık, maydanoz

3. Aşağıdaki sözcüklerden hangisi hecelerine yanlış ayrılmıştır?

- A. Cum-hur-iy-et  
B. A-ta-türk  
C. Ül-ke-miz

4.  ütü yapmak için ütünün  prize taktı.

Yukarıdaki kutulara sırasıyla hangi kelimeler yazılmalıdır?

- A. annem-fişi  
B. babam-çatalı  
C. kardeşim-teli

5. Hangi seçenekte Sinem'in söylediği kurala uyulmamıştır?

Özel adların ilk harfi büyük yazılır.

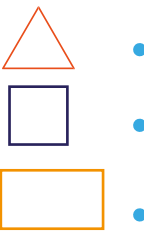

- A. Köpeğim Dino çok uysal.  
B. Babam Ankara'ya gitti.  
C. Kardeşim cumhuriyet ilkokulunda okuyor.

6.






Yukarıdaki görsellerin adında aynı olan hece hangisidir?




- A. ra B. ba C. lık

7.  

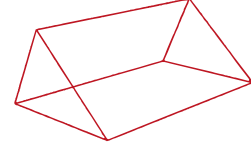
Yukarıda verilen geometrik şekiller isimleri ile eşleştirildiğinde hangi seçeneğe ulaşılır?

- A.  B.  C. 




8. Hangisi örüntü değildir?

- A.  B.  C. 

9.



Yukarıdaki geometrik cismi kullanarak aşağıdaki geometrik şekillerden hangisini çizemeyiz?

- A.  B.  C. 

senefoca.net

10.

Ders Adı	Ders Saati
Türkçe	10
Matematik	5
Hayat Bilgisi	4

Matematik ve Türkçe dersleri toplam kaç saattir?

- A. 15 B. 14 C. 9

11.

Sevilen Çiçekler	Sayısı
Lale	9
Karanfil	4
Gül	3

Zehra Öğretmen sınıfına en sevdiği çiçekleri sordu. Çocuklar da teker teker hangi çiçekleri sevdiğini söylemiştir. Sevilen çiçeklerle ilgili aşağıdaki bilgiler toplanmıştır:

- Sınıftaki tüm öğrenciler sevdiği çiçekleri söylemiştir.
- Tabloda çiçeklerden sadece biri 1 tane fazla yazılmıştır.

Buna göre sınıf mevcudu kaçtır?

- A. 17 B. 16 C. 15

12.

Sevilen Meyveler	Sayısı
Karpuz	6
Çilek	5
Elma	6


Hangi iki meyveyi seven kişi sayısı birbirine eşittir?

- A. Karpuz - Çilek  
B. Karpuz - Elma  
C. Elma - Çilek


13. Aşağıdaki bitkilerden hangisi ağaç değildir?

- A. papatya  
B. çam  
C. kavak

14. Aşağıdakilerden hangisi etle beslenir?



15. Yandaki görselde hangi hayvanın yuvası vardır?



ADI: .....

SOYADI: .....

SINIFI: .....

PUANI: .....

1	A	B	C
2	A	B	C
3	A	B	C
4	A	B	C
5	A	B	C
6	A	B	C
7	A	B	C
8	A	B	C
9	A	B	C
10	A	B	C
11	A	B	C
12	A	B	C
13	A	B	C
14	A	B	C
15	A	B	C