

İLKBAHAR SEVİNCİ

Buse bütün mevsimleri seviyordu ama ilkbaharın yeri başkaydı. Yağmur, kar ve soğuk havalar artık geride kalmıştı. Mart ayı ile başlayan ilkbaharda havalar ısınmaya başlamıştı. Buse ise güneşli havanın, rengarenk çiçeklerin, yeşillenen ağaçların tadını çıkarabilecekti. Babası ile parka gidebilecek, arkadaşları ile dışarıda oyun oynayabilecekti. Buse'nin mutluluğu gözlerinden okunuyordu.

1, 2 ve 3. soruları metne göre cevaplayalım.

1. Buse'nin en çok sevdiği mevsim hangisidir?


- A. Mart
- B. Yaz
- C. İlkbahar

2. İlkbahar mevsimi hangi ay ile başlar?

- A. Mart
- B. Nisan
- C. Mayıs

3. Hangisi ilkbaharda yaşanan durumlardan biri değildir?

- A. Hava ısınmaya başlar.
- B. Ağaçlar yeşillenir.
- C. Kış mevsimine hazırlık yapılır.

4.  Verilen meyveler sözlük sırasına göre dizildiğinde ortadaki meyve en sevdiğim meyvedir.



Emre'nin en sevdiği meyve hangisidir?

A.



B.



C.



5.

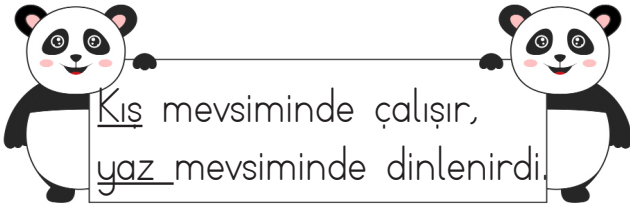


talebe	tane
adet	zengin
yoksul	öğrenci

Verilen sözcükler eş anlamlıları ile eşleştirilirse hangi sözcükler dışarıda kalır?

- A. adet, tane
- B. yoksul, zengin
- C. öğrenci, talebe

6.



Altı çizili sözcükler arasındaki anlam ilişkisi hangi seçenekteki sözcükler arasında vardır?

- A. git - gitme B. kalem - silgi
C. uzun - kısa

7.



Özel isimlerin ilk harfi büyük harfle başlar.

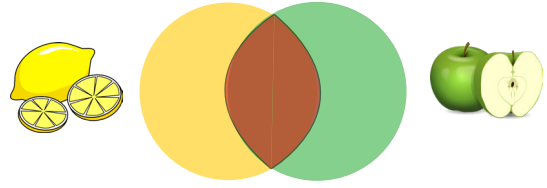
Buse'nin verdiği bilgiye göre hangi cümlede bu kurala uyulmamıştır?

- A. Eda, ilkbaharla ilgili şiir okudu.
B. Babam İzmir'de doğmuş.
C. Tiyatroda emiri gördüm

8. Aşağıdaki cümlelerin hangisinde karşılaştırma ifadesi kullanılmamıştır?

- A. Ali kitabı almak için geldi.
B. Eda, benden daha çalışkandır.
C. Limon, portakala göre ekşidir.

9. SORUYA GEL



Tatlı Taze Sarı Yeşil Sulu

Yukarıda verilen sözcüklerden sadece limonun özelliğini belirten sözcükler sarı alana, sadece elmanın özelliklerini belirten sözcükler yeşil alana yazılacaktır. Limon ve elmanın ortak özelliği olabilecek sözcükler de kahverengi alana yazılacaktır.

Buna göre kahverengi alana hangi sözcükler yazılmış olabilir?

- A. taze, sulu
B. sarı, yeşil
C. sulu, tatlı

10.

Bambu - severler - pandalar - çok- yemeyi - en

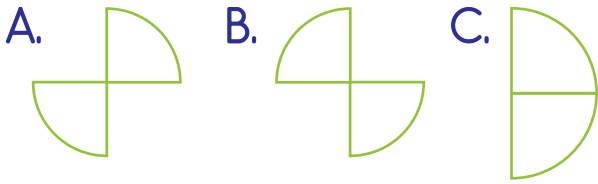
Yukarıdaki sözcüklerden anlamlı ve kurallı bir cümle oluşturduğunda cümlenin sonuna hangi noktalama işareti getirilir?

- A. B. C.

11.



Yukarıdaki şekilde yazım yanlış olan bölümler çıkarıldığında oluşan şekil hangisi olur?



12.



Aşağıdakilerden hangisi verilen görsele ait bir cümle olamaz?

- A. Yaşlı kadın güçle yürüyordu.
B. Genç, parkta spor yapıyor.
C. Genç, yaşlı kadına yardım ediyor.

13.

..... demir tutmaz.

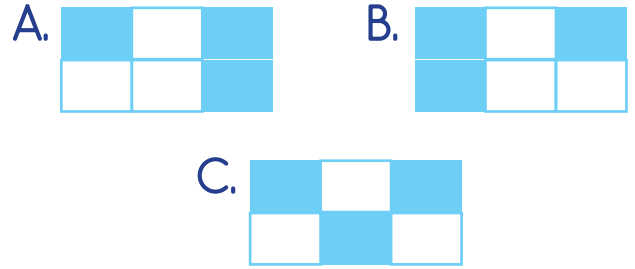
Yukarıdaki atasözünde boş bırakılan yerlere hangi sözcükler yazılmalıdır?

- A. İşleyen, altın
B. İşleyen, pas
C. Çalışan, demir

14.

kuş	az	sepet
gel	silgi	ile

Tabloda ad türündeki sözcükler boyanırsa tablonun görüntüsü nasıl olur?



15.

Ezgi, bahçede ne zaman kim oynadı?
 ne

Yukarıdaki cümlenin anlamlı bir soru cümlesi olması için hangi kutucukları boyamalıyız?

- A. ne zaman kim ne
- B. ne zaman kim ne
- C. ne zaman kim ne

1. $10 + 10 + 10 + 10 + 1 + 1 + 1$

Yukarıdaki onluk ve birlikleri gösterilen sayı hangisi olamaz?

- A. 43
B. 44
C. 4 onluk 3 birlik


2.



Günde 4 tane yumurta yumurtlayan tavuğun 6. günün sonunda yumurta sayısı 2 desteden kaç fazladır?

- A. 4 B. 6 C. 8

3.



Yukarıdaki sayılar, verilen sayıdan başlayarak belli bir kurala göre dizilmiştir. Buna göre hangisi boşluklara gelmesi gereken sayılardan biri değildir?

- A. 20 B. 28 C. 21

4.



$24 + 34$ (yellow bar with a small yellow square at the end)


$35 + 44$ (green bar with a small green triangle at the end)

$14 + 23$ (red bar with a small red circle at the end)

Yukarıdaki toplama işlemleri en yakın onluğa yuvarlanarak tahmin ediliyor. Buna göre hangi işlemin tahmini ile gerçek sonucu arasındaki fark en azdır?

- A. B.
C.

5.



Yukarıda verilen çıkarma işlemlerine göre - işleminin sonucu kaçtır?

- A. 10 B. 7 C. 8

6.



3 sürahi su bir kovayı tamamen doldurduğuna göre 9 sürahi su kaç kovayı doldurur?

- A. 3 B. 9 C. 7

7.



Ayakkabının fiyatı gömlekten 5 lira eksik, şorttan 10 lira fazladır.

Ayakkabı 20 lira olduğuna göre 3 ürünün toplamı ne kadardır?

- A. 55 B. 90 C. 85

8.



Yukarıdaki geometrik şekillerin köşelerine üçer tane yıldız konuluyor. Toplam yıldız sayısının 4 onluk olması için kaç yıldız daha ihtiyaç vardır?

- A. 5 B. 7 C. 6

9. SORUYA GEL



Ders zili çaldığında sınıfımızdaki duvar saatinin görünümü yukarıdaki gibidir. Her ders 30 dakika olup ders sonunda 15 dakika tenffüs için zaman ayrılmıştır. Ayrıca 2. dersin başında 15 dakikalık beslenme yapılmaktadır.

Buna göre beslenme için ayrılan sürenin başlangıç ve bitiş süresi hangi seçenekte belirtilmiştir?

- A. 09:30 - 09:50
B. 09:40 - 09:50
C. 09:15 - 09:30

10.



Üzerindeki çarpma işlemi doğru olan balıklar gölde yaşamaktadır. Buna göre hangi balıklar gölde yaşamaktadır?

- A. B.
C.

11. $15 - 3 = \square$
 $\square \div 3 = \triangle$
 $\triangle \div 1 = \bigcirc$

Yukarıda verilenlere göre \bigcirc sayısı kaçtır?


- A.4 B.1 C.2

12. 4 çeyrek ... yarım eder.

3 bütünde çeyrek vardır.

Yukarıda verilen ifadelerdeki boşluklara hangisi yazılamaz?

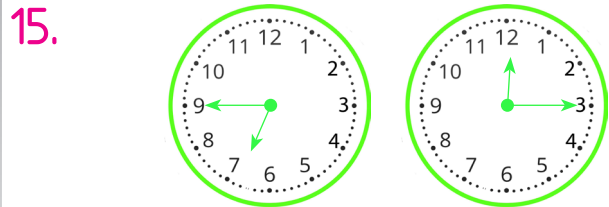
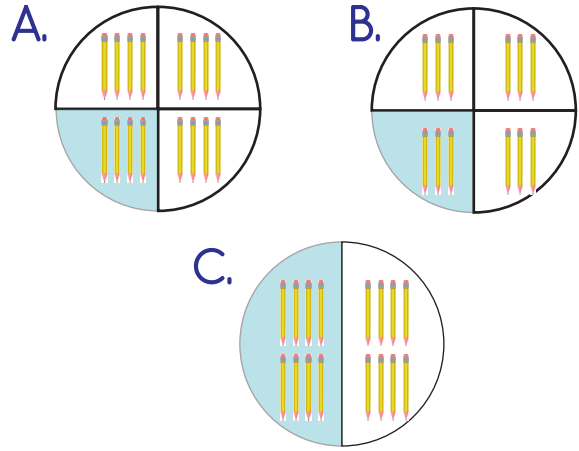
- A. 12 B. 8 C. 2

13.  Evden çıktığımda akrep 8 ile 9 arasında, yelkovan 6'nın üzerindeydi.

Eda'nın söylediği zamandan 1 saat sonrası hangi seçenekte ifade edilmiştir?

- A.  B.  C. 

14. 16 kalemın çeyreği hangi görselde ifade edilmiştir?



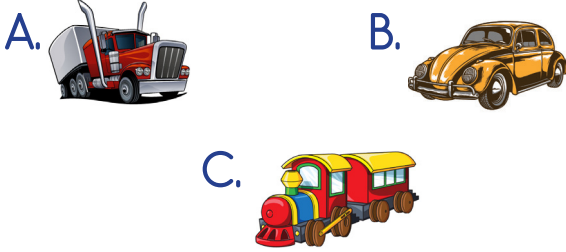
Aşağıdakilerden hangisi yukarıda verilen saatlerin okunuşlarından biri değildir?

- A. Saat yediye çeyrek var.
 B. Saat on ikiyi çeyrek geçiyor.
 C. Saat yediyi çeyrek geçiyor.

1. Aşağıdaki acil durumların hangisinde aranacak telefon numarası yanlış verilmiştir?

- A. Sağlık sorunları - 112
- B. Sel baskınları - 155
- C. Yangın - 110




2. Aşağıdaki ulaşım araçlarından hangisi bir yönüyle diğerlerinden farklıdır?



3. Evde tehlikeden uzak, korkusuzca yaşamak için hangi kurallara uymamız gerekir?

- A. Güvenlik kurallarına
- B. Görgü kurallarına
- C. Tasarruf kurallarına

4. Teknolojik araçların kullanımı ile ilgili ifadelerden hangisi doğrudur?

- A.  Sevdiğim şarkları yüksek sesle dinlerim.
- B.  Televizyonu yakından izleriz.
- C.  İhtiyacım olduğunda bilgisayar kullanırım.

5.






Aşağıdakilerden hangisi görseldeki milli bayram yaklaşınca yapılacak etkinlikler arasında yer almaz?

- A. Şiirler ezberlenir, şarkılar söylenir.
- B. Sınıfımızın camlarına bayraklar asılır.
- C. Aile büyüklerinin elleri öpülür.

6. Atatürk'ün çocukluğunda iyi bir öğrenci olması hangi özelliği ile açıklanabilir?

- A.  Liderliği
 B.  Çalışkanlığı
 C.  Barışseverliği

7. Aşağıda bayrağımızla ilgili ifadelerden hangisi yanlıştır?

- A.  Sadece bizim ülkemizin bayrağı vardır.
 B.  Bayrağımızın üzerine ay ve yıldız sembolleri vardır.
 C.  Bayrağımız kırmızı ve beyaz renklerden oluşur.

8. - Farklı kültürlerle saygı göstermeliyiz.
 - İnsanların hepsi aynıdır.
 - Herkes aynı kültüre sahiptir.

Yukarıdakilerden kaç tanesi yanlıştır?

- A. 1 B. 2 C. 3

9. a. Milli Marşımız adı İstiklal Marşıdır.

b. Milli Marşımızın yazarı Atatürk'tür

Yukarıdaki ifadeler için hangisi söylenebilir?

- A. a doğru, b yanlıştır.
 B. a yanlış, b doğrudur.
 C. Her ikisi de yanlıştır.

10. Yukarıdaki ifadeler için hangisi doğrudur?

- A. Ülkemizin kuzeyinde Akdeniz vardır.
 B. Ülkemizin güneyinde Karadeniz vardır.
 C. Ülkemizin batısında Ege Denizi vardır.


1. Where is the rabbit?
It is the box.
A. in B. on C. under



2. There are two under the table
A. fish B. dogs C. cats



3. Aşağıdaki ifadelerden hangisi doğrudur?



I am a yellow fish

- A. 1 B. 2



I am a red dog

- C. 3



I am a blue bird

4. Do you like watermelon?

- A. Yes, I do B. No, I don't



- C. No, don't

5. Görseli ifade eden seçenek hangisidir?

- A. two strawberries, four bananas
B. two apples, four strawberries
C. two bananas, four strawberries

