

Şakacı Fildir

Ahırdaki inekler, Fildir'in şakalarından bıkmıştı. Tüm şakaları sadece kendisine komik geliyordu. Diğer inekler bu durumdan şikayetçiydi. Aralarında toplanıp Fildir'a bir ders vermeye karar verdiler. Fildir'in yaptığı şakalardan birini ona yaptılar. Fildir bu durum karşısında ne yapacağını şaşırıldı. Şaka ona yapılırken hiç de komik olmamıştı. Empati kurunca anladı ki kendine yapılmasını istemediği şeyi başkasına yapmamalıydı.

1 ve 2. soruları metne göre cevaplayalım.




1. Fildir'in şakaları kime komik geliyordu?

- A. Tüm hayvanlara
- B. Sahibine
- C. Kendisine

2. İnekler aralarında toplanıp ne yapmaya karar verdiler?

- A. Fildir'a ders vermeye
- B. Fildir'i ahırdan atmaya
- C. Fildir'i dövmeye

3. Aşağıda satır sonuna sığmayan kelimeler verilmiştir. Hangisinin ayrımı yanlıştır?

- A.  ara-
ba
- B.  kel-
ime
- C.  du-
man

4.

(A) Sınav

(Y) Okul

(D) Mevsim

(A) Güneş

Yukarıdaki sözcükler sözlük sırasına göre dizildiğinde hangi sözcük elde edilir?

- A. ADYA
- B. AYDA
- C. ADAY

5.

Filmin konusunu iyice kavradım.

Yukarıdaki cümlede altılı çizili sözcükle anlatılmak istenen aşağıdakilerden hangisidir?

- A. Beğenmek
- B. Anlamak
- C. Etkilenmek

6.



Öyle yorulduğum
sabah uyanamadım.

Yukarıdaki cümle aşağıdakilerden hangisiyle tamamlanabilir?

A. ya da B. gibi C. ki

7.

Taze
Yeni
Katı

Yukarıdaki sözcüklerin zıt anlamlılarını yazıldığında oluşan sözcüklerin ilk harfleri ile oluşan sözcük hangisidir?

A. BEN B. BEY C. BES

8.



- | | |
|---------|----------|
| ① görev | ④ harf |
| ② ikaz | ⑤ uyarı |
| ③ ses | ⑥ vazife |

Kurbağa sırasıyla birbiri eş anlamlı sözcüklerin yazılı olduğu yapraklara sıçrayacaktır. Buna göre doğru sıralama nasıl olur?

- A. 1-6, 2-4, 3-5
B. 1-6, 2-5, 3-4
C. 1-6, 3-5, 2-4

9. SORUYA GEL



Eller çok olunca yük hafifleşir.



Komşu komşunun külüne muhtaçtır.



Yaptığımız yardımı hemen unuttuk.



Yardım küçük de olsa değerlidir, sakın geç kalma.

Alper Öğretmen öğrencilerine yardımlaşma konulu atasözü, slogan ya da özgün cümleleri yazacakları bir ödev vermiştir. Öğrencilerin hazırladığı ödevleri aşağıdaki şekildeki sıra ile panoya asmıştır ;

“Büyük” sözcüğünün zıt anlamlısı olan cümleyi ilk sıraya,

Çoğul anlamı olan cümleyi ikinci sıraya,

Atasözü olan cümleyi üçüncü sıraya,

“Hatırlamak” sözcüğünün zıt anlamlısı olan cümleyi son sıraya

Buna göre cümlelere ait öğrencilerin dizilimi hangi seçenekte verilmiştir?

A.



B.



C.



10. Hangi cümlenin sonuna soru işareti konulmalıdır?

A.

Defterim evde kaldı

B.

Hangi çiçeği seversin

C.

Bir bardak su istiyorum

11. Bugünün işini yarına
Öfkeyle kalkan zararlar
Damlaya damlaya göl


Yukarıdaki atasözlerinde boş bırakılan yerlere gelmesi gereken sözcükler hangi seçenekte verilmiştir?

- A. olur B. bırakma C. bırakma
oturur oturur olur
bırakma olur oturur

12.



Yukarıdaki şekillerin içine varlıkların şeklini, durumunu, rengini belirten sözcükler yazılmıştır. Buna göre "ekmek" sözcüğü hangi şeklin içine yazılırsa ekmeğin şekli hakkında bilgi verir?

- A.  B.  C. 

13. Aşağıdakilerden hangisinde kesme işareti yanlış kullanılmıştır?

- A. Bursa'lı B. İzmir'de
C. Ayça'nın

14.



Adem

Kaleminide getir.



İpek

Köpeğim karabaş misafirleri görünce huylandı.



Nedim

Odamı temizledim, oyuncaklarımı da topladım.

Yukarıda isimleri verilen çocuklardan hangisinin ifadesinde yazım yanlışı yoktur?

- A. Nedim
B. Adem
C. İpek

15.

Virgül (,)	3
Soru işareti (?)	1
Kesme işareti (')	1

Aşağıdaki cümlelerin hangisinde tabloda belirtilen sayıda noktalama işareti kullanılmıştır?

- A. Ayça Ahmet Ali okula mı gitmişler
B. Peynir yumurta zeytin domates ve salatalık Aslının mı
C. Türkçe matematik ve müzik Ömerin sevdiği dersler mi

1.




Yukarıdaki rakamlar kullanılarak oluşturulan sayılarla ilgili verilen bilgilerden hangisi yanlıştır?

- A. Bu rakamlarla bir düzineyi ifade eden sayı yazılabilir.
- B. Oluşan en büyük sayı 4 onluk 1 birlikten oluşur.
- C. 2 onluk 1 birlikten oluşan sayı yazılabilir.

2. 5 onluk 4 birlikten oluşan sayı ile iki basamaklı en küçük sayının toplamı kaçtır?

- A. 64
- B. 54
- C. 56

3.



Yukarıdaki çocuklar ellerinde tuttukları sayıların toplamını tahmin edip sonuçları ile karşılaştıracaktır. Buna göre hangi çocuğun yaptığı tahmin ile gerçek sonuç arasında fark en azdır?

- A. Suna
- B. Suat
- C. Berk

4.

65'ten başlayarak geriye doğru beşer ritmik sayarken söylenen altıncı sayıdır.

4'ten başlayarak ileriye doğru üçer ritmik sayarken söylenen yedinci sayıdır.

Yukarıdaki bilgilere göre aşağıdakilerden hangisi yanlıştır?

- A. ■ sayısı 4 onluktan oluşmak tadır.
- B. ▲ sayısının birler ve onlar basamağındaki rakam aynıdır.
- C. ■ sayısı ▲ sayısından 20 fazladır.

5.



$$\begin{array}{r} 28 \quad 53 \\ +25 \quad -18 \\ \hline \end{array}$$

Yukarıda verilen işlemleri yapalım. Toplama ve çıkarma terimleri arasındaki ilişkiye göre yanlışı işaretleyelim.

- A. Toplam ile eksilen sayı birbirine eşittir.
- B. Toplananlardan biri farka eşittir.
- C. Toplam, çıkan sayıdan 35 fazladır.

6.
$$\begin{array}{r} 42 \\ + \text{■} \text{■} \\ \hline 77 \end{array}$$

$$\begin{array}{r} 51 \\ + \text{●} \\ \hline 60 \end{array}$$

$$\begin{array}{r} \text{■} \text{■} \\ + \text{●} \\ \hline ? \end{array}$$

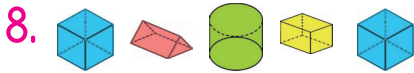
Yukarıdaki toplama işlemlerine göre "?" yerine hangi sayı gelmelidir?

- A.24 B.34 C.44



Ali Bey ineğinden her gün 12 litre süt sağmaktadır. Ali Bey 9 litresini satıp geriye kalanını ailesiyle tükettiğine göre 5 günde sattığı süt miktarı ailesiyle tükettiği süt miktarından kaç fazladır?

- A.30 B.35 C.40



Yukarıdaki örüntüde boşluklara gelmesi gereken şekillerle ilgili aşağıdaki ifadelerden hangisi yanlıştır?

- A. Birinci boşluğa gelmesi gereken şeklin 6 köşesi vardır
B. İkinci boşluğa gelmesi gereken şeklin 6 köşesi vardır.
C. Üçüncü boşluğa gelmesi gereken şeklin 6 yüzü vardır.

9. SORUYA GEL



A	9	÷	4
B	24	×	3
C	1	÷	8

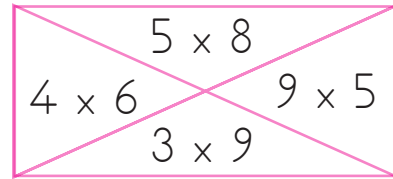
A  B  C 

Robot yukarıda yönergelere göre hareket edecek olup ikinci adımda belirtilen sembole göre işlem yapacaktır.

Buna göre robotun elde ettiği sonuçların büyükten küçüğe doğru sıralanışı hangi seçenekte verilmiştir?

- A. A, B, C B. B, A, C
C. C, B, A

10.



Yukarıdaki çarpma işlemlerinde çarpımın yuvarlandığı sayının en küçük ve en büyük kısımlar çıkarılırsa hangi şekli elde ederiz?

- A.  B.  C. 

11.

×	7	8
3	21	■
4	▲	●

Yukarıda verilen çarpım tablosuna göre ■ + ● + ▲ işleminin sonucu kaçtır?

- A.82 B.74 C.84

14.

$$\begin{array}{r} 25 \\ \div 5 \\ = \end{array} \quad \begin{array}{r} 24 \\ \div \\ = \end{array}$$

$$20 \div \text{●} = \text{●} = \text{●}$$

Şemada verilen bölme işlemlerine göre dairenlerin içine gelmesi gereken sayıların toplamı hangi seçenekte verilmiştir?

- A.15 B.10 C.20

12.

$$\text{●} \times 5 = 5 \quad \text{▲} \times 8 = 0$$

$$\text{■} \times 1 = 3$$

Yukarıda sembollerle belirtilen yerlere hangisi gelemez?

- A.0 B.5 C.1


13.

21 3 —	16 2 —	18 3 —
-------------	-------------	-------------

Yukarıdaki bölme işlemlerinden hangisinin bölümü diğerlerinden küçüktür?

- A. ○ B. ○ C. □

15.




21 → 7
18 → 6
.....
12 → 4

Yukarıdaki sayılar belli bir kurala göre yazılmıştır. Buna göre noktalı bölüme hangisi yazılmalıdır?

- A. 10 → 5 B. 15 → 5
C. 14 → 7


1. Aşağıdakilerden hangisi 9 yaşındaki bir çocuğun aile içindeki görev ve sorumluluğu olamaz?

- A. Temizliğe yardım etmek.
- B. Odasını toplamak
- C. Çalışarak para kazanmak.

2.  İlbahar mevsiminde bolca ve tüketebiliriz.


Yukarıdaki boşluk hangi ifade ile tamamlanabilir?

- A. kayısı - havuç
- B. karpuz - patlıcan
- C. erik - çilek

3.  Başımızı darbelerden korumak için sertleştirilmiş sentetik maddeden yapılmış sağlam başlıktır.


Emre'nin ifadesi hangi sorunun cevabı olabilir?

- A. Kask nedir?
- B. Bisiklet nedir?
- C. Kaykay nedir?

4.  Dengeli ve düzenli beslenirken sağlıklı yiyecekler yemeye özen göstermeliyiz.

Öğretmenin ifadesine göre hangisi sabah kahvaltısı için uygun bir öğün listesidir?

- A. Çikolatalı ekmek, meyve suyu ve mısır gevreği.
- B. Yumurta, peynir, bal ve süt.
- C. Çikolatalı gofret, bisküvi, meyve suyu.




5.  Babam işi için Türkiye'den Almanya'ya gidecek.

Seda'nın Babası aşağıdaki ulaşım araçlarından hangisi ile en hızlı şekilde gidebilir?

- A. 
- B. 
- C. 

6. Yaya ve taşıtların yollar üzerindeki hareketlerinin tamamına denir.
Yukarıdaki ifadeye göre noktalı yere hangisi yazılmalıdır?
- A. Trafik işareti
B. Ulaşım
C. Trafik

7. Aşağıdakilerden hangisinin davranışı yanlıştır?

- A.  Kullanmasını bilmediğim aletleri kullanmam.
B.  Cep telefonu ile uzun süre konuşmam.
C.  Evdeki ısıtıcının fişini ben takarım.

8. Aşağıdakilerden hangisi doğal afet sırasında yardım çalışmalarını yürüten kurumdur?
- A. AFAD
B. YEŞİLAY
C. TEMA

9.



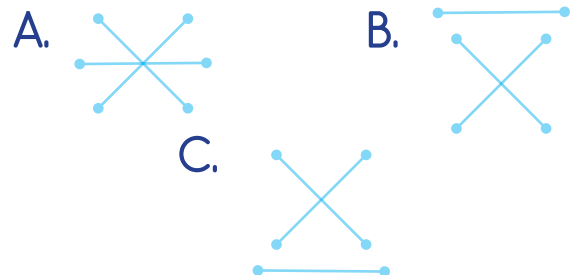
Bir çocuğun yukarıdaki teknolojik aletlerden hangisini tek başına kullanması tehlikelidir?

- A. 1, 2
B. 3, 4
C. 2, 3

10.

Ambulans	110
Polis imdat	155
İtfaiye	112

Acil durumlarda arayabileceğimiz yerler ve numaraların eşleştirilmesi hangi seçenekte verilmiştir?



1. Where is the bird?


- A. Under the bed.
- B. On the tree.
- C. In the basket.



2.



cat



turtle




rabbit

Hangi hayvan ismi ile eşleşmez?

A.



B.



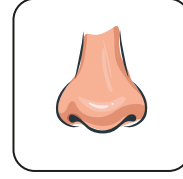
C.



Verilen resimde hangisi doğrudur?



ear



arm



leg

- A. ear
- B. head
- C. mouth

Diyologda boş bırakılan yere hangi seçeneğe uygun düşer?

Ahmet :

Ayşe : This is my mouth.

- A. What is this
- B. What color is this
- C. How many mouths are there

Tabloda boş bırakılan yerlere uygun düşen seçeneği işaretleyiniz.

HEAD
(1)
nose

BODY
hands
(2)

- A. eye / arm
- B. ears / hair
- C. arms / eyes