







11. 17.00'da yürüyüşe çıkan Sinan Bey 2 saat 15 dakika sonra eve dönmüştür. Buna göre Sinan Bey eve geldiğinde saat kaç gösterir?


 Çözüm:

13. Didem'in 2 tane 10 kuruşu 2 tane 50 kuruşu vardır. Didem'e annesi de 20 kuruş verdi. Didem'in kaç kuruşu oldu?


 Çözüm:

sonerhoca.net


14. Yeşim tanesi 3 TL olan kalemlerden 4 tane alıp satıcıya 20 TL verdi. Yeşim kaç lira para üstü alacaktır?

 Çözüm:

12. Bir aile saat 10.00'da evden çıkıp alışverişe gitmiştir. Eve döndüklerinde saat 13:00'i gösterdiğine göre bu ailenin alışverişi kaç saat sürmüştür?

 Çözüm:

15. Bir kazağın fiyatı 48 liradır. Gömleğin fiyatı ise kazağın fiyatından 18 TL azdır. Bu kazak ve gömleği alan biri kaç lira ödemelidir?

 Çözüm: