

TAHTA KAŞIKLAR

Yaşlı adam, elleri titrediği ve gözleri iyi görmediği için yemeğini masaya döküyordu. Bazen de cam bardağını elinden düşürüp kırıyordu. Evin babası bu duruma dayanamayıp yaşlı adama tahtadan yapılmış kaşık ve kase verdi. Aradan zaman geçti. Anne ve baba çocuklarını tahta parçalarıyla uğraşırken gördü. Baba, oğluna ne yaptığını sordu. Küçük çocuğun cevabı anne ve babayı oldukça üzmüştü. "Büyüdüğümde, kullanmanız için size tahta kaşık yapıyorum." dedi.

1, 2 ve 3. soruları metne göre cevaplayalım.

1. Yaşlı adam neden yemeğini masaya döküyordu?

- A. Elleri titrediği ve gözleri görmediği için
- B. Sakar olduğu için
- C. Yemeğini sevmediği için

2. Evin babası, yaşlı adama ne verdi?

- A. Porselen tabak
- B. Tahta kaşık ve kase
- C. Bir kase yemek

3. Anne ve baba, çocuklarını ne yaparken gördü?

- A. Dedesiyle sohbet ederken
- B. Oyuncak arabasıyla oynarken
- C. Tahta parçalarıyla uğraşırken

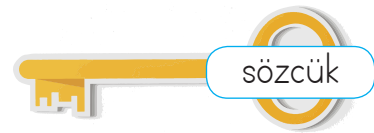
4.

100 

"Yüz" sözcüğü aşağıdakilerin hangisinde yukarıdaki anlamlarıyla kullanılmamıştır?


- A. Yüzümde sivilce çıkmış.
- B. Yüze kadar sayabilirim.
- C. Yüzmek çok keyifli.

5.



Yukarıdaki anahtar, eş anlamlısının bulunduğu kilidi açacaktır. Buna göre anahtar hangi kilidi açar?



6. 

	Ünlü Sayısı	Ünsüz Sayısı
Sevgi	● ●	●
Caner	● ● ●	● ●
Ufuk	●	● ● ●

Erhan Öğretmen tahtaya bir tablo çizmiştir. Tabloda her öğrencinin yazması gereken kelimelerin ünlü ve ünsüz harf sayılarını dairelerle göstermiştir. Buna göre hangi seçenekte tüm öğrenciler doğru yazmıştır? (Her daire 1 harfe karşılık gelmektedir.)

- | | <u>Caner</u> | <u>Ufuk</u> | <u>Sevgi</u> |
|----|--------------|-------------|--------------|
| A. | Yüzük | Kale | Ela |
| B. | Salata | Yurt | Say |
| C. | Araba | Kurt | Oku |

7.

K	A	L	P	İ	S
U	Z	A	K	S	E
K	H	A	K	İ	M
T	A	İ	P	M	A





Aşağıdaki bulmacada eş anlamlısı olan sözcüklerin üzeri çizilecektir. Kalan harflerle anlamlı bir sözcük oluşturulacaktır. Buna göre oluşan sözcük aşağıdakilerden hangisi olabilir?

- A. KİTAP
B. KUKLA
C. MELİSA







8. kulak olmak.

Yukarıdaki deyimde boş bırakılan alana yazılması gereken sözcüğü hangi görsel karşılamaktadır?

- A.  B.  C. 

9.  Kırmızı kalem verir misin?
 Abim eve gelmedi mi?
 Yuvarlak masaya oturduk.
 Gözlüklerini çıkardı.

Sembollerle belirtilen cümlelerin hangisinde varlığı niteleyen sözcük kullanılmıştır?

- A.   B.   C.  

10.



Kerim ve Canan tatil yapmak için ağaçların bol olduğu bir yere gidecekler.

Elif'in ifadesi için aşağıdakilerden hangisi yanlıştır?

- A. Çoğul ad kullanılmıştır.
B. Birden fazla özel ad kullanılmıştır.
C. Topluluk adı kullanılmıştır.

11. SORUYA GEL

A ● -	J ● - - -	S ● ● ●
B - ● ● ●	K - ● -	T -
C - ● - ●	L ● - ● ●	U ● ● -
D - ● ●	M - -	V ● ● ● -
E ●	N - ●	W ● - -
F ● ● - ●	O - - -	X - ● ● -
G - - ●	P ● - - ●	Y - ● - -
H ● ● ● ●	Q - - ● -	Z - - ● ●
I ● ●	R ● - ●	

Sibel ve Birsen kardeşler yukarıda verilen Mors alfabesini kullanarak kelimeler yazmıştır. Kelimeler hakkında şu bilgiler verilmiştir:

- Sibel yazdığı kelimenin her harfi için 3 sembol kullanmıştır.
 - Birsen'in yazdığı kelimenin harfleri farklı sayıda sembollerden oluşmaktadır.
- Buna göre Sibel ve Birsen'in yazdıkları kelimeler aşağıdakilerden hangisi olabilir?

	<u>SİBEL</u>	<u>BİRSEN</u>
A.	BAK	SAT
B.	DUR	GEL
C.	YAZ	KAY

12.

Art arda gelen, birbiri ile bağlantılı cümleleri ayırmak için konur.

Virgül, hangi cümlede yukarıdaki işlevinin dışında kullanılmıştır?




- A. Uyandı, kahvaltısını yaptı.
- B. Gözlüklerini çıkardı, masanın üstüne koydu.
- C. Pazardan elma, armut ve nar aldı.

13.



Haritada sırasıyla Adana  İzmir ve İstanbul  un olduğu yerleri boyadım .

Yukarıdaki cümlede verilen sembollerin yerine konulması gereken noktalama işaretleri hangi seçenekte yanlış eşleştirilmiştir?

- A.  → Kesme işareti
- B.  → Kısa çizgi
- C.  → Nokta

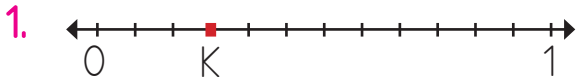
14. Aşağıdaki sözcüklerden hangisi bir iş, oluş ve hareket bildirmektedir?

- A. kostüm
- B. fakat
- C. koşuyor

15. Bu görsele uygun bir metindeki olay aşağıdakilerden hangisi olamaz?



- A. Sınıfça müzik gösterisine hazırlık
- B. Yağmurlu bir havada dans gösterisi
- C. Bahçede eğlenceli dakikalar



K noktasının belirttiği kesirle ilgili;

Sefa: Paydası payının dört katıdır.

Asel: Bir bütünün çeyreğini ifade etmektedir.

Mira: Birim kesri $\frac{1}{12}$ 'dir.

verilen öğrenci ifadelerinden hangileri doğrudur?

- A. Sefa, Asel, Mira
B. Asel, Mira
C. Sefa, Asel

2. Bir inek her gün bir önceki günün 2 katı kadar salatalık yiyerek 3 günde evdeki toplam salatalığın dörtte birini yemiştir. İnek, ilk gün 3 tane salatalık yediğine göre üçüncü günün sonunda evde kaç tane salatalık kalmıştır?



- A. 42 B. 63 C. 84

3. Fulya, evden saat 09.30'da çıkmıştır. Evle okul arası 15 dakika ve okulda geçirdiği süre 5 saat olduğuna göre hiçbir yere uğramadan eve vardığında saat kaç olur?

- A. 14.45 B. 15.00 C. 15.15

4.

19.45		Beşi çeyrek geçiyor.	S
20.30		Sekiz buçuk	A
17.15		Sekize çeyrek var.	R
18.15		Altıyı çeyrek geçiyor.	I

Verilen dijital saatlerin karşısına doğru okunuşları gösteren harf yazıldığında oluşan harf sırası aşağıdakilerden hangisi gibi olur?

- A.

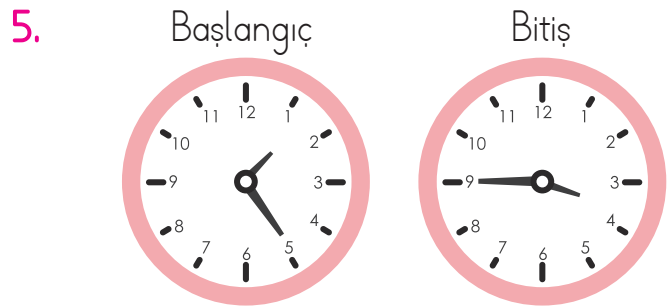
R
A
S
I

 B.

S
A
R
I

 C.

S
I
R
A



Yukarıda bir filmin başlangıç ve bitiş saatleri verilmiştir. Buna göre film kaç dakika sürmüştür?

- A. 120 dakika
B. 130 dakika
C. 140 dakika

6.



Aşağıdakilerden hangisi yukarıda verilen para birimine eşittir?

A.




B.



C.



7.



Mine, yukarıdaki çantayı almak için satıcıya bir miktar para verdi. Satıcı Mine'nin 8 lira eksik para verdiğini söyledi. Mine, satıcıya aşağıdaki paralardan hangisini vermiş olabilir?

A.



B.



C.



8.



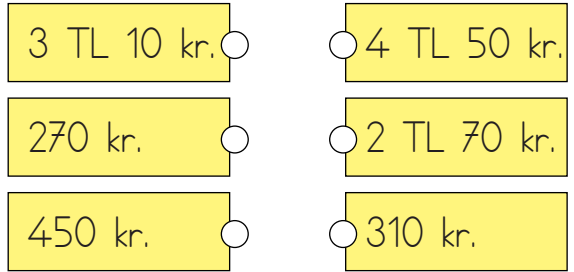
Yukarıdaki ürünlerin tamamını alan bir kişi ne kadar para öder?

A. 7 TL 75 kr

B. 8 TL 25 kr

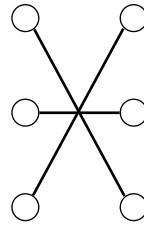
C. 8 TL 50 kr

9.

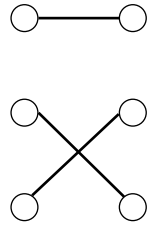


Yukarıdaki para değerleri eşleştirilirse eşleşme nasıl görünür?

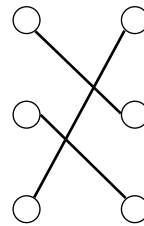
A.



B.



C.



10. 4 tanesi 20 lira olan çikolatalardan 8 tane alırsam satıcıya kaç lira öderim?


A. 50 TL

B. 40 TL

C. 60 TL

11. SORUYA GEL

- 1 kg _____ 10 dakika
 2 kg _____ 9 dakika
 3 kg _____ 8 dakika
 4 kg _____ 7 dakika

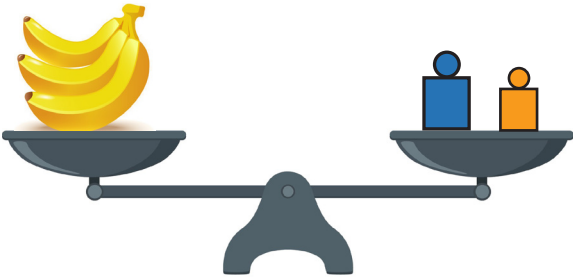


Cismin kütlesi her 1 kilogram arttığında kişinin o yükü taşıma süresi yukarıda görüldüğü gibi 1 dakika azalmaktadır.

Yukarıdaki bilgilere göre 16 tane 500 gramlık cismi bir kişi kaç saniye boyunca taşıyabilir?

- A. 120 saniye
 B. 150 saniye
 C. 180 saniye

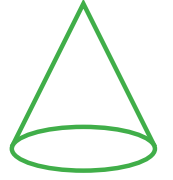
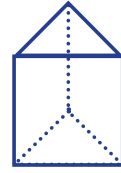
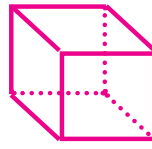
12.



Terazinin sağ kefesindeki ağırlıklardan biri 100 gram, diğeri 200 gramdır. Sol kefesine şekildeki muzları koyunca denge sağlanmaktadır. Kefedeki üç muzun da ağırlıkları aynıdır. Buna göre muzlardan birinin ağırlığı kaç gramdır?

- A. 100 g B. 200 g C. 300 g

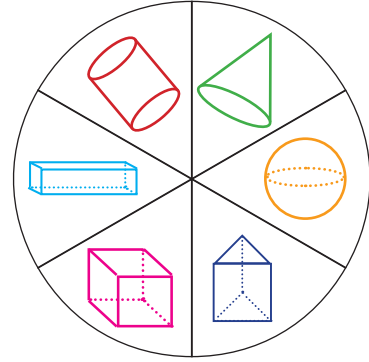
13.



Pelin'in ceviz sayısı yukarıdaki geometrik cisimlerin yüz sayıları, Celil'in ceviz sayısı ise cisimlerin köşe sayıları toplamına eşittir. Buna göre ikisinin cevizleri toplamı kaçtır?

- A. 29 B. 27 C. 25

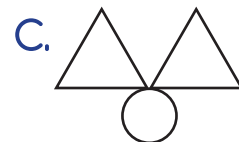
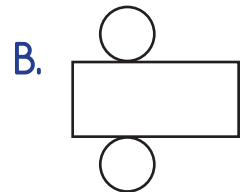
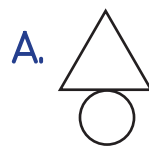
14.



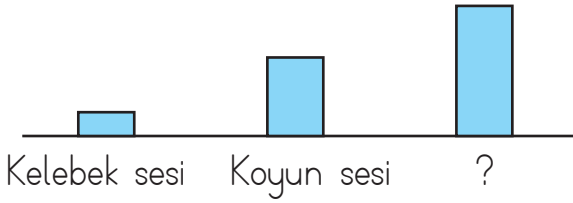
Yukarıda sadece köşesi olmayan cisimlerin bulunduğu dilimler boyanırsa boyalı alanın kesir değeri hangisi olur?

- A. $\frac{2}{6}$ B. $\frac{3}{6}$ C. $\frac{4}{6}$

15. Aşağıdaki açınımlardan hangisi yandaki cisme aittir?



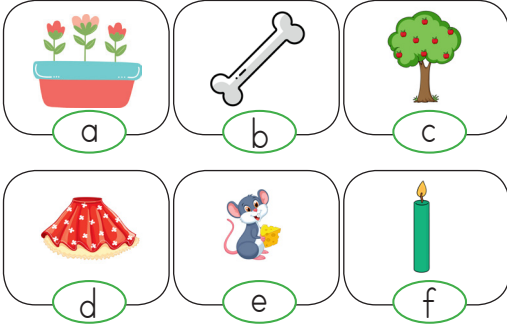
1. Aşağıdaki grafikte üç farklı ses kaynağının şiddetleri verilmiştir.



Buna göre soru işaretiyle gösterilen yere hangisi gelebilir?



2.




Yukarıdaki varlıklar canlı-cansız şeklinde gruplandırıldığında hangisi doğru olur?

CANLI

CANSIZ

- A. a - e - f b - c - d
 B. a - c - e b - d - f
 C. b - d - e a - c - f

3.



Yukarıda verilen bitkinin yaşam döngüsü aşamalarını numara vererek sıralayacak olursak sıralama aşağıdakilerden hangisi gibi olur?

- A. (2) (1) (4) (3)
 B. (2) (3) (4) (1)
 C. (1) (2) (3) (4)

4. Ayda'nın evinin karşısında pazar kurulmaktadır. Pazarın yanında simitçi ve şalgamcı bulunmaktadır. Tatlı almak istediğinde ise iki sokak aşağı inmek zorunda kalmaktadır. Yukarıda verilenlere göre Ayda'nın yakın çevresinde aşağıdakilerden hangisi bulunmaz?

- A. Tatlıcı
 B. Simitçi
 C. Şalgamcı

5. Aşağıdaki varlıkları özelliklerine göre sınıflandırırsak hangisi dışta kalır?



6. → Bütün bitkiler meyve verir.
 → Bitkiler kendi besinlerini üretebilirler.
 → Bütün bitkiler soluk alıp verebilirler.

Yukarıdaki ifadelerden kaç tanesi doğrudur?

- A. 1 B. 2 C. 3

7. Yer değiştirme hareketi
 Üreme
 Kendi besinini üretme

Yukarıdaki özelliklerden hayvanlar için olanların başına "H", bitkiler için olanların başına "B", her ikisi için de ortak olana "O" yazarsak son görünüm nasıl olur?

- A.

B
O
B




 B.

H
O
B

 C.

H
B
H

8. Aşağıda verilen varlıklardan hangisi çevremizde uzun süreli kirliliğe neden olmaz?

- A.  B.  C. 

9. → Yapay çevre insanlar tarafından oluşturulur.
 → Doğal çevrenin oluşumunda insanların etkisi çöktür.
 → Barajlar yapay çevreye örnektir.

Yukarıdaki sembollerle belirtilen bilgilerden hangileri doğrudur?

- A. → B. → C. →
 → → →

10.

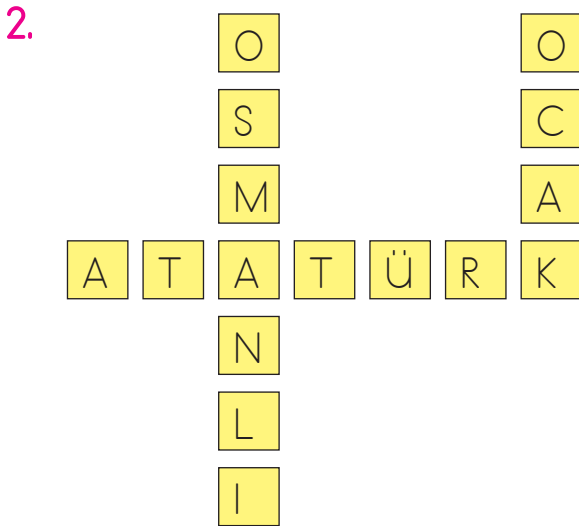
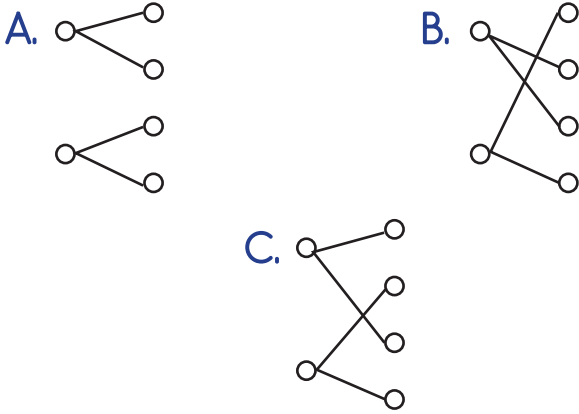


Hakan, hayvanlar için bir çiftlik kurmuştur. Ayrıca bu hayvanları satın aldığı yemlerle beslemektedir. Buna göre Hakan nasıl bir çevre oluşturmuştur?

- A. Milli park
 B. Doğal çevre
 C. Yapay çevre

1. Atamayla Kaymakam
 Vali
 Seçimle Belediye Başkanı
 Muhtar

Atama ve seçimle iş başına gelenler eşleştirilirse son görünüm nasıl olur?



Yukarıda verilen bulmacada aşağıdaki sorulardan hangisinin cevabı yoktur?

- A. Cumhuriyetimizin kurucusu kimdir?
 B. Cumhuriyet hangi ayda ilan edildi?
 C. Cumhuriyet kurulmadan önce devletimizin adı neydi?

3. Kaymakam ile iş başına gelir.
 Yukarıda boş bırakılan yere aşağıdakilerden hangisi gelir?

- A. atamayla
 B. seçimle
 C. kendi isteğiyle

4. Cumhuriyetin getirdiği yeniliklerle ilgili aşağıdakilerden hangisi yanlıştır?
 A. Yeni ve modern okullar açıldı.
 B. Soyadı kanunu çıkarıldı.
 C. Devleti din işleriyle yönetmeye başladılar.

5. Yandaki levhanın anlamı aşağıdakilerden hangisidir?



- A. Okul geçidi
 B. Yaya geçidi
 C. Aile giremez.

6. ▲ Kafeler ● Bisiklet
 □ Kıyafetler ● Sahalar
 ■ Ormanlar ★ Özel araç

Yukarıdakilerden hangileri diğer insanlarla kullandığımız ortak alanlardır?

- A. □ ★ ●
 B. ▲ ● ■
 C. ★ ■ □

7.



Yukarıdaki görselin adı aşağıdakilerden hangisidir?

- A. Selimiye Camii
 B. Taşköprü
 C. Topkapı Sarayı

8. () İshakpaşa Sarayı tarihi mekanlarımızdandır.
 () Akdamar Adası doğal güzelliklerimizdendir.
 () Sümela Manastırı doğal güzelliklerimizdendir.

Yukarıda ifadeleri "Doğru, Yanlış" olarak değerlendirirsek aşağıdakilerden hangisi hatasız bir değerlendirme olur?

- A. (D) B. (D) C. (Y)
 (Y) (D) (D)
 (D) (Y) (Y)

9. Yandaki görsel cumhuriyetin ilanıyla hayatımıza giren önemli değişikliklerden hangisiyle ilgilidir?




- A. Şapka devrimi
 B. Seçme ve seçilme hakkı
 C. Soyadı kanunu

10. Aşağıdaki eserlerin karşısına bulunduğu şehirler yazılmıştır. Hangisinde yanlışlık yapılmıştır?

- A. Efes Antik Kenti - İzmir
 B. Zeugma Antik Kenti - Adana
 C. Kız Kulesi - İstanbul

1. She is at the

- A) museum
- B) shop
- C) hospital



2. My father is at the

- A) shopping centre
- B) park
- C) bank



3. There is a in my village.

- A) hospital
- B) park
- C) museum



4. Görseli verilen ifade hangisidir?

- A) kitchen
- B) living room
- C) bedroom



5.

E O E L V İ T S İ N

Harfleri karışık olarak verilen sözcüğün resmi hangisidir?

