

CANLILAR

Doğada yaşayan canlılar sadece insanlar değildir. Hayvanlar ve bitkiler de vardır. Canlıların yaşamlarını sürdürebilmeleri için en önemli ihtiyaçlarından biri havadır. Hava olmadan yaşamlarını sürdüremezler. Ayrıca güneş ışığı ve ısı yaşamlarını sürdürebilmeleri için önemlidir. Aynı zamanda suya da ihtiyaç duyarlar. İnsanlar ve hayvanlardan farklı olarak bitkiler kendi besinlerini kendileri üretir.

1, 2 ve 3. soruları metne göre cevaplayalım.

1. Aşağıdakilerden hangisi tüm canlıların yaşamlarını sürdürebilmeleri için gerekli değildir?

- A. Hava
- B. Su
- C. Ev

2. Hangisi kendi besinlerini üretebilir?

- A. İnsan
- B. Bitki
- C. Hayvan

3. Aşağıdakilerden hangisi doğada yaşayan canlılardan biri değildir?

- A. Su
- B. İnsan
- C. Bitki

4.

4 8

Yukarıdaki rakamların arasına hangi rakam yazılırsa rakamlar adlarına göre alfabetik olarak sıralanmış olur?

- A.
- B.
- C.


5.

Selim, arkadaşına yaptığı yanlışın farkındaydı. Bu yüzden çok pişmandı. Arkadaşından özür diledi ve bir daha bu şekilde bencilce davranmadı.


Yukarıda metnin hangi bölümü verilmiş olabilir?


- A. Giriş
- B. Gelişme
- C. Sonuç

6. Öğrencilerin ifadelerinden hangisi yanlıştır?

A.  Tür adları sadece cümle başında büyük yazılır.

B.  Tekil adlar çoğul eki alırsa topluluk adı olurlar.

C.  Özel adlar her zaman büyük harfle başlar.

7.  Tüylerini okşadı.

 Kucağına kedisini aldı.

 Tüyleri okşanan kedi uyudu.

Yukarıdaki tümceleri olayın oluş sırasına göre sıralarsak şekillerin dizilişi nasıl olur?

A.   

B.   

C.   

8. Kırmızı arabasına bindi. Sokakta gezinmeye başladı. Yolda, büyük ağaçlar, sevimli hayvanlar gördü. Hayvanlara hayretle baktı. Gezmek hoşuna gitmişti.

Yukarıdaki metinde varlıkların özelliklerini belirten kaç tane sözcük kullanılmıştır?

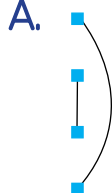
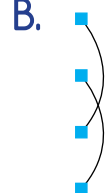

A. 2 B. 3 C. 4

9. Aşağıdaki cümlelerin hangisinde noktalama işareti hatalı kullanılmıştır?

- A. Nereden geldiğini bilmiyorum?
B. Hangi kovayı alacaksın?
C. Ooo, çok şık görünüyorsun!

10. ■ Ak akçe kara gün içindir.
■ Birlikten kuvvet doğar.
■ Sakla samanı gelir zamanı.
■ Bir elin nesi var, iki elin sesi var.

Yukarıda verilen atasözlerinden aynı anlama gelenler eşleştirildiğinde hangi eşleştirme doğru olur?

A.  B.  C. 

11. SORUYA GEL

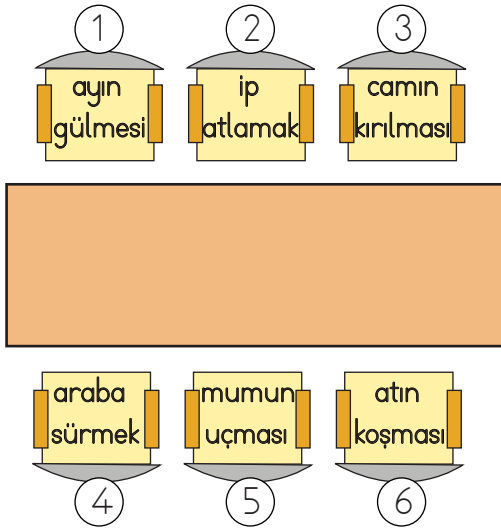
∨ → J

∧ → L

Yukarıda verilen bilgiye göre kutu içindeki harf sola doğru dönmüşse kendinden bir önceki harfi, sağa doğru dönmüşse kendinden bir sonraki harfi ifade etmektedir. Buna göre aşağıdakilerden hangisi "YÜZ" sözcüğüne karşılık gelmektedir?

- A. < C < ∨
B. ∨ C: N
C. N < ∨

12.



Yukarıdaki sandalyelerden üzerinde hayal ürünü ifadeleri yazanlar çıkarılacaktır. Buna göre masanın çevresinden hangi sandalyeler çıkarılmalıdır?

- A. (3) (6) B. (2) (4) C. (1) (5)

13.



Yağmur yağdığı için şemsiyesini yanına aldı.

Yukarıdaki ifadenin sonucu aşağıdakilerden hangisidir?

- A. Yağmurun yağması
B. Şemsiyesini yanına alması
C. Yağmurda ıslanması

14. Partime senin de gelmeni istiyorum.
 O, benim yanıma gelmek için çok uğraştı.
 Ahmet, sahada oynadığı oyunlar göz doldurdu.

Yukarıdaki cümlelerin başına cümledeki adıl sayısı kadar çizgi koyulacaktır. Kutuların son görünüşleri nasıl olur?

- A. B. C.

15.

Eş Anlam	Zıt Anlam	Eş Anlam	Zıt Anlam	
----------	-----------	----------	-----------	--

Yukarıdaki kutular belli bir kurala göre dizilmiştir. Her kutunun içinde iki kelime vardır. Bu kelimeler arasındaki anlam ilişkisi kutuların üzerinde yazmaktadır. Buna göre boş kutuya hangisi gelebilir?

- A. Büyük Ufak B. Uzak İrak C. Kibar Kaba

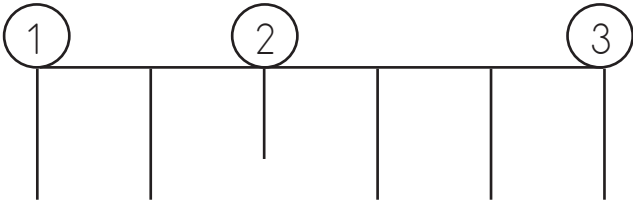
1. Goril Momi tırmanma yarışmasına katılmıştır. Yarışmanın kuralları:
- İpler belli bir örüntüye göre sıralanmıştır.
 - Yarışmaya çıkılmadan önce kurallardan iperin örüntüsüne bakılacaktır.
 - Yarışmacılar gözleri kapalı şekilde iplere asılarak bitiş çizgisine varacaklardır.

İpler örüntüye göre dizilirken bir yerde hata yapılmıştır. Momi hatalı ipe tutunamamıştır ve düşmüştür.

İpler örüntüye göre dizilirken bir yerde hata yapılmıştır. Momi hatalı ipe tutunamamıştır ve düşmüştür.

İpler örüntüye göre dizilirken bir yerde hata yapılmıştır. Momi hatalı ipe tutunamamıştır ve düşmüştür.

KURAL: 2 uzun, 1 kısa



Buna göre Momi, hangi ipe tutunamamıştır?

- A. 1 B. 2 C. 3

2. Aşağıdaki çarpma işlemlerinden hangisinde çarpımın tüm rakamları farklıdır?

- A. $\begin{array}{r} 11 \\ \times 11 \\ \hline \end{array}$ B. $\begin{array}{r} 12 \\ \times 12 \\ \hline \end{array}$ C. $\begin{array}{r} 13 \\ \times 13 \\ \hline \end{array}$

3.

÷	9	8
152	●	0
184	■	▲

Yukarıda bölme işlemi tablosu verilmiştir. Sembollerle gösterilen yerler bölme işleminin kalan kısmını ifade etmektedir. Buna göre sembollerle ilgili aşağıdakilerden hangisi söylenemez?

- A. ● sembolü en büyük çift rakamdır.
B. ■ sembolü "IV" rakamına karşılık gelir.
C. ▲ sembolü en küçük tek rakamdır.

4.



Ben 8 yaşındayım.

Erhan

Benim yaşım Erhan'ın yaşının 2 katından 5 eksiktir.



Ayla

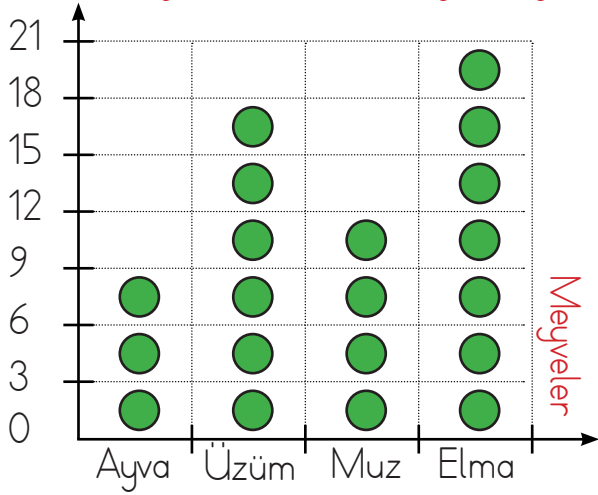
İkisinin 3 yıl sonraki yaşları toplamı kaçtır?

- A. 25 B. 22 C. 19

5. Merve'nin yaşı dedesinin yaşının $\frac{1}{8}$ 'inin 2 eksiğine eşittir. Dedesi 72 yaşında olduğuna göre ikisinin yaşları toplamı kaçtır?

- A. 75 B. 79 C. 83

6. Manavda günlük satılan meyve sayısı



Burak, yukarıdaki grafiği inceleyerek elma ve üzümün toplamını tahmin etmiştir. Buna göre Burak'ın tahmini toplamı aşağıdakilerden hangisidir?

- A. 40 B. 39
C. 33

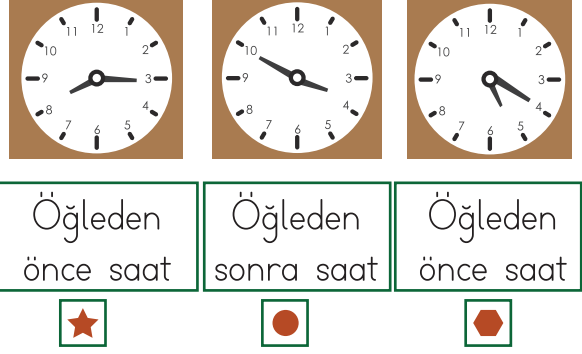
7. Eymen, bir gününü verimli geçirebilmek için tablo halinde bir plan yapmıştır. Tabloda günün ne kadarını uyku, ders ve okula ayırdığını yazmıştır.

Uyku	Ders	Okul
$\frac{1}{3}$	$\frac{1}{8}$	$\frac{1}{4}$

Kalan vaktini ise dinlenmeye ayırmıştır. Buna göre Eymen, dinlenmek için ne kadar vakit ayırmıştır?

- A. 4 saat B. 7 saat
C. 9 saat

8.



Yukarıda öğleden önce ve öğleden sonra saatler sembollerle gösterilmiştir. Hangi seçenekte sembollere karşılık gelen saatler doğru verilmiştir?

- A. ★ → 08.15 B. ★ → 20.15
● → 03.50 ● → 15.50
⬡ → 05.20 ⬡ → 05.20
- C. ★ → 08.15
● → 15.50
⬡ → 05.20

9. Yandaki şapkanın fiyatı 3 tane 1 TL, 5 tane 50 kr, 3 tane 25 kr'un toplamına eşittir.



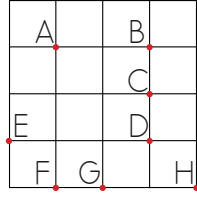
Şapkayı almak için 10 TL ödeyen Zehra ne kadar para üstü alır?

- A. 3 TL 75 kr
B. 4 TL 25 kr
C. 2 TL 50 kr

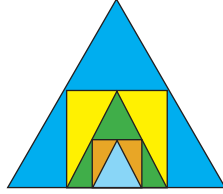
10. Bir köşe ile bu köşeden uzayan iki kenarın oluşturduğu şekil hangisidir?

- A. Işın B. Doğru C. Açık

11. Yandaki şekilde hangi noktaları birleştirerek bir üçgen elde edilebilir?



- A. A - E - D
B. B - C - D
C. F - G - H
12. Yandaki süslemede aşağıdaki şekillerden hangisi kullanılmamıştır?



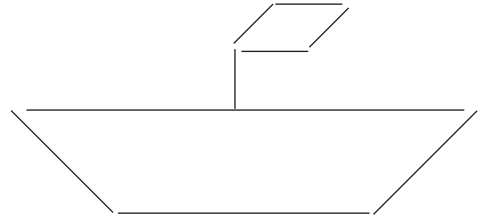
- A. Dikdörtgensel bölge
B. Üçgensel bölge
C. Karesel bölge

13. 1. adım 2. adım 3. adım
-

Yukarıdaki örüntü devam ettirilirse 4. adım sonunda toplamda kaç kare ve daire oluşur?

- A. 4 kare, 9 daire
B. 4 kare, 10 daire
C. 3 kare, 6 daire

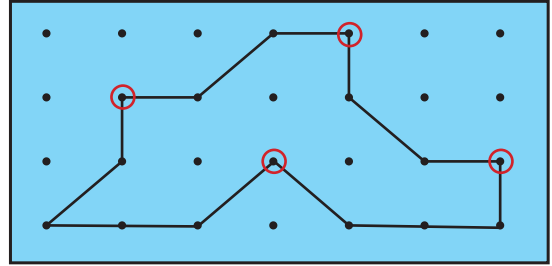
14.



Yukarıdaki şekilde yatay, dikey ve eğik doğru parçaları ile ilgili verilen bilgilerden hangisi doğrudur?

- A. Yatay = 1
Dikey = 4
Eğik = 4
- B. Yatay = 4
Dikey = 1
Eğik = 4
- C. Yatay = 4
Dikey = 4
Eğik = 1

15. SORUYA GEL



Yukarıdaki alana çiviler çakılmıştır. Çivilerin çevresine görseldeki gibi lastik geçirilmiştir. Daire içine alınan çiviler tahtadan çıkarılınca oluşacak yeni şekil hakkında aşağıdakilerden hangisi söylenebilir?

- A. 13 kenarı vardır.
B. 4 yüzü vardır.
C. 3 köşesi vardır.

1.



Deniz kaplumbağalarının yavruları yanlışlıkla ışıklı yollara yönelerek denizi bulamamaktadır.

Yukarıdaki öğrenci ne kirliliğine vurgu yapmak istemektedir?

- A. ışık B. ısı C. ses

2.

- Güneş
- Yıldız
- Yıldırım
- Alüminyum folyo

Yukarıdakilerden kaç tanesi ışık kaynağı olmadığı halde parlak görünür?

- A. 3 B. 2 C. 1

3.

- Kütüphane
- Konser salonu
- ▲ İnşaat alanı

Yukarıdaki ortamlardan hangisinde oluşan ses şiddeti en azdır?

- A. ● B. ■ C. ▲

4.

Umut aynı boyda iki saksıya fasulye ekmıştır. Bu fasulyelerden birini karanlık ortamda diğerini ise aydınlık ortamda yetiştirmiştir. İki bitkiye de eşit miktarda su vermiştir.

Umut'un yaptığı bu deneyde gözlemlemek istediği ne olabilir?

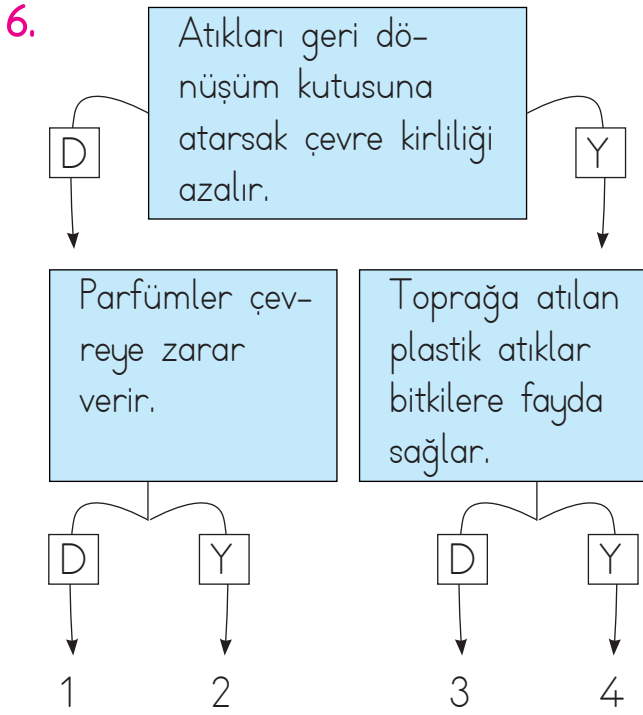
- A. Besinin bitkiye etkisi
B. Işığın bitkiye etkisi
C. Suyun bitkiye etkisi

5.

- Hareket: Böcek kapaının yaprağına böcek konduğunda yaprağını kapatması.
 Boşaltım: Futbol maçında çok koşan futbolcunun terlemesi.
 Solunum: Sokakta dolaşan köpeğin nefes alıp vermesi.

Yukarıda canlıların özellikleriyle ilgili olaylar verilmiştir. Bu özelliklere ait olaylardan doğru olanların başına "D", yanlış olanların başına "Y" yazılacaktır. Buna göre aşağıdakilerden hangisi oluşur?



- | | | | | | |
|----|----------------------------|----|----------------------------|----|----------------------------|
| A. | <input type="checkbox"/> D | B. | <input type="checkbox"/> D | C. | <input type="checkbox"/> D |
| | <input type="checkbox"/> Y | | <input type="checkbox"/> D | | <input type="checkbox"/> D |
| | <input type="checkbox"/> D | | <input type="checkbox"/> Y | | <input type="checkbox"/> D |



Şemadaki bilgilerin doğru veya yanlış olduğuna göre hareket eden bir öğrenci kaçınıcı çıkışa ulaşır?

- A. 1 B. 2 C. 3

7. Aşağıdaki görsellerden hangisi doğal çevreye örnektir?



8. Aşağıdakilerden hangisi doğal çevrenin zarar görmesine neden olur?



9. Aşağıdakilerden hangisi çevre kirliliğini önlemek için alınması gereken önlemlerden biri değildir?

- A. Fabrika bacalarına filtre takmak
B. Kömür kullanımını azaltmak
C. Naylon poşet kullanımını yaygınlaştırmak

10. Kivi çekirdeği ile ilgili olarak hangi bilgi yanlıştır?



- A. Toprağa ekip uygun koşullarda sulandığında kivi fidanı oluşturulur.
B. Bitkinin tohumudur.
C. Toprağa ekildiğinde kesinlikle herhangi bir verim elde edilemez.

1.



İl merkezlerinde devleti temsilen bulunan en yetkili kişiyim. Atama ile göreve gelirim.

Yukarıdaki konuşmayı yapan aşağıdakilerden hangisidir?

- A. Vali
B. Muhtar
C. Kaymakam

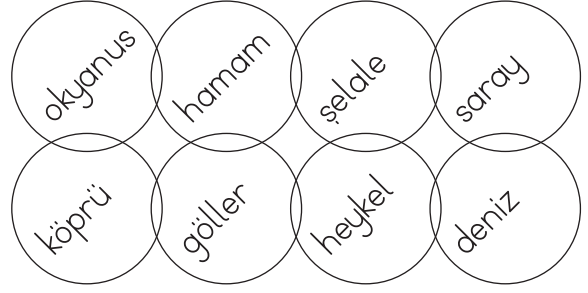
2. İnsanların isim benzerlikleri nedeni ile ortaya çıkan karışıklıkları önlemek amacıyla hangi yenilik yapılmıştır?

- A. Yeni alfabe kabul edildi.
B. Soyadı kanunu çıkarıldı.
C. Kadınlara seçme ve seçilme hakkı verildi.

3. Aşağıdakilerden hangisi 3. sınıfa giden bir öğrencinin ailesine karşı görev ve sorumluluklarından biri değildir?

- A. Odasını düzenlemek
B. Çalışıp para kazanmak
C. Derslerine çalışmak

4.



Yukarıdaki görselden tarihimizle ilgili bilgi edinebileceğimiz unsurlar çıkartıldığında görselin son hali nasıl olur?

- A.
- B.
- C.

5. Aşağıdaki ifadelerden hangisi yanlıştır?

- A. Milli birlik ve beraberlik içinde olmak toplumları güçlü kılar.
B. Toplumlar birlik ve beraberlik içinde karşılaştıkları sorunları çözebilirler.
C. Milli birlik ve beraberlik toplumları olumsuz etkiler.

6. Aşağıdaki cümlelerden hangisini söyleyen öğrencinin güvenli bir şekilde oynadığı söylenebilir?

- A. Bisikletime binerken kask ve dizlik takarım.
- B. Salıncakta sallanırken ellerimi havaya kaldırıyorum.
- C. Kaykayıyla caddede kayarken akrobatik hareketler yaparım.



Yukarıda verilen sözcükler aşağıdakilerden hangisiyle ilgilidir?

- A. Zafer Bayramı
- B. Seçme ve seçilme faaliyetleri
- C. Spor faaliyetleri
8. Aşağıdakilerden hangisi seçimle iş başına gelir?
- A. Vali
- B. Kaymakam
- C. Muhtar



Yukarıdakilerden kaç tanesi dini bayramdır?


- A. 1 B. 2 C. 3

10. Sabah alarm sesiyle uyandım. Yatağımdan kalkıp lavaboya gittim. Güzelce elimi yüzümü yıkadım. Bizimkiler erkenden uyanmıştı. Hemen odama çıkıp güzel kıyafetlerimi giydim. Salonda oturan babam ve annemin yanına gittim. Ellerini öpüp bayramlarını kutladım. Babam harçlık, annem şeker verdi.

Eylem'in sözünü ettiği gün aşağıdakilerden hangisi olamaz?

- A. Cumhuriyet Bayramı
- B. Kurban Bayramı
- C. Ramazan Bayramı

1. Verilen eşleştirmelerden hangisi yanlıştır?



2. Konuşma nasıl tamamlanır?

- A. Right there.
B. I'm sorry.
C. Over here.

A: Excuse me! Where is the hospital.

B: ? I don't know.

3. Kelimelerden hangisi farklıdır?

- A. bike
B. bank
C. museum

4. Where is the helicopter?

- A. It's on the land.
B. It's in the air.
C. It's on the sea.



5. How can I get to Bursa?

- A. You can go by train.
B. You can go by car.
C. You can go by bike.

