

Kitap okumak oldukça önemlidir. Okuyan kişinin hayal gücünü geliştirir. Gerçek ile hayal arasında bir köprü oluşturur. Olaylara farklı pencerelerden bakmayı öğretir. Kelime haznesinin gelişmesine yardımcı olur. Herhangi bir sorun karşısında çözüm üretebilmemizi sağlar. Empati yeteneğimizi güçlendirir. Empati kurabilmemiz de insanlarla daha kaliteli sohbet etmemizde etkili olur. Bu nedenle bol bol kitap okumalıyız.

İlk 2 soruyu metne göre cevaplayalım.

1. Yukarıdaki metne göre aşağıdakilerden hangisini söyleyebiliriz?

- A. Kitap okumak sadece empati yeteneğimizi güçlendirir.
- B. Kitap okumak insanlara yüksekte bakmamıza yardımcı olur.
- C. Kitap okuyan kişinin hayal gücü de gelişir.

2. Metnin konusu nedir?

- A. Kitap sevgisi
- B. Kitap okumanın önemi
- C. Kitapların zararları

3. Daha önce hiç doğa yürüyüşü yapmamıştım. Arkadaşımdan birkaçı daha önce deneyimlemişti. Çok heyecanlıydım. Sonunda yürüyüş alanına varmıştık. Her yer çok güzel görünüyordu. Heyecanım daha da artmıştı.

Bu metinde hangi hikaye unsurundan bahsedilmemiştir?

- A. zaman
- B. yer
- C. olay

4. - Bitmiş cümlelerin sonuna nokta konur.
- Eş görevli sözcüklerin arasına kesme işareti konur.
- Bazı kısaltmaların sonuna nokta konur.
- Kendisiyle ilgili örnek verilecek cümlelerin sonuna iki nokta üst üste konur.

Yukarıdaki bilgilerden kaç tanesi yanlıştır?

- A. 3
- B. 2
- C. 1

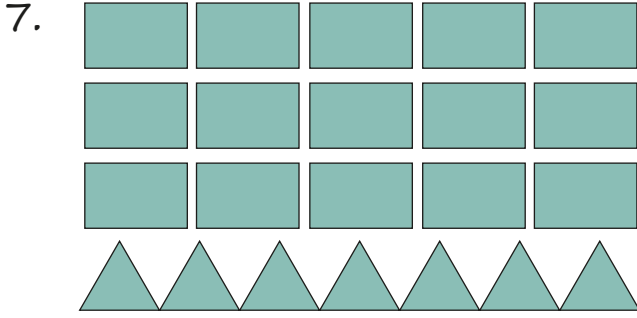
5. ① O olaydan sonra daha dikkatli olmaya özen gösterdim.
② Düşmemek için kendimi zor tuttum.
③ Çok tedirgin olmuştum.
④ Merdivenlerden aşağı iniyordum.
⑤ Tam o esnada ayağım kaydı.

Bu olayların oluş sıralaması aşağıdakilerden hangisidir?

- A. ① ② ④ ⑤ ③
- B. ④ ⑤ ② ③ ①
- C. ④ ① ⑤ ② ③

6. "Aslan, çok iyi futbol oynuyor." cümlesinden hangisi çıkarılırsa cümle anlamsız olur?

- A. oynuyor B. futbol C. Aslan



Yukarıdaki şekillerle üçgen prizma oluşturmak isteniyor. Toplamda 10 tane üçgen prizma oluşturmak için gereken dikdörtgen sayısı, üçgen sayısından kaç fazladır?

- A. 2 B. 5 C. 8

8. Aşağıdaki bilgilerden hangisi yanlıştır?

- A. Karenin tüm kenar uzunlukları eşittir.
B. Çemberin bir kenarı vardır.
C. Köşelerin birleştirilmesiyle köşegenler oluşur.

9.

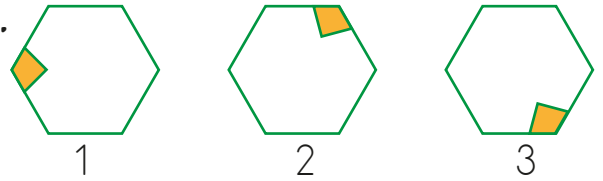
Geometrik Şekiller		
		?

Yukarıdaki geometrik şekilleri birleştirerek örnekteki gibi geometrik cisimler elde edilecektir.

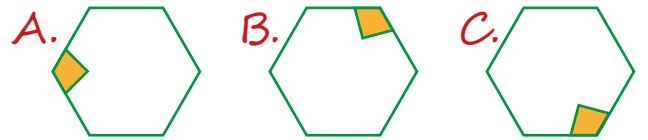
Buna göre soru işareti yerine hangi cisim gelir?

- A. Silindir B. Koni C. Küre

10.

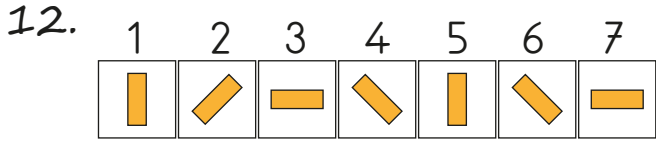


Yukarıdaki örüntü belli bir kurala göre oluşturulmuştur. Buna göre 5. adıma hangisi gelir?



11. Yandaki düzenekte daire şeklindeki tuşa bastıktan sonra kare, üçgen ve beşgen şeklindeki lambalar köşe sayısı en az olandan en çok olana doğru sırasıyla yanmaktadır ve bu örüntü şeklinde devam etmektedir. Yanma süreleri ise saniye cinsinden köşe sayıları kadardır. Örneğin şekil yedi köşeliyse lamba yedi saniye boyunca yanmaktadır. Yanan lamba 7 saniye sonra sönmekte ve diğer lamba anında yanmaktadır. Buna göre 62. saniyede hangi lamba yanıyor olur?





Yukarıdaki şekilde belli bir örüntü verilmiştir.

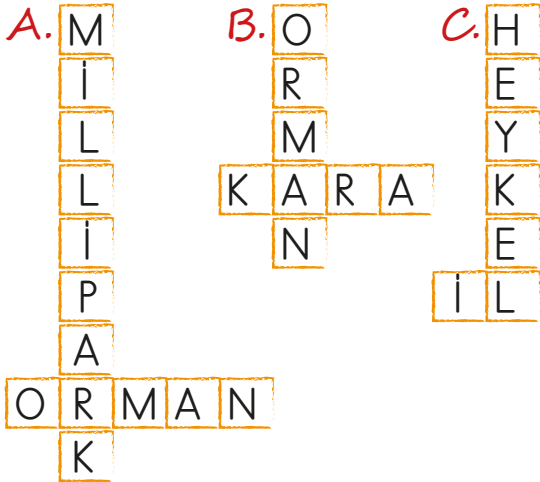
Örüntüyü bozan şekil kaçınıcı sıradadır?

- A. 5 B. 6 C. 7

13. - Devlet tarafından korumaya alınan alanlar.

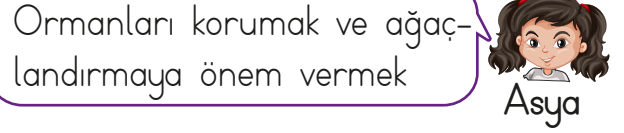
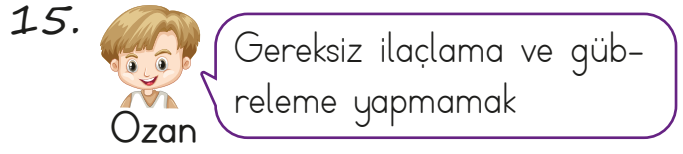
- Bitki ve hayvanlara ev sahipliği yapan, ağaçlarla çevrili geniş alan.

Yukarıda açıklaması yapılan sözcükler aşağıdaki bulmacaların hangisinde vardır?



14. Hangisinde verilen örneklerin tamamı yapay çevreye aittir?

- A. göl, nehir, deniz, orman
B. köprü, park, havuz, tünel
C. bahçe, ırmak, dağ, ova



Ozan ve Asya'nın ikisi de öğretmenin sorduğu soruya doğru cevap verdiği göre öğretmen hangisini sormuş olabilir?

- A. Doğal çevrenin özellikleri nelerdir?
B. Yapay çevre neden önemlidir?
C. Doğal çevrenin korunması için alınması gereken önlemler nelerdir?

16. Canlı ve cansız varlıkların bir arada bulunduğu ortak alana ne ad verilir?

- A. Çevre
B. Orman
C. Park

17. Aşağıdakilerden hangisi 3. sınıf öğrencisinin sorumluluklarından biri değildir?

- A. Seçimlerde oy kullanmak
B. Çevresini temiz tutmak
C. Odasını toplamak

18.

Okul servisi ortak kullanım alanımızdır.
Kütüphanedeki kitapları yırtmamalıyız.
Parktaki oyuncaklarla istediğimiz şekilde oynayabiliriz.
Otobüs duraklarına istediğimiz yazıları yazabiliriz.
Okul bahçelerine çöp atmamalıyız.

D Y
S G
Ü N
Z P
N E
R L

Yukarıdaki ifadeler doğru ise "D", yanlış ise "Y" harfinin altındaki kutucuk boyanacaktır. Boyanan harflerle bir şifre oluşturulacaktır. Şifre hangisidir?

A. SÜPER B. GÜZEL C. SÜZER

19. Ortak kullanım alanlarından yararlandıktan sonra hangisini yapmalıyız?

A. Eve girip dinlenmeliyiz.
B. Yemek yemeliyiz.
C. Ellerimizi güzelce yıkamalıyız.

20.

Ortak Kullanım Alanları	Kişisel Kullanım Alanları
1. Park	4. Banyo
2. Yatak odası	5. Otopark
3. Müze	6. Araba

Yukarıda ortak kullanım alanları ile kişisel kullanım alanları verilirken bir yerde hata yapılmıştır. Hangi ikisi yer değiştirirse hata giderilmiş olur?

A. 1-4 B. 3-6 C. 2-5

ADI:

SOYADI:

SINIFI:

PUANI:

1	A	B	C
2	A	B	C
3	A	B	C
4	A	B	C
5	A	B	C
6	A	B	C
7	A	B	C
8	A	B	C
9	A	B	C
10	A	B	C
11	A	B	C
12	A	B	C
13	A	B	C
14	A	B	C
15	A	B	C
16	A	B	C
17	A	B	C
18	A	B	C
19	A	B	C
20	A	B	C