

Mart ayı gelmesine rağmen hala bir damla yağmur yağmamıştı. Tüm ekinler kurumaya başlamıştı. Babam bu durum karşısında bir hayli çaresiz görünüyordu. Neyse ki mart ayının ortalarına doğru yağmur damlaları tarlamızdaki ekinlerin diplerini ıslatmaya başlamıştı. Babam mutluluğunu gizleyemiyordu. ....

Yaptığı bu hareket karşısında hepimiz tebessüm ettik. Babamı ilk defa böyle görüyorduk.

İlk 2 soruyu metne göre cevaplayalım.

1. Yukarıdaki metne göre aşağıdaki yorumlardan hangisini kesin yapabiliriz?
  - A. Mart ayının ortalarında ilk defa yağmur yağmıştır.
  - B. Mert'in babasının tarlaya ektiği elma ağaçları kurumuştur.
  - C. Babası ilk defa gülüyordu.
2. Boş bırakılan yere aşağıdakilerden hangisi yazılabilir?
  - A. Bu duruma çok üzülmüştü.
  - B. Bu şekilde davranması bizi çok sinirlendirdi.
  - C. Aniden koltuğun üzerinde zıplamaya başladı.

3. (1)Babamın yeni aldığı boya kalemlerini elime aldım. (2)Resmim bitince anneme gösterdim. (3)Önceden yapmış olduğum resmi boyamaya başladım. (4)Annem resmimi çok beğendi.

Yukarıdaki metnin anlamlı olması için hangi cümlelerin yerlerinin değiştirilmesi gerekmektedir.

- A. 1-3      B. 2-3      C. 1-4

4.

Bana arkadaş oldun  
Her zaman yoldaş oldun  
Can verdin, kan verdin  
Simsıcak yuva oldun

Verilen şiirin ana duygusu aşağıdakilerden hangisidir?

- A. Anne sevgisi
- B. Kardeş sevgisi
- C. Okul sevgisi

5.



Gizem bisikletinin frenlerini kontrol ettikten sonra Ada İlkokuluna gitti.

Kenan'ın ifadesi için aşağıdakilerden hangisi yanlıştır?

- A. Çoğul ad kullanılmıştır.
- B. Birden fazla özel ad kullanılmıştır.
- C. Topluluk adı kullanılmıştır.

6.

Çok açtı ..... tabak-  
taki patatesleri yedi.



Yukarıdaki cümlede boş bırakılan yere hangisi yazılmalıdır?

- A. bu nedenle
- B. için
- C. amacıyla

7. Aşağıdaki sözcüklerden hangisi bir iş, oluş ve hareket bildirmektedir?

- A. masa
- B. gördü
- C. ile

8. Defne ağzından çıkardığı sakızı iki eliyle çekerek uzatmıştır. Sakız, hangi geometrik kavrama örnektir?

- A. ışın
- B. doğru parçası
- C. doğru

9.

KAYA

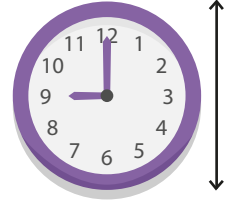


Yukarıdaki sözcüğün doğruya göre simetriği aşağıdakilerden hangisidir?

- A. KAYA
- B. KAYΛ
- C. AYKΛ

soruogel.com

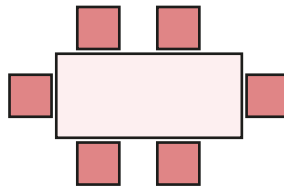
10. Akrep ve yelkovanın verilen doğruya göre simetriği alınırsa saat kaç gösterir?



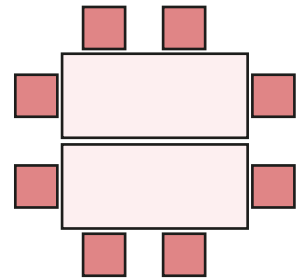
- A. 09.00
- B. 03.00
- C. 06.00

11. Bir restorantta masalar yukarıdaki gibi kişi sayısına göre ayarlanmaktadır. Restorantta yukarıdaki kurala göre masalar birleştirilirse 5. adımda birleştirilen masalarda toplam kaç sandalye olur?

1. masa



2. masa

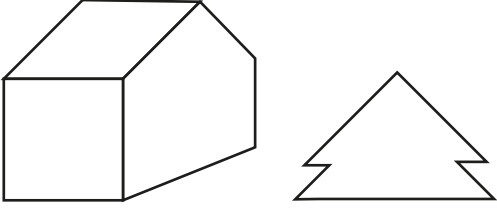


A. 10

B. 12

C. 14

12.



Öğretmeni, Dilara'ya yukarıdaki resmi göstermiştir. Gösterdiği bu resimdeki doğru parçalarını saymasını istemiştir. Dilara doğru parçalarını saydığına sonucu aşağıdakilerden hangisi gibi bulmuştur?

A. Yatay - 7  
Dikey - 5  
Eğik - 6

B. Yatay - 6  
Dikey - 3  
Eğik - 8

C. Yatay - 8  
Dikey - 3  
Eğik - 7

13.



Yukarıdaki görsellerden hangisi doğru parçasına örnektir?



14.

O N D A

Yukarıda harflerden kaç tanesinde açılı modeli yoktur?




A. 1 B. 2 C. 3

15.

TEMİZLİK

İLETİŞİM

ULAŞIM



Yukarıda yazan alanlarla ilgili görseller, altlarındaki kutuların içine eklenirse sırasıyla son görünüşü aşağıdakilerden hangisi gibi olur?



sorumuz.com

16.

Televizyon

Bilgisayar

Mobilya

Kıyafet

Yukarıda verilen kartlardan üzerinde elektrikle çalışan araçların isimlerinin yazılı olduğu kartlar seçilecektir. Buna göre kaç kart seçilmelidir?

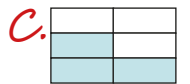
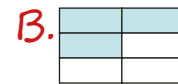
A. 2 B. 1 C. 3

17.

Yandaki tabloda yazan araçlardan elektrikle çalışanlar boyanacaktır.

Klima	Radyo
Ütü	Tornavida
Pense	Masa

Boyama tamamlandığında son görünüm nasıl olur?



18. Atatürk büyük bir askerdi. Milletini seven, örnek bir devlet adamıydı. Ayrıca tek bir alanda değil, birçok alanda önemli yenilikler de yapmıştır. Atatürk, güzel sanatlardan, ekonomiden, spordan ve birçok alandan anlayan bir kişiydi.

Yukarıdaki metinde Atatürk'ün hangi özelliğinden bahsedilmiştir?

- A. Çok yönlü
- B. Sabırlı
- C. Milletini seven

19. Aşağıdakilerden hangisi Atatürk önderliğinde gerçekleşmemiştir?

- A. Yeni Türk harfleri kabul edildi.
- B. Kılık kıyafette yenilikler yapıldı.
- C. Padişaha yeni yetkiler verildi.

20. Atatürk "Yurtta sulh dünyada sulh!" sözü ile hangi kişilik özelliğini yansıtmaktadır?

- A. Barışçılık
- B. İleri görüşlülük
- C. Bilimsellik

ADI : .....

SOYADI : .....

SINIFI : .....

PUANI : .....

1	A	B	C
2	A	B	C
3	A	B	C
4	A	B	C
5	A	B	C
6	A	B	C
7	A	B	C
8	A	B	C
9	A	B	C
10	A	B	C
11	A	B	C
12	A	B	C
13	A	B	C
14	A	B	C
15	A	B	C
16	A	B	C
17	A	B	C
18	A	B	C
19	A	B	C
20	A	B	C