


Yağmur ormanları yıl boyunca sıcak ve nemli bölgelerde sürekli büyüyen ağaçlardan oluşan alanlardır. Ağaçlar o kadar büyük ve sık ki güneş ışınlarının ağaçları aşip toprağa ulaşma şansı çok düşüktür. Bu nedenle ormanın iç tarafları neredeyse her zaman karanlıktır. Bu ormanlarda besin bolluğundan çok fazla canlı türü yaşama fırsatı bulmaktadır. Dünya'nın yüzde ikisini kaplayan bu ormanlarda, Dünya'da yaşayan hayvanların yarısı bulunur. Bazı hayvanlar besinlerini bulmak için ağaçların üzerine çıkarlar. Ağaçlar çok uzun olduğu için buralarda çok dikkatli olmalıdırlar. Dikkatsiz davrandıkları anlarda yere düşüp zarar görme ihtimalleri çok yüksektir. Bu ormanlardan insanlar da çeşitli yerlerde faydalanırlar.



1 ve 2. soruyu metne göre cevaplayalım.

- Yukarıdaki paragrafa göre aşağıdakilerden hangisi yanlıştır?
 - Yağmur ormanlarının bulunduğu yerler yıl boyunca sıcak ve nemlidir.
 - Ağaçların çok yüksek ve sık olmasından dolayı güneş ışınları toprağa ulaşamaz.
 - Yağmur ormanlarında hayvanlar için bolca besin bulunur.
 - Yağmur ormanlarında çok az sayıda hayvan yaşamaktadır.
- Metne göre hayvanların yağmur ormanlarından çok dikkatli olmasının sebebi nedir?
 - Ağaçlardan düşme risklerinin olması
 - Vahşi hayvanların olması
 - İnsanların avcılık yapması
 - Zehirli böceklerin olması
- Aşağıdaki altı çizili sözcüklerden hangisi iş, oluş veya hareket bildirmez?
 - Babasının iş için şehir dışına çıkacağını öğrenince çok üzüldü.
 - Öğretmenimizin anlattığı konuyu çok dikkatli bir şekilde dinledik.
 - Gün boyunca annemle birlikte evdeydik.
 - Odaya girdi ve bağırırmaya başladı.

4. Aşağıdaki sözcüklerden hangilerine "-ci, -lik, -li, -siz" eklerinden biri getirildiğinde anlamlı bir sözcük oluşmaz?

- maden
- ağır
- göz
- harika

5.

K	rüya
İ	uyarı
Ğ	kaygı
E	fert

.....	birey
.....	tasa
.....	ikaz
.....	düş

Yukarıdaki sözcükler eş anlamlarıyla eşleştirildiği zaman yukarıdan aşağıya oluşacak şifrenin zıt anlamlısı aşağıdakilerden hangisidir?

- Yüksek
- Dik
- Hafif
- Yatay

6. » Yüz tane kelime yazdık.
 » Kaç gündür yüzünü görmedik.
 » Havuzda yüzmek çok eğlenceliydi.
 » Buraya geledi yüz gün oldu.

Yukarıdaki cümlelerde "yüz" kelimesi kaç farklı anlamada kullanılmıştır?

- A. 1
 B. 2
 C. 3
 D. 4
7. Aşağıdaki cümlelerin hangisinde virgül farklı bir görevde kullanılmıştır?
- A. Buraya geldi, isteklerini anlattı.
 B. Parka gittik, çok güzel oyunlar oynadık.
 C. Dağ dağa kavuşmaz, insan insana kavuşur.
 D. Hayır, onu hiç böyle sinirli görmedim.

8. Ne ekersen onu
- Keskin sirke küpüne verir.
- işe şeytan karışır.

Yukarıdaki atasözlerinde boş bırakılan yerlere sırasıyla hangi sözcükler getirilmelidir?

- A. görürsün - zarar - hızlı
 B. biçersin - yarar - acele
 C. biçersin - zarar - acele
 D. toplarsın - zarar - riskli

9. ■ Soğuk tavırlarına kimse anlam veremedi.
 ▲ Bu soğukta bu kadar ince giyinmemelisin.
 ● Bu yaptığı hareketten sonra ondan soğudum.
 ◆ Kış ayları burada çok soğuk geçer.

"Soğuk" sözcüğü yukarıdaki cümlelerin hangilerinde mecaz anlamıyla kullanılmıştır?

- A. ■ ▲
 B. ■ ●
 C. ■ ●
 D. ■ ◆

10.



Yusuf

Hastalandığı için pazartesi günü okula gelemedi.



Canan

Bazı film türlerini çok sever; bilim kurgu ve macera filmleri bunlardandır.

Yukarıdaki çocukların cümleleri ile ilgili aşağıda söylenenlerden hangisi yanlıştır?

- A. Canan'ın cümlesinde örneklendirme yapılmıştır.
 B. Yusuf'un cümlesinde tek başına anlamı olmayan bir kelime kullanılmıştır.
 C. Yusuf'un cümlesi sebep-sonuç ilişkisi içerir.
 D. Canan'ın cümlesi olumsuzdur.

11. O, herkese çok iyi davranır.

Aşağıdaki cümlelerden hangisinde "o" sözcüğü türüne göre yukarıdaki gibi kullanılmıştır?

- A. O köyde çok güzel anılar biriktirdik.
- B. Sana, o ödevi yetiştirmen gerektiğini söylemişim.
- C. O gün kendimi çok yalnız hissettim.
- D. Çağırmamıza rağmen o gelmedi.

12.

maydanoz	sırad	asfalt
birçok	orijinal	espri
eşki	çember	kiprik

Yukarıda yazılı olan kelimelerden yazımı yanlış olanların kutuları boyanacaktır. Şeklin son görünümünü aşağıdakilerden hangisi olur?

- A.
- B.
- C.
- D.

13. Aşağıdaki cümlelerin hangisinde yazım hatası yapılmıştır?

- A. Ahmet'te toplantıya katıldığını söyledi.
- B. Sen ki bu hatalarını kabul etmezdin.
- C. Kalemlerim Sezen'de kaldı.
- D. Bugün cm'yi, mm'ye dönüştürmeyi öğrendik.

14.

eksik		?	
noksan	tam	toy	usta

Yukarıdaki sözcükler belli bir kurala göre dizilmiştir. Buna göre "?" yerine hangi sözcük gelmelidir?

- A.
- B.
- C.
- D.

15. SORUYA GEL

Serdar : Benim cümlede eş seslisi olan sözcük eylem olarak kullanılmıştır.

Yasin : Benim cümlede hem adil hem ön ad kullanılmıştır.

Merve : Benim cümlede eş seslisi olan sözcük ön ad olarak kullanılmıştır ve cümledeki eylem şimdiki zamanlıdır.

Ardahan : Benim cümlede kullanılan eylem geçmiş zamanlıdır ve cümlede ön ad kullanılmıştır.

1.

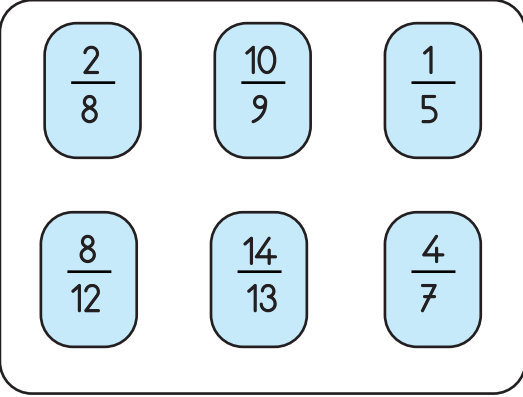
2.

3.

4.

Yukarıda açıklama ve cümle eşleştirmelerinden hangisi doğru olamaz?




- A. 3. cümle Ardahan'ın cümlesidir.
- B. Serdar'ın cümlesi devrik cümledir.
- C. Merve'nin cümlesi 2. cümledir.
- D. Yasin'in cümlesinde kullanılan ön ad cismin rengini belirtmektedir.

1. 

Yukarıda verilen kesirlerden kaç tanesi tam sayılı kesre çevrilebilir?

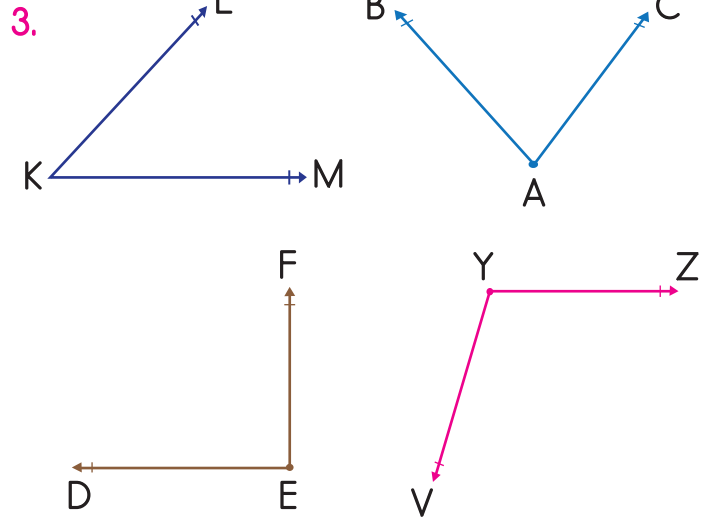
- A. 1
B. 2
C. 3
D. 4

2. Hasan'ın girdiği bir sınavda çözdüğü sorularla ilgili aşağıdaki bilgiler veriliyor.

-  25 soruluk Türkçe sorularının her birini 2 dakikada çözmüştür.
-  25 soruluk Matematik sorularının her birini 4 dakikada çözmüştür.
-  15 soruluk Fen Bilgisi sorularının her birini 3 dakikada çözmüştür.

Hasan bu sınava saat 09:00'da başladığına göre sınavı bitirdiğinde saat kaçtır?

- A. 11:45
B. 12:00
C. 12:15
D. 13:15







Aşağıda verilen açılardan hangisi yukarıdaki şekillerden herhangi birinin açısı değildir?

- A. DEF açısı
B. LMK açısı
C. Y açısı
D. CAB açısı


4. Dikdörtgen şeklindeki bir bahçenin kısa kenarı 45 m uzun kenarı ise 60 m'dir. Bu bahçenin çevresi kaç cm'dir?

- A. 2100 cm
B. 10500 cm
C. 21000 cm
D. 210000 cm





5. Aşağıdaki harflerden hangisinin simetri doğrusu hem yatay hem de dikey olarak çizilebilir?

- A.  B. 
C.  D. 

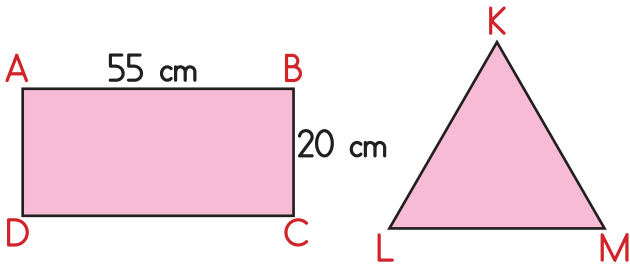
6.



Yukarıda açınımları verilen küp kapalı hale getirilip düz bir zemine konulduğu zaman alt tabana domuzun geldiği bilindiğine göre üst yüzeyde görünen şekil aşağıdakilerden hangisinde verilmiştir?

- A.  B. 
- C.  D. 

7.



Yukarıda verilen KLM üçgeni bir eş kenar üçgendir. KLM üçgeni ile ABCD dikdörtgenin çevre uzunlukları eşit olduğuna göre KLM üçgeninin bir kenarı kaç cm'dir?

- A. 40
B. 50
C. 55
D. 60

8.



Yukarıdaki çeşme kovanın beşte birini 15 dakikada doldurmaktadır. Buna göre bu çeşme aynı büyüklükteki 4 kovayı kaç saatte doldurur?

- A. 2
B. 3
C. 4
D. 5

9. Merve 14.12.2007 tarihinde doğmuştur. Yusuf ise Merve'den 36 ay önce doğmuştur. Yusufun 2023'teki yaşı kaç olur?

- A. 18
B. 19
C. 20
D. 21

10.



Üretim Tarihi: 31 MART 2019

Yukarıda verilen ürünün son kullanma tarihi üretim tarihinden 95 gün sonradır. Bu ürünün son kullanma tarihi aşağıdakilerden hangisidir?

- A. 27 Haziran 2019
B. 30 Haziran 2019
C. 03 Temmuz 2019
D. 04 Temmuz 2019

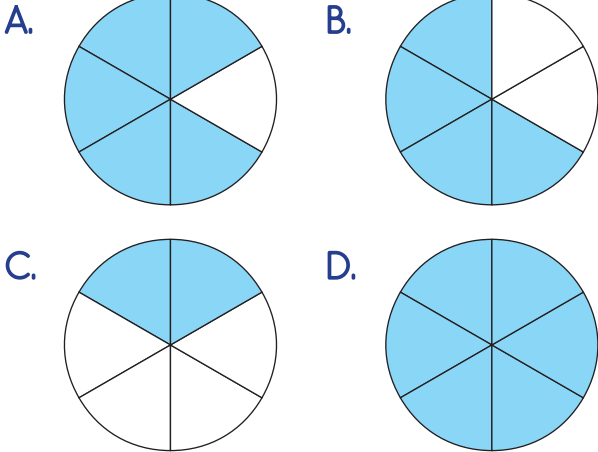
11. Bir fırına günde 450 kg un alınıyor. Her birinde 300 gram un kullanılan ekmeklerden 200 tane yapılıyor. Bu fırında geri kalan unla her birinde 500 gram un kullanılan pastadan kaç tane yapılabilir?
- A. 650
B. 740
C. 780
D. 800



12.

$$\frac{1}{6} + n = \frac{5}{6}$$

Yukarıdaki toplama işleminde "n" yerine gelecek kesrin gösterimi aşağıdakilerden hangisidir?



13. Kenar uzunlukları 6 cm, 9 cm ve 12 cm olan bir üçgenin çeşidi aşağıdakilerden hangisidir?
- A. Dik üçgen
B. İkizkenar üçgen
C. Çeşitkenar üçgen
D. Eşkenar üçgen

14. Bir ilçede bulunan A ve B kargo firmalarının kargolar için aldığı ücretler aşağıdaki gibidir: A kargo firması her 250 gr kargo için 5 TL almakta, B kargo firması ise her 500 gram-kargo için 9 TL almaktadır. Bir gün içerisinde A kargo firması 30 kg, B kargo firması ise 40 kg kargo hizmeti verdiği-ne göre bu iki kargo firmasının aldığı ücretler toplamı aşağıdakilerden hangisidir?
- A. 1200
B. 1320
C. 1520
D. 1720

15. SORUYA GEL



Ahmet'in bisikletiyle gittiği 6000 m yol ile ilgili aşağıdaki bilgiler veriliyor.

- Ahmet'in gittiği yolun beşte ikisi bozuk, geri kalanı düzgündür.
- Ahmet bozuk yolun 200 m'sini 10 dakikada düzgün yolun 100 m'sini 2 dakikada gitmektedir.

Ahmet yola 12:30'da çıktığına göre gittiği yere saat kaçta varmıştır?

- A. 14:30
B. 14:42
C. 15:12
D. 15:42

1.







Aşağıdakilerden hangisi yukarıda verilen teknolojik aletin olumlu yanlarından birisi değildir?

- A. Bilgiye kolay ulaşmamızı sağlar.
- B. Çeşitli durumlar için kolay iletişim kurmamıza katkı sağlar.
- C. Fazla kullanımı sosyal hayattan uzaklaşmamıza neden olur.
- D. Araştırma yapmamızı kolaylaştırır.

2. "Çocuk Hakları Sözleşmesi" hangi tarihte imzalanmıştır?

- A. 20 Kasım 1989
- B. 23 Nisan 1920
- C. 20 Ocak 1991
- D. 19 Mayıs 1919

3. Aşağıdaki ürünlerden hangisi için garanti belgesi düzenlenmez?

- A. 
- B. 
- C. 
- D. 

4. Aşağıdaki ifadelerden hangisi yanlıştır?

- A. Çocuk hakları tüm çocuklar için geçerlidir.
- B. 18 yaşın altındaki her birey çocuk olarak kabul edilir.
- C. Devlet çocukları korumak zorundadır.
- D. Her çocuk bir işte çalışma hakkına sahiptir.

5.



Samet

Alışveriş yaparken dikkat ettiğim hususlar:
 1 - Alışverişe gitmeden kesinlikle alışveriş listesi hazırlarım.
 2 - Ürünlerin üzerinde TSE damgası olmasına dikkat ederim.
 3 - Ürünün reklamının iyi yapılmış olmasına dikkat ederim.
 4 - Yerli ürünleri tercih etmeye özen gösteririm.
 5 - Pahalı ürünlerin daha kaliteli olduğunu düşünürüm.
 6 - Aldığım gıdaların son kullanma tarihlerini kontrol ederim.

Samet yukarıda alışveriş yaparken dikkat ettiği hususlar hakkında bilgi vermiştir. Samet'in dikkat ettiği maddeler ile ilgili aşağıdaki yorumlardan hangisi doğrudur?

- A. Samet'in listelediği tüm maddeler doğrudur.
- B. Samet'in 2. maddeye dikkat etmesi hatalıdır.
- C. Samet'in belirttiği 3. ve 5. maddeler hatalıdır.
- D. Samet'in her gıda maddesinin son kullanma tarihine dikkat etmesi hatalıdır.

6.



Dişimin çok ağrımamasını söyleme rağmen annem ve babam işi olduğu gerekçesiyle beni diş doktoruna götürmüyor.

Yukarıdaki çocuğun belirttiği duruma göre hangi hakkından mahrum bırakılmıştır?

- A. Eğitim hakkından
 - B. Sağlıklı yaşama hakkından
 - C. Düşüncesini ifade etme hakkından
 - D. Barınma hakkından
7. Bugün eğitsel kulübümüzce planladığımız yangın tatbikatı sorunsuz bir şekilde gerçekleştirildi." Bu ifadeyi kullanan bir öğrenci aşağıdaki kulüplerden hangisine dahildir?
- A. Kızılay Kulübü
 - B. Çevre Koruma Kulübü
 - C. Sivil Savunma Kulübü
 - D. Kütüphanecilik Kulübü

8.


Çevremizi temiz tutmak
Seçimlerde oy kullanmak
Denizleri kirlletmemek
Öğretmenini dinlemek
Ödevlerini özenli yapmak

Yukarıdakilerden kaç tanesi on sekiz yaşın altındaki bir bireyin sorumluluklarındandır?

- A. 1
- B. 2
- C. 3
- D. 4

9. Aşağıdakilerden hangisi dünya çocuklarının daha iyi eğitim görmesi ve haklarının daha iyi korunması amacıyla kurulan uluslararası kuruluştur?

A.




B.



C.



D.



10. Çocuk yaşta çalışmak zorunda kalan bir birey öncelikli olarak aşağıdaki haklardan hangisinden mahrum kalmış olur?

- A. Eğitim hakkından
- B. Yaşama hakkından
- C. Barınma hakkından
- D. Düşüncesini ifade etme hakkından

1.



Anneme toplu iğnelerini getirirken birden daldım ve toplu iğneler kedimin kumuna düşüverdi.

Yukarıdaki çocuğun toplu iğnelerini kuma düşürdüğünü gören annesi aşağıdaki ayırma yöntemlerinden hangisini kullanırsa toplu iğneler ile kumu ayırabilir?

- A. Süzme yöntemi ile ayırma
- B. Eleme yöntemi ile ayırma
- C. Miknatos ile ayırma
- D. Yüzdürme yöntemi ile ayırma

2. Aşağıdaki aydınlatma araçlarından hangisi diğerlerinden daha sonra geliştirilmiştir?

A.



B.



C.



D.



3.



Yukarıda verilen aydınlatma aracının yapımında aşağıdaki malzemelerden hangisi kullanılmıştır?

- A. Reçine ve odun parçaları
- B. Gaz yağı
- C. Kullanılmayan halatlar
- D. Hayvan kalıntıları

4.



Yukarıdaki limonatanın içine yanındaki buz atılacaktır. Limonatanın içine buz atıldıktan sonra oluşacak durum ile ilgili aşağıdaki yorumlardan hangisi yapılabilir?

- A. Limonatanın içinde buz aynı şekilde kalacak, limonatanın ısısı değişmeyecektir.
- B. Limonatanın içinde belirli bir süre sonra buz eriyecek, limonatayı da belirli bir miktar soğutacaktır.
- C. Limonatanın içine atılan buz hemen eriyecek limonatanın ısısında bir değişim gözlenmeyecektir.
- D. Limonatanın içindeki buz uzun süre aynı şekilde kalacak, limonatayı soğutacaktır.

5.

1 - Gramafon

2 - Fonograf

3 - Video Kamera

4 - Mp3 çalar





Yukarıdaki ses kayıt cihazlarının buluşlarının kronolojik sıralaması aşağıdakilerden hangisidir?

- A. 1 - 2 - 3 - 4
- B. 3 - 2 - 4 - 1
- C. 2 - 1 - 3 - 4
- D. 2 - 1 - 4 - 3


6. Aşağıdaki ifadelerden hangisi yanlıştır?

- A. Geri dönüşümü olan ürünleri geri dönüştürmek doğaya katkı sağlar.
- B. Giysilerimizi çamaşır makinesi yerine elde yıkamak su tasarrufu sağlar.
- C. Evimizde tasarruflu ampüller kullanmak elektrik israfının önüne geçer.
- D. Bozulan muslukları tamir ettirmek su israfını önler.

7. İşitme sorunu olan bireylerin çevreden gelen sesleri yükselterek daha rahat duymalarını sağlayan cihaz aşağıdakilerden hangisidir?

- A. 
- B. 
- C. 
- D. 





8.



Sıcak bir suya küp şeker atılıp belirli bir süre geçmesi halinde gözlenecek durumla ilgili aşağıdaki yorumlardan hangisi yapılabilir?

- A. Küp şeker suyun içinde eriyecektir.
- B. Küp şeker hal değişimine uğrayacaktır.
- C. Küp şeker suyun içinde çözünecektir.
- D. Küp şeker suyun içinde herhangi bir değişime uğramayacaktır.

9. Aşağıdakilerden hangisi geri dönüştürülebilir ürünler arasında yer almaz?

- A. 
- B. 
- C. 
- D. 


10.

- 1 Elektronik aletler kapalı iken fişlerinin çekilmesine gerek yoktur.
- 2 Her yemekten sonra bulaşık makinesi çalıştırılmalıdır.
- 3 Meyve ve sebzeler ihtiyacımız kadar alınmalıdır.

Yukarıdakilerden hangisi veya hangileri bilinçli tüketicinin yapması gereken davranışlardandır?

- A. 1 ve 2
- B. 1, 2 ve 3
- C. 2 ve 3
- D. Yalnız 3

1.



The season is

Yukarıdaki boşluğa hangisi gelmelidir?

- A. winter B. spring
C. summer D. autumn

2.



What is the weather like in summer?

- A. It is snowy and freezing.
B. It is rainy.
C. It is sunny and hot.
D. It is sunny and rainy.

3. Semra: Are you a dancer?

Ayşe: Yes, I am.

Semra: Do you like ?

Ayşe: Yes, I do.

Yukarıdaki boşluğa hangisi gelmelidir?

- A. writing B. dancing
C. singing D. flying

4. Hangi eşleştirme doğrudur?

- A. doctor → school
B. pilot → vet clinic
C. fireman → fire station
D. farmer → police station

5. Seda: It's snowy today.
May I your gloves?

Mine: No. They are

Yukarıdaki boşluklara sırasıyla hangileri gelmelidir?

- A. borrow / broken
B. borrow / dirty
C. take / umbrella
D. wear / sunglasses