

ÖDÜL

Çıkış zili çaldı. Hasan, arkadaşlarıyla beraber okulun yanındaki çiçekli alana gidecekti. Öğretmenleri de onlara eşlik edecekti. Geçen haftadan sözü vardı. Ödüllü soru sormuştu. Bilen kim olursa onunla bir saat çiçekli alanda oyun oynayacaktı. Soruyu Hasan bildi ve tüm arkadaşlarının gelmesini istedi. Öğretmeni bu teklifi kabul etti ve çok güzel vakit geçirdiler.

1. ve 2. soruları metne göre cevaplayalım.

1. Zil çalınca çocuklar nereye gitti?

- A. Okulun parkına
 B. Çiçekli alana
 C. Yeşil alan

2. Öğretmenin sorduğu soruyu kim bildi?

- A. Hasan
 B. Tüm çocuklar
 C. Enes

3. "İlkbahar" kelimesinde kaç tane ünsüz harf vardır? *l-k-b-h-r*

- A. 4 B. 5 C. 6

4.

tavşan



kelebek



fare



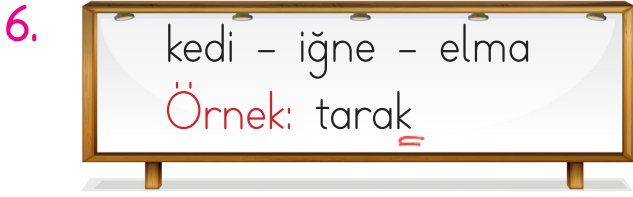
Görselleri verilen varlık adlarını sözlük sırasına göre yazdığımızda hangisi baştan ikinci sırada yer alır?

- A.  B.  C. 

fare - kelebek - tavşan
2.

5. Aşağıdaki cümlelerin hangisinde noktalama işareti yanlış kullanılmıştır?

- A. Asya eve gitti.
 B. Ooo, çok güzel olmuş!
 C. Oyun oynayacağız?



Öğretmen, tahtada kelimele-
rin son harfiyle yeni kelime-
ler türetme konusunu anlattı.
Öğretmenin tahtada vermiş
olduğu örnek aşağıdaki keli-
melerden hangisiyle devam
ettirilebilir?

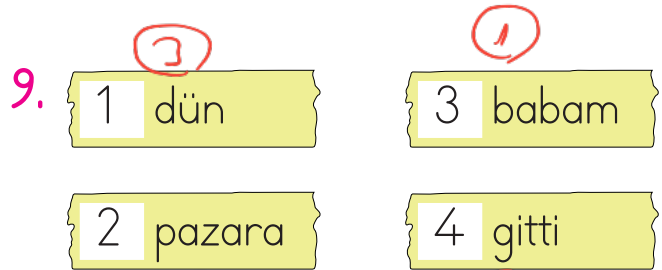
- A. Telefon
 B. Kelime
 C. Erik

7. Aşağıdaki kelimelerden hangi-
sinin hece sayısı yanlış veril-
miştir?

- A. salatalık → 4 hece ✓
 B. masa → 3 hece ✗
 C. sehpa → 2 hece ✓

8. Aşağıdaki cümlelerin hangisi-
nin sonuna "gittim" yazarsak
cümle anlamsız olur?

- A. Eve akşam ...gittim ✓
 B. Pazar günü pikniğe ..gittim ✓
 C. Arkadaşım bize ..gittim ✗



Yukarıdaki kelimelerle anlamlı
ve kurallı bir cümle oluşturdu-
ğumuzda sıralama nasıl olur?

- A. 4 - 2 - 3 - 1
 B. 1 - 4 - 3 - 2
 C. 3 - 2 - 1 - 4


10.





Yukarıdaki resim hangisini çağ-
rıştırır?

- A.  B.  C. 

11. Aşağıdakilerden hangisinin hece sayısı daha fazladır?

A.  Keplumbeğa
4

B.  Karınca
3

C.  Köpek
2

12.



Yukarıdaki kelimedede bazı harfler eksik verilmiştir.

Bu kelime sırasıyla hangi harflerle tamamlanırsa anlamsız olur?

- A. a - e Kale ✓
- B. u - ü Kulü x
- C. o - i Kali ✓


13. Meryem, oyuncak bebeği ile oynamayı çok seviyor.

Yukarıdaki cümlede kaç tane kelime vardır?

- A. 6 B. 7 C. 8

14. SORUYA GEL

Oklara dikkat ederek karıncayı istenilen yere ulaştıralım. Üzerinden geçtiği harfleri sırasıyla yazıp şifreyi çözelim.

 2 → 3 ↓ 2 → 2 ↓


H	A	B	İ	R	E	
D	E	R	İ	K	L	İ
F	L	İ	A	A	K	Ş
G	A	K	A	Ş	P	Ğ
H	L	J	K	İ	E	T
J	B	A	Ş	N	V	O


Oluşan şifre aşağıdakilerden hangisidir?


- A. HABİRE
- B. HELAL
- C. HARİKASIN

15. ki til ka raz vuk

Yukarıdaki hecelerle hangi hayvanın adı yazılamaz?

A.  Tavuk ✓

B.  Tilki ✓

C.  Kiraz ✓

1.

$$\begin{array}{r} 1 \\ + 6 \\ \hline 7 \end{array} \quad \begin{array}{r} 6 \\ - 2 \\ \hline 4 \end{array}$$

Yukarıdaki işlemlere göre $\bigcirc + \square$ işleminin sonucu hangisidir?


- A. 15 **B. 10** C. 6

$$\begin{array}{r} 7 \\ - 1 \\ \hline 6 \end{array} \quad 6 + 4 = 10$$

2. Aşağıdaki görsellerden hangisi yuvarlanamaz?

- A. B. C. ~~C~~

3.



Yukarıdaki karpuzlar toplam kaç yarım karpuz eder?

- A. 3 B. 4 ~~C. 6~~

4.



Beril Öğretmen çocuklara resimler göstererek hikaye anlatmaktadır. Anlattığı hikayede 1 koyun, 1 keçi ve 1 ördek vardır.

Beril Öğretmen'in anlattığı hikayedeki hayvanların ayak sayıları toplamı kaçtır?

- A. 15 **B. 10** C. 6

$$\begin{array}{ll} 1 \text{ koyun} & 4 \text{ ayak} \\ 1 \text{ keçi} & 4 \text{ ayak} \\ 1 \text{ ördek} & 2 \text{ ayak} \end{array}$$

$$4 + 4 + 2 = 10$$

5.

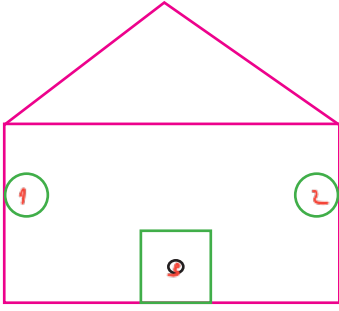


10 lira ile yukarıdaki toptan kaç tane alabiliriz?

- A. 5** B. 4 C. 3

$$\underbrace{2 + 2 + 2 + 2 + 2}_{5 \text{ tane}} = 10$$

6.



Yukarıdaki şekilde kaç çember kullanılmıştır?

- A. 1 B. 2 C. 3

7. Otobüste 9 erkek 4 kadın yolcu vardır. Durakta 3 erkek yolcu iniyor. Son durumda otobüste kaç yolcu olur?

- A. 10 B. 6 C. 16

$$9+4=13$$

$$13-3=10$$

8. Ağaçta 4 kuş vardır. Ağaca 7 kuş konduktan sonra 2 kuş uçuyor. Son durumda ağaçta kaç kuş vardır?

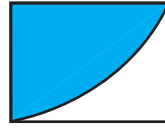
- A. 8 B. 9 C. 10

$$4+7=11$$


$$11-2=9$$

9. Aşağıdaki şekillerden hangisinin yarısı boyanmıştır?


A.



B.



C.




10.



Yukarıdaki örüntünün kuralı "2 armut, 1 ananas" olduğuna göre boş bırakılan yerlere sırasıyla hangileri gelmelidir?

A.



B.



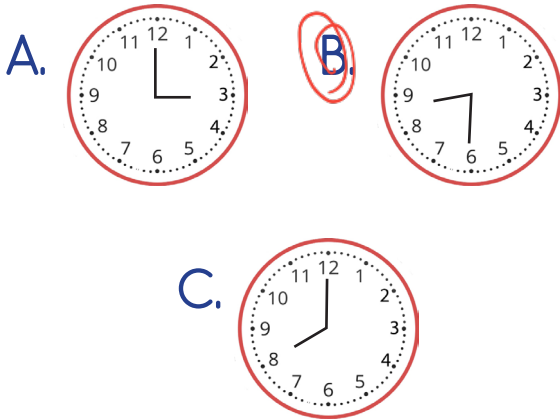
C.



11.



İlke, yukarıda verilen dijital saatin analog görünümüne uygun akrep ve yelkovan çizecektir. İlke'nin çizdiği akrep ve yelkovan aşağıdakilerden hangisi gibi olursa doğru olur?



12. Yanda gösterilen paranın 3 lirasını harcarsam ne kadar param kalır?



$$5 - 3 = 2 \text{ lira}$$



Çiftlikteki Hayvanlar	
Hayvan	Hayvan Sayısı
Tavuk	9
Hindi	5
Horoz	3

13, 14 ve 15. soruları verilen tabloya göre cevaplayalım.

13. Çiftlikte toplam kaç hayvan vardır?

A. 15 B. 16 C. 17

$$9 + 5 + 3 = 17$$

14. Hindi sayısının tavuk sayısıyla aynı olabilmesi için çiftliğe kaç hindi daha alınmalıdır?

A. 4 B. 6 C. 8

$$9 - 5 = 4$$

15. Horoz ve hindi sayılarının toplamı tavuk sayısından kaç eksiktir?

A. 3 B. 2 C. 1

1. Bayramlarda en çok yaşanan duygu aşağıdakilerden hangisidir?

- A. Öfke
- B. Kıskançlık
- C. Mutluluk

2. Aşağıdakilerden hangisi insanların başka ülkelere göç etmesinin nedenlerinden biri değildir?

- A. Eğitim
- B. Daha iyi koşullarda yaşamama isteği
- C. Boş zamanlarını değerlendirme

3., Türkiye Cumhuriyeti'nin kurucusudur.

Yukarıda boş bırakılan yere hangisi gelmelidir?

- A. Mehmet Akif Ersoy
- B. Mustafa Kemal Atatürk
- C. Kanuni Sultan Süleyman

4. Korkma, sönmez bu şafaklarda yüzen al sancak;
Sönmeden yurdumun üstünde tüten en son ocak.
 benim milletimin yıldızıdır, parlayacak;
 benimdir, o benim milletimindir ancak.

Yukarıdaki dördlük hangi şairimiz tarafından yazılmıştır?

- A. İsmet İnönü
- B. Mustafa Kemal Atatürk
- C. Mehmet Akif Ersoy

5.



Yukarıdaki görselde Sinem'in masasında bulunan ne modelidir?

- A. Dünya modeli
- B. Ülke modeli
- C. Kıta modeli

6. Furkan hafta sonu ailesiyle tertemiz bir derenin, yemyeşil ağaçların ve eski evlerin bulunduğu bir alana gidiyor. Gittiği yerde, oranın yöneticisi olan kişiyle karşılaşıyor. Karşılaştığı kişinin muhtar olduğunu sonradan anlıyor.
Furkan'ın gittiği yer hangisidir?

- A. İl B. İlçe C. Köy

7. Ülkemize göç etmiş insanlara nasıl davranmalıyız?

- A. Hoşgörülü
B. Agresif
C. Kıskanç

8. Aşağıdaki şehirlerden hangisi mantısı ile ünlüdür?

- A. Adana
B. Kayseri
C. İstanbul

9.



Öğretmeni, Sibel'e yukarıdaki görselden bir yer gösteriyor. Gösterdiği yerin hangi ülke olduğunu soruyor.

Sibel aşağıdaki cevaplardan hangisini verirse doğru cevap vermiş olur?

- A. İstanbul
B. Almanya
C. Türkiye

10. Aşağıdakilerden hangisi ülkemizde yaşayan farklı kültürdeki insanlar arasındaki benzer yönlerdendir?

- A. Temel ihtiyaçlar
B. Konuşulan dil
C. Geleneksel kıyafetler