

Hepsinin Tadı Aynı

Nasrettin Hoca, bağından üzüm toplamış evine götürüyormuş. Şehre girince çocuklar başına üşüşüp "Hoca Hoca bize birer salkım üzüm ver." demişler. Hoca, çocukların çokluğunu görünce her birine üçer beşer üzüm vermiş. "Hoca bu kadar az verilir mi?" demişler. Hoca demiş ki: - Çocuklar, küfelerdeki bütün üzümlerin tadı da bir tanesinin tadı da aynı. Az yemekle çok yemek arasında bir fark yok ki.

1, 2 ve 3. soruları metne göre cevaplayalım.

1. Nasrettin Hoca üzümleri nereden toplamış?

- A. Bahçeden
- B. Bağından
- C. Köyden

2. Şehre girince kimler Hoca'nın başına üşüşmüş?

- A. Çocuklar
- B. Akrabaları
- C. Halk

3. Nasrettin Hoca çocuklara üzümleri nasıl dağıtmış?

- A. Çocukların istediği kadar.
- B. Sepet sepet
- C. Her birine üçer beşer

4.



Yukarıdaki numaralandırılmış sözcüklerden hangisi sözlükte diğerlerinden sonra gelir?


A. 1

B. 2

C. 3

kalem - kaşık - kaymak

5.

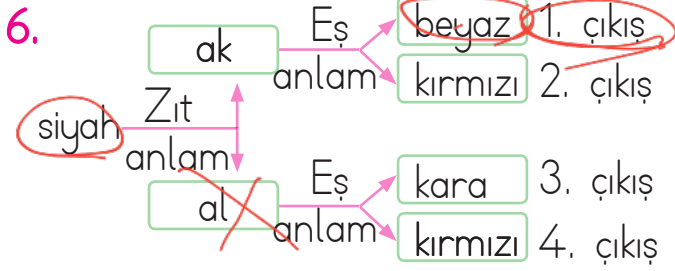


Verilen sözcüklerin eş anlamlıları karşlarına yazılacaktır. Buna göre yazılacak sözcükler hangi seçenekte verilmiştir?

A. yürek, hayat, tümce

B. yürek, hatıra, tümce

C. nefes, hayat, sözcük



Verilen yönergelere uygun olarak hareket edildiğinde hangi çıkışa ulaşılır?

- A. 3. çıkış B. 2. çıkış C. 1. çıkış



Yukarıdaki kelimelerden kurallı ve anlamlı bir cümle oluşturursak son sıradaki sözcüğün temsil ettiği geometrik cisim hangisi olur?

- A. silindir *Kitabıma kırmızı ayraç yaptım*
 B. küp
 C. kare prizma

8. Aşağıdaki cümlelerin hangisinde noktalama işaretinin yanlış kullanımıyla ilgili bir hata yapılmıştır?

- A. Asi, korkusuz bir çocuktur....
 B. 3. sınıfa başlayacağım.
 C. Sevgili Babacığım,

9. SORUYA GEL



Çeyrek karpuz bir heceyi, yarım karpuz iki heceyi ifade etmektedir.

Buna göre bütün karpuz aşağıdaki kelimelerden hangisini ifade ediyor olabilir?

- A. Karadeniz *4 hece*
 B. Akdeniz *3 hece*
 C. Ege *2 hece*

10.



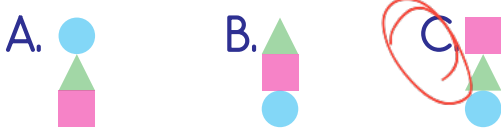
Yukarıdaki bisikletin özellikleri hangi 5N1K sorusuyla bulunabilir?

- A. Ne zaman?
 B. Kim?
 C. Nasıl?

11. Zavallı kedi aç görünüyor.
Aaa, bunu sen mi yaptın?
Yaşasın, okullar açıldı.



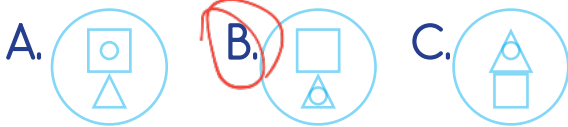
Cümlelerin başındaki kutucuklara yansıttıkları duyguların sembolü konulursa nasıl bir görüntü oluşur?



12. ● Çemberin için bir kare çiz.
● Karenin altına bir üçgen çiz.
● Üçgenin içine bir çember çiz.



Verilen yönergelere göre oluşan şekil hangisidir?



13. Biber domatesten daha acıdır.
Yukarıdaki cümleye karşılaştırma anlamı katan sözcük hangisidir?

A. acıdır B. daha C. biber

14. Ağaçları suladı
Markete gitmedi
Nerede oturuyorsunuz
- Olumsuz cümle
Soru cümlesi
Olumlu cümle

Yukarıdaki cümleler, türleriyle eşleştirilecektir.

Buna göre doğru eşleştirme nasıl olmalıdır?




- 15.



Yukarıdaki görselde hangi sorunun cevabı yoktur?

- A. Ağacın gövdesi hangi renktir? ✓
B. Akarsu nereden geçiyor? ✓
C. Kuşlar nasıl uçuyor?



1.  3 onluk 8 birlik

Yukarıdaki sayıyla aynı çokluğu belirten ifade hangisidir?

- A. 3 ³⁶ düzine 8 birlik = $36+8=44$
 B. 3 ³⁰ deste 8 birlik = $30+8=38$
 C. 3 ³⁰ deste 8 ³⁶ düzine = $36+30=126$

2.


54	Birler basamağının basamak değeri	→ 4
61	Onlar basamağının basamak değeri	→ 60

Yukarıdaki sayılarla ilgili istenenler dairelere yazıldığında  +  işleminin sonucu kaçtır?

- A. 64 B. 54 C. 56

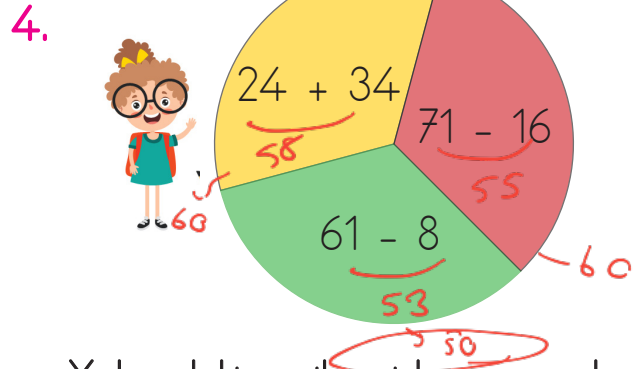
$60+4=64$

3.  3, 6, 9, 12, 15, 18, 21, 24, 27, 30

 2, 4, 6, 8, 10, 12, 14, 16, 18, 20, 22, 24, 26, 28, 30

Yukarıdaki çocuklar verilen sayılardan başlayarak kuralı verilen örüntüye göre ritmik sayma yapacaktır. Buna göre hangisi çocukların söylediği ortak sayılardan değildir?

- A. 12 ✓ B. 18 ✓ C. 21



Yukarıdaki verilen işlem sonuçlarının hangisinin yuvarlandığı en yakın onluk en küçüktür?

- A.  B.  C. 

5.

27	Sude	$27 + 63 = 90$
+ 	Karan	$63 - 27 = 36$
63	Ayaz	$23 + 23 = 46$

Yukarıda verilen toplama işleminde verilmeyen sayıyı hangi öğrenci doğru bulmuştur?

- A. Sude
 B. Karan
 C. Ayaz

$$\begin{array}{r} 64 \\ -27 \\ \hline 37 \end{array}$$

$$\begin{array}{r} 28 + 26 = 37 + 27 \\ 27 + 37 = 38 + 26 \\ 26 + 38 = 39 + 25 \end{array}$$

Yukarıdaki toplama işlemlerinde verilmeyen sayılar hangi örüntüyü oluşturur?

- A. İleriye doğru birer birer
B. Geriye doğru ikişer ikişer
C. İleriye doğru ikişer ikişer

7.

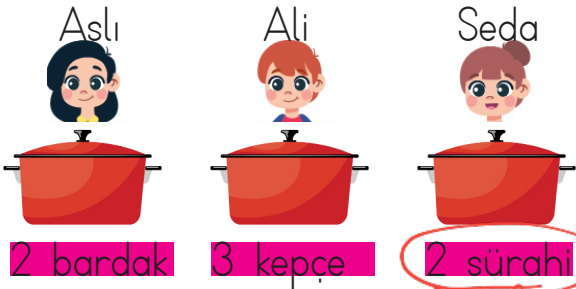


Ayla her gün bir önceki günden 2 sayfa fazla kitap okuyarak okuduğu kitabı 4 günde bitirmektedir. Ayla ilk gün 4 sayfa kitap okuduğuna göre okuduğu kitap kaç sayfadır?

- A.28 B.30 C.32

$$4 + 6 + 8 + 10 = 28$$

8.



Yukarıdaki 3 arkadaşın aynı büyüklükteki tencereye koydukları su miktarı verilmiştir. Buna göre hangisinin tenceresindeki su miktarı daha fazladır?

- A. Ali B. Seda C. Aslı

9. SORUYA GEL



Çiftçi yukarıdaki alana 32 tane tohum ekecektir. Bu ekeceği tohumların çeyreği domates, yarısı biber, kalanı ise salatalıktır.

Buna göre aşağıda verilen ifadelerden hangisi yanlıştır?

- A. Ekilen salatalık ve domates miktarı eşittir. $8 = 8$ ✓

- B. Toplam 16 tane biber tohumu ekilmiştir. ✓

- C. Ekilen salatalık ve biber tohumlarının miktarı 26'dır.

$$\begin{array}{l} 32 \div 4 = 8 \text{ domates} \\ 32 \div 2 = 16 \text{ biber} \\ 8 \text{ ise salatalık} \end{array}$$

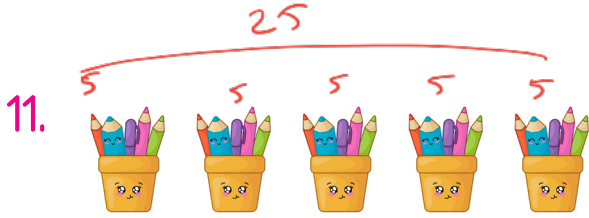
10.



Yukarıdaki kedi günde 4 kase, yavrusu ise 2 kase kedi maması yemektir. Buna göre kedi ve yavrusu 5 günde kaç kase mama tüketir?

- A. 30 B. 35 C. 40

$$\begin{array}{l} 1 \text{ günde } 4+2=6 \text{ kase mama yeri.} \\ 6 \times 5 = 30 \text{ kase} \end{array}$$

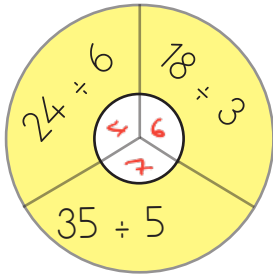


Yukarıdaki kalemlerden kaç tane çıkarırsak kalem sayısı 2 düzineye eşit olur?

- A.1 B.3 C.5

2 düzine $12+12=24$
 $25-24=1$ tane çıkarırsak

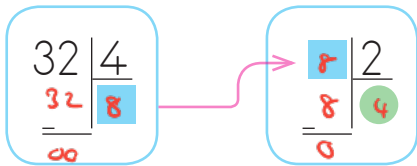
12.



Yukarıdaki bölme işlemlerinde bölmeler içindeki çarklara yazılacaktır. Buna göre sonuçların doğru yazıldığı çark hangisidir?

- A. B. C.

13.




Yukarıdaki bölme işlemlerine göre

$8 + 4$ işleminin sonucu kaçtır?

- A.12 B.8 C.10

14.



Yukarıda verilen elmaların tamamı kaç bütün eder?

- A.4 B.5 C.6

5 bütün toplarsak

15.

12 çeyrek armut 3. bütün eder.
 16 yarım karpuz 8. bütün eder.

Yukarıdaki boşluklara aşağıdaki ifadelerden hangisi yazılamaz?

- A.3 $12 \div 4 = 3$
 B.8 $16 \div 2 = 8$
 C.6

1. Sağlıklı bir hayat için temizliğe öncelikle nereden başlanmalıdır?

- A. Okulumuzdan
- B. Sokağımızdan
- C. Evimizden

2. Sağlıklı büyümek ve gelişmek için

Yukarıdaki boşluk hangi ifade ile tamamlanamaz?

- A. Dengeli beslenmeliyiz.
- B. Spor yapmalıyız.
- C. Kitap okumalıyız.

3. ① İlaçlarımızı, ② Yemek yerken, ③ Dengeli ve düzenli

Ⓐ beslenmeliyiz
Ⓑ görgü kurallarına uymalıyız.
Ⓒ eczaneden alırsınız.

Yeşil alanda yazan ifadeleri tamamlayan cümlelerin eşleştirilişi hangi seçenekte verilmiştir?

- A.

1	C
2	B
3	A
- B.

1	A
2	B
3	C
- C.


1	A
2	C
3	B

4.



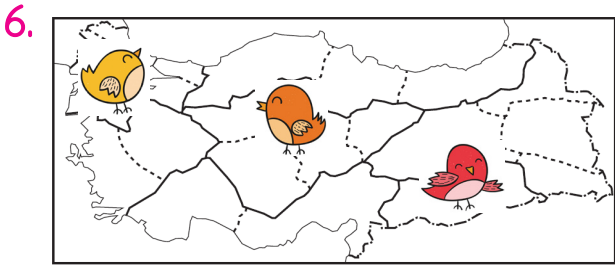
Tuna yeterli ve dengeli beslenen bir çocuktur

Buna göre Tuna kahvaltıda aşağıdakilerden hangisini tüketmez?



5. Aşağıdakilerden hangisi doğal afetlerden zarar görenlere kurtarma, ilk yardım, yiyecek, barınma ve giyecek yardımı yapan kurumdur?

- A. SAĞLIK OCAĞI
- B. Yeşilay
- C. AFAD



Hangi kuş ülkemizin başkenti üzerindedir?

- A. B. C.

7. Aşağıdakilerden hangisinin okul servisindeki davranışı yanlıştır?

- A. Kapı ve pencereleri açmam.
- B. Ayağa kalkıp arkadaşlarıma fıkra anlatırım.
- C. Kendi yerimde otururum.

8. Aşağıdaki görsellerden hangisinde İstiklal Marşı'mızın yazarı verilmiştir?

- A. B. C.

9. Asya ve Avrupa kıtalarını birleştirir.

İtalya, ülkemizin komşusudur.

Karadeniz ülkemizin kuzeyindedir.

Yukarıdakilerden hangileri ülkemizle ilgili doğru bilgidir?

A.

B.

C.

10.



? yerine ne gelmelidir?

- A. Bayrak
- B. İstiklal Marşı
- C. Millet


1. Görseli ifade eden kelime hangisidir?

- A) rabbit
 B) cat
 C) bird



2. How many Frogs?

- A) Three frogs
 B) Five frogs
 C) Two frogs



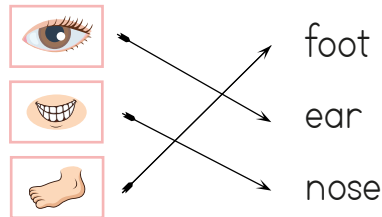
3. Where is the dog?

- A) On the tree
 B) Under the table
 C) in the dog house



4. Eşleştirmelerden hangisi doğrudur?

- A) ear
 B) nose
 C) foot



5. Sorusunun cevabı hangisidir?

- A) Two ears
 B) Four ears
 C) Six ears

How many ears?

