







11.



Merve yukarıda verilen saatte okuldan dönmüştür. Merve okula 6 saat önce gittiğine göre okula gittiği saat kaçtır?


 Çözüm:

14. Balıkçı Yusuf, her gün eşit olmak üzere üç günde 75 balık avlamıştır. Balıkçı Yusufun iki günde avladığı balık sayısı kaçtır?


 Çözüm:

12. Bir doktor her saatte 15 hasta muayene etmektedir. Bu doktor 6 saatte kaç hasta muayene eder?


sonerhoca.net

 Çözüm:

13. Defne'nin 2 tane 50 kuruşu, 5 tane 10 kuruşu, 2 tane 25 kuruşu vardır. Defne'nin kaç lirası vardır?

 Çözüm:

15. Bir kalemin fiyatı 36 liradır. Kitabın fiyatı ise kalemin fiyatından 15 TL azdır. Bu kalem ve kitabı alan biri kaç lira ödemelidir?

 Çözüm: