

Eve bir kitaplık aldık. Kitaplığın üç tane rafı vardı. En üstteki rafa hikaye kitaplarını, en alttaki rafa şiir kitaplarını dizdik. Masal kitaplarını da boş kalan rafa dizdik. İstedğim zaman kitaplığımdan kitap alıp okuyabilecektim. İlk defa bir kitaplığım olmuştu.

1. ve 2. soruları metne göre cevaplayalım.

1. Kitaplığın orta rafına hangi tür kitaplar dizilmiştir?

A. masal **B.** hikaye **C.** şiir

Hikaye
Masal → orta
Şiir

2. Kitaplığın kaç tane rafı vardır?

A. 1 **B.** 2 **C.** 3

3.

o ker as kul
1 2 3 4

Yukarıdaki hecelerin hangi ikisi birleştiğinde **öğrenim görülen yer** anlamındaki sözcük oluşur?

A. 1 ve 4 **B.** 2 ve 3 **C.** 2 ve 4

4. Aşağıdaki öğrencilerden hangisinin ifadesi bir cümledir?

A. Eve giderken kedi **B.** Su içtim



C. Köpeğin maması



5. Aşağıdaki sözcüklerden hangisinin zıt anlamlısı yanlış yazılmıştır?

Sözcük Zıt Anlamlısı

A. korkak cesur ✓
B. ağır ince ✗
C. bayat taze ✓

6.

Özel adlara gelen ekler, kesme işareti (') ile ayrılır.

Yukarıda verilen bilgiye göre aşağıdaki cümlelerin hangisinde kesme işareti kullanılmalıdır?

A. Yarın **Ankaraya** gideceğiz.
B. İstanbul çok güzel bir yer.
C. Bu elbiseyi İlke aldı.

Tabloda pazardan satın alınan sebzelerin sayısı gösterilmiştir. 7. ve 8. soruları tabloya göre cevaplayalım.

Elma	Karpuz	Armut	Kavun
11	5	9	14

7. Pazardan en çok hangi meyveden satın alınmıştır?

- A. Armut **B. Kavun** C. Elma

8. Pazardan en az alınan meyve ile en fazla alınan meyve sayıları arasındaki fark kaçtır?


- A. 13 B. 11 **C. 9**
- $$\begin{array}{r} 14 \\ - 5 \\ \hline 9 \end{array}$$

11. Yandaki resimle ilgili olarak;

- Boyu en uzun olan kişi Ahmet'tir.
- Arda'nın boyu, Kemal'in boyundan kısadır.

Hangileri yer değiştirirse büyükten küçüğe bir sıralama oluşur?

- A. Ahmet - Arda B. Ahmet - Kemal **C. Kemal - Arda**



9. Tablo: Ahırdaki Hayvanlar

Hayvanlar	Sayıları
At 3	
İnek 2	
Keçi 5	

Her nesne bir hayvanı göstermektedir.

Yukarıdaki tabloda bir ahırdaki hayvan sayıları verilmiştir.

Buna göre bu ahırda toplam kaç hayvan vardır?


- ~~A. 10~~ B. 11 C. 12
- $$\begin{array}{r} 3 \\ 2 \\ 5 \\ \hline 10 \end{array}$$

10. 1 cetvelin boyunu 4 karışım ile ölçebiliyorum.

Buna göre 2 cetvelin boyu kaç karıştır?

- A. 6 **B. 8** C. 10
- $$\begin{array}{r} 2 \text{ cetvel} \\ 4 \\ + 4 \\ \hline 8 \end{array}$$


12. Hangi ölçüm aracı her zaman doğru sonuç verir?




13. Aşağıdakilerden hangisi bitki değildir?

- A. çita
B. nilüfer
C. enginar

14. Aşağıdakilerden hangisi otla beslenir?



15. Aşağıdakilerden hangisi evcil hayvan değildir?



ADI:

SOYADI:

SINIFI:

PUANI:

1	A	B	C
2	A	B	C
3	A	B	C
4	A	B	C
5	A	B	C
6	A	B	C
7	A	B	C
8	A	B	C
9	A	B	C
10	A	B	C
11	A	B	C
12	A	B	C
13	A	B	C
14	A	B	C
15	A	B	C