

Merhaba, benim adım Ferhat. Boş zamanlarımda resim yapmayı çok seviyorum. Özellikle doğa ve ağaç resimleri çiziyorum. En çok sarı ve kahverengi renklerini seviyorum. Son çalışmamda ağaçlara, hayvanlara ve akarsuya yer vereceğim. Biten resmimi doğum günü hediyesi olarak ablama hediye edeceğim.



1. ve 2. soruları metne göre cevaplayalım.


1. Ferhat en çok hangi renkleri seviyor?

- A. Yeşil ve kahverengi
- B. Sarı ve kahverengi
- C. Sarı ve mor

2. Ferhat biten resim çalışmasını kime hediye etmek istiyor?

- A. Ablasına
- B. Annesine
- C. Babasına

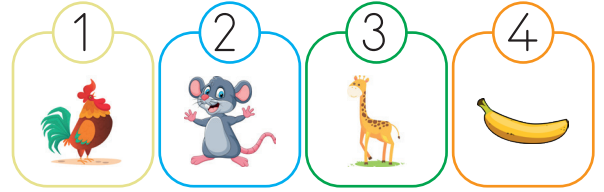
3.



Yukarıdaki sözcükle oluşturulan anlamlı ve kurallı cümlede hangi sözcük en sonda olur?

- A. ablam
- B. yaptı
- C. dün

4.



Hangi ikisinde eşit sayıda hece vardır?

- A. 2 ve 3
- B. 3 ve 4
- C. 1 ve 2

5.

Dün çok kuvvetli bir rüzgar vardı.

Yukarıdaki cümlede hangi sorunun yanıtı yoktur?

- A. Niçin?
- B. Ne zaman?
- C. Ne?

6. ■ Cümle sonuna nokta konur. 8.

▲ Özel isimler ünlem işareti ile ayrılır.

● Sıra bildiren sözcüklerden sonra nokta konur.

Yukarıdaki ifadelerden hangiler doğrudur?

A. ■ ● B. ▲ ● C. ■ ▲

7.



● Parmak



● Karış

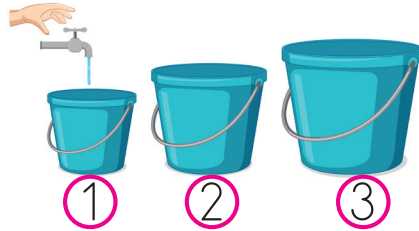


● Adım

Yukarıdaki görsellerin uygun ölçme araçları ile eşleştirilmesi hangi seçenekte verilmiştir?

A. B. C.

10.



Yukarıdaki kovalara eşit miktarda su koyulacaktır Buna göre kovalardaki su miktarı için hangisi söylenemez?

A. Tüm kovalardaki suyun yüksekliği aynıdır.

B. 2 numaralı kovadaki su yüksekliği 1 numaralı kovadan düşüktür.

C. 3 numaralı kovadaki su yüksekliği en azdır.



Emre ve sudeniz yaptığı ölçümler için hangisi söylemez?

A. Emre'nin yaptığı ölçüm sonucu kişiden kişiye değişmez.

B. Sude'nin yaptığı ölçüm sonucu kişiden kişiye değişir.

C. Sude standart ölçme aracı ile ölçüm yapmıştır.

9. Hangi şişede daha çok portakal suyu vardır?

A. B. C.

11. Aşağıdakilerden hangisi sıvıların miktarını ölçmek için kullanılmaz?



12. 1 tencere, 3 sürahi ile doluyorsa 3 tencere kaç sürahi ile dolar?

A. 9 B. 8 C. 6

13. Aşağıdakilerden hangisi geri dönüşüme uygun değildir?



14. geri dönüşümü ormanların yok olmasını önler.

Yukarıdaki ifadede boş bırakılan yere hangisi yazılmalıdır?

A. Plastiklerin B. Kağıtların
C. Demirlerin

15. Çevresini temiz tutmak isteyen biri hangisini yapmamalıdır?

- A. Yerlere çöp atmamalıdır.
B. Geri dönüşüme uygun olmayan etikları istediği yere atmalıdır.
C. Yeşil alanlara zarar vermemelidir.

ADI SOYADI :

SINIFI :

PUANI :

1	A	B	C
2	A	B	C
3	A	B	C
4	A	B	C
5	A	B	C
6	A	B	C
7	A	B	C
8	A	B	C
9	A	B	C
10	A	B	C
11	A	B	C
12	A	B	C
13	A	B	C
14	A	B	C
15	A	B	C