






6.




Yukarıda verilen eşitliklere göre yarısı dolu olan bir kovayı doldurmak için kaç bardak suya ihtiyaç vardır?

 Çözüm:

7. Bir parkta ikişer ve üçer kişilik banklar bulunmaktadır. 41 kişiden 18'i 2 kişilik banklarda, geri kalanlar ise 3'er kişilik banklarda oturduğuna göre parkta toplam kaç bank vardır? (Tüm banklar dolmuştur)

 Çözüm:

8. Tuna'nın evden çıkıp parka yürümesi yarım saat sürüyor. Saat 9.00'da evden çıkıp parka giden Tuna saat 12.00'da eve döndüğüne göre parkta kaç saat kalmıştır?

 Çözüm:

9.




Atlı Karınca = 3 TL

Dönme dolap 5 TL


Patlamış mısır = 6 TL

Lunaparka giden Ayaz atlı karıncaya 3, dönme dolaba 4 kez binmiş ve bir tane patlamış mısır almıştır. 50 lirası olan Ayaz kalan parasıyla atlı karıncaya kaç kez daha binebilir?

 Çözüm:

sonerhoca.net

10. Öğretmen Ertunç Bey öğrencilerinin yaptığı resimleri panoya asacaktır. Her resim için 4 tane raptiye kullanılacaktır. Bir kutuda 8 tane raptiye olduğuna göre 5 kutu raptiye ile kaç öğrencinin resimleri asılabilir?

 Çözüm:

