

ÇUBUKTA ÇİKOLATA

Deniz, çikolata yerken elinin çikolata olmasından hoşlanmıyordu. Bunun için aklına çok güzel bir çözüm gelmişti. Dolaptan çikolataları aldı. Sıcak su yardımıyla eriterek çekmeceден aldığı kaplara doldurdu. İçine de çubuklar yerleştirip dolaba attı. Belli bir süre bekledikten sonra çikolataları çıkardı. Çubuklar, elinin çikolata olmasını engelleyecekti.



1 ve 2. soruyu metne göre cevaplayalım.

1. Deniz'in çikolata yerken hoşlanmadığı şey nedir?

- A. Çikolatanın ağzına bulaşması
- B. Elinin çikolata olması
- C. Çikolatanın erimesi

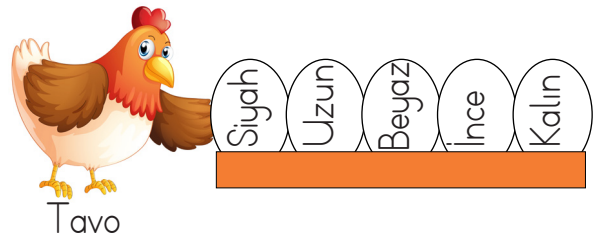
2. Deniz, çikolataları nasıl eritti?

- A. Ocağın üstünde
- B. Fırında
- C. Sıcak su yardımıyla

3. Deniz, elinin çikolata olmasını nasıl engelledi?

- A. Çubukların yardımıyla
- B. Bardağa koyarak
- C. Kaseye koyarak

4.



Tavo

Tavo, yumurtalarının karışmaması için üzerine zıt anlamlı sözcükler yazmıştır. Kümese girdiğinde bir yumurta fazla olduğunu görmüştür.

Hangi yumurta Tavo'nun değildir?

- A. Uzun
- B. Beyaz
- C. İnce

5.



O, kırmızı kitabına odaklandı.

Kaan'ın okuduğu cümleyle ilgili aşağıdaki yorumlardan hangisi yapılamaz?

- A. İlk kelime adın yerine kullanılmıştır.
- B. İkinci kelime varlığın özelliğini belirtmiştir.
- C. Son kelime olumsuzdur.

6.  Öğretmenimiz, tahtaya karşılaştırma ifadesi yazdı.

Yukarıdaki öğrencinin ifadesine uygun cümle aşağıdakilerden hangisidir?

- A. Buse, Cevdet'ten daha uzundur.
B. Karnı ağrıdığı için yemek yemedi.
C. Yazısını beğendim çünkü çok düzenli yazmış.

7. **Abur cubur**

Yukarıdaki deyim anlamı aşağıdakilerden hangisinde verilmiştir?

- A. Bir şey üzerinde çalışmaya başlamak
B. Önemsiz görünen işler
C. Rastgele yenen, yemek yerini tutmayan yiyecekler

8. Aman() dikkat et()

Nasıl olması gerektiğini biliyorum()

İzmir()den hediye getirmiş()

Yukarıdaki cümlelerde yay ayrıçla belirtilen yerlere sırasıyla hangi noktalama işaretleri gelmelidir?

- A. , . ? ' .
B. , ! , ' .
C. ! , . , ' .

9. Ali, Esmâ, Çınar sınıf tahtasına aşağıdaki cümleleri yazmışlardır.

- 1 Ormanda yürüyüş yaptık.
2 Güneş bana uzaktan gülümsüyordu.
3 Babam bana araba aldı.

Bu cümlelerle ilgili olarak şunlar bilinmektedir:

- Esmâ'nın cümlesi hayal ürünüdür.
→ Çınar'ın cümlesinde topluluk adı vardır.

Buna göre cümlelerin kime ait olduğu hangi seçenekte doğru verilmiştir?

- | | | | |
|----|-------|-------|-------|
| | 1 | 2 | 3 |
| A. | Ali | Çınar | Esmâ |
| B. | Esmâ | Ali | Çınar |
| C. | Çınar | Esmâ | Ali |










10. SORUYA GEL

 ⇒ 1 harfe karşılık gelmektedir.

 ⇒   

 ⇒  

Yukarıda verilen bilgilere göre aşağıdakilerden hangisi "kalemlik" sözcüğüne karşılık gelir?

- A.    B.   
- C.   

11.

■ Ne zaman?

● Nereye?

▲ Kim?

Yukarıdaki soruların yanıtlarının doğru gösterildiği cümle hangisidir?

A. Ali, İstanbul'a akşam gidecek.
▲ ● ■

B. Adana'da sonbahar güzel olur.
● ▲ ■

C. Evrim, yatağında mısıl mısıl uyuyor.
▲ ● ■

12. Aşağıdaki cümlelerden hangisi hem olumlu hem devriktir?

- A. Ağaçtaki kuşun yavruları var.
B. Babam da geldi benimle.
C. Filiz gelmedi okula.

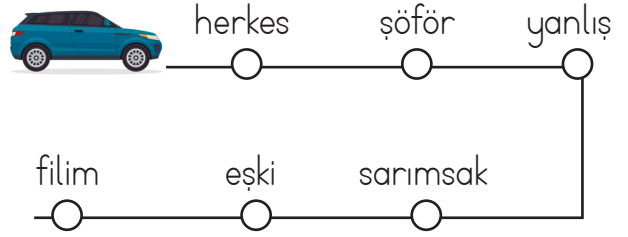
13.

Büyük bir çukur kazdılar.

Yukarıdaki cümle ile ilgili aşağıdakilerden hangisi söylenebilir?

- A. İstek cümlesidir.
B. İş bildiren bir cümledir.
C. Düşünce cümlesidir.

14.



Şekildeki araç yol boyunca ilerleyip yazım yanlışları olan noktalarda mola verecektir. Buna göre aracın mola verdiği noktalar boyanırsa nasıl bir görünüm elde edilir?

A.

B.

B.

C.

C.

C.

15.


Kitapta bilgi şöleni var.
Her sayfası ayrı sarar.
İyi okuyup anlarsan,
Her durumda işe yarar.

Kitapta geçmişin izleri var.
Bilgiler sel olup akar.
Doğru yere bakarsan,
Her durumda işe yarar.

Yukarıdaki şiir için aşağıdakilerden hangisi söylenemez?

- A. 8 kıtadan oluşmaktadır.
B. 2 dörtlükten oluşmaktadır.
C. 8 dizeden oluşmaktadır.

1.



Yukarıda bir sınıftaki sıralar verilmiştir. Sınıftaki öğrenciler yukarıdaki sıralara ikişerli oturdukları zaman 3 öğrenci ayakta kalmaktadır. Buna göre sınıf mevcudu kaçtır?

- A. 15 B. 12 C. 13

2.




Sevda yukarıdaki araçla saat 09.45'te İstanbul'dan Adana'ya doğru yola çıkmıştır. Yolculuğu on buçuk saat sürmüştür.

Buna göre saat kaçta Adana'ya varmıştır?

- A. 19.45 B. 20.15 C. 20.30

3.



Yukarıdaki kalemlere bir miktar daha kalem eklendikten sonra 4 arkadaşta eşit olarak paylaştırılmıştır. Buna göre kalemlere en az kaç kalem daha eklenmiştir?

- A. 4 B. 3 C. 2

4.



Bölüm 32'dir.
Bölen bölümün çeyreğidir.
Kalan bölünenin yarısıdır.

Alper, yaptığı bölme işlemi hakkında bazı bilgiler vermiştir. Alper'in verdiği bilgilere göre bölünen kaçtır?

- A. 240 B. 260 C. 280

5. Çağla, kumbarasına her gün 2 tane 1 TL, 3 tane 25 kr atmaktadır. Çağla 1 haftada ne kadar para biriktirir?




- A. 19 TL 25 kr
B. 18 TL 75 kr
C. 17 TL 50 kr

6. 4 saat★..... dakikadır.
300 dakika●..... saattir.
210 dakika◆..... saat▲..... dakikadır.

Yukarıda verilen ifadelerde boş bırakılan yerlere gelmesi gereken sayılar hangi seçenekte verilmiştir?

- | | | | | |
|----|-----|---|---|----|
| | ★ | ● | ◆ | ▲ |
| A. | 240 | 5 | 3 | 30 |
| B. | 300 | 6 | 3 | 30 |
| C. | 240 | 5 | 4 | 30 |

7. Annem 14.55'te alışverişe gitti. 1 saat 20 dakika alışveriş yaptıktan sonra eve döndü. Annem eve döndüğünde saat kaç olur?



8. Bir kare prizmanın tüm yüzleri bir kağıda çizildiğinde aşağıdakilerden hangisi elde edilir?
- A. 6 eşit kare
B. 2 tane dikdörtgen 4 tane kare
C. 4 tane dikdörtgen 2 tane kare

9.

Kırtasiye	55 lira
Pantolon	65 lira
Gömlek	45 lira

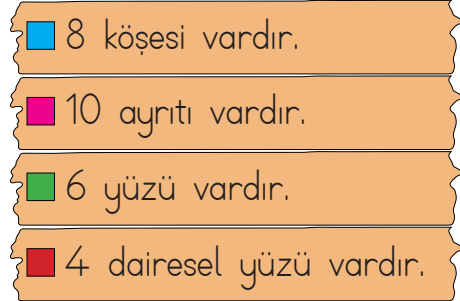
Okul alışverişi için çıkan bir ailenin harcamalarıyla ilgili aşağıdaki bilgiler verilmiştir.

- Toplam 500 liralık alışveriş yapmıştır.
- 125 liraya kitap
- 230 liraya mont
- 90 liraya çanta alınmıştır.

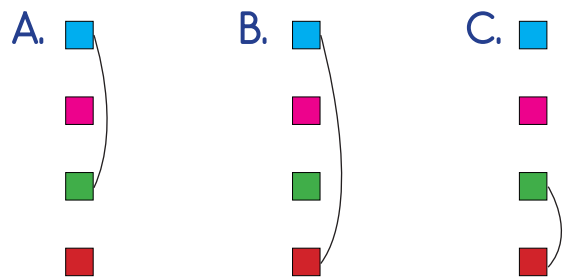
Kalan parasının tamamıyla yukarıdakilerden hangisini almıştır?

- A. Pantolon
B. Kırtasiye
C. Gömlek

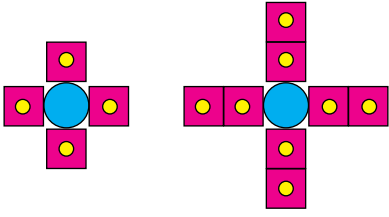
10.



Yukarıda verilenlerden küp ve dikdörtgenler prizmasının ortak özelliği olanlar birleştirildiğinde nasıl bir görünüm elde edilir?



11.

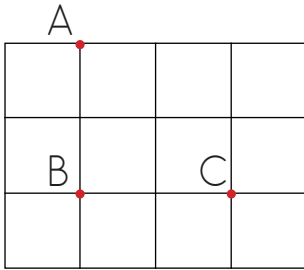


3. Adım

Yukarıdaki örüntü devam ettirilirse
3. adım sonunda ne oluşur?

- A. 12 kare, 13 daire
B. 8 kare, 13 daire
C. 12 kare, 24 daire

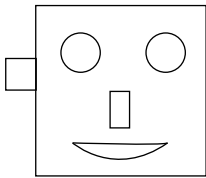
12.



İpek eğik doğru çizmek istiyor. Buna göre İpek'in çizdiği doğru hangi noktalardan geçebilir?

- A. AB B. AC C. BC


13.



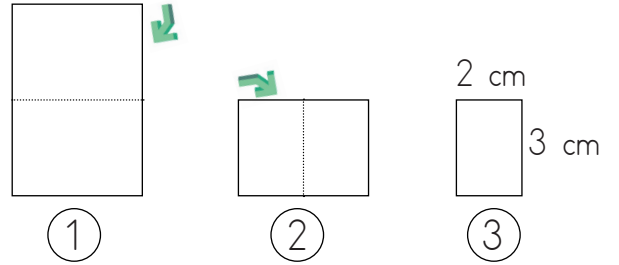
Yukarıdaki şeklin simetrik olabilmesi için aşağıdakilerden hangisinin yapılması gerekir?

- A. Ağız silinmelidir.
B. Kulağı silinmelidir.
C. Bir gözü silinmelidir.

14. Aşağıdakilerden hangisinde doğru parçasının uzunluğu 1 düzinenin 5 eksiği kadardır?



15. SORUYA GEL



1 numaralı kağıt ok yönünde katlanınca 2 numaralı görsel oluşuyor. Daha sonra 2 numaralı katlanmış kağıt tekrar ok yönünde katlanınca 3 numaralı görsel oluşuyor. 3 numaralı katlanmış kağıdın kısa kenarı 2 cm, uzun kenarı 3 cm'dir. Buna göre 1 numaralı kağıdın uzun kenarı kısa kenarından kaç cm fazladır?

- A. 2 cm B. 3 cm C. 4 cm

1. Doğal ışık kaynaklarını kullanamaya-
cağımız durumlarda yapay ışık kay-
nakları kullanınız.

Aşağıdakilerden hangisi bu durumla
alakalı bir örnektir?

- A. Karanlık ortamlarda ateş böcekle-
rinden yararlanabiliriz.
- B. Akşam olunca evin ışıklarını açarız.
- C. Havalar kararınca yıldızların ışığın-
dan faydalanırız.

2. Ses kaynaklarının doğal ya da yapay
oluşlarına göre, aşağıdaki tablo hazır-
lanmıştır.

Ses Kaynağı	Doğal	Yapay
A	✓	
B	✓	
C		✓

Buna göre A, B ve C ses kaynakları
aşağıdakilerden hangisi olabilir?

- | | <u>A</u> | <u>B</u> | <u>C</u> |
|----|----------|----------|----------|
| A. | Yıldırım | Akarsu | Zil |
| B. | Rüzgar | Telefon | Yıldırım |
| C. | Korna | Yıldırım | Davul |

3.



Doğal alanlarda ateş yakarım,
işim bitince giderim.



Tarım alanlarında yapay
gübre kullanmam.



Çevreyi kirletenleri her za-
man uyarırım.

Yukarıdaki öğrencilerden hangisi
yanlış bir davranış sergilemiştir?

A.



B.



C.



4. Aşağıdaki ifadelerden hangisi yanlıştır?

- A. Şiddetli sesler geçici işitme kaybına
neden olabilir.
- B. Koyun sesi doğal sestir.
- C. Kütüphanede insanlar yüksek ses-
ten rahatsız oldukları için kulaklık
takarlar.

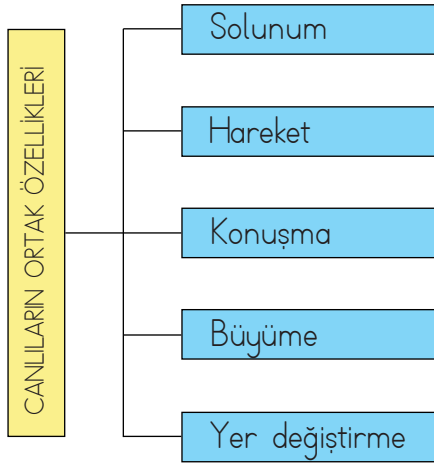
5.



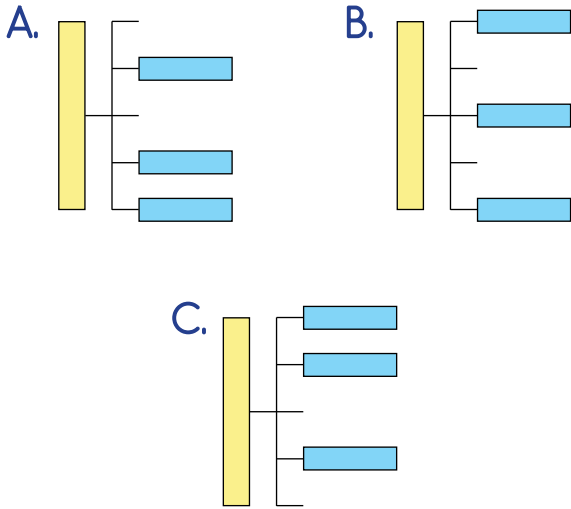
Yukarıdaki görseller ile ilgili verilen
bilgilerden hangisi yanlıştır?

- A. Hepsi büyür.
- B. Hepsi yumurtlar.
- C. Hepsi hareket eder.

6. Bir varlığın canlı ya da cansız olduğunu ortak özelliklerine bakarak anlayabiliriz.






Yukarıdaki tabloda canlıların ortak özellikleri verilirken bazı alanlarda hata yapılmıştır. Hatalı parçalar çıkarılırsa tablonun son görünümü nasıl olur?




7. Aşağıdakilerden hangisi bitkinin yaşam evrelerinden değildir?

- A. Çimlenmek
- B. Erişkin hale gelmek
- C. Yer değiştirmek

8.  Yönelme hareketi yapar.
 Yer değiştirme hareketi yapar.
 Kendi besinini üretir.


Sembollerle verilen özelliklerin ait olduğu canlı ile eşleştirilişi hangi seçenekte doğru olarak verilmiştir?



9. Aşağıda verilen davranışlardan hangisi farklı bir çevre kirliliğine neden olur?

- A. Çöplerin toprağa atılması
- B. Tarımda kimyasal gübre kullanımı
- C. Araba egzozlarında filtre kullanılmaması

10. Aşağıdaki hayvanlardan hangisi yapay çevrededir?



1.



Yukarıdaki durumla karşılaşan biri aşağıdakilerden hangisini yapmalıdır?

- A. 112 numaralı telefonu aramalı
- B. Araçların içine girmeli
- C. Koşarak oradan uzaklaşmalı

2.



Güvenliğimizi tehdit eden durumlarla karşılaştığımızda oradan uzaklaşmalıyız.

Aşağıdakilerden hangisi öğretmenin bahsettiği duruma örnektir?

- A. Bankta otururken yanımıza biri yaklaşıncaya onunla sohbet etmeliyiz.
- B. Okul çıkışı ailemizin yakını olduğunu söyleyen kişiyle eve gitmeliyiz.
- C. Babamızın arkadaşı olduğunu söyleyip bize şeker vermeye çalışan tanımadığımız birinden bağırarak uzaklaşmalıyız.




3.









Aşağıdakilerden hangisi deprem sonrasında yapılmalıdır?

- A. Toplanma bölgesine gitmek
- B. Çök, kapan, tutun hareketi yapmak
- C. Sabitlenmemiş eşyalardan uzak durmak

4.

-  Eğitim görme hakkı
-  Oy kullanma hakkı
-  Fes takma hakkı

Hangi sembollerle gösterilen cümlelerde cumhuriyetin ilanından sonra kazandığımız haklar yazmaktadır?

- A.  
- B.  
- C.  

5. Aşağıdakilerden hangisi Cumhuriyetin ilan edildiği tarihtir?

- A. 23 Nisan 1920
- B. 29 Ekim 1923
- C. 19 Mayıs 1919

6.



Farklı kültürlerden
ülkemize göç eden in-
sanların öncelikli soru-
nu sorunudur.

Mehmet'in cümlesi aşağıdakilerden
hangisi ile tamamlanamaz?

- A. kültür B. dil C. oyun

7.

Cami

Hastane

Okul

Oda

Stadyum

Park

Yukarıda verilen yerlerden kaç tanesi
ortak kullanım alanıdır?

- A. 6 B. 5 C. 4

8.

Seçimle iş başına gelir.

5 yılda bir seçilir.

Vali atar.

Köyden sorumludur.

Yukarıda belediye başkanı ile ilgili ve-
rilen bilgilerden hangileri doğrudur?

- A. B. C.

9.

Kapadokya, 60 milyon yıl önce Erciyes,
Hasandağı, Göllüdağ'ın püskürttüğü lav
ve küllerin oluşturduğu yumuşak taba-
kaların milyonlarca yıl boyunca yağmur
ve rüzgâr tarafından aşındırılmasıyla
ortaya çıkan bölgedir.

Yukarıda anlatılan Kapadokya hangi
şehirimizdedir?

- A. Denizli B. Nevşehir C. Konya

10.

Vatanesever bir insandır.

Bencillik yapan bir insandır.



Cesur bir askerdir.

Başarılı bir insandır.

Yukarıda Atatürk ile ilişkilendirilebilen
ifadeler işaretlenirse son görünüm nasıl
olur?

- A. B. C.

1. Eşleştirmelerden yanlış olanı hangisidir?



Yukarıdaki görsele göre yukarıdaki noktalı alana hangisi gelmelidir?

A. It is sunny B. Is it windy C. Is it snowy



It is in Lisbon but it is very in Madrid.

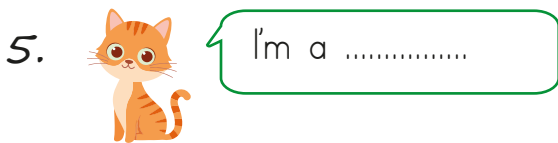
Cümleyi tamamlayan seçenek hangisidir?

A. sunny/warm B. foggy/rainy C. cold/foggy



Arda'nın cümlesinde boş bırakılan yerlere sırasıyla hangileri gelmelidir?

A. snakes/ducks B. birds/monkeys C. elephant/birds



Cümleyi tamamlayan seçenek hangisidir?

A. small cat B. big dog C. long giraffe