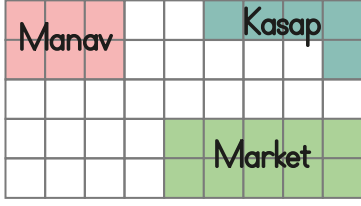


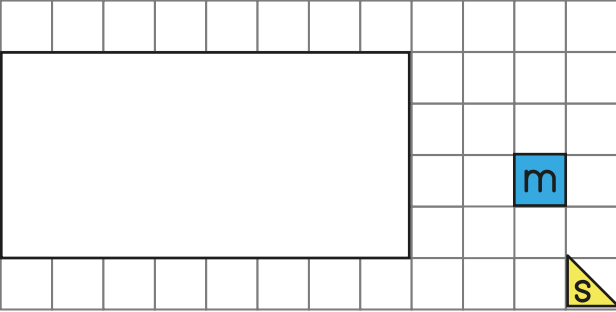
16.



Bir mahalledeki bazı bölümlerin kapladığı alan gösterilmiştir. Market, kasap ve manavın kapladığı alanların toplamı kaç birimkaredir?

ÇÖZÜM:

17.



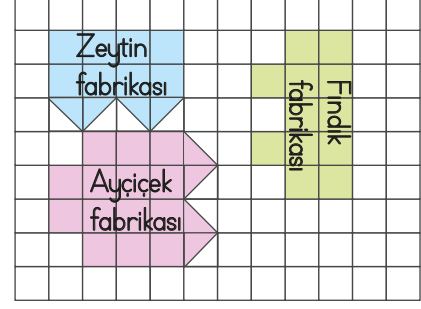
Yukarıda bir dikdörtgenin kaplanacağı iki çeşit fayans verilmiştir.

Dikdörtgenin yarısı mavi fayansla, diğer yarısı ise sarı fayansla kaplanmıştır.

Toplam kaç fayans kullanılmıştır?

ÇÖZÜM:

18.



Yukarıda bir alandaki fabrikalar gösterilmiştir. Alandaki fabrikaların toplam alanı kaç birimkaredir?

ÇÖZÜM:

soruyagesel.com

19.

Bir kenarı 8 cm olan kare şeklindeki bir masanın üzerine kısa kenarı 2 cm, uzun kenarı 4 cm olan dikdörtgen şeklindeki taşlar yerleştirilecektir.

Masanın tamamını kaplaması için kaç taşa ihtiyaç vardır?

ÇÖZÜM:

20.

Bir resim defterine kareler çizilmiştir. Her kare 4 eş üçgenle hiç boşluk kalmayacak şekilde süslenmiştir. Toplamda 64 üçgen kullanıldığına göre deftere kaç kare çizilmiştir?

ÇÖZÜM:
