

Babam yavru bir köpek getirdi. İlk defa bir köpekle uzun süre vakit geçirecektim. Ona, Duman ismini verdim. Duman'ı veterinerine götürmemiz gerekiyordu. Nasıl bakımını yapacağımızı öğrenmeliydik. Veterinerine gittiğimizde veteriner her şeyi teker teker anlattı. Temizliği ve yemeği hakkında bilgiler verdi. Ayrıca nasıl eğitilmesi gerektiği hakkında da bilgilendirdi. Küçük yaşlarda verilen eğitim çok etkili oluyormuş. Yaşı ilerledikçe öğrenmesi daha da zorlaşıyormuş.

İlk 2 soruyu metne göre cevaplayalım.

- Paragraftaki durumu anlatan en iyi atasözü aşağıdakilerden hangisidir?
  - Üzüm üzüme baka baka kararır.
  - Ağaç yaşken eğilir.
  - Sakla samanı gelir zamanı.
- Paragrafa göre aşağıdakilerden hangisi doğrudur?
  - Yaş ilerledikçe öğrenme kolaylaşır.
  - Hayvanlar eğitilemez.
  - Küçük yaşlarda verilen eğitim çok etkilidir.
- Aşağıdakilerden hangisinin tek başına anlamı yoktur?
  - ile
  - ver
  - telaş

4.

Dün akşam Deniz'lere ders planı yapmak için gittik.

Yukarıdaki cümlede hangi sözcük yanlış yazılmıştır?

- Deniz'lere
- planı
- için

5.

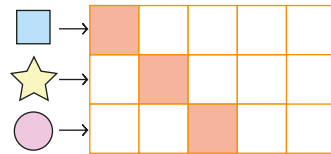
Sen marketten iki ekmek al, ben de kahvaltıyı hazırlayayım.

Yukarıdaki cümlede kaç sözcüğün birden çok anlamı vardır?

- 2
- 3
- 4

6.

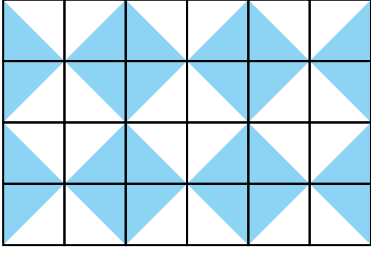
- → "Güney" sözcüğünün zıt anlamlısı  
 ☆ → "Kaygı" sözcüğünün eş anlamlısı  
 ● → "Dil" sözcüğünün eş anlamlısı



Yukarıdaki bulmacada boyalı alanlara gelen harflerle hangi sözcüğü oluşturabiliriz?

- KAS
- KAY
- KUR

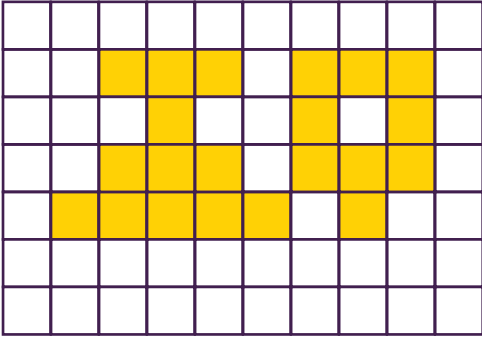
7.



Yukarıdaki süslemede boyalı alanların toplamı kaç birimkaredir?

A. 24 B. 16 C. 12

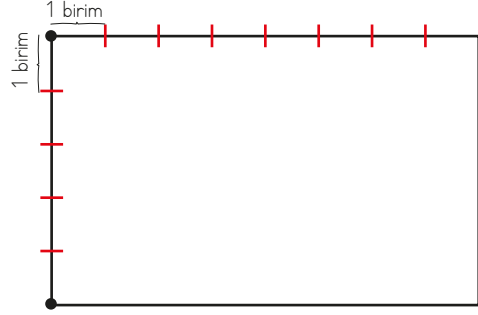
8.



Kareli zeminde verilen şekillerin toplam alanı kaç birimkaredir?

A. 19 B. 20 C. 21

9. Aşağıdaki dikdörtgenin her iki çizgi aralığı 1 birimdir.

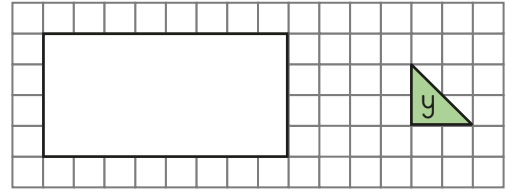


Bu dikdörtgenin alanı kaç birimkaredir?

A. 36 B. 40 C. 49

10. soruyagel.com

10.

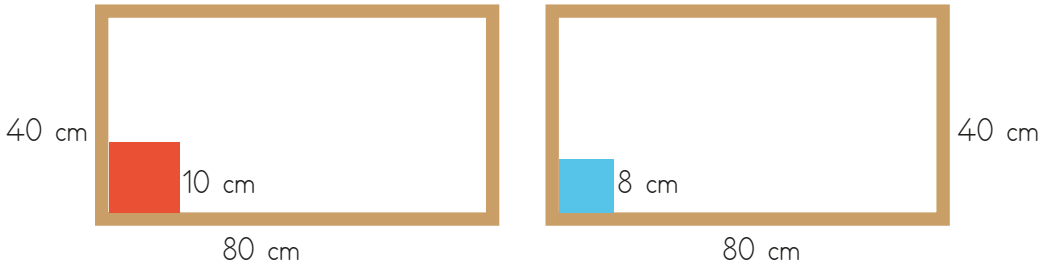


Yukarıda bir dikdörtgenin kaplanacağı yeşil bir taş verilmiştir.

Buna göre dikdörtgenin tamamını kaplamak için kaç tane taş gerekir?

A. 32 B. 24 C. 16

11.

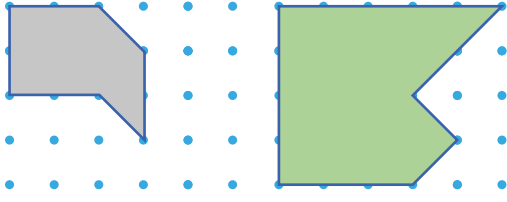


Yukarıdaki iki çerçevenin yüzeyleri, kenar uzunluğu 10 cm olan turuncu ve kenar uzunluğu 8 cm olan mavi kare kağıtlarla kaplanacaktır.

Bu iş için toplam kaç kağıt gerekmektedir?

A. 56 cm B. 82 cm C. 124 cm

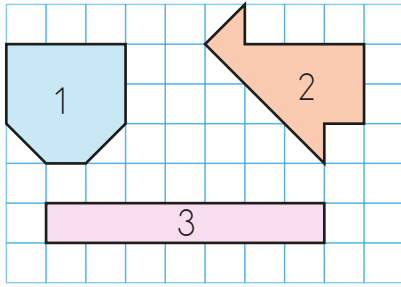
12.



Yukarıdaki şekillerin alanları farkı aşağıdakilerden hangisidir?

- A. 9 birimkare      B. 8 birimkare  
C. 10 birimkare

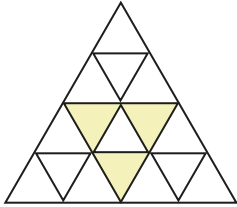
13.



Kaç numaralı şeklin kapladığı alan daha büyüktür?

- A. 1      B. 2      C. 3

14.



Yukarıdaki şeklin içinde bulunan üçgenler aynı büyüklüktedir.

Buna göre boyalı üçgenlerin kapladığı alan tüm şeklin kaçta kaçıdır?

- A.  $\frac{9}{16}$       B.  $\frac{3}{13}$       C.  $\frac{3}{16}$

15. ➔ Evimizdeki duvar saati akü ile çalışır.  
➔ Buzdolabı şehir elektriği ile çalışır.  
➔ Tablet ve bilgisayarlar pil ile çalışır.

Yukarıdaki bilgilerden kaç tanesi doğrudur?

- A. 2      B. 1      C. 3

16. Babam arabasını çalıştırdı. Nereye gittiğimizi merak ediyordum. Telefonunu çıkardı ve arkadaşını aradı. Ahmet abi ile konuşunca nereye gideceğimizi anladım. Yine bozulan bir alet vardı. Çünkü Ahmet abi tamir işleriyle uğraşıyordu. Bozulan el fenerini bana uzattı. Arka koltuktan da televizyon kumandasını almamı istedi. Ahmet abinin iş yerine vardık. Ahmet abi kısa sürede tamir etti.

Yukarıdaki metinde geçen elektrikli aletlerden kaç tanesi aynı güç kaynağı ile çalışmaktadır?


- A. 3      B. 1      C. 2

17. Hangisi şehir elektriği ile çalışır?

- A. Otomobil  
B. Çamaşır makinesi  
C. Radyo

18. Selin yüzünü güneşin doğduğu yöne döndükten sonra kollarını iki yana açmıştır. Bu durumda Selin'in sağ kolu hangi yönü gösterir?
- A. KUZEY  
B. GÜNEY  
C. BATI

19. Halil'in çiftliğinde 2 çeşit hayvan vardır. Bu hayvanlarla ilgili bazı bilgiler aşağıda verilmiştir:
- Etinden ve yumurtasından yararlandığı hayvanlar vardır.
  - Gücünden yararlandığı hayvanlar vardır.
- Buna göre hangisi Halil'in çiftliğindeki hayvanlardan biri değildir?



20. Aşağıdaki yön bulma yöntemlerinden hangisinde sadece doğadan yararlanılır?
- A. Pusula  
B. Kutup yıldızı  
C. Cami

ADI: .....

SOYADI: .....

SINIFI: .....

PUANI: .....

1	A	B	C
2	A	B	C
3	A	B	C
4	A	B	C
5	A	B	C
6	A	B	C
7	A	B	C
8	A	B	C
9	A	B	C
10	A	B	C
11	A	B	C
12	A	B	C
13	A	B	C
14	A	B	C
15	A	B	C
16	A	B	C
17	A	B	C
18	A	B	C
19	A	B	C
20	A	B	C