

Kuş Cenneti Milli Parkı ülkemizin Balıkesir ilinde yer almaktadır. Bu alan 1959 yılında Milli Park olarak ilan edilmiştir. Sınırları çok geniştir. Burası çok sayıda kuş türünün göç yolları üzerindedir. Afrika'dan diğer kıtalara göç eden çeşitli kuş türleri burada belirli bir dönem hayatlarını devam ettirirler. Çeşitli tür pelikan, balıkçıl, kaşıkçı, karabatak, yaban ördeği gibi kuş türleri bu alanda sayıca fazla olarak bulunurlar. Bu gibi kuş türleri Kuş Cenneti Milli Park'ında bulunan sazlıkların içine kuluçka kolonileri kurarlar.



1 ve 2. soruyu metne göre cevaplayalım.

- Yukarıdaki paragrafa göre aşağıdakilerden hangisi yanlıştır?
  - Kuş Cenneti Milli Parkı ülkemizde yer almaktadır.
  - Kuş Cenneti Milli Parkı çok geniş bir alana sahiptir.
  - Kuş Cenneti Milli Park'ında sadece yerleşik kuşlar yaşamaktadır.
  - Kuş Cenneti Milli Park'ında çok farklı türde kuşlar bulunur.
- Metinde kuluçka kolonisi kurduğu bahsedilmeyen kuş türü aşağıdakilerden hangisidir?
  - Kırlangıç
  - Karabatak
  - Pelikan
  - Kaşıkçı
- Aşağıdaki cümlelerin hangisinde duygusal veya abartılı ifadeye yer verilmemiştir?
  - Böyle davranmaman gerektiğini söylemiştim.
  - Hasan yerinden kalktı ve aslan gibi kükredi.
  - Babamla saat 12.00 gibi yola çıkmayı düşünüyoruz.
  - Onu dinleseydim bu hatayı yapmazdım.

4.



Yukarıdaki kelimeler sözlük sıralamasına göre sıralaması aşağıdakilerden hangisidir?

- ● ▲ ■
- ● ● ▲
- ▲ ■ ● ●
- ▲ ● ■ ●

5.



Ablam, kırmızı kalemimi ve resim defterimi almış.

- Yukarıdaki çocuğun cümlesinde aşağıdaki sözcük türlerinden hangisi yoktur?
- Adıl
  - Ön ad
  - Bağlaç
  - Eylem

6. büyümek koşmak  
uyumak oturmak  
okumak kırmak

Yukarıdaki eylemlerden kaç tanesi iş eylemidir?

- A. 1 B. 2  
C. 3 D. 4

7. Aşağıdaki cümlelerin hangisinde virgül kaldırılırsa cümlenin anlamı değişmez?





- A. Küçük, eve doğru yola çıktı.  
B. İhtiyar, adamın verdiği için utanarak aldı.  
C. Bu, oyun oynamayı hiç sevmez.  
D. Kardeşim, parkta oyun oynuyor.

8. Aşağıdaki ifadelerden hangisi atasözleri ve deyimlerin ortak özelliklerinden bir tanesi değildir?

- A. Az sözle çok şey anlatırlar.  
B. Kimin söylediği belli değildir.  
C. Genellikle mecaz anlam taşırlar.  
D. Öğüt verici bir özelliğe sahiptirler.

9. patlıcanı çalma çürür  
acı kırağı

Yukarıda şekiller içinde yer alan sözcüklerle bir atasözü oluşturulacaktır. Hangi şeklin içindeki sözcük bu atasözüne ait değildir?

- A.  B.   
C.  D. 

10. 

1.	Kirli kıyafetler dağ gibi yığıldı.
2.	Nehir, Hakan'dan daha uzundur.
3.	Metin, çita kadar hızlı koşar.
4.	Önüne bakmadığı için düştü.
5.	Burası ile Ankara arası 2 saat sürer.

Yukarıdaki cümlelerden hangileri benzetme içermektedir?

- A. 

1	2
---	---

 B. 

2	3
---	---

  
C. 

1	3
---	---

 D. 

4	5
---	---

11.



Odanın her yanını çikolata yaptığına inanamıyorum.

Yukarıdaki çocuğun cümlesinde aşağıdaki duygulardan hangisi ağır basmaktadır?

- A. Pişmanlık
- B. Sitem
- C. Üzüntü
- D. Özlem

12.

kalem	sevgi	özlem
hava	yastık	hasret

Yukarıda verilen sözcüklerden soyut olanların kutuları boyanacaktır. Tablonun son görünümü nasıl olur?

- A. 

- B. 

- C. 

- D. 


13. Aşağıdaki cümlelerin hangisinde büyük harflerin kullanımı ile ilgili bir yazım hatası yapılmıştır?

- A. Köyümüze Hakan yüzbaşı gelecek.
- B. Dünya'nın uydusu Aydır.
- C. Babam Bilim Dergisi'ni okumayı çok sever.
- D. Türkler ve Azeriler arasında önemli bir bağ vardır.

14.



Perde açıldı ve tiyatro başladı.  
1

Tiyatroyu izlerken çok eğlendik.  
2

Hatta gülmekten kırıldığımızı söyleyebilirim.  
3

Yukarıda çocuğun cümlelerindeki altı çizili sözcükler hangi anlamlardan kullanılmıştır?

- |          |          |          |
|----------|----------|----------|
| <u>1</u> | <u>2</u> | <u>3</u> |
| A. Mecaz | Gerçek   | Mecaz    |
| B. Terim | Mecaz    | Gerçek   |
| C. Mecaz | Terim    | Gerçek   |
| D. Terim | Gerçek   | Mecaz    |

15. Aşağıdaki seçeneklerden hangisinde verilen kelimelerden hepsi yapısına göre türemiştir?

- A. suluk - yapraklar - yağış - kalemlik
- B. saygı - gözlük - izci - tuzsuz
- C. gecekondu - dersler - evim - yaz
- D. bencil - açgözlü - tutsak - simitçi


1.

$$\frac{A}{22} + \frac{B}{22} + \frac{C}{22} = D$$

Yukarıdaki toplama işleminin sonucu olan "D" bir bütünü ifade etmektedir. Buna göre "A+B+C" yerine gelecek sayıların toplamı kaçtır?

- A. 16
- B. 18
- C. 22
- D. 24

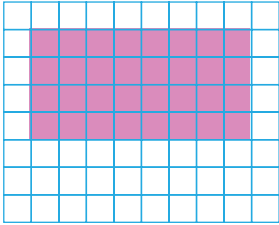
2.



Yukarıda her birinin çevresi 48 cm olan iki kare-den oluşan dikdörtgenin çevresi kaç cm'dir?

- A. 60
- B. 72
- C. 96
- D. 108

3.



Yukarıda taralı olarak verilen dikdörtgenel bölgenin alanı kaç birimkaredir?

- A. 28
- B. 30
- C. 32
- D. 34

4.



Bir markette unun kg'ı 12 liraya satılmaktadır. Yukarıdaki kadar un alan bir müşteri markete ne kadar para öder?

- A. 90
- B. 93
- C. 96
- D. 99

5.



3 L






500 mL








100 mL

Yukarıdaki kapların aldıkları sıvı miktarı verilmiştir. Buna göre aşağıdaki eşitliklerden hangisi yanlıştır?

A.  =  × 5

B.  =  × 5

C.  =  × 30

D.  = ( × 20) + ( × 2)

6.



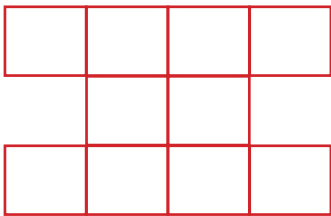
Yukarıdaki kovanın yirmide ikisi 500 mL su almaktadır. Buna göre bu kovanın tamamı kaç L su alır?

- A. 4 L                      B. 5 L
- C. 6 L                      D. 7 L

7. Yeni doğan bir bebek 2750 gram gelmektedir. Bu bebek her ay 350 gr aldığına göre 1 yıl sonra ağırlığı kaç kg kaç gr olur?

- A. 5 kg 750 g
- B. 5 kg 950 g
- C. 6 kg 950 g
- D. 7 kg 500 g

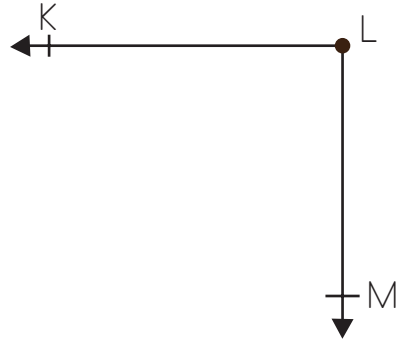
8.



Yukarıdaki geometrik şekle kaç tane simetri doğrusu çizilebilir?

- A. 1
- B. 2
- C. 3
- D. 4

9.



Yukarıdaki geometrik şekilde bulunan açının adı ve çeşidi hangi seçenekte doğru olarak verilmiştir?

- A. M açısı - Geniş açı
- B. MKL açısı - Dik açı
- C. MLK açısı - Dik açı
- D. L açısı - Dar açı

10.



Yukarıdaki zincirin 1 m'si 30 liradır. Çiftlikteki kapılar için bu zincirden 8000 cm alan dedem satıcıya ne kadar para ödemiştir?

- A. 240
- B. 1400
- C. 2400
- D. 2750

11.



Mehmet hastalandığı için doktora gitmiş, doktor Mehmet'e şurup vermiştir. Mehmet her kaşığı 4 mL olan şuruptan günde 3 defa içmiş ve toplamda 300 mL şurup içmiştir. Mehmet bu şurubu kaç gün içmiştir?

- A. 20
- B. 22
- C. 25
- D. 30

12.



Yukarıdaki eş üç kap toplam 5 L 850 mL su almaktadır. Buna göre bir kap kaç mL su alır?

- A. 1650
- B. 1750
- C. 1850
- D. 1950

13. Bir tahtanın kalınlığı 12 mm'dir. Bu tahtadan 50 tane üst üste konulursa oluşan kalınlık kaç cm olur?

- A. 5
- B. 6
- C. 60
- D. 70

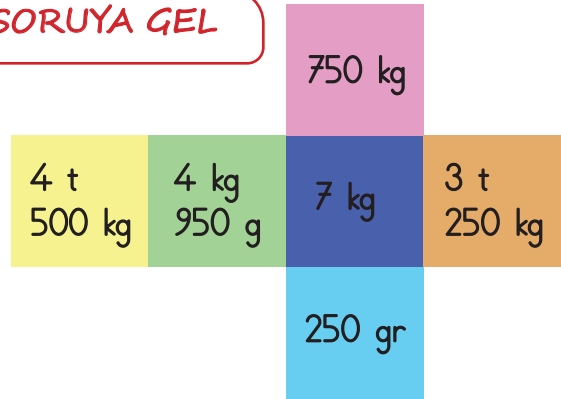
14.

Ürün	1 kg fiyatı
Pul biber	120 TL
Kimyon	80 TL
Karabiber	160 TL
Susam	60 TL

Yukarıdaki tabloda bir aktarda satılan ürünlerin fiyatları verilmiştir. Bu aktardan 250 gr pul biber, 200 gr kimyon, 750 gr karabiber ve 500 gr susam alan Seda Hanım aktara kaç TL ödemiştir?

- A. 196 TL
- B. 226 TL
- C. 240 TL
- D. 260 TL

15. SORUYA GEL



Yukarıda açılımı verilen küpün üzerinde çeşitli kütleler yazılmıştır. Mehmet bu küpü kapalı hale getiriyor. Küpün karşılıklı gelen yüzeylerinin kütleleri topluyor. Mehmet'in bulduğu sonuçlardan biri aşağıdakilerden hangisi olamaz?

- A. 4 t 507 kg
- B. 3 t 250 kg 950 g
- C. 750 kg 250 g
- D. 7 t 750 kg

1. Sarp Habur  
İpsala Dilucu  
Kapıkule Gürbulak

Yukarıda bazı komşularımız ile aramızdaki sınır kapıları verilmiştir. Aşağıdakilerden hangisi ile aramızdaki sınır kapısına yer verilmemiştir?

- A. Yunanistan  
B. Bulgaristan  
C. Irak  
D. Suriye

2. "Çocuk Hakları" ile ilgili verilen ifadelerden hangisi yanlıştır?

- A. Her çocuğun hastalıklara karşı aşılama ve nitelikli sağlık hizmeti hakkı vardır.  
B. Tüm insanlar gibi çocukların da temel haklarından biri eğitim öğretim hakkıdır.  
C. Para kazanmak için, çocukların eğitim görmek yerine çalışmasında bir sakınca yoktur.  
D. Sevgi ve ilgi görme, dengeli ve düzenli beslenme, eğitim görme, dinlenme, özgürce oyun oynama ve barınma, her çocuğun sahip olması gereken haklardan bazılarıdır.

3. Aşağıdaki ürünlerden hangisini alan bir kişinin garanti belgesi almasına gerek yoktur?

- A.  B.   
C.  D. 

4.







Yukarıdaki görsel aşağıdaki ülkelerden hangisini çağırır?

- A. Çin B. Mısır  
C. Fransa D. İtalya

5.

İFADELER	D / Y
Brezilya Güney Amerika'da yer alan en büyük ülkelerden birisidir.	
Kahire, ülkemizin komşularından Irak'ın başkentidir.	
Almanya Türk nüfusunun en yoğun olduğu ülkelendir.	
Japonya irili ufaklı bir çok adadan oluşan Asya ülkesidir.	




Yukarıdaki ifadeler doğru ise kutusu yeşile, yanlışsa kırmızıya boyanacaktır. Tablonun son görünümü nasıl olur?

- A.  B.  C.  D. 


6.







Yukarıdaki ülkelerin başkentleri hangi seçenekte doğru olarak verilmiştir?

- |    |   |   |   |
|----|---|---|---|
|    |  |  |  |
| A. | Roma  | Tokyo   | Kahire  |
| B. | Paris   | Roma  | Berlin  |
| C. | Londra  | Berlin  | Berlin  |
| D. | Paris   | Roma  | Sofya   |

7.



Yukarıdaki kavramlar aşağıdaki ülkelerden hangisini çağrıştırmaktadır?

- |    |   |    |   |
|----|---|----|---|
| A. |  Meksika | B. |  Japonya |
| C. |  İtalya  | D. |  Amerika |

8. Ülkemiz ile diğer ülkeler arasındaki ilişkilerin yürütülmesini sağlayan kurum aşağıdakilerden hangisidir?

- |    |                        |
|----|------------------------|
| A. | İçişleri Bakanlığı     |
| B. | Türk Hava Yolları      |
| C. | Milli Eğitim Bakanlığı |
| D. | Dışişleri Bakanlığı    |

9.



Yukarıdaki görseller aşağıdaki ülkelerden hangisini çağrıştırmaz?

- A. Brezilya
- B. Japonya
- C. Almanya
- D. İtalya

10. Aşağıdaki ifadelerden hangisi yanlıştır?

- A. İran, Avrupa kıtasında yer alan komşularımızdandır.
- B. Azerbaycan'dan ülkemiz doğal gaz satın almaktadır.
- C. Bir ülkenin başka bir ülkeden mal almasına ithalat denir.
- D. Ülkemizde olduğu gibi Türkmenistan'da da Nevruz Bayramı kutlanır.



1.



İhtiyaç duyulmayan yerlerin aydınlatılması ya da aydınlatmada gereğinden fazla aydınlatılma yapılmasına ..... nedir.

Yukarıdaki çocuğun cümlesinde boş bırakılan yere aşağıdaki ifadelerden hangisi gelmelidir?

- A. Ses kirliliği
- B. Işık kirliliği
- C. Hava kirliliği
- D. Toprak kirliliği

2. Aşağıdaki ses aletlerinden hangisi ses şiddetini yükseltmek için kullanılmaz?

A.



B.



C.




D.



3. Aşağıdaki ifadelerden hangisi yanlıştır?

- A. Tüm atıklar geri dönüştürülebilecek niteliğe sahip değildir.
- B. Atıklar çeşitlerine göre farklı geri dönüşüm kutularına atılmalıdır.
- C. Geri dönüşüm enerji tasarrufu sağlar.
- D. Geri dönüşüm çok masraflı bir olaydır.

4.



Yukarıda verilenlerden kaç tanesinin geri dönüşümü yapılabilir?

- A. 3
- B. 4
- C. 5
- D. 6

5.

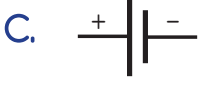
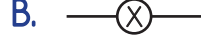


Devreden akım geçmesini sağlayan veya durduran devre elemanıdır.

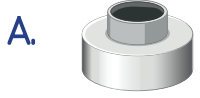
Yukarıdaki çocuğun tanımını verdiği devre elemanı aşağıdakilerden hangisidir?

- A. anahtar
- B. pil
- C. duyu
- D. bağlantı kablosu

6. Bir elektrik devresine gerekli enerjiyi sağlayan elemana güç kaynağı denir. Bu devredeki güç kaynağının sembolü aşağıdakilerden hangisidir?



7. Bir elektrik devresinde aşağıdaki devre elemanlarından hangisinin sayısındaki değişme ampulün parlaklığını etkiler?




8. Bir elektrik devresindeki ampulün ışık vermesinin nedeni aşağıdakilerden hangisi olamaz?

- A. Pildeki enerjinin çok az kalmış olması
- B. Kablonun sağlam ama uzun olması
- C. Anahtarın açık olması
- D. Kablonun kopuk olması

9. Aşağıdaki ifadelerden hangisi yanlıştır?

- A. Evimizde veya okulumuzda ışığı açmak istediğimizde elektrik düğmesine basarız.
- B. Elektrik düğmeleri ve lambalar arasında duvar içinden geçen bağlantı kabloları vardır.
- C. Bir devrede anahtar kapalı olduğunda devre çalışmaz.
- D. Basit bir elektrik devresinde birden fazla pil bulunabilir.

10.



Yukarıda verilenlerden kaç tanesi elektrik enerji kaynağıdır?

- A. 3
- B. 4
- C. 5
- D. 6

