

Aslanlar geniş ve güçlü omuzlara sahiptirler. Omuzlarının üzerine kadar uzanan sarı yeleleri vardır. Cesaretlerinden dolayı hayvanlar kralı olarak anılırlar. Çoğu toplumlarda kuvvetin ve cesaretin simgesi olarak bilinirler.



1. ve 2. soruları metne göre cevaplayalım.

1. Aşağıdakilerden hangisi aslanların özelliklerinden biri değildir?

- A. Geniş omuzlarının olması
- B. Sarı yelelerinin olması
- C. Çok korkak olmaları

2. Aslanlar çoğu toplumda ne olarak bilinir?

- A. Ağaçların simgesi
- B. Kuvvetin ve cesaretin simgesi
- C. Hızın simgesi

3. a ya ra rı ba
Yukarıdaki heceleri kullanarak aşağıdakilerden hangisinin ismini yazamayız?



- 4. ■ Yaşlı
- ▲ Şişe
- Kısa

Yukarıdaki kelimelerden hangisinin zıt anlamlısı yoktur?



5.



Aşağıda verilen varlıklardan hangisinin ismi sözlükte yukarıda verilen varlığın isminden sonra yer alır?

A.



B.



C.



6.




Aşağıdakilerden hangisi yukarıda verilen varlığın adıyla aynı sayıda heceye sahiptir?

A.



B.



C.



7.

ev

otur

tren

Hangisinde yazılan kelime ad(isim) değildir?

A.



B.



C.



8.

ÖZEL ADLAR

| | |
|---------|----------|
| Ahmet | Ankara |
| Masa | Öğretmen |
| Türkiye | Şehir |
| Mahmut | Mersin |

Yukarıda özel adların verildiği tabloda kaç hata yapılmıştır?

A. 3

B. 4

C. 5

9. 1- sıpor 2- kirbit 3- tren

Yukarıda verilen kelimelerden hangilerinin yazımında hata yapılmıştır?

- A. 1 ve 2
B. 2 ve 3
C. 1 ve 3

10. Aşağıdakilerden hangisinde birbirinin zıttı olan kelimeler yanlış işaretlenmiştir?

A. aşağı yukarı ileri

B. gündüz sabah gece

C. acı ekşi tatlı

11. Aşağıdaki varlıklardan hangisinin isminin hece sayısı en fazladır?



12. kel..bek po..takal
..ğne kaşı..

Yukarıdaki kelimeleri tamamlayan harfleri sırasıyla bir araya getirince aşağıdaki kelimelerden hangisi oluşur?

- A. ekşi
B. erik
C. eşek

13.



Yukarıda verilen görselin harf sayısı kadar kutu çizilecek ve bu harflerden ünsüz olanların kutusu boyanacaktır. Doğru seçenek aşağıdakilerden hangisidir?

A.

B.

C.

15. Aşağıdaki tabloda bir yönüyle farklı olan sözcükler işaretlenmiştir. Hangi tabloda hata yapılmıştır?

A.

| | |
|---------|---|
| peynir | |
| yoğurt | |
| süt | ✓ |
| yumurta | |

B.

| | |
|-------|---|
| göz | |
| kulak | |
| kalp | ✓ |
| burun | |

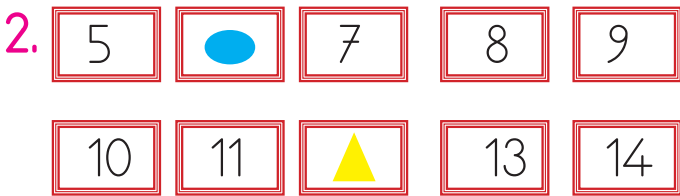



C.

| | |
|---------|---|
| kuş | |
| kelebek | |
| martı | |
| yılan | ✓ |

14. Aşağıdaki cümlelerden hangisinin sonuna farklı bir noktalama işareti gelmelidir?

- A. Ali eve gitti mi
 B. Buradaki topu kim aldı
 C. Dışarı çıkarken şemsiyeni al


1. 11 sayısı ile 5 birlikten oluşan sayının toplamının ifade ettiği çokluk aşağıdakilerden hangisidir?



Yukarıdaki saymada ve sembollerinin yerine gelecek sayıların toplamı kaçtır?

- A. 17
B. 18
C. 19

3. Aşağıdaki görsellerden hangisinin köşesi yoktur?



Yukarıdaki örüntüde soru işaretinin yerine hangi şekil gelmelidir?



5.

| Ders | Haftalık Saati |
|---------------|----------------|
| Türkçe | 8 |
| Matematik | 6 |
| Hayat Bilgisi | 4 |
| Müzik | 2 |

Tabloda bazı derslerin haftalık ders sayıları verilmiştir. Tabloda verilenlere göre aşağıdaki ifadelerden hangisi yanlıştır?

- A. Haftada en fazla Türkçe dersi görülmektedir.
 B. Hayat Bilgisi dersi, Müzik dersinden 2 saat fazla görülmektedir.
 C. Türkçe ve Matematik derslerinin haftalık ders sayısı toplamı 13'tür.




Yukarıdaki görselde boş bırakılan yerlere sırasıyla hangi aylar gelmelidir?

- A. Eylül - Aralık
 B. Ekim - Ocak
 C. Ekim - Aralık

7. Bir baloncu birinci gün 5, ikinci gün 6, üçüncü gün birinci gün sattığı kadar balon satıyor. Baloncu 3 günde toplam kaç balon satmıştır?



- A. 14
 B. 15
 C. 16



Yukarıdaki resimde verilen limonlar kaç bütün limon eder?

- A. 3
 B. 4
 C. 5

9.






Yukarıdaki kadar parası olan ve bunun 5 lirasını harcayan Pe-
lin'in kaç lirası kalmıştır?

- A. ₺ 23 B. ₺ 20
C. ₺ 25

10.



Yukarıdaki şekiller belirli bir sı-
raya göre dizilmiştir. 3. şeklin
boyalı hali hangisidir?

- A. 
B. 
C. 

11.



Yukarıdaki otobüste 20 yolcu
vardır. 1. durakta 8 yolcu in-
miş, 2. durakta 6 yolcu binmiştir.
Son durumda otobüste kaç yolcu
kalmıştır?

- A. 17
B. 18
C. 19

12.

Esra




Ali



Görseldeki çocuklardan Esra 6
yaşındadır. Ali, Esra'dan 2 yaş
büyük olduğuna göre Ali ile
Esra'nın yaşları toplamı kaçtır?

- A. 12
B. 14
C. 15

13. Aşağıdaki şekillerden hangisinin yarısı boyanmıştır?



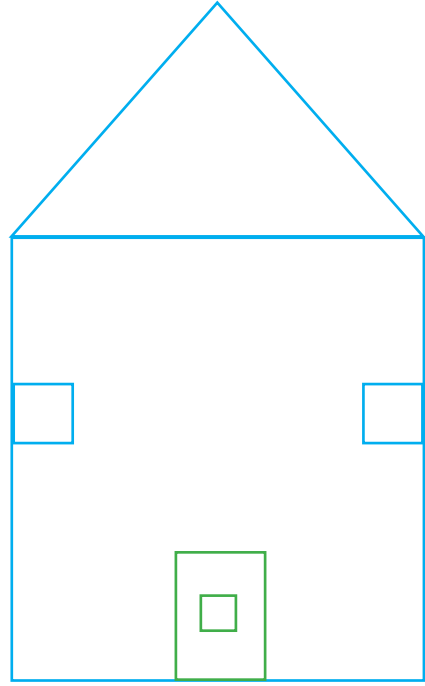
14.



Yukarıdaki şekille ilgili aşağıdakilerden hangisi söylenemez?

- A. Şeklin kenarı yoktur.
 B. Şekli kullanarak daire çizebiliriz.
 C. Şeklin 3 köşesi vardır.

15.



Yukarıdaki görselde aşağıdaki şekillerden hangisi kullanılmamıştır?

- A. kare
 B. daire
 C. üçgen

1. Aşağıdaki çocuklardan hangisinin ifadesi nezaket kurallarına göre doğru değildir?



Çabuk topu getir.



Geç kaldığım için özür dilerim.



Kalemimi verir misin?

2. Her besinden yeteri kadar yemeliyiz.

Kahvaltıda sadece yumurta yenmelidir.

Dengeli ve düzenli beslenmeliyiz.

Yukarıdaki ifadelerden hangisi yanlıştır?

A. B. C.

3. Aşağıdakilerden hangisi el ve yüz temizliği için kullanılır?



4. Ülkemizde her yıl 30 Ağustos günü hangi bayramı kutlarız?

A. Cumhuriyet Bayramı

B. Gençlik ve Spor Bayramı

C. Zafer Bayramı

5. Aşağıdakilerden hangisi yeni bir ürüne dönüştürülerek kullanılmaz?



6. ★ ➤ Ambulans - 112

☀ ➤ Polis - 156

🌙 ➤ İtfaiye - 155

Yukarıda acil durumlarda aranacak yerlerin telefon numaraları eşleştirilmiştir. Eşleştirmelerden hangisi doğrudur?

A. ☀

B. 🌙

C. ★

7.



Trafikte yukarıdaki ışığın yandığını gören sürücü ne yapar?

A. hazırlanır

B. durur

C. geçer

8. Aşağıdaki görsellerde hayvanlar ve yaşadıkları yerler verilmiştir. Hangisinde hata yapılmıştır?

A.  Mağara

B.  Kümes

C.  Kovan

9. Ağaçlar hangi mevsimde yapraklarını döker?

A. sonbahar

B. kış

C. yaz

10. İstiklal Marşı'nın yazarı aşağıdakilerden hangisidir?

A. Mustafa Kemal Atatürk

B. Kazım Karabekir

C. Mehmet Akif Ersoy