

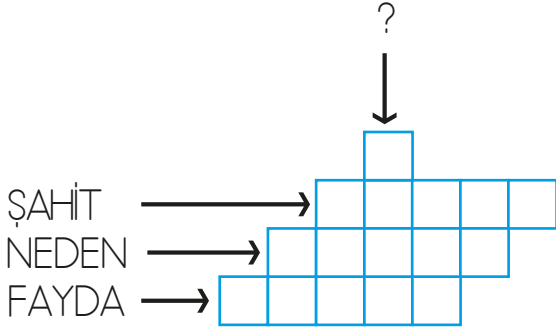
1.

Küçük kurbağa sevinçle yaprakların üzerinde şarkı söyleyerek zıplamaya başladı. Çok mutlu bir haber almıştı. Bu güzel haberi veren ise en yakın arkadaşı kaplumbağaydı. Kaplumbağa, kurbağaya baktı. "Bu kadar sevineceğini bilseydim daha erken bu haberi verirdim." dedi.

Yukarıdaki metnin türü nedir?

A. Fıkra B. Fabl C. Şiir

2.



Kutulara sözcüklerin eş anlamlıları yazılacaktır. Buna göre "?" yerine hangisi gelebilir?

A. KABA B. GAYRET C. ÖZLEM

3.



Yukarıdaki kelimeler belli bir kurala göre yazılmıştır. Soru işareti (?) olan yere aşağıdaki kelimelerden hangisi gelebilir?

A. Didem B. Furkan C. Mehmet

4.

traş	sovan
afferim	yanlış
çünkü	eczane
sarımsak	herkez

Tablodaki sözcüklerden doğru yazılanlara ✓, yanlış yazılanlara X işareti konulduğunda doğru işaretleme hangi seçenekteki gibi olur?

A.

✓	X
✓	X
✓	X
X	✓

B.

✓	✓
X	X
✓	X
✓	X

C.

X	X
X	✓
✓	✓
✓	X

5.



Birbiri ardınca sıralanan eş görevli kelime ve kelime gruplarının arasına konur.

Mehmet'in kullanım alanından bahsettiği noktalama işareti hangi cümlede uygun biçimde kullanılmıştır?

A. Marketten peynir, zeytin ve reçel aldı.
B. Kaç yaşında okula başladın?
C. Hey! Bastığın yere dikkat et.

6. 1 Az çok beni anladın.
2 Güçlü kuvvetli bir adamdı.
3 Mutlu mesut yaşadılar.

Kaç numaralı cümlede zıt anlamlı sözcükler birlikte kullanılmıştır?

- A. 2 B. 1 C. 3

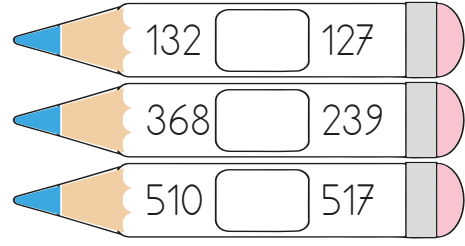
7.



Yukarıdaki rakamlarla 500'den küçük en büyük sayı oluşturulacaktır. Oluşturulan bu sayının en yakın onluğu kaçtır?

- A. 430 B. 460 C. 450

8.

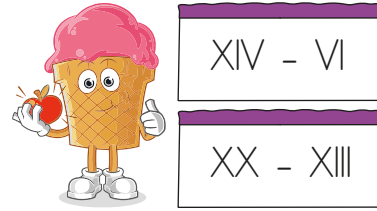


Kutuların içlerine "<, >, =" sembollerinden uygun olanı yazılacaktır.

Buna göre kaç tane "<" sembolü kullanılır?

- A. 1 B. 2 C. 3

9.



Romen rakamlarıyla yapılan çıkarma işlemlerinin sonuçları sırasıyla hangi seçenekte verilmiştir?

- A. IX VIII
B. VII VI
C. VIII VII

10. Yandaki hesap makinesi bozuktur. Tuşlar ile ilgili aşağıdaki bilgiler verilmiştir.

- En küçük tek sayı çalışmamaktadır.
- En büyük çift sayıya basıldığında ekranda en küçük çift sayı yazmaktadır.

Yukarıdaki bilgilere göre "312 + 258" işleminin sonucu kaçtır?



- A. 282 B. 568 C. 376

11.
$$\begin{array}{r} 1 \quad 227 \\ + 299 \\ \hline 526 \end{array}$$

$$\begin{array}{r} 2 \quad 345 \\ + 549 \\ \hline 884 \end{array}$$

$$\begin{array}{r} 3 \quad 296 \\ + 352 \\ \hline 648 \end{array}$$

Yukarıdaki toplama işlemlerinden hangileri doğrudur?

- A. 1-2 B. 1-3 C. 2-3

12.
$$\begin{array}{r} 156 \\ + \\ 135 \\ + \\ 119 \\ \hline \end{array}$$

$$\begin{array}{r} \square \\ + \\ \square \\ \hline \end{array}$$

$$\begin{array}{r} \square \\ \hline \end{array}$$

Yukarıdaki bağlantılı toplama işleminde "?" yerine hangisi yazılmalıdır?

- A. 496 B. 522 C. 545

13.
$$\begin{array}{c} 1 \\ 2 \\ 3 \end{array}$$

Yukarıdaki rakamlar birer kez kullanılarak oluşturulabilecek üç basamaklı en büyük tek sayı ve oluşturulabilecek üç basamaklı en küçük çift sayının toplamı kaçtır?

- A. 448 B. 453 C. 456

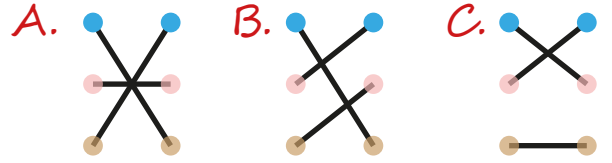
14. ABA üç basamaklı bir sayıdır. Bu sayının onlar basamağı "IV" olarak ifade edilmiştir. ABA yerine yazılabilecek üç basamaklı en büyük çift sayı ile ABA yerine yazılabilecek üç basamaklı en küçük tek sayının toplamı kaçtır?

- A. 899 B. 949 C. 989

15.
$$\begin{array}{r} \text{Burun} \\ \text{Kulak} \\ \text{Dil} \end{array}$$

$$\begin{array}{r} \text{İşitme} \\ \text{Koku alma} \\ \text{Tatma} \end{array}$$

Görseldeki duyu organları ile görevlerini eşleştirdiğimizde aşağıdaki şekillerden hangisi ortaya çıkar?



16. \bullet Kesici ve delici cisimlerle oynamaktadır.
 \blacklozenge Uzun süre güneş altında dolaşmaktadır.
 \blacksquare Düzenli olarak banyo yapmaktadır.

Deri sağlığını korumaya özen gösteren Erhan'ın davranışlarından hangisi yanlıştır?

- A. \bullet B. \blacklozenge C. \blacksquare

17. Ağız ve diş temizliğine özen göstermeliyiz. Alkol, sigara gibi maddelerden uzak durmalıyız.

Yukarıda açıklama hangi duyu organımızın sağlığını korumaya yöneliktir?

- A. kulak
 B. dil
 C. burun

18. Bir çalışmaya yardım sağlamak amacıyla genellikle açık havada yapılan ve gelir sağlanan toplantı.

Yukarıda tanımı yapılan kavram hangisidir?


- A. yardımlaşma
B. kampanya
C. kermes


19. Okul, toplumdaki bireylerin birbirlerine karşı daha olmasını sağlar.

Yukarıda boş bırakılan alana hangisi gelebilir?










- A. kindar
B. saygılı
C. cimri

20.  Okul genelinde kararları öğretmen alır.

 Okulumuzdaki sosyal etkinliklerde görev almak için istekli olmalıyız.

 Demokratik uygulamaları hayatımızın her alanında kullanabiliriz.

Yukarıdaki ifadelerden doğru olana "D", yanlış olana "Y" yazılırsa son görünümü nasıl olur?

- A.  D  Y  D
B.  Y  D  D
C.  D  D  Y

ADI:

SOYADI:

SINIFI:

PUANI:

1	A	B	C
2	A	B	C
3	A	B	C
4	A	B	C
5	A	B	C
6	A	B	C
7	A	B	C
8	A	B	C
9	A	B	C
10	A	B	C
11	A	B	C
12	A	B	C
13	A	B	C
14	A	B	C
15	A	B	C
16	A	B	C
17	A	B	C
18	A	B	C
19	A	B	C
20	A	B	C