

İYİLİKSEVER SEDAT

Bir ilkbahar sabahıydı. Sedat pencereden dışarıyı izliyordu. Küçük yavru bir kedinin ağaç kenarında yardıma muhtaç olduğunu gördü. Bir evi olduğu için çok şanslı olduğunu düşündü. Kediye dışarıda bırakmak istemedi. Annesinden izin alıp dışarı çıktı. Kediye evlerine alıp onu sahiplendiler. Sedat'ın bu davranışı annesinin ve babasının çok hoşuna gitmişti.



1) Sedat nereden dışarıyı izliyordu?

Sedat pencereden dışarıyı izliyordu.

2) Ağaç kenarında ne gördü?

Küçük yavru bir kedinin yardıma muhtaç olduğunu gördü.

3) Dışarı çıkmak için kimden izin aldı?

Annesinden izin aldı.

4) Niçin şanslı olduğunu düşündü?

Bir evi olduğu için şanslı olduğunu düşündü.

5) Metnin başlığı kaç haften oluşmuştur?

A. 8 B. 12 C. 16


6) Görseldeki çocuğun şapkası hangi renktir?

A. yeşil
B. kırmızı
C. sarı

7) Yukarıdaki görselde aşağıdakilerden hangisi yoktur?

A. çiçek ✓
B. kitap ✓
C. saat ✗




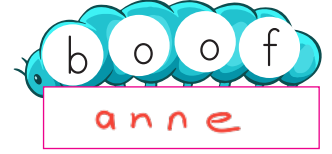
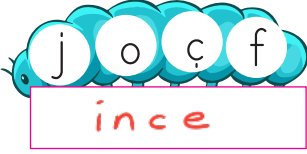

✎ Aşağıdaki resmi boyamak için yönergeleri okuyalım. Okuduğumuz bu yönergelere göre resmi boyayalım. Yönergenin dışında kalan yerleri istediğimiz renge boyayalım.



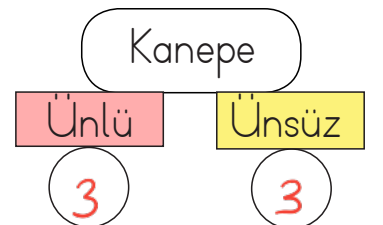
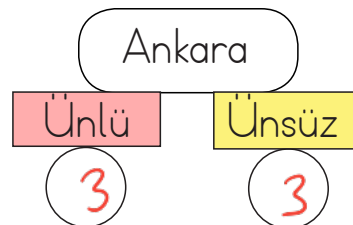
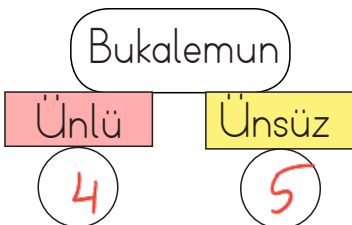
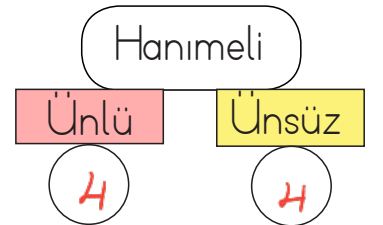
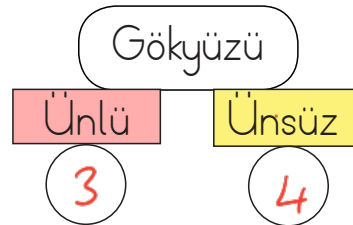
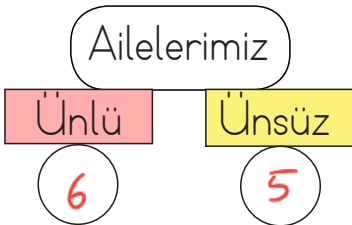
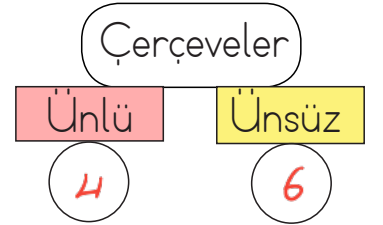
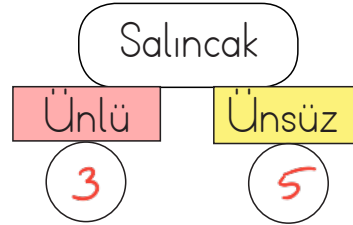
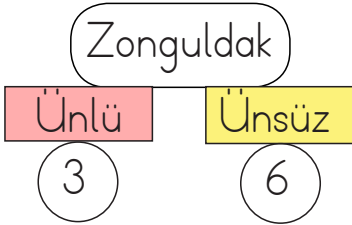
YÖNERGELER

- ➔ Köpeklerden ikisini aynı renge boyayalım. +
- ➔ Arkadaki iki köpek farklı renkte olsun. +
- ➔ Dili dışarıda olan köpeklerden biri kahverengi olsun. +
- ➔ Ağaçların yaprakları yeşil olsun. +
- ➔ Ağaçların gövdeleri kahverengi olsun. +
- ➔ Toprağı açık kahverengiye boyayalım. +
- ➔ Sol üst köşeye güneş çizip sarıya boyayalım. +
- ➔ Sağ üst köşedeki bulutun yanına başka bir bulut çizelim. +

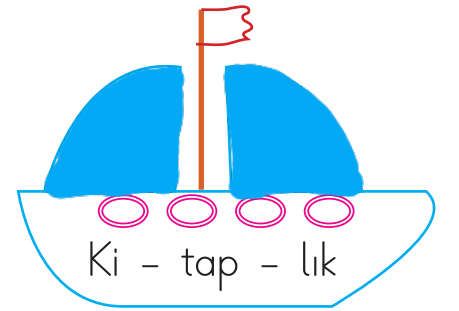
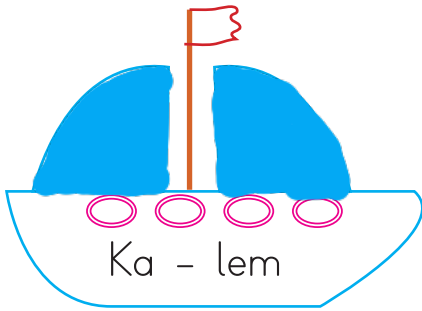
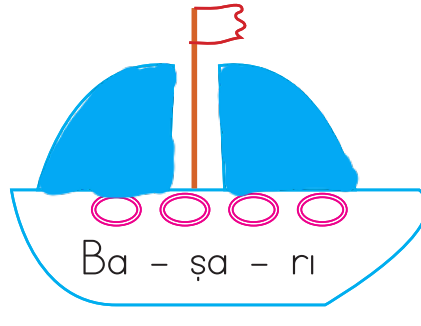
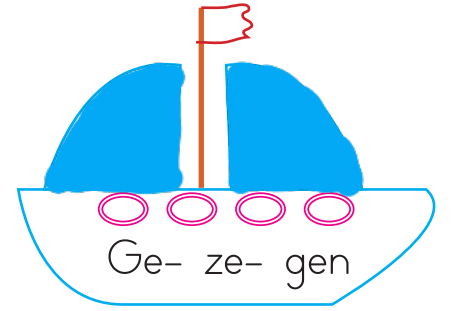
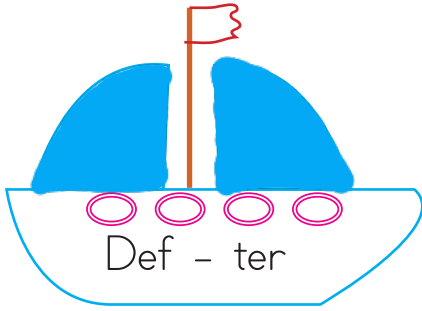
✎ Aşağıda bazı harfler verilmiştir. Verilen harflerden bir önce gelen harfleri sırasıyla yazarak sözcükler oluşturalım.



✎ Aşağıda bazı sözcükler verilmiştir. Verilen sözcüklerin ünlü ve ünsüz harf sayılarını örnekteki gibi bulalım.



✏ Hecelerine doğru ayrılmış gemilerin yelkenlerini maviye, yanlış ayrılmış olanları ise kırmızıya boyayalım.



✏ Aşağıdaki kelimeleri hecelerine ayıralım.

Yemek ►► Ye - mek

Cumartesi ►► Cu - mar - te - si

Çanta ►► Çan - ta

Matara ►► Ma - ta - ra

Kurabiye ►► Ku - ra - bi - ye

Kiraz ►► Ki - raz

Domates ►► Do - ma - tes

Zürafa ►► Zü - ra - fa

✎ Aşağıdaki sözcüklerin zıt anlamlılarını bulmacaya yerleştirelim.

1. açık

2. sıvı

3. zararı

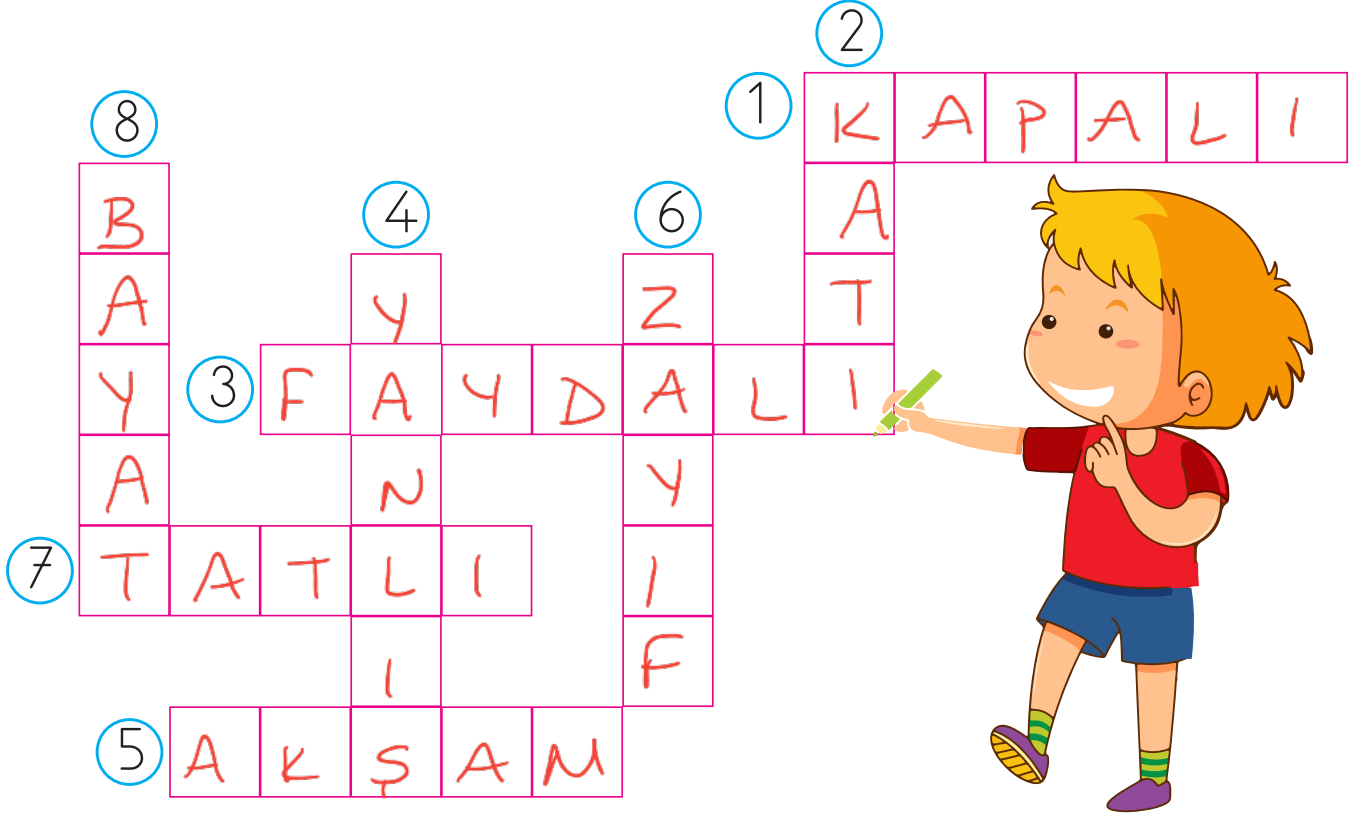
4. doğru

5. sabah

6. şişman

7. acı

8. taze



✎ Aşağıdaki sözcük çiftlerinden zıt anlamlı olanların dairesini örnekteki gibi işaretleyelim.

Kalın - İnce
✓

Büyük - İri

Kaba - Kibar
✓

Öğretmen - Doktor




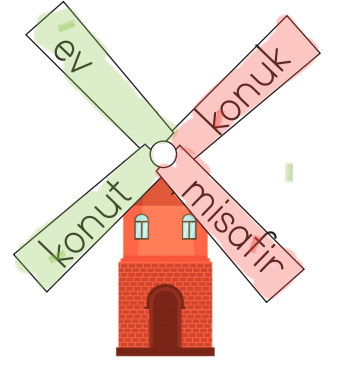


Kuru - Yaş
✓İhtiyar - Genç
✓

Şişman - Kilolu

Pahalı - Ucuz
✓

Sevimli - Mutlu

✎ Aşağıdaki rüzgar güllerinin pervanelerindeki eş anlamlı sözcükleri aynı renge boyayalım.



✎ Aşağıdaki sözcükler eş anlamlı ise "Eş anlam" kutucuğunu, değilse "Değil" kutucuğunu örnekteki gibi işaretleyelim.

	Eş Anlam	Değil		Eş Anlam	Değil
Kötü - İyi	<input type="checkbox"/>	<input checked="" type="checkbox"/>	Et - Tavuk	<input type="checkbox"/>	<input checked="" type="checkbox"/>
Fakir - Yoksul	<input checked="" type="checkbox"/>	<input type="checkbox"/>	Kafa - Baş	<input checked="" type="checkbox"/>	<input type="checkbox"/>
Öykü - Şiir	<input checked="" type="checkbox"/>	<input type="checkbox"/>	Kalp - Yürek	<input checked="" type="checkbox"/>	<input type="checkbox"/>
Soru - Sual	<input checked="" type="checkbox"/>	<input type="checkbox"/>	Genç - Yaşlı	<input type="checkbox"/>	<input checked="" type="checkbox"/>
Kırmızı - Ak	<input type="checkbox"/>	<input checked="" type="checkbox"/>	İsim - Ad	<input checked="" type="checkbox"/>	<input type="checkbox"/>
Siyah - Kara	<input checked="" type="checkbox"/>	<input type="checkbox"/>	Uyarı - İkaz	<input checked="" type="checkbox"/>	<input type="checkbox"/>
Barış - Sulh	<input checked="" type="checkbox"/>	<input type="checkbox"/>	Vur - Çek	<input type="checkbox"/>	<input checked="" type="checkbox"/>




Bunları Bilelim



Bir duyguyu, bir düşünceyi, bir işi tam olarak anlatan sözcük gruplarına **cümle** denir.

Örnek : Yarın okula **▶▶▶** (cümle değil)
Yarın okula gideceğim. **▶▶▶** (cümle)

 Aşağıdaki söz gruplarını uygun kelimelerle eşleştirerek cümle haline getirelim.

- | | | | |
|--|-----------------------|-----------------------|------------|
| → Ankara'ya hızlı trenle gideceğim. | <input type="radio"/> | <input type="radio"/> | giydim |
| → Kardeşim eve geç geldi. | <input type="radio"/> | <input type="radio"/> | kırılmış |
| → Hepimize pastadan iki dilim düştü. | <input type="radio"/> | <input type="radio"/> | geldi |
| → Kırmızı ceketimi giydim. | <input type="radio"/> | <input type="radio"/> | oynuyor |
| → Yuvarlak masanın ayağı kırılmış. | <input type="radio"/> | <input type="radio"/> | gideceğim |
| → Cemre bahçede top oynuyor. | <input type="radio"/> | <input type="radio"/> | aldım |
| → Marketten iki ekmek aldım. | <input type="radio"/> | <input type="radio"/> | düştü |
| → Ayça'ya güzel hediyeler almışlardı. | <input type="radio"/> | <input type="radio"/> | almışlardı |

 Aşağıdaki kelime ve kelime gruplarından cümle olanların başındaki kutucuğu maviye, olmayanları kırmızıya boyayalım.

Bugün okulda

Yarın sinemaya gideceğiz.

Baban gazete okuyor.

Annem çok güzel yemek

Okulumu çok özledim.

Marketten ekmek ve süt

✎ Aşağıdaki cümlelere göre istenen soruları cevaplayalım.

→ Asya, kasaptan et aldı.

Kim?
Asya

Ne?
Et

Nereden?
Kasaptan

→ Bulut, Adana'ya uçakla gitti.

Kim?
Bulut

Nasıl?
Uçakla

Nereye?
Adana'ya

→ Asya, yarın konuşacağı için heyecanlıydı.

Kim?
Asya

Ne zaman?
Yarın

Niçin?
Konuşacağı için

→ Sibel, yarın İstanbul'a gidecek.

Kim?
Sibel

Ne zaman?
Yarın

Nereye?
İstanbul'a

→ Kemal, hızla koşarak eve gitti.

Kim?
Kemal

Nasıl?
Hızla koşarak

Nereye?
Eve

→ Babam pazarda alışveriş yapıyor.

Kim?
Babam

Ne?
Alışveriş

Nerede?
Pazarda

✎ Aşağıdaki soruların cevabı olabilecek kelimeyi işaretleyelim.

Erman pazardan ne aldı?

otur

sana

elma ✓

Kim çikolata yedi?

Adem ✓

meyve

gitti

Dedem nereye gitti?

at

Muş'a ✓

abimle

Bardağı nereden aldı?

masadan ✓

güzel

demir

Mustafa nasıl oldu?

sıra

iyi ✓

seni

Sevgi ne zaman kitap okudu?

sabah ✓

onunla

yeşil

✎ Aşağıdaki tavşanın bir haftada yediği havuçlar tabloda gösterilmiştir. Tavşanın kaç havuç yediğini bulup soruları cevaplayalım.

Toplam 34 havuç yemiştir.



Pazartesi		5
Salı		7
Çarşamba		3
Perşembe		2
Cuma		4
Cumartesi		8
Pazar		5

Her şekil 1 havucu göstermektedir.

1. Tavşan en fazla havucu hangi gün yemiştir?

En fazla havucu cumartesi günü yemiştir.

2. Tavşan en az havucu hangi gün yemiştir?

En az havucu perşembe günü yemiştir.

3. Tavşan perşembe günü kaç havuç yemiştir?

Perşembe günü 2 tane havuç yemiştir.

4. Hafta sonu toplam kaç havuç yemiştir?

Cumartesi Pazar toplam 13 havuç yemiştir.

$$8 + 5 = 13$$

5. Salı ve cuma günleri toplam kaç havuç yemiştir?

7 + 4 = 11 havuç yemiştir.

 Aşağıdaki tabloyu inceleyelim. Soruları cevaplayalım.

Çiftlikteki Hayvanlar	
Hayvanlar	Hayvan sayısı
	11
	9
	14
	5

1. Çiftlikte kaç tavuk var?

..... Çiftlikte 11 tavuk vardır.....

2. Çiftlikte kaç inek var?

..... Çiftlikte 9 inek vardır.....

3. Çiftlikteki köpek ve keçilerin toplam sayısı kaçtır?

$$5 + 14 = 19$$


4. Çiftlikteki keçi sayısı tavuk sayısından kaç fazladır?

$$14 - 11 = 3 \text{ fazladır.}$$

5. Çiftlikte en az ve en çok olan hayvanların toplam sayısı kaçtır?

$$\begin{array}{c} 5 + 14 = 19 \\ \text{Köpek} \quad \text{keçi} \end{array}$$

 Aşağıdaki tabloyu inceleyelim. Soruları cevaplayalım.

Pazartesi	Salı	Çarşamba	Perşembe	Cuma	Cumartesi	Pazar
						
Güneşli	Rüzgarlı	Güneşli	Yağmurlu	Rüzgarlı	Güneşli	Kar yağışlı

1. Hangi gün kardan adam yapılabilir?

Pazar günü kardan adam yapılabilir.

2. Hangi günler bahçede top oynanabilir?

Pazartesi, Çarşamba ve cumartesi bahçede top oynanabilir.

3. Hangi günlerde yanımızda şemsiye bulundurmalıyız?

Perşembe ve pazar günlerinde şemsiye bulundurmalıyız.

4. Yağmurlu olmayan gün sayısı kaçtır?

Pazartesi, Salı, Çarşamba, Cuma, Cumartesi, Pazar = 6 gün

5. Hava durumu tablosu hangi mevsime ait olabilir?

Kış mevsimi

 Aşağıdaki tabloyu inceleyelim. Soruları cevaplayalım.

Sınıf başkanı oylama tablosu	
Adaylar	Aldığı oy
Sema	9
Ali	15
Nuray	5
Caner	9

1. En az oyu kim almıştır?

..... En az oyu Nuray almıştır.

2. Hangi adayların oyları eşittir?

..... Sema ve Caner'in oyları eşittir.

3. Caner ve Sema'nın oyları farkı kaçtır?

$$9 - 9 = 0$$


4. Sınıf başkanı kim seçilmiştir?

..... Sınıf başkanı en çok oyu alan Ali seçilmiştir.

5. En az ve en çok oy alan adayların oyları toplamı kaçtır?

$$5 + 15 = 20$$

Nuray Ali

 Aşağıda kutu içinde verilen ifadeleri, cümlelerdeki uygun boşluklara yerleştirelim.

aile büyükleri

anlayış

giysiler

şeker



Bayramlarda çocuklara **şeker**..... ikram edilir



Bayramlarda sevgi ve **anlayış**..... duygusu vardır.




Bayramlarda en yeni **giysiler**..... giyilir.



Bayramlarda akrabalar ve **aile büyükleri**.....ziyaret edilir.



 Aşağıda verilen ifadelerden doğru olana (D), yanlış olana (Y) yazalım.

D

Kurban bayramı, dini bayramlarımızdandır.

Y

Bayramlarda sadece annemiz ve babamızla bayramlaşırız.

D

Ramazan Bayramı, dini bayramlarımızdandır.

D

Bayramlarda sevdiğimiz insanlarla bir araya geliriz.

Y

Dini bayramlarda şiirler okunur, şarkılar söylenir.

D

Dinimiz açısından önemli ve kutsal günler dini bayramla-




D

Dini bayramlarda özellikle çocuklara çeşitli ikramlar yapılır.

1. Aşağıdaki kelimelerden hangisinde 3 ünlü harf vardır?

- A. kelime = 3
 B. yağmur = 2
 C. denizcilik = 4

2. Aşağıda görseldeki cisimlerin hangisinin isminin hece sayısı daha fazladır?

- A. 
 ho-ro2
 2 hece
- B. 
 a-yak-ka-bı
 4 hece
- C. 
 ek-mek
 2 hece

3. sı pi yi lem ka

Yukarıdaki hecelerle hangi sözcük oluşturulamaz?

- A. kayısı ✓
 B. kapı ✓
 C. kale x → le hecesi verilmemiş




4. Babam, pazardan kivi aldı. = 9 hece
 Aşağıdaki cümlelerden hangisi yukarıdaki cümle ile aynı hece sayısına sahiptir?

- A. Bugün top oynadık. = 6 hece
 B. Telefonda müzik dinledim. = 9 hece
 C. Sabah kahvaltı yaptım. = 7 hece

5. Aşağıdaki cümlelerin hangisinin sonuna nokta konulmalıdır?

- A. Kumandayı uzatır mısın?
 B. Okula servisle mi gittin?
 C. Akşam yemeğini çok beğendim.

6. Aşağıdaki görsellerin isimleri alfabetik sıraya konulursa, hangisinin ismi ikinci sırada yer alır?

- A. 
 Palyaço 3
- B. 
 Bere 1
- C. 
 Kurbağa 2

Çiftlikteki hayvanlar	
Hayvanlar	Hayvan sayısı
Koyun	8
İnek	<u>6</u>
Tavuk	11

1, 2 ve 3. soruları verilen tabloya göre cevaplayalım.

1. Çiftlikteki en az sayıda olan hayvan hangisidir?

- A. Tavuk B. İnek
C. Koyun

2. Çiftlikteki en az ve en çok sayıda olan hayvanların toplamı kaçtır?

- A. 17 B. 18
C. 19

$$11 + 6 = 17$$

3. İnek ve tavuk sayısının eşit olması için kaç ineğe ihtiyaç vardır?

- A. 5 B. 7
C. 9

$$11 - 6 = 5$$

inek daha olursa eşit olur.

En sevilen mevsimler	
Mevsimler	Seven sayısı
İlkbahar	9
Yaz	10
Sonbahar	7
Kış	4

Yukarıda 1/A sınıfındaki öğrencilerin en sevdiği mevsimleri gösteren tablo verilmiştir. 4, 5 ve 6. soruları tabloya göre cevaplayalım.

4. En az sevilen mevsim hangisidir?

- A. Yaz → 10
B. Sonbahar → 7
C. Kış → 4

5. Yaz ve kış mevsimini sevenlerin toplamı kaçtır?

- A. 12 B. 18 C. 14

6. Sonbahar mevsimini sevenlerin sayısı ilkbahar mevsimini sevenlerden kaç eksiktir?

- A. 3 B. 2 C. 4

$$9 - 7 = 2$$

1. Büyüklerin elleri öpülür.

Akrabalar ziyaret edilir.

Yukarıdaki ifadeler hangi bayrama ait olabilir?

- A. Cumhuriyet Bayramı
B. Zafer Bayramı
C. Ramazan Bayramı

Dini bayramlar

3. Dini bayramlar sadece bizim ülkemizde kutlanır. X

Dini bayramlarda dayanışma artar. ✓

Bayramlarda sevdiğimiz insanlarla bir araya geliriz. ✓

Yukarıdaki sembollerle ifade edilen dini bayramlarla ilgili bilgilerden hangileri doğrudur?

A. ■ ▲

B. ● ■

C. ▲ ●

2. Dini bayramlarımız 'dır.

Yukarıdaki ifadede boş bırakılan yere hangisi yazılmalıdır?

- A. Ramazan ve Kurban Bayramı ✓
B. Cumhuriyet ve Zafer Bayramı X
C. Ulusal Egemenlik ve Çocuk Bayramı X

4. Aşağıdaki bayramlardan hangisinde komşularımızı ziyaret ederiz? Dini Bayramlarda

- A. Okuma Bayramı
B. Kurban Bayramı
C. Zafer Bayramı