

## FIDAN DİKİYORUZ

Pazar sabahıydı. Serhan heyecanla yatağından kalktı. Çünkü babasıyla kahvaltı yapabildiği tek gündü. Geri kalan zamanlarda babası çalışıyordu. Bu yüzden onu göremiyordu. Pazar günleri kahvaltı dışında farklı etkinlikler de yapıyorlardı. Hızlı adımlarla bahçeye çıktı. Çünkü babasının orada olduğunu biliyordu. Ablası da bahçedeydi. Birlikte fidan di-



kiyorlardı. Babası, Serhan'ı yanına çağırdı. "Su kabı getirir misin?" dedi. Serhan, üzgün üzgün su kabı getirmeye gitti. Babası, oğlunun üzgün olduğunu fark etti. "Neden üzgünsün?" diye sordu. Serhan, "Bana önemsiz işler yaptırıyorsun." dedi. Babası güldü. "Oğlum, bitki hayatı için su çok önemlidir. Senin yaptığın iş hepimizin yaptığından daha değerli." dedi. Serhan bunu duyunca üzüntüsü geçti. İşini daha ciddi yapmaya başladı.

## SORULAR

1. Serhan neden heyecanla kalktı?

Babasıyla kahvaltı yapacağı için heyecanla kalktı.

3. Bahçede kimler vardı?

Bahçede ablası ve babası vardı.


2. Serhan uyanınca nereye gitti?

Uyanınca bahçeye gitti.

4. Serhan neden üzgündü?

Babasının kendisine önemsiz işler yaptırıldığını düşündüğü için üzgündü.



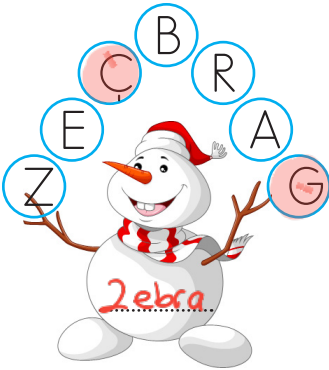
✎ Aşağıdaki resmi boyamak için yönergeleri okuyalım. Okuduğumuz bu yönergelere göre resmi boyayalım. Yönergenin dışında kalan yerleri istediğimiz renge boyayalım.



## YÖNERGELER

- ➔ Horozu kahverengiye boya.
- ➔ Tavuk beyaz olsun.
- ➔ Cıvıvleri sarıya boya.
- ➔ Çiftlik evi turuncu olsun.
- ➔ Bulutları boyama.
- ➔ Güneşi sarıya boya.
- ➔ Çimleri açık yeşile boya.
- ➔ Ağaç gövdesi kahverengi olsun.

✏️ Kardan adamın üzerindeki toplarla hayvan isimleri oluşturalım. Oluşturduğumuz isimleri kardan adamın üzerine yazalım. Kullanmadığımız harfleri boyayalım.



a, e, ı, i,  
o, ö, u, ü

✏️ Aşağıda bazı sözcükler verilmiştir. Sözcüklerdeki ünlü harfleri bulalım. Sözcükteki yerlerini, yanındaki kutuya örnekteki gibi işaretleyelim.

aslan →

aile →

kurt →

dört →

kalem →

örgü →

silgi →

orman →

geyik →

kaya →

uyku →

örtü →

✏️ Aşağıdaki tabloda verilen heceleri örnekteki gibi eşleştirelim. Oluşan anlamlı kelimeleri yazalım.

1. Hece	2. Hece	Sözcük
seh	lik	sehpa
ter	ra	terlik
bay	gi	bayrak
der	cir	dergi
şap	to	şapka
civ	pa	civciv
ma	civ	masa
pa	sa	para
zin	rak	zin cir
pal	ka	palto



✏️ Aşağıdaki uzay araçlarındaki sözcüklerin hecelenişlerini ve hece sayılarını örnekteki gibi yapalım.



✎ Aşağıdaki kelimelerin zıt anlamlarını bulalım. Cümle içinde kullanalım.

güzel      çirkin      →      Çirkin ördek yavrusu suda yüzüyor.

uzun      kısa      →      Öğretmen kısa boylu olanları öne oturttu.

kalin      ince      →      Etkinliğimiz için ince bir ip gerekiyor.


büyük      küçük      →      Evin en küçük çocuğu benim.

akıllı      deli      →      O, bizim sınıfın en deli öğrencisidir.

yaşlı      genç      →      Genç adam sahilde yürüyordu.

siyah      beyaz      →      Beyaz gömlek sana çok yakışıyor.

✎ Aşağıdaki görselleri ifade eden sözcükleri örnekteki gibi yazalım.



yaşlı

genç



kirli

temiz




boş

dolmuş



sıcak

soğuk



kalk

otur



üzgün

mutlu



yeni

eski



gündüz

gece



✏ Aşağıdaki sözcüklerin eş anlamlılarını karşılarına yazalım.



Sözcük	Eş Anlamlısı
Kırmızı	Al
Siyah	Kara
Yaşlı	İhtiyar
Kelime	Sözcük
Büyük	İri
Tutsak	Esir



Sözcük	Eş Anlamlısı
Konut	Ev
Misafir	Konuk
Yürek	Kalp
Barış	Sulh
Cevap	Yanıt
Soru	Sual

✏ Aşağıdaki cümlelerdeki altı çizili sözcüğün yerine eş anlamlısını kullanarak cümleyi yeniden yazalım.

Yakaladığı balık ufak olunca denize geri attı.



Yakaladığı balık küçük olunca denize geri attı.

Sahiplendiği kediye koyacağı adı düşünüp durdu.



Sahiplendiği kediye koyacağı ismi düşünüp durdu.

Bu sene okula gidemediğim için çok üzgündüm.



Bu sene mektepe gidemediğim için çok üzgündüm.

Hayvanlarla ilgili çok güzel bir hikaye yazdım.




























Hayvanlarla ilgili çok güzel bir öykü yazdım.

Benim babam çok güçlü bir adamdır.






Benim babam çok kuvvetli bir adamdır.

 Aşağıdaki boyalı alanlara gelmesi gereken noktalama işaretlerini yazalım.

-  Okulda futbol  voleybol ve hentbol turnuvası yapılacak 
-  Hey  bastığın yerlere dikkat et 
-  Minik köpek nasıl kaybolmuş 
-  Diş fırçasını aldı  yerine koydu 
-  Ah  Ayağıma çok şiddetli bastın 
-  18  12  2022 tarihinde sözleşmem bitiyor 
-  Manavdan kaç kilogram meyve aldın 
-  Asya  Elif  Gamze ve Seda çok iyi anlaşıyorlar 

 Aşağıdaki cümleleri, sonuna gelmesi gereken noktalama işaretiyle örnekteki gibi eşleştirelim.

 Soru İşareti	<input type="checkbox"/>	Futbol oynamak için sahaya gittiler.
 Ünlem İşareti	<input type="checkbox"/>	Ablanın arkadaşını gördün mü?
 Nokta	<input type="checkbox"/>	Oh, sonunda sınavdan geçer not aldım!
	<input type="checkbox"/>	Ah, son anda yarışmayı kaybetti!
	<input type="checkbox"/>	Çay bardağının desenini çok beğendi.
	<input type="checkbox"/>	Aklından tuttuğun sayıyı söyledin mi?
	<input type="checkbox"/>	Ne zaman babanın iş yerine gideceksin?

✎ Aşağıdaki cümleleri okuyalım. Numaraları kullanarak uygun görsellerle eşleştirelim.



①

1. Hasan koşu bandında koşuyor.

2. Şaban futbol topunu sektiriyor.

④



3. Eylem, kedisine mama veriyor.

⑤



4. Ali ile Ela, köpeklerini yıkıyor.

⑥



5. Furkan kitap okuyor.

③



6. Enes, yumuşak yatağında uyuyor.

②



✎ Aşağıdaki harflerle isim yazalım. Yazdığımız isimle cümle oluşturalım.

HARF

İSİM

CÜMLE

H

Hülya

Hülya pazara gitti.

A

Akın

Akın yüzmeyi çok seviyor.

M

Miray

Miray kardeşine çikolata aldı.

S

Sibel

Sibel çok çalışkan bir öğrenciydi.

U

Ulaş

Ulaş köpekleri çok seviyor.

E

Eda

Eda kek yapmayı öğreniyor.



 Aşağıda verilen sözcüklerle anlamlı ve kurallı cümleler oluşturalım.



boş

akıtmamalıyız

yere

suyu

Boş yere suyu akıtmamalıyız.



etmeliyiz

bakımımıza

dikkat

kişisel

Kişisel bakımımıza dikkat etmeliyiz.



ve

dengeli

beslenmeliyiz

düzenli

Dengeli ve düzenli beslenmeliyiz.



çevreyi

temiz

yaşadığımız

tutmalıyız

Yaşadığımız çevreyi temiz tutmalıyız.



annem

yardım

bana

etti

Annem bana yardım etti.



önündeki

evinin

kokladı

papatyayı

Evinin önündeki papatyayı kokladı.

✏️ Aşağıda yazılı olan özel adları uygun bölümlere yazalım.



~~Adana~~    ~~Samsun~~    ~~Ankara~~    ~~Tarık~~  
~~Boncuk~~    ~~Kemal~~    ~~Ayhan~~    ~~Karabaş~~  
~~Pamuk~~    ~~Serap~~    ~~Fino~~    ~~İzmir~~

### İNSAN ADLARI

Kemal  
Ayhan  
Tarık  
Serap

### ŞEHİR ADLARI

Adana  
Samsun  
Ankara  
İzmir

### HAYVAN ADLARI

Boncuk  
Pamuk  
Fino  
Karabaş

✏️ Aşağıda özel adların yazılı olduğu roketlerin uç kısmını örnekteki gibi boyayalım.



 Aşağıdaki toplama işlemlerini yapalım.

$$\begin{array}{r} 12 \\ + 6 \\ \hline 18 \end{array}$$

$$\begin{array}{r} 11 \\ + 4 \\ \hline 15 \end{array}$$

$$\begin{array}{r} 7 \\ + 8 \\ \hline 15 \end{array}$$

$$\begin{array}{r} 19 \\ + 1 \\ \hline 20 \end{array}$$

$$\begin{array}{r} 8 \\ + 8 \\ \hline 16 \end{array}$$

$$\begin{array}{r} 3 \\ + 7 \\ \hline 10 \end{array}$$

$$\begin{array}{r} 5 \\ + 4 \\ \hline 9 \end{array}$$

$$\begin{array}{r} 11 \\ + 3 \\ \hline 14 \end{array}$$

$$\begin{array}{r} 10 \\ + 5 \\ \hline 15 \end{array}$$

$$\begin{array}{r} 7 \\ + 6 \\ \hline 13 \end{array}$$

$$\begin{array}{r} 13 \\ + 4 \\ \hline 17 \end{array}$$

$$\begin{array}{r} 10 \\ + 2 \\ \hline 12 \end{array}$$

 Aşağıdaki örneği inceleyerek çıkarma işlemlerini yapalım.

$$\begin{array}{c} 5 - 3 = 2 \quad \begin{array}{c} \triangle \\ \color{red}{3} \\ \color{blue}{5} \quad \color{yellow}{9} \end{array} \quad 9 - 3 = 6 \\ \color{red}{9 - 5 = 4} \end{array}$$


$$\begin{array}{c} \color{red}{9 - 6 = 3} \quad \begin{array}{c} \triangle \\ \color{red}{6} \\ \color{blue}{9} \quad \color{yellow}{14} \end{array} \quad \color{red}{14 - 6 = 8} \\ \color{red}{14 - 9 = 5} \end{array}$$


$$\begin{array}{c} \color{red}{8 - 5 = 3} \quad \begin{array}{c} \triangle \\ \color{red}{8} \\ \color{blue}{5} \quad \color{yellow}{15} \end{array} \quad \color{red}{15 - 8 = 7} \\ \color{red}{15 - 5 = 10} \end{array}$$


$$\begin{array}{c} \color{red}{16 - 6 = 10} \quad \begin{array}{c} \triangle \\ \color{red}{6} \\ \color{blue}{16} \quad \color{yellow}{7} \end{array} \quad \color{red}{7 - 6 = 1} \\ \color{red}{16 - 7 = 9} \end{array}$$


$$\begin{array}{c} \color{red}{17 - 7 = 10} \quad \begin{array}{c} \triangle \\ \color{red}{17} \\ \color{blue}{7} \quad \color{yellow}{3} \end{array} \quad \color{red}{17 - 3 = 14} \\ \color{red}{7 - 3 = 4} \end{array}$$


$$\begin{array}{c} \color{red}{10 - 3 = 7} \quad \begin{array}{c} \triangle \\ \color{red}{10} \\ \color{blue}{3} \quad \color{yellow}{14} \end{array} \quad \color{red}{14 - 10 = 4} \\ \color{red}{14 - 3 = 11} \end{array}$$


 Aşağıdaki toplama işlemlerinde verilmeyen sayıları bulup noktalı yerlere yazalım.


  
6 + 8 = 14

  
8 + 9 = 17


  
7 + 8 = 15

  
9 + 8 = 17


  
5 + 6 = 11

  
3 + 9 = 12


 Aşağıdaki çocukların para miktarlarına göre soruları cevaplayalım.



Mert = 14 lira



Eda = 6 lira



Can = 18 lira

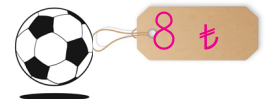
1. Mert ve Eda'nın paraları toplamı kaçtır?

14 + 6 = 20 lira

2. Can'ın parası Mert'in parasından kaç lira fazladır?

18 - 14 = 4 lira fazladır.

3. Eda'nın yanda verilen topu almak için kaç liraya ihtiyacı vardır?



6 lirası var. Top = 8 lira. 8 - 6 = 2 liraya ihtiyacı vardır.


 Aşağıdaki görsellerin ifade ettiği kesri boyayalım.



Tam  
Yarım  
Çeyrek



Tam  
Yarım  
Çeyrek



Tam  
Yarım  
Çeyrek



Tam  
Yarım  
Çeyrek



Tam  
Yarım  
Çeyrek



Tam  
Yarım  
Çeyrek

 Aşağıdaki cümleleri uygun sayılarla tamamlayalım.



6 yarım elma **3**.. bütün elma eder.



4 bütün limon **8**.. yarım limon eder.



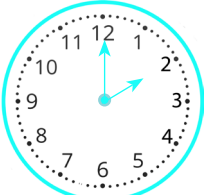
8 tane yarım **4**.. bütün eder.



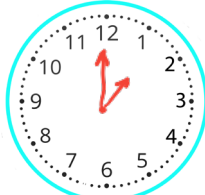
**1 bütün** 2 yarım 2 bütün **3**.. bütün eder.



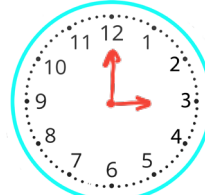
 Aşağıdaki saatlere istenilen yönergeye göre akrep ve yelkovan çizelim.



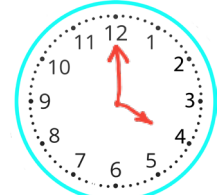
Saat 2




Saat 1





Saat 3



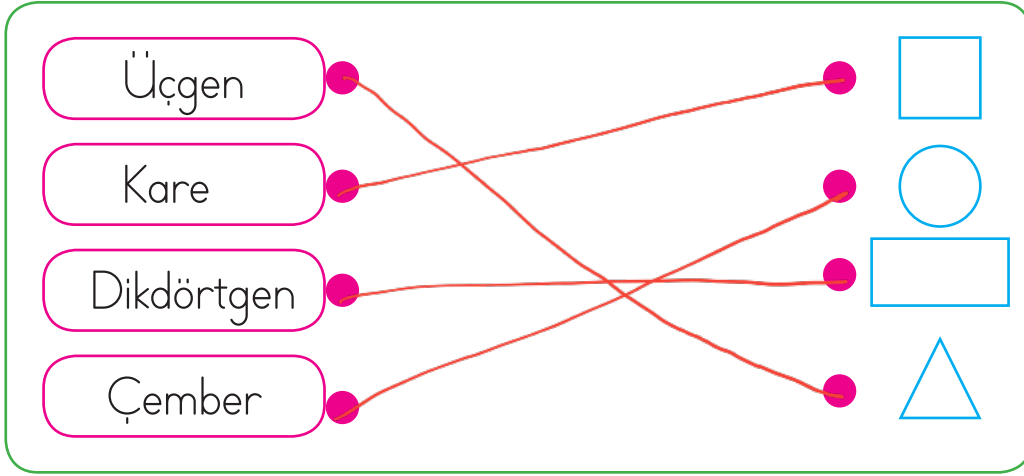
Saat 4


 Aşağıda verilen saatlerden 1 saat sonra ve 1 saat önce saatin kaç olduğunu boşluklara yazalım.

**Saat 3**.....  $\xleftarrow{1 \text{ saat önce}}$    $\xrightarrow{1 \text{ saat sonra}}$  **Saat 5**.....

**Saat 10**.....  $\xleftarrow{1 \text{ saat önce}}$    $\xrightarrow{1 \text{ saat sonra}}$  **Saat 12**.....

 Aşağıdaki geometrik şekilleri isimleriyle eşleştirelim.



 Aşağıdaki geometrik cisimlere ait özellikler verilmiştir. Bu özellikleri uygun olan geometrik cismin karşısına yazalım.

Köşeleri olmayan,
Düz yüzleri ve
Köşeleri ve düz  
düz yüzleri olan
köşeleri olmayan.
yüzleri olan.




Düz yüzleri ve  
köşeleri olmayan



Köşeleri ve düz  
yüzleri olan



Köşeleri ve düz  
yüzleri olan



Köşeleri olmayan  
düz yüzleri olan

 Aşağıdaki örüntülerin kuralını verilen boşluklara yazalım.

1)



Örüntünün kuralı: 1. yeşil kare, 1. sarı üçgen, 1. kırmızı üçgen, 1. mor çember

2)



Örüntünün kuralı: 1. elma, 2. armut, 1. portakal



 Aşağıdaki problemleri çözelim.

1. Cebimde 18 liram var. Paramın 9 lirasını harcadım. Geriye kaç liram kaldı?



Çözüm :  $18 - 9 = 9$  liram kaldı.

2. Ayşe 20 sayfalık kitabın önce 5, sonra 7 sayfasını okuyor. Ayşe'nin okuması gereken kaç sayfası kalmıştır?



Çözüm : Okunanlar  
 $5 + 7 = 12$  sayfa  
Geride kalan  
 $20 - 12 = 8$  sayfa

3. Bir düzine legonun 8 tanesiyle kule yaptım. Geriye kaç lego kaldı?



Çözüm : 1 düzine = 12 tane  
 $12 - 8 = 4$  tane lego kaldı

4. Ağaçtaki 17 kuşun 8 tanesi uçtu. Geriye kaç kuş kaldı?



Çözüm : Ağaçta olan  $\rightarrow 17$   
 Uçan  $\rightarrow 8$   
 Geriye kalan  $\rightarrow 9$

5. Sude 12 dilim kek hazırladı. 5 tanesini misafirlere ikram etti. 2 tanesini de kendi yedi. Geriye kaç dilim kek kaldı?



Çözüm : İkram edilen ve yenen kek  
 $5 + 2 = 7$   
Geride kalan  
 $12 - 7 = 5$

6. Bir otobüste 16 yolcu vardır. İlk durakta 4 yolcu indi. İkinci durakta 6 yolcu bindi. Otobüste kaç yolcu oldu?



Çözüm : Toplam inen yolcu sayısı  
 $4 + 6 = 10$   
Otobüste kalan yolcu sayısı  
 $16 - 10 = 6$



- ★ Ülkemizin kurucusu Mustafa Kemal Atatürk'tür.
- ★ Atatürk bugünkü Yunanistan sınırındaki Selanik'te doğmuştur.
- ★ Annesinin Adı Zübeyde Hanım, babasının adı Ali Rıza Bey'dir. Kız kardeşi ise Makbule Hanım'dır.
- ★ Atatürk İstanbul'daki Dolmabahçe Sarayı'nda hayata gözlerini yummuştur.
- ★ Atatürk'ün mezarı Ankara'da bulunan Anıtkabir'dedir.



✏ Aşağıdaki resimlerin altına isimlerini yazalım.



Zübeyde Hanım



Ali Rıza Bey



Anıtkabir



Dolmabahçe Sarayı



Makbule Hanım




✏ Aşağıya Atatürk'e duygularımızı anlatan bir metin yazalım.

.....

.....

.....

1. Aşağıdaki görsellerden hangisinin adı bir heceden oluşmuştur?



2. Aşağıdakilerden hangisi hecelerine yanlış ayrılmıştır?

A.  Öğ - ret - men ✓

B.  uç - urt - ma u - curt - ma

C.  bi - sik - let ✓

3. Kelebek  2  
Dergi  1  
Maymun  3

Yukarıdaki sözcüklerin sözlük numarasına göre sıralaması hangi seçenekte verilmiştir?

A.     B.    

C.    

4. Zaman çok kıymetli, değerini bilmek lazım.  
Altı çizili sözcüğün eş anlamlısı hangi seçenekte verilmiştir?

A.  Vakit

B.  Saat

C.  Dakika

5.



zıt anlamlı  
zayıf - şişman


Yukarıdaki görseller arasındaki anlam ilişkisi aşağıdaki hangi sözcüklerde vardır?

A.  doktor - hekim eş

B.  okul - mektep eş

C.  güzel - çirkin zıt

6. Aşağıdaki hayvanlardan hangisinin özel adı verilmiştir?



1. Sonucu 15 olan toplama işlemi hangisidir?

A.  $9 + 7 = 16$  B.  $9 + 9 = 18$

C.  $8 + 7 = 15$

2.

$$\begin{array}{r} 19 \\ - 8 \\ \hline \end{array} \quad \begin{array}{r} \blacksquare \\ - 5 \\ \hline \end{array}$$

Yukarıda verilen çıkarma işlemlerinde "▲" yerine hangi sayı yazılmalıdır?

A. 6 B. 5

C. 4

$14 - 5 = 9$

3.

$\dots + 5 = 14$

Yukarıdaki toplama işleminde noktalı yere hangi sayı yazılmalıdır?

A. 8 B. 7

C. 9

4. Emre'nin 5 lirası vardı. Emreye annesi 6, babası 7 lira verdi. Emre'nin kaç lirası oldu?

A. 18

B. 10

C. 13

Emre  
5

Annesi verdi → 6

Babası verdi → 7

+

18 lirası oldu

5. Merve'nin parasının yarısı 7 liradır. Parasının tamamı kaç liradır?

A. 15

Yarısı 7 ise

B. 14

Tamamı  $7 + 7 = 14$

C. 16

1 hafta = 7 gün

2 hafta =  $7 + 7 = 14$  gün

6.

2 hafta 14. gündür.

Yukarıda boş bırakılan yere hangisi gelmelidir?

A. 12

B. 18

C. 14

1. Atatürk'ün doğum yeri aşağıdakilerden hangisidir?

A. Ankara

B. İstanbul

C. Selanik

2.



Atatürk Dolmabahçe Sarayı'nda hayata gözlerini yummuştur.

Alper'in cümlesinde boş bırakılan yerlere hangisi gelmelidir?

A. Dolmabahçe Sarayı'nda

B. İzmir'de

C. Ankara'da

3. ■ Annesinin Adı Zübeyde Hanım'dır. ✓

● Babasının adı Ali Rıza Bey'dir ✓

▲ Atatürk İstanbul'da doğmuştur. X Selanik'te.

Yukarıdaki sembollerle ifade edilen Atatürk ile ilgili bilgilerden hangileri doğrudur?

A. ■ ▲

B. ● ■

C. ▲ ●

4. Anıtkabir aşağıdaki şehirlerin hangisinde yer alır?

A. Selanik

B. Ankara

C. İzmir