

SAKLAMBAÇ

Fuat, arkadaşlarını evine davet etti. Evlerinin kocaman bir bahçesi vardı. Oyun oynamak için uygun bir yerdi. Ne oynayacaklarını düşündüler. Oy birliği ile saklambaç oynamaya karar verdiler. Oyunun kazananı Simge oldu.



1, 2 ve 3. soruları metne göre cevaplayalım.

1. Kim arkadaşlarını evine davet etti?

- A. Fuat
- B. Simge
- C. Canan

2. Çocuklar nerede oyun oynadı?

- A. Parkta
- B. Evin bahçesinde
- C. Okulda

3. Oyunu kim kazandı?

- A. Fuat
- B. Simge
- C. Canan

4. SORUYA GEL

Kelimenin hece sayısı kadar papatya yaprağı boyanacaktır. Aşağıdaki papatyalardan hangisi hatalı boyanmıştır?



5. Aşağıda satır sonuna sığmayan kelimeler verilmiştir. Hangisinde yanlışlık yapılmıştır?



6.



Yukarıdaki görselleri sözlük sırasına göre dizersek hangisi sonda yer alır?



7.


Erman pazardan ne aldı?

otur

sana

elma

Yukarıdaki cümlede altı çizili sorunun cevabı olabilecek kelime boyandığında nasıl bir görüntü oluşur?




8. Aşağıdakilerden hangisi cümle değildir?

A. Babam bana pazardan

B. Kapattım


C. Kovaya su doldurdum

9.




Yukarıdaki rüzgar gülünün pervanesindeki eş anlamlı sözcükler aynı renge boyanacaktır. Rüzgar gülünün boyama yapıldıktan sonraki görüntüsü nasıl olur?


A.



B.



C.



10.



Tirenleri izlemek keyifliydi.

Hasan'ın cümlesinde hangi sözcüğün yazımında yanlışlık yapılmıştır?




A. tirenleri

B. izlemek

C. keyifliydi

11. Aaahhh  canım yandı 
Neden bunu yaptın 

Yukarıda, sembollerle belirtilen yerlere sırasıyla aşağıdaki noktalama işaretlerinden hangisi gelmelidir?

			
A.	,	!	?
B.	?	,	!
C.	!	,	?

12. ● Marketten çikolata aldık.
▲ Kardeşimle markete gittik.
■ Sonra eve döndük.
Yukarıdaki cümleler oluş sırasına göre sıralanırsa sıralama hangisi gibi olur?

A.	●	▲	■
B.	▲	●	■
C.	■	▲	●

13.

1 bardak

2 kırıldı

3 düşünce

4 yere

Yukarıda karışık verilen kelimelerle anlamlı ve kurallı cümle oluşturacak olursak sıralama nasıl olmalıdır?

- A. 1 - 2 - 3 - 4
B. 1 - 4 - 3 - 2
C. 4 - 2 - 1 - 3

14. "Sen çok iyi bir insansın."
Yukarıdaki cümlede kaç tane tek heceli sözcük vardır?
A. 2 B. 3 C. 4

15.

yüzmeyi

seviyor

karada

denizde

Yukarıdaki kelimelere anlamlı ve kurallı cümle oluşturulacaktır. Buna göre hangi sözcüğü kullanmamıza gerek yoktur?

- A. seviyor
B. havada
C. karada

1/J Sınıf Sevilen Renkler

Renkler	Öğrenci Sayısı
 SARI	5
 MAVİ	9
 YEŞİL	4
 MOR	2
 KIRMIZI	1

1. ve 2. soruyu tabloya göre cevaplayalım.


1. En sevilen renk aşağıdakilerden hangisidir?

- A. mavi
- B. kırmızı
- C. sarı




2. Tabloda tüm öğrenciler sevdiği renkleri söylediğine göre sınıf mevcudu kaçtır?

- A. 20
- B. 22
- C. 21


3.



Yukarıdaki örüntünün kuralı "1 tavşan, 2 tavuk" olduğuna göre boş bırakılan yerlere sırasıyla hangileri gelmelidir?

- A. 
- B. 
- C. 

4.



Yukarıdaki nesneyi kullanarak hangi şekli çizebiliriz?

- A. Çember
- B. Üçgen
- C. Kare

5. 1 onluk 3 birlikten oluşan sayının 4 fazlası kaç eder?

- A. 9
- B. 17
- C. 8

6.	1	MART	2
----	---	------	---


Yukarıdaki tabloda 1 ve 2 numaralı yerlere mart ayından önce ve sonra gelen aylar yazılacaktır.

1 ve 2 numaralı yerlere sırasıyla ne yazılmalıdır?

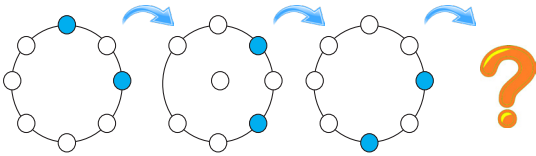
- A. Nisan - Mayıs
- B. Şubat - Nisan
- C. Haziran - Temmuz

8. Babam marketten aldığı ürün için 20 lira verdi ve 6 lira para üstü aldı. Babamın aldığı ürün kaç liradır?
A. 26 B. 14 C. 8

9. Kovana birinci gün 5, ikinci gün ise birinci günden 6 fazla arı girmiştir. İkinci gün kovana kaç arı girmiştir?
A. 11 B. 15 C. 16



7. SORUYA GEL












Yukarıdaki örüntü devam ettirilirse "?" yerine hangisi gelir?

- A.
- B.
- C.

10. Atılan gol ile yenilen gol arasındaki farka **averaj** denir. Soner'in takımı, 8 gol atıp 3 gol yediği maçta kaç averaj elde etmiştir?
A. 5 B. 11 C. 14




11. SORUYA GEL




		
		
		

Yukarıdaki tablo belli bir kurala göre oluşturulmuştur. Bu kurala göre "?" yerine hangisi gelmelidir?

- A.  B.  C. 

12. Görseldeki fıçıyı aşağıdakilerden hangisi ile daha çabuk doldururuz?

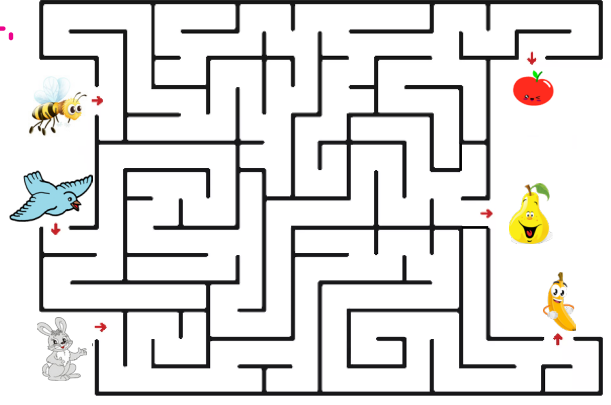


- A.  B.  C. 



















13. Mert silgisinin boyunu ölçmek istiyor. Mert'in hangi ölçme aracını kullanması uygun olur?

- A. Karış B. Parmak C. Kulaç


14.



Labirentteki hayvanları meyvelere ulaştırmaya çalışalım. Hangi hayvanın hangi meyveye ulaştığı aşağıda verilmiştir. Bu bilgilerden hangisi doğrudur?

- A.  —  B.  — 
 —   — 
 —   — 
- C.  — 
 — 
 — 

15.



1 kova 2 tencere ile dolmaktadır. Buna göre 2 kovayı doldurmak için kaç tencereye ihtiyaç vardır?

- A. 3 B. 4 C. 6

1. Hangi görselde "Kurban Bayramı kutlanıyor." diyebiliriz?

A.



B.



C.



2. Aşağıdakilerden hangisi milli bayramlarda yapılan etkinliklerden değildir?

- A. Büyükler ziyaret edilir.
- B. Sınıflar süslenir.
- C. Şiirler okunur.

3. Dini bayramlarımızda daha çok aşağıdakilerden hangisi çocuklara ikram edilir?

A.



B.



C.



4. Okul servisinde hangisini yapmamız doğru olur?

- A. Emniyet kemeri takmak
- B. Pencereden sarkmak
- C. Yüksek sesle konuşmak


5.

Seren sınıfa başka ülkeden gelen öğrencinin yanına gidip "hoş geldin" der. Mustafa ise bu duruma pek hoş bakmayıp selam bile vermez. İnci tek oturduğu için yeni gelen öğrenciyi yanına oturması için davet eder.

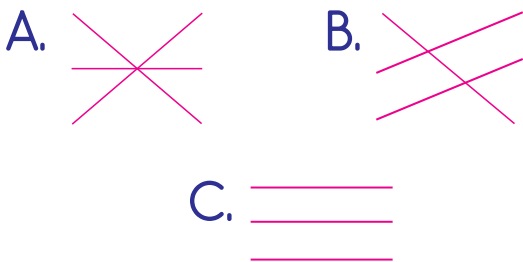
Yukarıdaki metne göre hangisinin davranışı yanlıştır?

- A. Seren
- B. Mustafa
- C. İnci

6. Aşağıdakilerden hangisi evcil bir hayvandır?



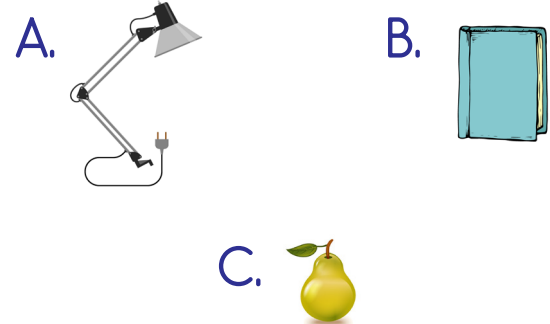
Yukarıdaki hayvanlar barındıkları yerler ile eşleştirilirse eşleşme nasıl olur?



8. Çevreyi temiz tutmayan birine karşı nasıl davranmalıyız?

- A. Kavga etmeliyiz.
B. Kibarca uyarmalıyız.
C. Kötü sözler söylemeliyiz.

9. Aşağıdakilerden hangisi geri dönüşüm kutusuna atılamaz?



10. Aşağıdakilerden hangisi metal eşyaların atıldığı bir geri dönüşüm kutusuna atılabilir?

