

Akşam olmuştu. Dedem gözlüklerini taktı ve bizi yanına çağırdı:

- Gelin bakalım çocuklar. Şimdi hikaye zamanı, dedi.

Kardeşim Selim hızla yanımdan geçti. Benden daha istekliydi. Koltuğun kenarına oturdu. Ben de dedemin yanına oturdum. Dedem çok güzel hikaye okuyordu. O hikaye okurken sanki olayları biz yaşıyorduk. Dedem başladı anlatmaya:

- Kartal yukarıya doğru yükseldi. Daha sonra ceylanın üzerine doğru inişe geçti. Tam ceylanı yakalayacakken önüne bir kurbağa çıktı...

Dedem hikayeyi anlatırken kartalın hareketlerini yapıyordu. Ayrıca sesler de çıkarıyordu. Hikaye hiç bitmesin istiyorduk ama sonuna gelmişti. Hikayeyi bitirdi ve uyku vaktinin geldiğini anladık. Yarın yeni bir hikaye ile karşımıza çıkacaktı. Bunu bilmenin rahatlığıyla mışıl mışıl uyuduk.



Sorular

1) Hikayeye uygun bir başlık yazalım.

2) Dedem gözlüklerini taktıktan sonra ne yaptı?

3) Koltuğun kenarına kim oturdu?

4) Aşağıdakilerden hangisi metnin başlığı olabilir?

A. Dedemin Hikayeleri

B. Babamın Komik Hareketleri

C. Dedem Uçuyor

5) Resimdeki erkek çocuğun adı nedir?

A. Selim

B. Selin

C. Serdar

Dedemin Çiftliği

Güzel bir yaz sabahıydı. Elif sabahın erken saatlerinde, heyecanlı bir şekilde uyanmıştı. Babası söz vermişti, dedesinin çiftliğine gideceklerdi. Elif hem dedesini görecek hem de çiftlikteki hayvanlarla zaman geçirecekti. Kısa bir süre sonra çiftliğe vardılar. Dedesiyle zaman geçiren Elif, hızlıca çok sevdiği keçilere koştu. Keçilerle oyunlar oynadı, onlara kendi eliyle ot yedirdi. Elif'in ve keçilerin mutluluğu görülmeye değerdi.



Sorular

1) Elif, sabah nasıl uyanmıştı?

2) Elif, neden heyecanlıydı?

3) Elif, çiftliğe varınca ne yapmış?

4) Elif keçilerle nasıl zaman geçirmiş?

5) Metnin başlığı kaç harften oluşmuştur?

- A. 8 B. 12 C. 15


6) Görseldeki kızın elbisesi hangi renktir?

- A. yeşil
B. kırmızı
C. sarı

7) Yukarıdaki görselde aşağıdakilerden hangisi yoktur?

- A. keçi
B. ot
C. tavşan

✏️ Aşağıdaki resmi boyamak için yönergeleri okuyalım. Okuduğumuz bu yönergelere göre resmi boyayalım. Yönergenin dışında kalan yerleri istediğimiz renge boyayalım.



YÖNERGELER

- ➔ Dinozoru kahverengiye, gözlerini yeşile boya.
- ➔ Dağları açık kahverengiye boya.
- ➔ Dinozorum önündeki taşları maviye boya.
- ➔ Dinozorum yumurtasını griye boya.
- ➔ Arkadaki ağacın gövdesi kahverengi, yaprakları yeşil olsun.
- ➔ Sol üst köşeye güneş çiz ve sarıya boya.
- ➔ Dinozorum altındaki toprak turuncu olsun.
- ➔ Dinozorum üzerindeki salyangozu kahverengiye boya.

 Aşağıda baş harfi ve harf sayısı verilen kelimeleri yazalım.

5 B.....

5 T.....

3 Y.....

3 A.....

4 N.....

3 P.....

4 Ç.....

4 M.....

4 İ.....

4 E.....


3 K.....

4 U.....

3 S.....

3 Z.....

5 D.....

 Aşağıdaki kelimelerin ünlü ve ünsüz harflerini ve harf sayılarını yazalım.

Kelime	Ünlü Harfler	Ünsüz Harfler	Harf Sayısı
Kelebek			
Çiçekler			
Salyangoz			
Salatalık			
Domates			

 Aşağıda verilen kelimelerin alfabemizin kaçıncı harfiyle başladığını örnekteki gibi yazalım.

7 fare

balık

lale

geyik


zürafa


nine


çatal

kalp


ray


 Aşağıdaki kelimelerin ünlü ve ünsüz harflerini ve harf sayılarını yazalım.


Varlık	Adı	Hecelenişi	Hece Sayısı
	Kaplumbağa	Kap-lum-ba-ğa	4
			
			
			
			


 Aşağıda verilen kelimeleri satır sonuna sığmadığında doğru ayırma yöntemini göstererek örnekteki gibi ayıralım.


benekli →  be-
neki

dörtlük → 

salıncak → 

kaplan → 


gazete → 

asalet → 

✎ Arının altındaki sözcük grupları zıt anlamlıysa "1" numarayı, zıt anlamlı değilse "2" numarayı boyayalım.




kapalı - açık




büyük - iri




yaşlı - ihtiyar



doğru - yanlış




yüksek - alçak




uzak - ırak



rüya - düş



gece - gündüz



beyaz - ak


✎ Aşağıdaki görsellerin altına örnekteki gibi o görseli çağrıştıran uygun sözcükler yazalım.




uçmak



✎ Aşağıdaki görsellere uygun cümleler yazalım.



.....



.....



.....



.....

✎ Aşağıda karışık olarak verilen sözcüklerden anlamlı ve kurallı cümleler oluşturalım.

aynasını arabanın kapıya

çarptı babam



.....

okurum yatmadan kitap

ben önce



.....

✎ Aşağıda ifadelerden cümle olanların kutucuklarını işaretleyelim.

Dedem bana masal anlattı

Okuyorum

Masanın altında benim

Köye gittik

Çocuklar parka

En sevdiği kazağını giymiş


 Olayları okuş sırasına göre numaralandıralım.

- Daha sonra musluğu kapattı.
- Önce musluğu açtı.
- Sonra elini yıkadı.

- Daha sonra okumaya başladı.
- Sonra sayfasını açtı.
- Önce kitabını aldı.

- Önce eczaneye gitti.
- Sonra ilacını aldı.
- Daha sonra evine döndü.

- Sonra bağcıklarını bağladı.
- Daha sonra dışarı çıktı.
- Önce ayakkabısını giydi.

 Aşağıdaki olayları "önce - sonra - daha sonra" kavramlarını kullanarak doğru şekilde yazalım.



Kedileri çağırdı.
Kedilere yemek verdi.
Kediler yanına geldi.

Önce kedileri çağırdı.
Sonra kediler yanına geldi.
Daha sonra kedilere yemek verdi.




Sınıfa girdik.
Sıralarımıza oturduk.
İçeri giriş zili çaldı.

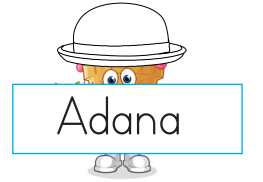


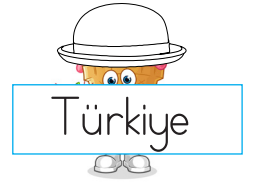


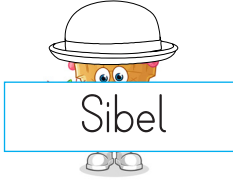
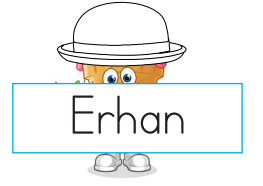


Önce
Sonra
Daha sonra



Babam kapıyı açtı.
Poşetleri masaya bıraktı.
Elindeki poşetlerle içeri girdi.

Önce
Sonra
Daha sonra

 Aşağıda yazılan isimlerden özel ad olanların başındaki şapkayı yeşile boyayalım.



 Aşağıdaki özel isimlere gelen ekleri doğru şekilde ayıralım.

Ankaranın → Ankara'nın

Sevgiye →

Murata →


Pamukun →

İstanbulda →

İsmaili →

Burakta →

Cerenden →

 Aşağıda yazılan sözcüklerde yazım yanlışları yapılmıştır. Sözcüklerin doğru yazılışlarını yazalım.

tiren

sarmısak

kiprit

şöför



yalnış

pilaj

makina

gaste



yanlız

porkatal

sovan

laylon



eşki

televziyon

pilan

karete



 Aşağıdaki cümlelerdeki yazım yanlışlarını örnekteki gibi düzelterip cümleyi tekrar yazalım.

babam ankaraya gitti.



Babam Ankara'ya gitti.

asya yemeğe sovan koydu.



.....

alının odası çok dağınıktı.



.....

sedanın kipriği kısaydı.



.....

sabunun fiyatını sordum.



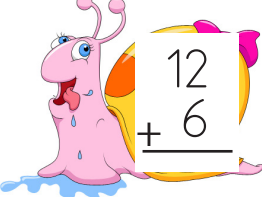
.....

adanada havalar çok sıcak.




.....

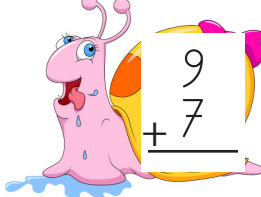
 Aşağıdaki toplama işlemlerini yapalım. Sonuçlarını verilen sayılardan bulup eşleştirelim.




$$\begin{array}{r} 12 \\ + 6 \\ \hline \end{array}$$



$$\begin{array}{r} 8 \\ + 7 \\ \hline \end{array}$$

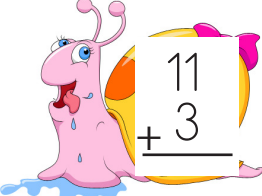


$$\begin{array}{r} 9 \\ + 7 \\ \hline \end{array}$$

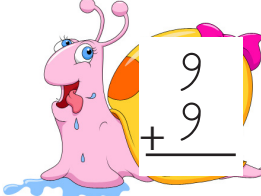


$$\begin{array}{r} 11 \\ + 9 \\ \hline \end{array}$$






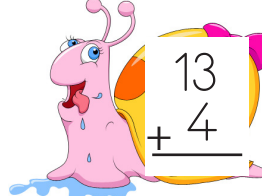
$$\begin{array}{r} 11 \\ + 3 \\ \hline \end{array}$$



$$\begin{array}{r} 9 \\ + 9 \\ \hline \end{array}$$



$$\begin{array}{r} 11 \\ + 4 \\ \hline \end{array}$$



$$\begin{array}{r} 13 \\ + 4 \\ \hline \end{array}$$

 Aşağıdaki örneği inceleyerek çıkarma işlemlerini yapalım.


 $10 - 6 = 4$



 $12 - 3 = \dots\dots$



 $9 - 5 = \dots\dots$



 $8 - 4 = \dots\dots$



 $15 - 9 = \dots\dots$



 $13 - 7 = \dots\dots$



 $19 - 5 = \dots\dots$



 $18 - 8 = \dots\dots$



 $5 - 5 = \dots\dots$



 $14 - 7 = \dots\dots$




 $16 - 4 = \dots\dots$




 $17 - 7 = \dots\dots$



 Aşağıdaki toplama işlemlerine göre verilmeyen toplananları bulalım.




$$\begin{array}{r} 5 \\ + \quad \circ \\ \hline 7 \end{array} \quad \begin{array}{r} \quad \\ + \quad 1 \\ \hline \dots\dots \end{array}$$




$$\begin{array}{r} 3 \\ + \quad \circ \\ \hline 8 \end{array} \quad \begin{array}{r} \quad \\ + \quad 6 \\ \hline \dots\dots \end{array}$$




$$\begin{array}{r} 6 \\ + \quad \circ \\ \hline 11 \end{array} \quad \begin{array}{r} \quad \\ + \quad 4 \\ \hline \dots\dots \end{array}$$




$$\begin{array}{r} 8 \\ + \quad \circ \\ \hline 8 \end{array} \quad \begin{array}{r} \quad \\ + \quad 12 \\ \hline \dots\dots \end{array}$$




$$\begin{array}{r} 7 \\ + \quad \circ \\ \hline 13 \end{array} \quad \begin{array}{r} \quad \\ + \quad 4 \\ \hline \dots\dots \end{array}$$




$$\begin{array}{r} 9 \\ + \quad \circ \\ \hline 15 \end{array} \quad \begin{array}{r} \quad \\ + \quad 12 \\ \hline \dots\dots \end{array}$$



$$\begin{array}{r} 9 \\ + \quad \circ \\ \hline 11 \end{array} \quad \begin{array}{r} \quad \\ + \quad 5 \\ \hline \dots\dots \end{array}$$



$$\begin{array}{r} 12 \\ + \quad \circ \\ \hline 17 \end{array} \quad \begin{array}{r} \quad \\ + \quad 7 \\ \hline \dots\dots \end{array}$$



$$\begin{array}{r} 4 \\ + \quad \circ \\ \hline 14 \end{array} \quad \begin{array}{r} \quad \\ + \quad 12 \\ \hline \dots\dots \end{array}$$

 Aşağıdaki toplama işlemlerini örnekteki gibi yapalım.

$$\begin{array}{r} 5 + 7 = 12 \\ \quad \swarrow \searrow \\ \quad 5 \quad 2 \\ 10 + 2 = 12 \end{array}$$

$$\begin{array}{r} 9 + 4 = 13 \\ \quad \swarrow \searrow \\ \quad \circ \quad \circ \\ 10 + \dots\dots = \dots\dots \end{array}$$

$$\begin{array}{r} 8 + 7 = 15 \\ \quad \swarrow \searrow \\ \quad \circ \quad \circ \quad \dots\dots \\ 10 + \dots\dots = \end{array}$$

$$\begin{array}{r} 8 + 5 = 13 \\ \quad \swarrow \searrow \\ \quad \circ \quad \circ \\ 10 + \dots\dots = \dots\dots \end{array}$$

$$\begin{array}{r} 7 + 7 = 14 \\ \quad \swarrow \searrow \\ \quad \circ \quad \circ \\ 10 + \dots\dots = \dots\dots \end{array}$$

$$\begin{array}{r} 9 + 6 = 15 \\ \quad \swarrow \searrow \\ \quad \circ \quad \circ \quad \dots\dots \\ 10 + \dots\dots = \end{array}$$

 Aşağıdaki problemleri çözelim.

1. Sude'nin kitabı 18 sayfadır.
Kitabın 7 sayfasını okudu.
Geriye okumadığı kaç sayfası kalmıştır?



Çözüm :

2. Akvaryuma 5 balık daha aldığımızda 11 balığımız oldu.
İlk başta kaç balığımız vardı?



Çözüm :

3. Aysun 7 yaşındadır. Kaç yıl sonra 15 yaşında olur?



Çözüm :

4. Bir ağaçtan 3 kuş uçunca ağaçta 9 kuş kalıyor. İlk başta ağaçta kaç kuş vardı?



Çözüm :

5. 1 onluk 7 birlikten oluşan sayının 6 eksiği kaçtır?




Çözüm :

6. Sınıfımızda 16 öğrenci vardır.
9 öğrenci kız olduğuna göre erkek öğrenci sayısı kaçtır?




Çözüm :

Aşağıdaki paraların toplamalarını bulup altlarına yazalım.



Aşağıdaki bütünleri iki eş parçaya ayıralım. Noktalı yerleri örnekteki gibi dolduralım.



Bir bütün elma 2 yarım elma eder.



.....



.....



.....

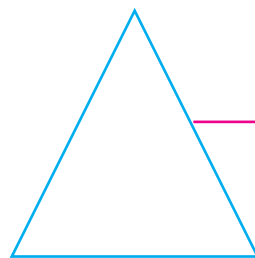


Aşağıdaki geometrik şekillerin köşe ve kenar sayılarını yazalım.




.....kenarı var.


..... köşesi var.




.....kenarı var.

..... köşesi var.

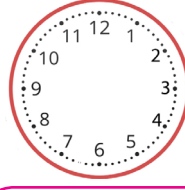
 Aşağıda verilen dijital saatlerin analog görünümüne uygun akrep ve yelkovanlar çizelim.




10 : 00




03 : 00




11 : 00



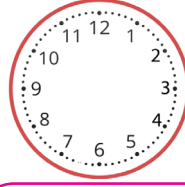
12 : 00




05 : 00



08 : 00







04 : 00







02 : 00

 Aşağıdaki görsellerden yuvarlanabilenleri işaretleyelim.



 Aşağıdaki görsellerden köşesi olanları işaretleyelim.



 Aşağıdaki örüntüleri uygun görseller çizerek tamamlayalım.



.....



.....

 Aşağıdaki tabloyu inceleyelim. Soruları cevaplayalım.

Akvaryumdaki balıklar	
Balıklar	Balık sayısı
Mavi balık	11
Sarı balık	9
Mor balık	14
Yeşil balık	5

1. Akvaryumda kaç mor balık var?

.....

2. Akvaryumda kaç yeşil balık var?

.....

3. Akvaryumdaki sarı ve yeşil balıkların toplam sayısı kaçtır?

.....

4. Akvaryumdaki mor balık sayısı sarı balık sayısından kaç fazladır?

.....

5. Akvaryumda en az ve en çok olan balıkların toplam sayısı kaçtır?

.....



Çevremizde insanlar dışındaki canlılara da rastlarız. Bunlar bitkiler ve hayvanlardır. Hayvanların yaşadıkları yer ve beslenme şekilleri farklı olabilir. Bazı hayvanlar evcil, bazı hayvanlar vahşidir. Sebze ve meyve ise bitkisel ürünlerdir ve toprakta yetişir.



 Aşağıdaki sorulara cevap olabilecek görsellerin altındaki kutucuğu işaretleyelim.



Hangisini yakın çevremizde görebiliriz.



Hangisi et ile beslenir?



 Aşağıdaki cümleleri okuyalım, doğru ifadelerin başındaki kutucuğu işaretleyelim.



evremizdeki bitkilere zarar vermemeliyiz.



Bütün hayvanlar et ile beslenir.



Hayvanların yaşadıkları yerler değişiklik gösterebilir. Bazı

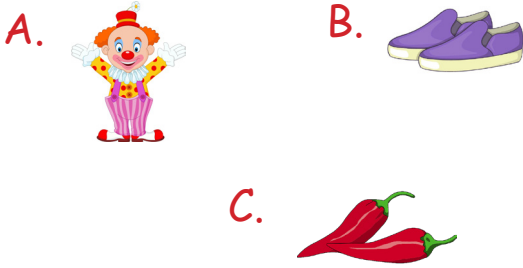


hayvanlar insanların yaşadıkları yere daha yakındır.

1. Alfabemizde "M" harfinden önce ve sonra gelen harfler hangileridir?

- A. O - R
B. L - K
C. L - N




2. Aşağıda görseldeki cisimlerin hangisinin isminin harf sayısı daha fazladır?



3. Kaplumbağa sözcüğü hangi seçenekte hecelerine doğru bir şekilde ayrılmıştır?

- A. Kap - lum -bağ -a
B. Kap - lum -ba -ğa
C. Kap - lum -bağa

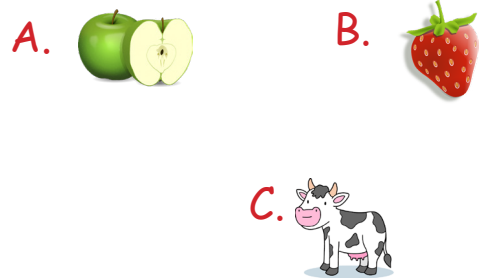
4. Aşağıdaki sözcüklerden hangisi satır sonuna sığmadığında yanlış yazılmıştır?

- A. 
- B. 
- C. 

5. Aşağıdaki cümlelerin hangisinin sonuna soru işareti konulmalıdır?

- A. Kumandayı uzatır mısın
B. Okula servisle gittim
C. Akşam yemeğini çok beğendim

6. Aşağıdaki görsellerin isimleri alfabetik sıraya konulursa, hangisi son sırada yer alır?




1. Aşağıdaki işlemlerden hangisinin sonucu farklıdır?

A.
$$\begin{array}{r} 12 \\ + 6 \\ \hline \end{array}$$

B.
$$\begin{array}{r} 9 \\ + 9 \\ \hline \end{array}$$

C.
$$\begin{array}{r} 8 \\ + 7 \\ \hline \end{array}$$

2.



3 lira ile yukarıdaki açaçaktan kaç tane alabiliriz?

A. 8 B. 7 C. 6

3.

$\bullet + 7 = 13$

Yukarıdaki toplama işleminde \bullet Yerine hangi sayı gelmelidir?

A. 6 B. 5
C. 4

Torbadaki Boncuklar	
Boncuk	Boncuk sayısı
Kırmızı	5
Sarı	7
Yeşil	11

4 ve 5. soruları verilen tabloya göre cevaplayalım.

4. Torbadaki kırmızı boncuklarla sarı boncukların toplamı kaçtır?

A. 12 B. 18 C. 16

5. Torbadaki kırmızı boncuklarla yeşil boncukların farkı kaçtır?

A. 4 B. 5 C. 6

6. Bahçede 1 civciv, 1 tavuk, 1 inek vardır. Bahçedeki hayvanların ayak sayıları toplamı kaçtır?

A. 10
B. 8
C. 12

1. Aşağıdaki eşleştirmelerden hangisi yanlıştır?

- A. İnek - ahır
- B. Keçi - ağıl
- C. Kuş - kulübe

2. Aşağıdaki bayramlardan hangisinde aile büyüklerimizin elini öperiz?

- A. Ramazan Bayramı
- B. Çocuk Bayramı
- C. Zafer Bayramı

3. Aşağıdakilerden hangisi evcil bir hayvan değildir?

- A. 
- B. 
- C. 

4.  Gül

 Meşe

 Lale

Yukarıdaki sembollerle ifade edilenlerden hangileri çiçek isimleridir?

A.  

B.  

C.  

5. İnsanların ve hayvanların birbirine bağlıdır. Yukarıdaki ifadede boş bırakılan yere hangisi yazılmalıdır?

- A. yaşamları
- B. bitkilere
- C. oyunları

TÜRKÇE

1- C

2- B

3- B

4- B

5- A

6- C

MATEMATİK

1- C

2- C

3- A

4- A

5- C

6- B

HAYAT BİLGİSİ

1- C

2- A

3- C

4- A

5- A